

**ВОПРОСЫ ВТОРОГО (МУНИЦИПАЛЬНОГО) ЭТАПА ВСЕРОССИЙСКОЙ
ОЛИМПИАДЫ ШКОЛЬНИКОВ ПО ГЕОГРАФИИ**

**ТЕСТОВЫЙ ТУР
8 КЛАСС**

1. Какая крайняя точка России имеет наибольшую абсолютную высоту:

- А. Северная
 Б. Южная
 В. Западная
 Г. Восточная

2. Баобабы и бутылочное дерево являются представителями флоры:

- А. Тропических пустынь
 Б. Саванн и редколесий
 В. Влажных экваториальных лесов
 Г. Жестколистных вечнозелёных лесов и кустарников

3. Существование пролива между Азией и Америкой доказал:

- А. С. Дежнев
 Б. С. Челюскин
 В. А. Чириков
 Г. В. Беринг

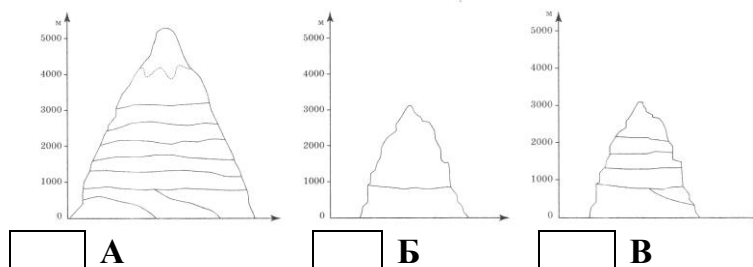
4. Какое утверждение о географических различиях в продолжительности дня и ночи на Земле верно?

- А. Продолжительность дня на тропиках всегда больше продолжительности ночи
 Б. Самый длинный полярный день наблюдается на Южном полярном круге
 В. Самая длинная полярная ночь наблюдается на Северном полярном круге
 Г. Продолжительность дня на экваторе всегда равна продолжительности ночи

5. Озёра – это источник не только пресной воды. Укажите озеро в России, на котором ведётся добыча соли:

- А. Байкал
 Б. Баскунчак
 В. Белое
 Г. Балхаш

6. Укажите горную вершину, которая расположена южнее:



7. Выберите правильное утверждение о циркуляции воздушных масс по сезонам в субтропическом климатическом поясе:

- А. Зимой и летом господствуют субтропические воздушные массы
 Б. Зимой – тропические воздушные массы, летом – умеренные
 В. Зимой – умеренные воздушные массы, летом – тропические
 Г. Зимой – тропические воздушные массы, летом – экваториальные

**ВОПРОСЫ ВТОРОГО (МУНИЦИПАЛЬНОГО) ЭТАПА ВСЕРОССИЙСКОЙ
ОЛИМПИАДЫ ШКОЛЬНИКОВ ПО ГЕОГРАФИИ**

8. Если именованный масштаб карты в 1 см 300 километров, то численный масштаб:

- А. 1 : 30 000
- Б. 1: 300 000
- В. 1 : 3 000 000
- Г. 1 : 30 000 000

9. Примерно в одно время с Андами образовались ...:

- А. Скандинавские горы
- Б. Горы Антарктического полуострова
- В. Большой Водораздельный хребет
- Г. Капские горы

10. В какой из перечисленных стран Евразии в летнее время дожди выпадают крайне редко?

- А. Индия
- Б. Япония
- В. Испания
- Г. Норвегия

11. В конце палеозоя была ... эпоха складчатости:

- А. Байкальская
- Б. Каледонская
- В. Альпийская
- Г. Герцинская

12. Какая из перечисленных горных систем относится к наиболее молодым?

- А. Сихоте-Алинь
- Б. Кавказ
- В. Урал
- Г. Алтай

13. В каком из перечисленных регионов России амплитуда среднегодовых температур наибольшая?

- А. Архангельская область
- Б. Республика Саха (Якутия)
- В. Республика Карелия
- Г. Республика Башкортостан

14. Для тайги характерны ... почвы:

- А. Бурые лесные
- Б. Каштановые
- В. Подзолистые
- Г. Черноземные

15. Фундамент Сибирской платформы выходит на поверхность в виде щитов?

- А. Балтийский и Анабарский
- Б. Анабарский и Алданский
- В. Алданский и Украинский
- Г. Украинский и Балтийский

**ВОПРОСЫ ВТОРОГО (МУНИЦИПАЛЬНОГО) ЭТАПА ВСЕРОССИЙСКОЙ
ОЛИМПИАДЫ ШКОЛЬНИКОВ ПО ГЕОГРАФИИ**

16. Установите соответствие между территориями и горами, в пределах которых они находятся:

<i>Территория</i>	<i>Горы</i>
А. Кольский полуостров	1. Бырранга
Б. Правобережье реки Лены	2. Кавказ
В. Между Чёрным и Каспийским морями	3. Сихотэ-Алинь
Г. Приморье	4. Хибины
	5. Верхоянский хребет

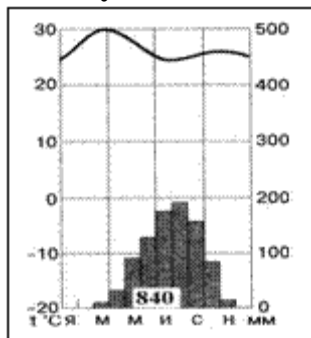
В таблицу рядом с буквой поставьте нужную цифру:

А	Б	В	Г
---	---	---	---

17. Укажите верное определение антициклона:

- | | |
|--------------------------|---|
| <input type="checkbox"/> | А. Воздушные массы, приносящие обильные осадки |
| <input type="checkbox"/> | Б. Вихри с низким атмосферным давлением в центре |
| <input type="checkbox"/> | В. Вихри с высоким атмосферным давлением в центре |
| <input type="checkbox"/> | Г. Горизонтальное перемещение воздуха |

18. Какому климатическому поясу соответствует диаграмма:



- | | |
|--------------------------|-----------------------|
| <input type="checkbox"/> | А. Субэкваториальному |
| <input type="checkbox"/> | Б. Экваториальному |
| <input type="checkbox"/> | В. Субтропическому |
| <input type="checkbox"/> | Г. Тропическому |

19. Расставьте следующие города Калужской области – А) Таруса; Б) Спас-Деменск; В) Обнинск; Г) Жиздра – в последовательности с запада на восток. Запишите в таблицу соответствующую последовательность букв:

--	--	--	--

20. Выберите строку, в которой указаны реки Калужской области, относящиеся к одному водосборному бассейну:

- | | |
|--------------------------|---------------------|
| <input type="checkbox"/> | А. Угра и Болва |
| <input type="checkbox"/> | Б. Снопоть и Протва |
| <input type="checkbox"/> | В. Упа и Жиздра |
| <input type="checkbox"/> | Г. Болва и Снопоть |

ТЕОРЕТИЧЕСКИЙ ТУР

**ВОПРОСЫ ВТОРОГО (МУНИЦИПАЛЬНОГО) ЭТАПА ВСЕРОССИЙСКОЙ
ОЛИМПИАДЫ ШКОЛЬНИКОВ ПО ГЕОГРАФИИ**

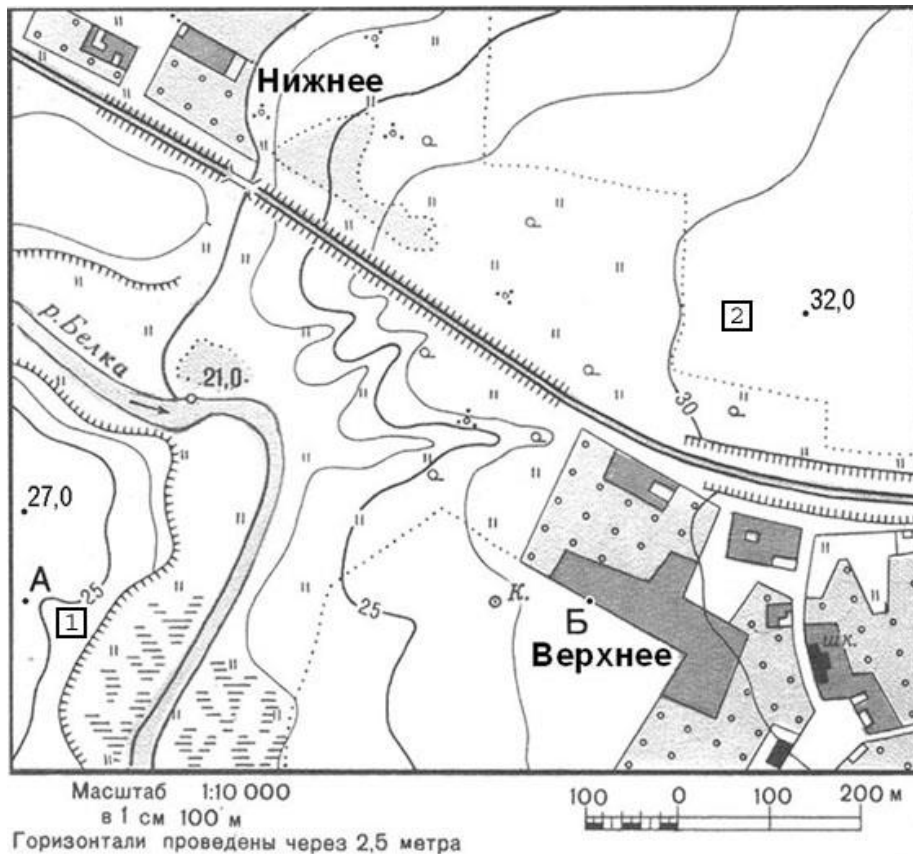
1. Один из тихоокеанских заливов у берегов России назван в честь известного русского исследователя, мореплавателя, промышленника и купца, организовавшего в 1799 г. русско-американскую торговую кампанию.
 1. Кто этот человек?
 2. Какие еще географические объекты названы в его честь и где они находятся?
 3. Каковы заслуги этого человека в расширении границ российского государства?

2. Определите природную зону России по описанию, назовите соседние природные зоны:
«Растительный покров развит слабо, имеет мозаичное распространение. Для зоны типичны лишайники, мхи. Здесь короткое и холодное лето, продолжительная и суровая зима, малое количество осадков (в среднем 200-500 мм в год), причем большая доля их приходится на июль и август. Многолетнемерзлые грунты охлаждают почву, задерживают влагу, способствуют заболачиванию местности (около 70% ее территории заболочено)».

3. Внимательно прочитайте текст и ответьте на вопросы.
«Эти моря соединяются между собой проливом. Глубина первого достигает 2211 м, глубина второго в 245,5 раза меньше. Второе является самым маленьким морем из тех, что омывают берега нашей страны, площадь его в 11 раз меньше первого. У первого моря на глубинах свыше 200 м отсутствует жизнь, у второго даже на дне обитают живые организмы»
 1. Как называется первое море?
 2. Как называется второе море?
 3. Каким образом можно попасть из одного моря в другое?

4. Рассмотрите карту и ответьте на следующие вопросы

**ВОПРОСЫ ВТОРОГО (МУНИЦИПАЛЬНОГО) ЭТАПА ВСЕРОССИЙСКОЙ
ОЛИМПИАДЫ ШКОЛЬНИКОВ ПО ГЕОГРАФИИ**



1. В каком направлении нужно идти из точки А в точку Б?
 2. Определите расстояние на местности между точками А и Б?
 3. Последовательно перечислите все объекты, которые Вам встретятся на пути из точки Б в точку А.
 4. Определите азимут от точки А на точку с наибольшей абсолютной высотой данной местности.
 5. Абсолютная высота какой из точек – А или Б – больше?
 6. Определите амплитуду высот на приведённом фрагменте плана местности.
 7. Какой берег реки Белка более крутой, обрывистый?
-
5. О каких городах Калужской области идёт речь в следующих выражениях? Поясните Ваш ответ.
 1. Предел наступления и начало бегства Наполеона
 2. Русский Барбизон
 3. Мал городок, да Москвы старше на годок
 4. Город мирного атома
 5. Колыбель космонавтики