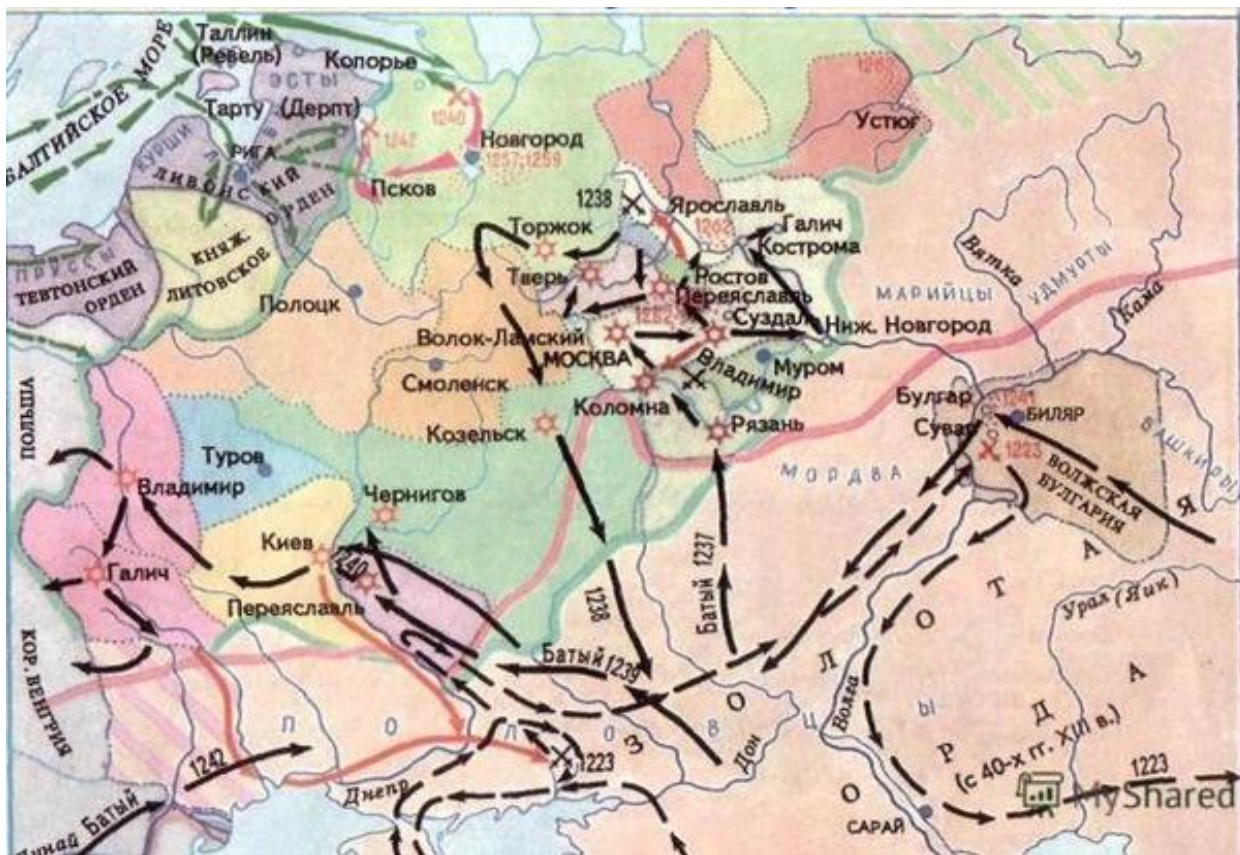


## Бланк заданий муниципального этапа Всероссийской олимпиады школьников по истории, 10-11 класс

**Всего - 100 баллов.**

**Задание № 1.** Перед Вами - схема походов Бату-хана на русские земли. Опираясь на нее и знания отечественной истории, отделите верные утверждения от неверных. Свой ответ запишите в таблицу (1 балл за правильный ответ, максимально 4 балла).



**Ответ:**

Утверждения	Верно	Неверно
В 1223 г. во главе монгольских войск на Русь приходил Чингисхан.		
На схеме указана столица Золотой Орды.		
На схеме указан город в современной Калужской области, о котором сложена поговорка: «Мал городок, да старше Москвы на годок».		
Последним из русских городов в ходе похода Бату на Северо-восточную Русь был razoren Козельск		
Москва в год нашествия Бату-хана на Русь была центром самостоятельного княжества		
Бату-хан, известный на Руси как Батый, был сыном Чингизхана.		
В числе городов, взятых монголами, был Смоленск		
На схеме изображена дата первого столкновения монголов с объединенным войском русских и половцев		

**Задание № 2. Вспомните и напишите термины к приведенными ниже определениям явлений истории России XVI в. (по 1 баллу за каждый термин, максимально 3 балла)**

**Ответ:**

	<b>Определение</b>	<b>Термин</b>
1.	Территория Русского государства, не вошедшая в опричнину Ивана IV Грозного.	
2.	Неофициальное правительство Ивана IV в конце 1540-х - 1550-х годах, Термин введён князем А. М. Курбским.	
3.	Крупный военный конфликт (или серия конфликтов) XVI века, в котором участвовали Ливонская конфедерация, Русское царство, Великое княжество Литовское (с 1569 года — Речь Посполитая), Шведское и Датское королевства, в результате которого закончил своё существование Ливонский орден, образовалась Речь Посполитая, а Русское царство пришло к экономическому упадку.	


**Задание № 3. Перед Вами - изображения кремлей в русских городах. Назовите их и соотнесите с именами государей, в годы правления которых было завершено их строительство. Обратите внимание, что среди государей есть те, кто не были их строителями (по 1 балу за правильный ответ, максимально 5 баллов).**

<p>А.</p> 	 <p>1.</p>
<p>Б.</p> 	 <p>2.</p>

В.



3.



Г.



4.



Д.



5.

Ответ:





Название кремля	Правитель

**Задание № 4.** При дворе Московских государей конца XV—XVII вв. существовали так называемые Московские чины - стряпчие, жильцы, стольники и большие дворяне - должностные лица, не имевшие право участвовать в заседаниях Боярской думы и в работе думских комиссий, однако необходимые для управления государством. Предположите, чем конкретно они занимались и какова была их иерархия (*по 1 баллу за правильно заполненную строку. Если заполнена только одна ее часть - 0,5 балла. 1 балл дополнительно - за правильно заполненную иерархию московских чинов. Максимально 5 баллов*).

Ответ:

Наименование Московских чинов	Обязанности

**Задание № 5.** Перед Вами - личности, термины, изображения вещей, явлений, впервые появившихся в России в XVI-XVII вв. Назовите их и отделите друг от друга, записав в соответствующий столбец таблицы их номера (по 1 баллу за верную атрибуция, максимально 8 баллов).


<p>1. «Апостол»</p>  <p>2.</p>	<p>5. «Вести-Куранты»</p> <p>6. Патриарх Иов.</p>
 <p>3.</p>	<p>7. Постник Яковлев и Барма</p>
 <p>4.</p>	 <p>8.</p>

**Ответ:**

XVI в.	XVII в.

**Задание № 6.**


**Задание № 5.** Перед Вами - изображение мужского и женского костюмов русского дворянства XVIII в. Правильно определите названия предметов одежды, указав их стрелками. Используйте в качестве подсказок термины, приведенные под изображением. Обратите внимание, что среди терминов есть лишние (по 1 баллу за каждый верно указанный предмет, максимально 12 баллов).



**Подсказки:** камзол, туфли, турнюр, треуголка, фишмы, лосины, корсет, кафтан, ботфорты, чулки, кюлоты, парик, глухое платье, распашное платье, веер, фишю.

**Задание № 7.** Установите соответствие между известными русскими полководцами и их фамильными гербами (по 1 баллу за правильно заполненную строку, максимально - 5 баллов).

полководцы	фамильные гербы
А) А.В.Суворов	<p>1)</p>

Б) М.И.Кутузов	 <p>2)</p>
В) П.И.Багратион	 <p>3)</p>
Г) Г.А.Потемкин-Таврический	 <p>4)</p>
Д) П.А.Румянцев-Задунайский	 <p>5)</p>

**Задание № 8. Вспомните и напишите термины к приведенными ниже определениям явлений истории России XVIII-XIX вв. (по 1 баллу за каждый термин, максимально 10 баллов)**

**Ответ:**

	Определение	Термин
1.	Высший государственный орган законодательной, исполнительной и судебной власти Российской империи, подчинённый императору и назначаемый им. Учрежден Петром Великим.	
2.	Высший орган церковно-государственного управления Русской церковью 1721—1917 гг.	
3.	В Русской православной церкви учреждение при	

	епископе по управлению епархией.	
4.	Выборные органы местного самоуправления в Российской империи и Российской республике в 1864—1919 годах на уровне губернии, уезда и (с 1917 года) волости.	
5.	Органы местного самоуправления на уровне города и городской суд в 1724-1727 и в 1743-1778 гг. и только городской суд в 1775-1800 и 1802-1864 гг.	
6.	Гражданский чин 5-го класса в российской Табели о рангах по 1917 год.	
7.	Особое сословие крестьянства в России XVIII—XIX века, численность которого в отдельные периоды истории доходила до половины земледельческого населения государства. Считались лично свободными, хотя (до отмены крепостного права) и прикрепленными к земле.	
8.	В Российской империи до 1917 года — сословие, низший разряд городских обывателей, относившийся к податным сословиям, Его представители несли рекрутскую и податную повинность, могли подвергаться телесным наказаниям.	
9.	Сословие, социальный слой в Российской империи, возникший при расширении юго-восточных границ Русского государства и состоявший из военизированных землевладельцев, живших на окраинах государства и несших охрану пограничья. Со времен Петра I происходит их постепенное упразднение и превращение в малоимущих крестьян.	
10.	Орган политического сыска и суда в России в XVIII веке. В первые годы существовала параллельно с Преображенским приказом, выполнявшим сходные функции. Упразднена в 1726 году, восстановлена в 1731 году; последняя ликвидирована в 1762 году Петром III, однако вместо неё в том же году Екатериной II учрежден орган, выполнявший ту же роль. Окончательно упразднена Александром I.	

**Задание № 9. Заполните хронологическую таблицу, используя подсказки (по 1 баллу за правильно заполненную строку, максимально 5 баллов)**

даты	События советской истории	События всеобщей истории
	начало сплошной коллективизации	
1930		«соляной поход» Махатмы Ганди
1936		
	конфликт у озера Хасан и реки Туманная	
		Великобритания, Франция, Индия, Австралия и Новая Зеландия объявили войну Германии

**Подсказки:** начало «Великой депрессии» в США, судебный процесс «Промпартии», начало гражданской войны в Испании, принятие сталинской конституции, «Мюнхенский сговор», РККА заняла Гродно и Ковель.



**Задание 10. Вспомните и напишите названия первых политических партий России, опираясь на приведенные ниже их определения (по 1 баллу за каждый термин, максимально 6 баллов)**

**Ответ:**

	<b>Определение</b>	<b>Название партии</b>
1	Умеренно правая политическая партия крупных землевладельцев, предпринимательских кругов и чиновников России, существовавшая в 1905—1917 годах. Партия представляла правое крыло российского либерализма, придерживавшееся умеренно-конституционных и антиреволюционных взглядов. Название партии восходит к Манифесту, изданному Николаем II.	
2	Крупная центристская политическая партия в России в начале XX века, лидером которой был известный историк, ученик В.О.Ключевского П.Н.Миллюков.	
3	Революционная политическая партия Российской империи, позже Российской республики, РСФСР. Входила во Второй интернационал, была создана на базе ранее существовавших народнических организаций и занимала одно из ведущих мест в системе российских политических партий. Была самой влиятельной немарксистской социалистической партией. Последователь идеологии народничества.	
4	Умеренное крыло российской социал-демократии, лидерами которого были: Ю. О. Мартов, А. С. Мартынов, П. Б. Аксельрод, Г. В. Плеханов, Ф. И. Дан, И. Г. Церетели.	
5	Собирательное название представителей крайне правых организаций в России в 1905—1917 годах, выступавших под лозунгами монархизма, великодержавного шовинизма и антисемитизма <sup>1</sup>	
6	Радикальное крыло (фракция) российской социал-демократии, исповедовавшее радикальный марксизм и стремившееся к формированию жёстко централизованной, сплочённой и дисциплинированной партии социальной революции, ориентированной на свержение существующего капиталистического государственного строя, захват власти и установление «диктатуры пролетариата»	

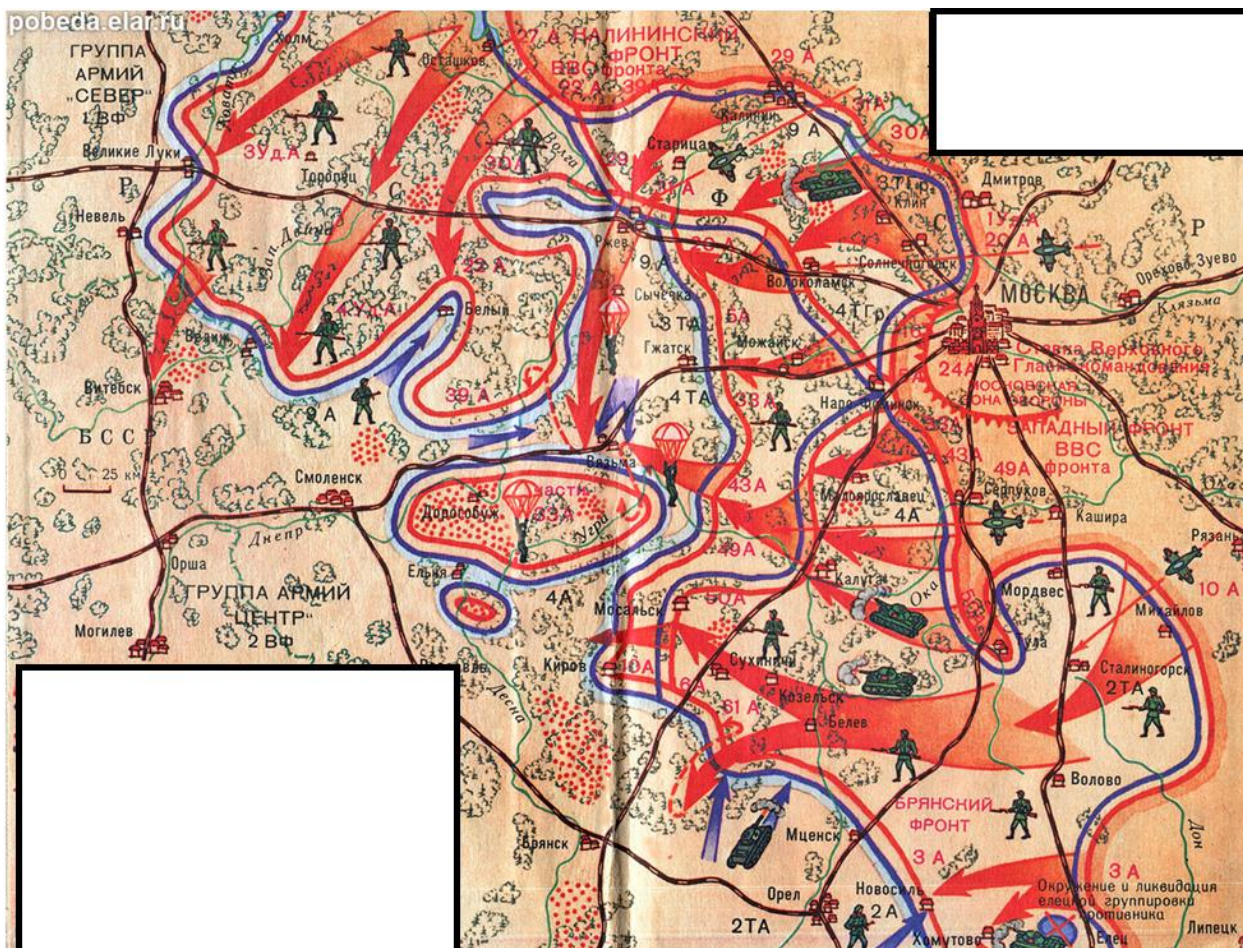
**Задание № 11. Перед Вами - лидеры стран антигитлеровской коалиции. Укажите, какие должности они занимали в тот момент, когда и в ходе какого мероприятия сделана эта фотография (по 1 баллу за каждый верный ответ, если верно указана хотя бы одна должность каждого руководителя стран антигитлеровской коалиции, максимально 4 балла).**



**Ответ:**

	<b>Фамилия и должность</b>
<b>Место и время, когда было сделано фото</b>	
<b>Фото лидера (слева направо)</b>	
<b>Фото лидера в центре</b>	
<b>Фото лидера справа</b>	

**Задание № 12.** Внимательно изучите карту-схему и, опираясь на нее и свои знания по курсу отечественной истории, определите, какие утверждения являются верными, а какие - нет. Свой ответ запишите в таблицу (*по 1 баллу за правильный ответ, максимально- 4 балла*).









Ответ:

Утверждения	Верно	Неверно
К лету 1942 г. Красная армия освободила Ржев и окончательно ликвидировала угрозу Москве с запада.		
К апрелю 1942 г. немецкой группой армий «Центр» командовал Федор фон Бок.		
На схеме указан город, у стен которого в 1941 г. развернулось двухмесячное сражение, сорвавшее план молниеносной войны против СССР.		
На период, отраженный на схеме, приходится начало боев за Зайцеву гору и контроль над Варшавским шоссе.		
В период, отраженный на схеме, командующим войсками Западного фронта являлся Г.К.Жуков		
В результате боевых действий советским войскам к апрелю 1942 г. удалось взять Вязьму		
Самое западное положение линии фронта было достигнуто к апрелю 1942 г.		

**Задание № 13.** Перед Вами – список городов, которым было присвоено звание «Город-герой». Установите соответствие между их названиями и установленными в них памятниками героям Великой Отечественной войны (по 1 баллу за правильно заполненную строку, максимально 13 баллов)

Города-герои	Памятники героям Великой Отечественной
--------------	--

		ВОЙНЫ
<p>А) Ленинград</p>	<p>1)</p>	
<p>Б) Сталинград</p>	<p>2)</p>	
<p>В) Севастополь</p>	<p>3)</p>	
<p>Г) Одесса</p>	<p>4)</p>	
<p>Д) Брестская крепость</p>	<p>5)</p>	

<p>Е) Киев</p>	<p>6) A bronze statue of a woman holding a rifle, standing on a tall pedestal. In the foreground, there is a large field of red tulips. The background shows a stone wall with inscriptions and a clear blue sky.</p>
<p>Ж) Москва</p>	<p>7) A large, dark bronze sculpture of a woman in a dynamic, forward-leaning pose, holding a rifle. The sculpture is set against a light, overcast sky.</p>
<p>З) Керчь</p>	<p>8) A bronze sculpture of two men in military uniforms standing on a stone base. The background shows a city street with buildings and trees under a clear blue sky.</p>
<p>И) Новороссийск</p>	<p>9) A tall, white, abstract sculpture of a woman in a long coat, standing on a hill. The background shows a blue sky with light clouds and a modern building.</p>
<p>К) Минск</p>	<p>10) A large, dark stone sculpture of a woman in a dynamic pose, holding a rifle. The sculpture is set on a hill with a large staircase leading up to it. The background shows a clear blue sky and green trees.</p>

Л) Тула	 <p>11)</p>
М) Мурманск	 <p>12)</p>
Н) Смоленск	 <p>13)</p>


**Ответ:**

Города-герои	их архитектурные символы
А) Ленинград	
Б) Сталинград	
В) Севастополь	
Г) Одесса	
Д) Брестская крепость	
Е) Киев	
Ж) Москва	
З) Керчь	
И) Новороссийск	
К) Минск	
Л) Тула	
М) Мурманск	
Н) Смоленск	

**Задание № 14. Определите, как по обе стороны фронта неофициально назывался тот или иной вид вооружения и военной техники. Свой ответ запишите в таблицу.**

Используйте в качестве подсказки слова под фото. Обратите внимание, что в их числе есть лишние (1 балл за верный ответ, максимально 6 баллов).

1.		
2.		
3.		
4.		
5.		



**Подсказка:** «папаша», «катюша», «Иван Долбай», «лаптежник», «ишак», «Микки-Маус», «зверобой», «горбатый», «кофемолка», «Харитон», «Дождь три четверти».

**Задание № 15.** Внимательно прочитайте отрывки из текста источника и определите, какие суждения относительно них являются верными, а какие - нет. Обратите внимание, что утверждений может быть больше, чем правильных ответов (*по 1 баллу за правильный ответ, максимально - 4 балла*).

	Отрывок из исторического источника	Утверждения
А.	<p>Надо сказать, что в послевоенный период положение еще больше усложнилось. Сталин стал более капризным, раздражительным, грубым, особенно развилась его подозрительность. До невероятных размеров увеличилась мания преследования. Многие работники становились в его глазах врагами. После войны Сталин еще больше отгородился от коллектива, действовал исключительно единолично, не считаясь ни с кем и ни с чем.</p> <p>Невероятной подозрительностью Сталина ловко пользовался гнусный провокатор, подлый враг Берия, который истребил тысячи коммунистов, честных советских людей. Выдвижение Вознесенского и Кузнецова пугало Берию. Как теперь установлено, именно Берия «подбрасывал» Сталину состряпанные им и его подручными материалы в виде заявлений, анонимных писем, в виде разных слухов и разговоров.</p> <p>Центральный Комитет партии проверил так называемое «ленинградское дело», невинно пострадавшие люди теперь реабилитированы, восстановлена честь славной Ленинградской партийной организации. Фальсификаторы этого дела - Абакумов и другие - были преданы суду, их судили в Ленинграде, и они получили по заслугам...</p>	<ol style="list-style-type: none"> <li>1. Представлен отрывок из выступления высокопоставленного партийного руководителя, в котором он впервые упомянул термин «культ личности».</li> <li>2. Упоминаемое в тексте «ленинградское дело» - судебный процесс над руководителями, обвиненными в убийстве С.М.Кирова.</li> <li>3. В результате этого выступления от власти была отстранена так называемая «антипартийная группа».</li> <li>4. В результате этого выступления Н.С.Хрущева была принято решение отдать под суд Л.П.Берия.</li> <li>5. На заседании, где было произнесено данное выступление, присутствовали реабилитированные Н.А.Вознесенский и А.А.Кузнецов.</li> <li>6. Л.М.Каганович в довоенные и военные годы работал на посту наркома путей сообщения.</li> </ol>
Б.	<p>Теперь Каганович так же, как Молотов и Маленков, когда заходит речь об истреблении сотен тысяч людей, ссылается на Сталина, но Сталин умер, и Каганович хочет уйти от</p>	<ol style="list-style-type: none"> <li>7. Данные слова произнесены на XX съезде КПСС.</li> </ol>



<p>ответственности. Каганович был самым ретивым подхалимом у Сталина. В этой связи мне припоминается один весьма характерный факт. Каганович всегда старался восхвалять Сталина, принижая роль и значение Владимира Ильича Ленина. Он не раз, не стесняясь нашим присутствием, говорил Сталину: что Ленин, у нас все говорят - Ленин, ленинизм. Надо, по-моему, заменить слово ленинизм новым понятием - сталинизм... &lt;...&gt; Маленков сфабриковал ленинградское дело. Маленков несет полную ответственность за злодеяния, совершенные в связи с ленинградским делом...</p>	
---	--

**Ответ:**

<b>А</b>	<b>Б</b>




**Задание № 16. Прочитайте антисоветские частушки. На какие явления социальной и политической жизни СССР они намекают? (1 балл за правильный ответ, максимально 4 балла).**

<p>1. Сейчас у нас Никита - Едим мясо из кита. Завтра будет Микоян - Зажуем из обезьян.</p>	<p>2. Разобью горшки и вазу, Чтоб герань не разводиться: По хрущевскому указу Вдруг налог надо платить?</p>
<p>3. Как калека пред атлетом — Перед Брежневым Толстой: Не имел за сочиненья Он медалишки простой.</p>	<p>4. «На недельку, до второго» закопаем Горбачёва. Откопаем Брежнева — будем пить по- прежнему.</p>

**Ответ:**

<b>1.</b>	<b>2.</b>
<b>3.</b>	<b>4.</b>

**Задание № 17. Определите, какие агитационные плакаты были созданы в эпоху перестройки. Укажите при ответе их номера (по 1 баллу за правильный ответ, максимально 2 балла).**



Ответ: \_\_\_\_\_.