

Всероссийская олимпиада школьников по технологии, муниципальный этап
Задания теоретического конкурса по номинации
«Культура дома и декоративно-прикладное творчество»
8-9 класс
Технология

1. Что означает термин «обвалка мяса»?

- a. обмывание мяса
- b. обсушивание мяса
- c. оттаивание мяса
- d. отделение мяса от костей

2. Кушанье из мелких кусочков мяса в остром соусе – это

Азу

3. Из какой зерновой культуры производят крупу «Геркулес»:

- a. пшеница
- b. полба
- c. рис
- d. овес
- e. гречиха
- f. пшено

4. Пицца, готовая к употреблению называется

блюдо

5. Что обозначает данный условный знак?



- a. Машинная стирка изделия запрещена
- b. Щадящая стирка белья
- c. Значок деликатной стирки изделия
- d. Ручная стирка

6. Какой условный знак обозначает «Белье можно отбеливать»?

- a.
- b.
- c.

7. Изобразите значок условного обозначения «Глажка изделия запрещена»



8. Какая ткань называется набивной?

ткань, на которой печатают рисунок

9. Разделение пространства на отдельные зоны - это:

- a. планирование
- b. проектирование
- c. зонирование

10. Требование многофункциональности к интерьеру подразумевает:

- a. мебель и украшения должны представлять единое целое
- b. пригодность вещи в различных ситуациях
- c. мебель не должна занимать много места

11. Как называется неосыпающийся край ткани?

- a. кромка
- b. шов
- c. срез

12. Волокна растительного происхождения это:

- a. лен
- b. шерсть
- c. шелк

13. Выберите условное обозначение, соответствующее «лайкре»

- a. Ly
- b. Li
- c. LO

14. Каких нитки получают из шерсти ангорских коз?

мохер.

15. При выкраивании косой бейки ее долевую нить располагают:

- a. под углом 30° к долевой нити
- b. поперек бейки
- c. под углом 45° к долевой нити
- d. вдоль бейки

16. Дай характеристику изнаночной стороны ткани.

шероховатая, матовая, у неё бледный цвет и рисунок, на ней больше узелков и ворсинок.

17. Под цифрой 1 обозначена



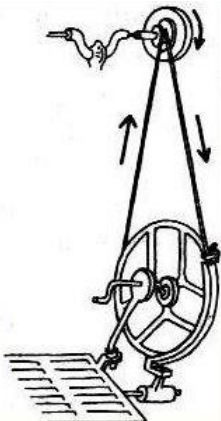
- a. основание
- b. пятка
- c. фаска
- d. конус

18. К какому типу челночного устройства принадлежит данный челнок



Левостороннее качающееся челночное устройство

19. Какой вид швейной машины изображен на рисунке



- a. с ручным приводом
- b. с ножным приводом
- c. в электроприводе

20. Какой из аксессуаров появился в 1790-х годах в связи с изменением моды и стиля одежды?



- a. 1 — ридикюль
- b. 2 — перчатки
- c. 3 — веер

21. Какой из этих уборов в русском народном костюме одевали по праздникам?



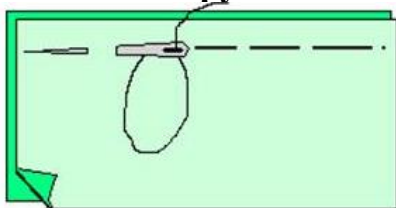
- a. 1 — венец
- b. 2 — кокошник
- c. 3 — повойник

22. Снятие какой мерки изображено на рисунке?



- a. обхват груди 1
- b. обхват груди 2
- c. обхват груди 3
- d. обхват груди 4

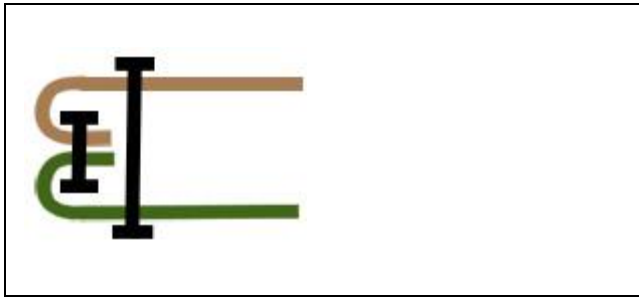
23. Какой ручной шов изображен на рисунке



- a. ровная наметка
- b. неровная наметка

с. косая наметка

24. Начертите условное обозначение Бельевого двойного (французского) шва



25. Начертите схему атласного переплетения. Изготовьте макет переплетения, используя полоски бумаги двух цветов

