

Ставропольский край  
Муниципальный этап всероссийской олимпиады школьников  
2017/2018 учебного года

Математика

10 класс

1. Графики функций  $y = x^2 + ax + b$  и  $y = x^2 + cx + d$  пересекаются в точке с координатами  $(1, 1)$ . Сравните  $a^5 + d^6$  и  $c^6 - b^5$ .

**Решение**

Так как графики проходят через точку  $(1, 1)$ , то  $1 = 1 + a + b$  и  $1 = 1 + c + d$ , то есть  $a = -b$  и  $c = -d$ . Следовательно,  $a^5 = -b^5$  и  $d^6 = c^6$ . Складывая эти равенства, получим  $a^5 + d^6 = c^6 - b^5$ .

**Ответ** эти числа равны.

2. Пройдя  $\frac{4}{9}$  длины моста, путник заметил, что его догоняет машина, еще не въехавшая на мост. Тогда он повернул назад и встретился с ней у начала моста. Если бы он продолжил свое движение, то машина догнала бы его у конца моста. Найдите отношение скоростей машины и путника.

**Решение**

Из условия следует, что время, которое требуется машине, чтобы подъехать к мосту, равно времени, которое требуется путнику, чтобы пройти  $\frac{4}{9}$  моста. Следовательно, если путник продолжит движение, то к моменту въезда машины на мост, он пройдет  $\frac{8}{9}$  моста. Значит, за то время, пока машина проезжает мост, путник успевает пройти его девятую часть, поэтому скорость машины в 9 раз больше скорости путника.

**Ответ** 9.

3.  $M$  – точка пересечения диагоналей трапеции  $ABCD$ . На основании  $BC$  выбрана такая точка  $P$ , что  $\angle APM = \angle DPM$ . Докажите, что расстояние от точки  $C$  до прямой  $AP$  равно расстоянию от точки  $B$  до прямой  $DP$ .

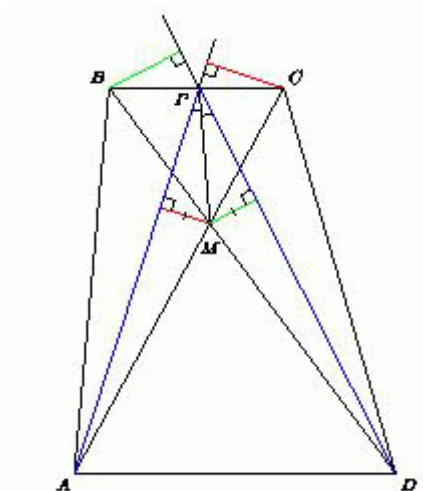
**Решение**

Будем обозначать расстояние от точки  $X$  до прямой  $l$  через  $d(X, l)$ .

Заметим, что  $d(C, AP) = d(M, AP) \cdot AC/AM$ ,  $d(B, DP) = d(M, DP) \cdot DB/DM$ .

Но  $d(M, AP) = d(M, DP)$ , так как  $PM$  – биссектриса угла  $APD$ .

С другой стороны, из подобия треугольников  $BMC$  и  $DMA$  следует, что  $AM : MC = DM : MB$ . Значит,  $AC : AM = DB : DM$ . Отсюда следует утверждение задачи.



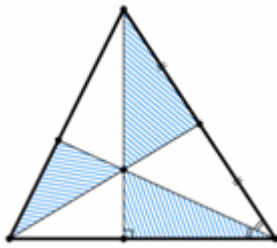
4. Вовочка играет в компьютерную игру. Если он наберет менее 1000 очков, то компьютер добавит ему 20% от его результата. Если он наберет от 1000 до 2000 очков, то компьютер добавит ему 20% от первой тысячи очков и 30% от оставшегося количества очков. Если Петя наберет более 2000 очков, то компьютер добавит ему 20% от первой тысячи очков, 30% от второй тысячи и 50% от оставшегося количества. Сколько призовых очков получил Петя, если по окончании игры у него было 2370 очков?

### Решение

Ясно, что Петя набрал больше 1000 очков (иначе его результат был бы не больше 1200) и меньше 2000 (иначе результат был бы не меньше 2500). Отбросим 1200 очков (первую тысячу плюс приз за нее). Оставшиеся 1170 очков составляют 130% от очков, набранных Петей во второй тысяче.  $\frac{3}{13}$  от этого количества, то есть 270 очков – приз. А общее количество призовых очков равно  $200 + 270 = 470$ .

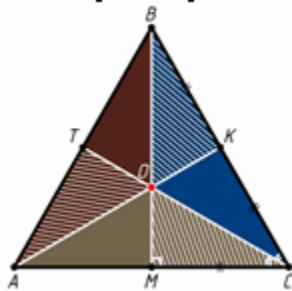
**Ответ** 470 очков.

5. Биссектриса, медиана и высота некоторого треугольника, проведенные из трёх разных вершин, пересекаются в одной точке и делят этот треугольник на шесть треугольников (см. рисунок). Площади трёх закрашенных треугольников равны. Верно ли, что исходный треугольник равносторонний?



### Решение

Пусть медиана  $AK$ , высота  $BM$  и биссектриса  $CT$  треугольника  $ABC$  пересекаются в точке  $O$ . Треугольники  $ВОК$  и  $СОК$  равновелики, так как у них равные основания ( $BK = CK$ ) и общая высота.  $S_{СОК} = \frac{1}{2} CK \cdot CO \sin \angle OCK$ ,  $S_{СОМ} = \frac{1}{2} CK \cdot CO \sin \angle OCM$ , а так как  $S_{СОК} = S_{ВОК} = S_{СОМ}$  и  $\angle OCK = \angle OCM$ , то  $CM = CK$ , поэтому треугольники  $СОК$  и  $СОМ$  равны по двум сторонам и углу между ними. Следовательно,  $\angle OKC = \angle OMC = 90^\circ$ , значит, медиана  $AK$  треугольника  $ABC$  является также его высотой, поэтому треугольник  $ABC$  – равнобедренный. Кроме того, из равенства  $CM = CK = \frac{1}{2} BC$  следует, что в прямоугольном треугольнике  $ВСМ$  катет  $СМ$  вдвое меньше гипотенузы  $BC$ , значит,  $\angle BСМ = 60^\circ$ . Таким образом, один из углов равнобедренного треугольника  $ABC$  равен  $60^\circ$ . Следовательно, этот треугольник – равносторонний.



Ответ верно.