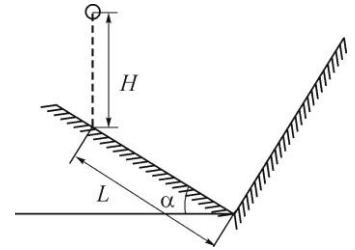


10 класс

Задача 1 (10 баллов). Шарик падает без начальной скорости с высоты H на наклонную плоскость, угол наклона которой равен α . Через какое время шарик ударится о стенку, расположенную перпендикулярно наклонной плоскости и находящуюся на расстоянии L от первой точки удара шарика об эту плоскость. Все удары шарика о наклонную плоскость – упругие.



Решение. Выберем ось x вдоль наклонной плоскости. Запишем уравнение движения:

$$x = x_0 - \frac{g_x t^2}{2},$$

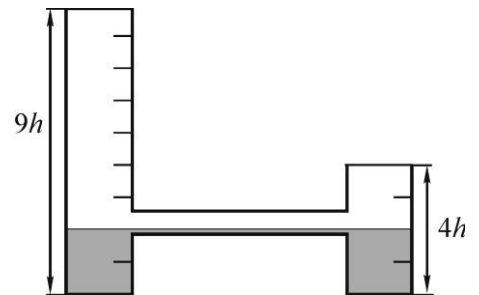
где $x_0 = L + H \sin \alpha$, $g_x = g \cos \alpha$. Отсюда, при $x = 0$,

$$t = \sqrt{2 \frac{L + H \sin \alpha}{g \sin \alpha}}.$$

Примерные критерии оценивания

- 1) Выбрана система координат – 2 балла.
- 2) Записано уравнение движения – 3 балла.
- 3) Определено условие столкновения шарика со стенкой – 2 балла.
- 4) Найдено время - 3 балла.

Задача 2 (10 баллов). Определите, какой максимальный объем воды плотностью $\rho_1 = 1,0$ г/см³ можно налить в U-образную несимметричную трубку с открытыми верхними концами, частично заполненную маслом плотностью $\rho_2 = 0,8$ г/см³. Площадь поперечного сечения вертикальных частей трубки равна S . Объемом горизонтальной части трубки можно пренебречь. Вертикальные размеры трубки и высота столба масла приведены на рисунке (высоту h считайте заданной).



Примечание. Затыкать открытые концы трубки, наклонять ее или выливать из нее масло запрещено.

Решение. Важно, чтобы в коротком колене осталось как можно меньше масла. Тогда в высокой трубке можно получить столб максимальной высоты, превышающей $4h$. Для этого начнем наливать воду в правое колено до тех пор, пока уровень воды не достигнет $2h$ в правом колене, а у уровень масла соответственно h - в правом и $3h$ - в левом коленах (рис. а). Дальнейшее вытеснение масла из правого колена невозможно, так как граница раздела масло-вода в нем станет выше соединительной трубки и в левое колено начнет поступать вода. Процесс добавления воды следует прекратить, когда верхняя граница масла в правом колене достигнет верха колена (рис.б).

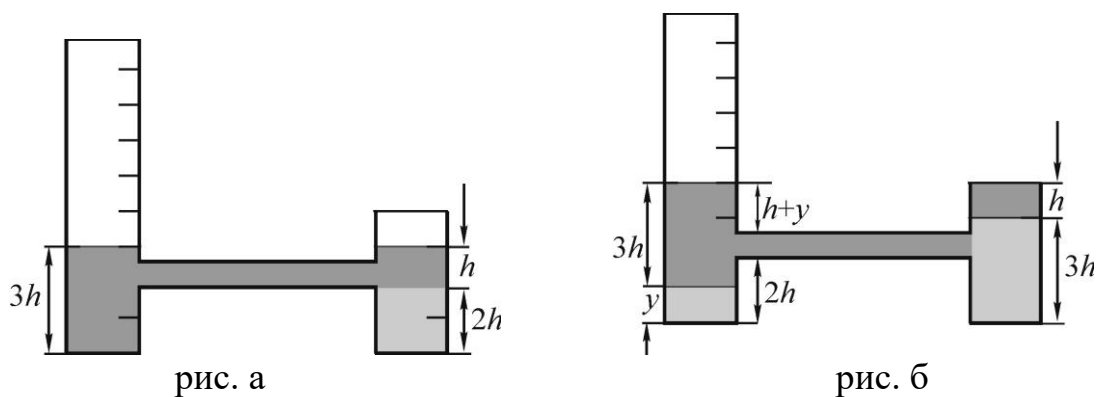


рис. а

рис. б

По условию равенства давлений на уровне соединительной трубки

$$((3h + y) - 2h) - 0,8\rho_1 = \rho_1 h + 0,8\rho_1 h,$$

откуда $y = 1,25h$. Следовательно, максимальный объем воды

$$V = 4,25hS.$$

Примерные критерии оценивания

- 1) Дана идея максимизации объема воды – 1 балл.
- 2) Приведен расчет первого этапа заполнения - 2 балла.
- 3) Приведен расчет второго этапа заполнения - 4 балла.
- 4) Дан окончательный ответ – 3 балла.

Задача 3 (10 баллов). В лаборатории исследуют лед с порами – маленькими полостями, равномерно распределенными по объему льда. Образец, имеющий температуру 0°C , помещают в калориметр с водой при температуре $T_0 = 0^\circ\text{C}$, дожидаются, когда лед растает, и измеряют температуру получившейся воды. В первом эксперименте поры были заполнены воздухом. Во втором эксперименте в точно таком же образце поры были заполнены водой при температуре 0°C . Установившаяся температура в калориметре в первом опыте оказалась равной $T_1 = 10^\circ\text{C}$, а во втором $T_2 = 9^\circ\text{C}$. Найдите плотность льда с порами, заполненными воздухом. Плотность воды равна 1000 кг/м^3 , плотность льда без пор – 900 кг/м^3 , удельная теплоемкость воды $c = 4200 \text{ Дж/(кг}\cdot^\circ\text{C)}$, удельная теплота плавления льда $\lambda = 330 \text{ кДж/кг}$, теплоемкостью воздуха пренебречь.

Решение. Пусть масса образца в первом случае равна M_Λ . Во втором случае она больше на ΔM – на массу воду, заполняющей поры. Общий объем пор

тогда равен $V_p = \frac{\Delta M}{\rho_B}$, где ρ_B – плотность воды, а объем чистого льда (без пор) в

образце равен $V_\Lambda = \frac{M_\Lambda}{\rho_\Lambda}$. Плотность образца в первом случае равна

$$\rho = \frac{M_\Lambda}{V_\Lambda + V_p} = \frac{1}{1/\rho_\Lambda + M_B / (M_\Lambda \rho_B)}.$$

Отсюда видно, что достаточно найти отношение M_B / M_Λ .

Пусть C - теплоемкость калориметра с водой, в который помещают образец. Уравнение теплового баланса в первом эксперименте будет иметь вид:

$$C(T_0 - T_1) = \lambda M_\Lambda + cM_\Lambda(T_1 - 0^\circ C),$$

а во втором эксперименте –

$$C(T_0 - T_2) = \lambda M_\Lambda + c(M_\Lambda + M_B)(T_2 - 0^\circ C).$$

Исключим C из этих уравнений, деля одно на другое:

$$\frac{T_0 - T_2}{T_0 - T_1} = \frac{\lambda + cT_2(1 + M_B / M_\Lambda)}{\lambda + cT_1},$$

откуда

$$\frac{M_B}{M_\Lambda} = \frac{\lambda}{cT_2} \cdot \frac{T_0 - T_2}{T_0 - T_1} + \frac{T_1}{T_2} \cdot \frac{T_0 - T_2}{T_0 - T_1} - 1 = 0,308.$$

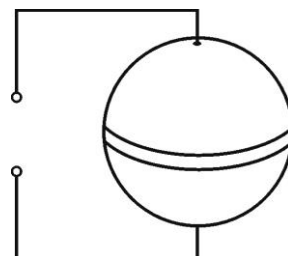
Подставляя это значение в уравнение для искомой плотности, получим ответ:

$$\rho = 705 \text{ кг/м}^3.$$

Примерные критерии оценивания

- 1) Получено выражение для плотности образца – 3 балла.
- 2) Записано уравнение теплового баланса для первого эксперимента - 2 балла.
- 3) Записано уравнение теплового баланса для второго эксперимента - 2 балла.
- 4) Найдено отношение масс M_B / M_Λ – 2 балла.
- 5) Найдена искомая плотность – 1 балл.

Задача 4 (10 баллов). Пустотелый металлический шар имеет радиус $r = 10$ см и толщину стенок $d = 1$ мм. Он изготовлен из меди, за исключением полоски на «экваторе» шириной $a = 2$ мм, которая выполнена из алюминия. Когда на «полюса» шара подали напряжение $U = 0,1$ мВ, через него пошел ток $I = 5,12$ А. Опыт повторили с другим шаром, у которого вместо алюминиевой полоски была железная. какой ток пойдет через этот шар? Удельное сопротивление алюминия $\rho_{Al} = 0,03$ Ом·мм²/м, железа $\rho_{Fe} = 0,10$ Ом·мм²/м.



Решение. Представим шар как последовательное соединение трех резисторов: верхнего полушария (медного, пусть его сопротивление $R_0 / 2$), полоски (алюминиевой, обозначим ее сопротивление R_n) и нижнего полушария (тоже медного, $R_0 / 2$). Сопротивление шара

$$R = \frac{U}{I} = 1953 \cdot 10^{-8} \text{ Ом}$$

есть сумма сопротивлений всех трех частей:

$$R = R_0 + R_n.$$

Рассчитаем сопротивление полоски. Воспользуемся формулой

$$R_n = \rho_{Al} L / S,$$

здесь L - длина проводника, то есть размер той его части, вдоль которой течет ток; S - площадь сечения, которую пронизывает ток. Величина S представляет собой площадь кольца радиусом $r=10$ см и толщиной $d=1$ мм, его площадь равна

$$S = 2\pi r d = 628 \text{ мм}^2.$$

Поэтому сопротивление полоски

$$R_n = \rho_{Al} a / S = 9,55 \cdot 10^{-8} \text{ Ом}.$$

При подстановке численных значений необходимо учитывать то, что ρ_{Al} дано в Ом·мм²/м, то есть следует подставлять S в миллиметрах, а длину a - в метрах.

У железной полоски таких же размеров сопротивление

$$R'_n = \rho_{Fe} a / S = 3,18 \cdot 10^{-7} \text{ Ом}.$$

При замене алюминиевой полоски на железную сопротивление шара увеличится на величину $R'_n - R_n = 22,25 \cdot 10^{-8}$ Ом и станет равно

$$R' = R + R'_n - R_n = 1975 \cdot 10^{-8} \text{ Ом}.$$

Через шар пойдет ток

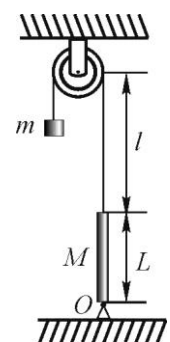
$$I' = \frac{U}{R'} = 5,06 \text{ А},$$

где величина $U = 0,1$ мВ не изменилась.

Примерные критерии оценивания

- 1) Определено сопротивление шара по закону Ома – 1 балл.
- 2) Записана формула для сопротивления полоски с указанием ее длины и площади - 2 балла.
- 3) Получено значение сопротивления алюминиевой полоски - 2 балла.
- 4) Получено значение сопротивления железной полоски – 2 балла.
- 5) Найдено новое сопротивление шара – 2 балла.
- 6) Найдено значение тока – 1 балл.

Задача 5 (10 баллов). Один конец однородного стержня массой M и длиной L опирается на шарнир O , а другой прикреплен легкой нити, перекинутой через блок. К свободному концу нити привязан груз массой m . Расстояние от стержня до оси блока равно l . При какой массе m груза вертикальное положение стержня будет устойчивым (то есть, при его отклонении от вертикали на малый угол будет возникать сила, возвращающая стержень в исходное положение)?



Решение. Пусть стержень отклонили от вертикали на малый угол α , тогда нить отклонится от вертикали на угол $\beta \approx \alpha \frac{L}{l}$. Чтобы он вернулся в исходное положение, момент силы натяжения нити $T = mg$, имеющей плечо $l_1 \approx \beta(l + L)$

относительно точки O , должен превзойти момент силы тяжести стержня $F = Mg$, имеющей плечо $l_2 \approx \alpha \frac{L}{2}$ относительно той же точки:

$$mg\beta(l+L) > Mg\alpha \frac{L}{2},$$

откуда

$$m > \frac{\frac{M}{2}}{1 + \frac{L}{l}}.$$

Примерные критерии оценивания

- 1) Записано правило моментов (в виде неравенства) – 4 балла.
- 2) Корректно учтена малость углов - 3 балла.
- 3) Получен ответ - 3 балла.

