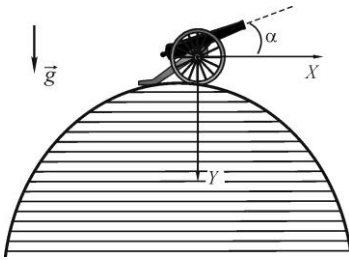


11 класс



Задача 1 (10 баллов). Пушка стоит на самом вершугоры, лобовое вертикальное сечение которой есть парабола $y = ax^2$. При какой минимальной начальной скорости снаряда, выпущенного под углом α к горизонту, он никогда не упадет на поверхность горы. Ускорение свободного падения равно g .

Решение. Найдем уравнение траектории снаряда в системе координат, заданной на рисунке в условии задачи. Пусть t - время, прошедшее с момента выстрела, а V_0 - начальная скорость снаряда. Очевидно, что координаты снаряда в момент t есть

$$x = V_0 \cos \alpha \cdot t, \quad y = \frac{gt^2}{2} - V_0 \sin \alpha \cdot t,$$

откуда

$$y(x) = \frac{g}{2V_0^2 \cos^2 \alpha} x^2 - x \operatorname{tg} \alpha.$$

Точка столкновения снаряда с поверхностью горы находится из уравнения

$$y(x) = \frac{g}{2V_0^2 \cos^2 \alpha} x^2 - x \operatorname{tg} \alpha = ax^2.$$

Решение $x=0$ соответствует месту выстрела, поэтому точка падения снаряда определяется уравнением

$$\left(\frac{g}{2V_0^2 \cos^2 \alpha} - a \right) x = \operatorname{tg} \alpha.$$

Это уравнение не имеет положительных решений при $\frac{g}{2V_0^2 \cos^2 \alpha} \leq a$, то есть

минимальное значение начальной скорости снаряда, при которой он никогда не упадет на поверхность горы,

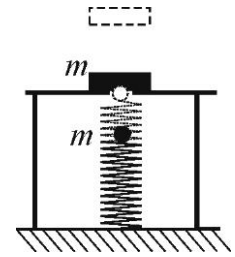
$$V_{0\min} = \frac{1}{\cos \alpha} \sqrt{\frac{g}{2a}}.$$

При меньших значениях V_0 столкновение снаряда с горой будет неизбежно.

Примерные критерии оценивания

- 1) Записана зависимость координат от времени в системе координат, заданной в условии задачи – 1 балл.
- 2) Найдено уравнение траектории – 2 балла.
- 3) Записано условие столкновения снаряда с горой – 2 балла.
- 4) Отмечено, что один корень соответствует начальной точке – 1 балл.
- 5) Указана область существования положительных решений – 1 балл.
- 6) Найдена минимальная скорость – 3 балла.

Задача 2 (10 баллов). Маленький шарик массой m , закрепленный на вертикальной пружине, расположили под столом с отверстием. В положении равновесия шарик находится посередине отверстия. Обнаружилось, что если шарик отклонить вниз на произвольное расстояние и отпустить, он колеблется вокруг положения равновесия, возвращаясь в крайнее нижнее положение через промежуток времени T_0 (иначе говоря, колеблется с периодом T_0).



Над отверстием поставили тело массой m и снова вывели шарик из положения равновесия. Определите период колебаний шарика в новых условиях, если известно, что максимальная скорость шарика v_m . Шарик и тело соударяются абсолютно упруго; тело, подсакивая, движется строго вертикально. Сопротивлением воздуха пренебречь, ускорение свободного падения g .

Решение. При абсолютно упругом ударе шарика о тело вся кинетическая энергия шарика перейдет телу, так как их массы равны, что видно из закона сохранения импульса и энергии:

$$mv = mv_1 + mv_2, \quad \frac{mv^2}{2} = \frac{mv_1^2}{2} + \frac{mv_2^2}{2},$$

где v - скорость шарика до удара, v_1 и v_2 - скорости шарика и тела после соударения. Несложно видеть, что из законов сохранения получаются соотношения

$$v_2 = v - v_1, \quad v_1 v_2 = 0.$$

Естественно выбрать $v_1 = 0$, $v_2 = v$, другой выбор отвечает отсутствию удара, когда шарик продолжает движение, а тело осталось неподвижным.

В нашем случае шарик проходит положение равновесия, а следовательно его скорость максимальна и равно v_m . После удара тело двигается вверх с той же начальной скоростью v_m , что и шарик до удара. Значит, уравнение его движения имеет вид

$$y(t) = v_m t - gt^2 / 2, \quad v = v_m - gt,$$

где $y(t)$ - высота тела над столом, $v(t)$ - его скорость.

Найдем время, через которое тело вернется на стол. Это произойдет при $y = 0$, то есть в момент времени $t = 2v_m / g$; скорость тела в этот момент составит $-v_m$, отрицательный знак означает, что тело движется вниз.

Далее вновь происходит абсолютно упругий удар, после которого вся энергия передается шарика, и он начинает движение вниз с начальной скоростью $-v_m$, сжимаю пружину. При этом движение происходит такое же, как и при свободных колебаниях. Значит, время до следующего удара равно половине периода свободных колебаний шарика $T_0 / 2$. Это время, через которое шарик вернется в положение равновесия.

В итоге период движения системы получается как сумма времени, которое тело проводит в полете над столом, то есть $2v_m / g$ и половины периода движения шарика на пружине:

$$T = \frac{2v_m}{g} + \frac{T_0}{2}.$$

Примерные критерии оценивания

1) На основании законов сохранения энергии и импульса доказано, что результате упругого удара тело будет двигаться с той же начальной скоростью, что и шарик перед ударом - 3 балла.

Если просто отмечено, что в результате упругого удара тело будет двигаться с той же начальной скоростью, что и шарик перед ударом (без вывода) – 1 балл.

2) Отмечено, что перед ударом шарик имеет скорость v_m - 1 балл.

3) Записаны уравнения для движения тела – 2 балла.

5) Найдено время полета тела – 2 балла.

6) Указано, что шарик движется время $T_0 / 2$ – 1 балл.

7) Получен конечный ответ – 1 балл.

Задача 3 (10 баллов). Имеются три цилиндрических сосуда, отличающихся только по высоте. Емкости сосудов равны 1, 2 и 4 литра. Сосуды заполнены водой до краев. Воду в сосудах греют с помощью кипятильника. Из-за потерь тепла в атмосферу мощности кипятильника не хватает, чтобы вскипятить воду. В первом сосуде можно нагреть воду до $t_1 = 80^\circ\text{C}$, во втором – до $t_2 = 60^\circ\text{C}$. До какой температуры можно нагреть воду в третьем сосуде, если комнатная температура $t_0 = 20^\circ\text{C}$? Считайте, что теплоотдача тепла в атмосферу с единицы площади поверхности пропорциональна разности температур воды и окружающей среды. Вода в сосуде прогревается равномерно.

Решение. Обозначим искомую температуру через t_3 . Теплоотдача складывается из потока тепла через боковые стенки, дно и поверхность. Мощность теплоотдачи через дно и свободную поверхность для трех сосудов равна $A(t_1 - t_0)$, $A(t_2 - t_0)$ и $A(t_3 - t_0)$, здесь A - коэффициент пропорциональности, одинаковый для всех трех сосудов.

Мощность теплоотдачи через боковые стенки пропорциональна еще и площади этих стенок, которые соотносятся между собой как S , $2S$ и $4S$. Иными словами, теплоотдача через боковые стенки равна $BS(t_1 - t_0)$, $2BS(t_1 - t_0)$ и $4BS(t_1 - t_0)$ (B - некий коэффициент пропорциональности).

Суммарная мощность теплоотдачи каждого из сосудов равна

$$\begin{aligned} P_1 &= (t_1 - t_0)(A + BS), \\ P_2 &= (t_2 - t_0)(A + 2BS), \\ P_3 &= (t_3 - t_0)(A + 4BS). \end{aligned}$$

В установившемся режиме она равна мощности кипятильника, и, следовательно, одинакова во всех трех случаях. Поэтому

$$60(A + BS) = 40(A + 2BS) = (t_3 - t_0)(A + 4BS).$$

Из первой пары уравнений находим, что

$$A = BS,$$

тогда вторая пара уравнений дает

$$40 \cdot 3BS = (t_3 - t_0) \cdot 5BS,$$

откуда

$$t_3 - t_0 = 24^\circ \text{C}.$$

Следовательно, $t_3 = 44^\circ \text{C}$.

Примерные критерии оценивания

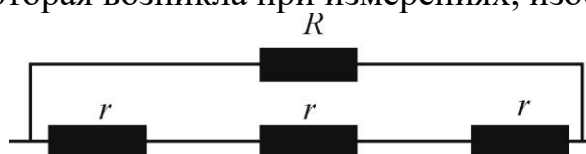
- 1) Указано, что поток тепла идет через горизонтальные и боковую поверхности – 1 балл.
- 2) Указано, что поток тепла через дно и открытую поверхности одинаков для всех сосудов - 1 балл.
- 3) Записаны выражения для потерь тепла через горизонтальные поверхности для всех сосудов - 2 балла.
- 4) Записаны выражения для потерь тепла через боковую поверхность для всех сосудов – 2 балла.
- 5) Записано выражение для суммарной мощности потерь для каждого сосуда – 1 балл.
- 6) Указано, что мощность потерь для всех сосудов одинакова – 1 балл.
- 7) Решена система уравнений и получен ответ – 2 балла.

Задача 4 (10 баллов). Экспериментатор Глюк собрал схему из трех одинаковых резисторов, подключил ее к источнику постоянного напряжения (который можно считать идеальным) и измерил вольтметром напряжение сначала между точками A и D , а потом между точками A и B – получилось $U_1 = 3 \text{ В}$ и $U_2 = 0,9 \text{ В}$ соответственно. Тогда экспериментатор Глюк соединил точки A и C проводом (сопротивление которого можно пренебречь) и измерил напряжение между точками B и D . Что он получил?



Решение. Судя по тому, что напряжения U_1 и U_2 отличаются не в три раза, вольтметр и экспериментатора Глюка был не идеальный. Обозначим сопротивление вольтметра R , а сопротивление каждого из резисторов r . Вольтметр измеряет напряжение на себе самом, то есть на сопротивлении R .

Первая схема, которая возникла при измерениях, изображена на рисунке:



В этой схеме вольтметр показывает как раз то напряжение, которое выдает источник. Значит напряжение источника равно U_1 .

Вторая схема, имеет вид:



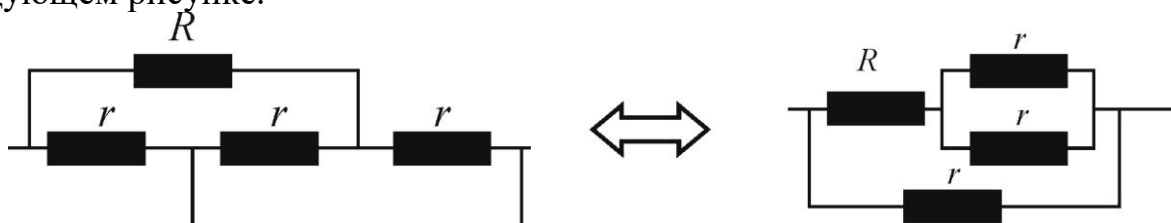
Она эквивалентна последовательному соединению резисторов сопротивлением $\frac{Rr}{R+r}$ и $2r$, поэтому вольтметр показывает напряжение

$$U_2 = U_1 \frac{Rr}{R+r} \left(\frac{Rr}{R+r} + 2r \right)^{-1} = \frac{U_1}{3 + 2r/R}.$$

Отсюда можно найти отношение сопротивлений резисторов и вольтметра:

$$\frac{r}{R} = \frac{U_1 - 3U_2}{2U_2} = \frac{1}{6}.$$

Третья схема, возникшая при измерениях и эквивалентная ей схема приведены на следующем рисунке.



В этой схеме вольтметр показывает

$$U_3 = U_1 \frac{R}{R+r/2} = \frac{U_1}{1+r/(2R)} = \frac{12U_1}{13} = 2,77 \text{ В.}$$

Примерные критерии оценивания

- 1) Отмечено, что вольтметр не идеальный – 1 балл.
- 2) Построена схема первого измерения – 1 балл.
- 3) Указано, что напряжение источника равно U_1 - 2 балла.
- 4) Построена схема второго измерения – 1 балл.
- 5) Найдено отношение сопротивлений – 1 балл.
- 6) Построена эквивалентная схема третьего измерения – 2 балла.
- 7) Найдено искомое напряжение – 2 балла.

Задача 5 (10 баллов). В 1841 году Робертом Майером был предложен метод расчета механического эквивалента теплоты – величины α , показывающей, сколько энергетических единиц ($\text{кг} \cdot \text{м}^2/\text{с}^2$) содержится в единице количества теплоты (калории). Майер рассмотрел циклический процесс, совершаемый над идеальным газом (воздухом) и состоящий из следующих этапов:

1-2 – расширение воздуха в пустоту без совершения работы и изменения состояния других тел (к тому времени Джоуль установил, что при расширении идеального газа в пустоту его температура не меняется);

2-3 – сжатие газа при постоянном давлении;

3-1 – нагревание газа при постоянном объеме.

Майер определил α , измерив работу, совершенную газом за цикл, и общее количество теплоты, подведенное к газу за цикл. С помощью приведенных ниже

данных вычислите, какое значение α получил Майер в своем опыте. Уравнение состояния идеального газа в то время было известно в виде

$$\frac{pV}{m(t+t_0)} = B = const,$$

где m - масса газа, t - его температура (в $^{\circ}\text{C}$), $t_0 \approx 270^{\circ}\text{C}$. Удельная теплоемкость воздуха при постоянном объеме $c_v = 0,186$ кал/(г $\cdot^{\circ}\text{C}$), а при постоянном давлении $c_p = 0,26$ кал/(г $\cdot^{\circ}\text{C}$). При нормальных условиях ($t = 0^{\circ}\text{C}$, $p = p_0 = 10^5$ Па) плотность воздуха $\rho_0 = 1,3$ кг/м 3 .

Примечание. Внесистемная единица калория (кал) – это количество теплоты, которое требуется для нагревания воды массой 1 г на 1°C .

Решение. Работа A , совершенная газом за цикл, равна общему количеству теплоты Q , полученной газом:

$$A = \alpha Q, \quad (1)$$

где коэффициент α служит для перевода единиц измерения. Пусть p_1, V_1 и t_1 - давление, объем и температура в первом состоянии, p_2, V_2 и t_2 - давление, объем и температура во втором состоянии, t_3 - температура в третьем состоянии, тогда

$$A = p_2(V_1 - V_2), \quad Q = mc_p(t_3 - t_2) + mc_v(t_1 - t_3). \quad (2)$$

Процесс 1-2 изображен на графике пунктиром, так как расширение в пустоту не является квазистатическим процессом и невозможно указать, как давление зависит от объема. Температура в результате этого процесса не изменится, то есть $t_1 = t_2$.

Применяя уравнение состояния идеального газа к состояниям 2 и 3

$$\frac{p_2 V_2}{m(t_2 + t_0)} = \frac{p_2 V_1}{m(t_3 + t_0)},$$

получаем

$$(t_3 + t_0) = (t_2 + t_0) \frac{V_1}{V_2}. \quad (3)$$

Преобразуем выражение (2) для Q с использованием выражения (3):

$$\begin{aligned} Q &= mc_p((t_3 + t_0) - (t_2 + t_0)) + mc_v((t_2 + t_0) - (t_3 + t_0)) = \\ &= m(c_p - c_v) \left(\frac{V_1}{V_2} - 1 \right) (t_2 + t_0). \end{aligned}$$

Выразим α из уравнения (1):

$$\alpha = \frac{A}{Q} = \frac{p_2(V_1 - V_2)}{m(c_p - c_v) \left(\frac{V_1}{V_2} - 1 \right) (t_2 + t_0)} = \frac{p_2 V_2}{m(c_p - c_v)(t_2 + t_0)} = \frac{B}{c_p - c_v}.$$

При $t = 0^{\circ}\text{C}$ и $p = p_0 = 10^5$ Па получаем

$$B = \frac{P_0}{\rho_0 t_0}.$$

Таким образом

$$\alpha = \frac{P_0}{\rho_0 t_0 (c_p - c_v)} = 3,85 \text{ кг} \cdot \text{м}^2 / (\text{с}^2 \cdot \text{кал}).$$