

**Муниципальный этап Всероссийской олимпиады школьников по физике**  
**Свердловская область**  
**2017-2018 учебный год**  
**11 класс**  
**Решения задач, рекомендации по проверке**

**Задача 1. Процесс**

Определите наибольшее возможное давление одного моля идеального газа в процессе, происходящем по закону:  $T = T_0(1 - V_0/V)$ , где  $T_0$  и  $V_0$  – известные положительные постоянные,  $V$  – текущее значение объёма газа. В течение всего процесса  $V > V_0$ . При каком значении объёма будет достигнуто максимальное давление?

**Решение**

Запишем уравнение состояния идеального газа, взятого в количестве 1 моль:

$$pV = RT.$$

где  $V$  – молярный объём газа. С учётом уравнения процесса (данного в условии), получим

$$pV = RT_0\left(1 - \frac{V_0}{V}\right).$$

Преобразуем уравнение к виду:

$$p = \frac{RT_0}{V_0} \left(\frac{V_0}{V} - \frac{V_0^2}{V^2}\right).$$

Если сделать замену переменных:  $x = \frac{V_0}{V}$ , то получим квадратное уравнение относительно  $x$ .

Вершине параболы соответствует значение  $x=1/2$ , или  $V=2V_0$ .

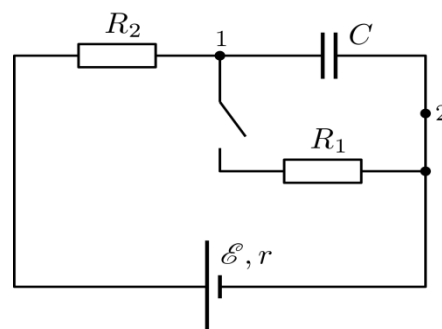
Максимальное давление:

$$p_{max} = \frac{RT_0}{4V_0}.$$

Критерий оценивания	Значение	Балл
Записано уравнение состояния идеального газа		1
Замена переменных, приводящая к квадратному уравнению, в явном или неявном виде	$x = \frac{V_0}{V}$ или $x = \frac{1}{V}$ или другая	3
Найден объём, при котором достигается максимальное давление	$x=1/2$ или $V=2V_0$	3
Найдено максимальное давление	$p_{max} = \frac{RT_0}{4V_0}$	3

### Задача 2. Ключ

Насколько изменится напряжение на конденсаторе в цепи, показанной на рисунке, при замыкании ключа? Какой заряд пройдёт через точку 2 при этом?



### Решение

При разомкнутом ключе в финале зарядки конденсатора ток через него и в схеме в целом равен 0, следовательно, на нём устанавливается напряжение источника ЭДС  $\mathcal{E}$ . Его заряд при этом будет равен:  $q_1 = C\mathcal{E}$ .

При замыкании ключа, если мысленно исключить из схемы конденсатор, то разность потенциалов между точками 1 и 2 будут определять резисторы  $R_1, R_2, r$ .

Ток через делитель:

$$I = \frac{\mathcal{E}}{R_1 + R_2 + r},$$

тогда:

$$U_{12} = R_1 I = \mathcal{E} \frac{R_1}{R_1 + R_2 + r}.$$

Т.к.  $U_{12} < \mathcal{E}$ , то конденсатор будет разряжаться до напряжения  $U_{12}$  и конечного остаточного заряда:

$$q_2 = C U_{12}$$

Следовательно, напряжение на его обкладках изменится на:

$$\Delta U = \mathcal{E} - U_{12} = \mathcal{E} \left(1 - \frac{R_1}{R_1 + R_2 + r}\right).$$

При этом его заряд изменится на

$$\Delta q = C \Delta U = C \mathcal{E} \left(1 - \frac{R_1}{R_1 + R_2 + r}\right).$$

Разряд конденсатора будет происходить на  $R_1$  и характеризуется током разряда, протекающим как раз через точку 2. Следовательно, весь  $\Delta q$  пройдёт через точку 2.

Критерий оценивания	Балл
Определён начальный потенциал на конденсаторе $\mathcal{E}$	2
Определён конечный потенциал на конденсаторе $U_{12} = \mathcal{E} \frac{R_1}{R_1 + R_2 + r}$	3
Определено изменение заряда $\Delta q = C \mathcal{E} \left(1 - \frac{R_1}{R_1 + R_2 + r}\right)$	3
Показано, что ушедший из $C$ заряд $\Delta q$ – искомый для точки 2	2

### Задача 3. Луч

Лазерный луч падает из воздуха на толстую стеклянную пластину под углом  $60^\circ$  и, преломляясь, переходит в стекло. Ширина пучка в воздухе 10 см. Определите ширину пучка в стекле. Показатель преломления стекла 1,51.

### Решение

Для решения задачи необходимо выполнить рисунок. Для падающего и преломленного лучей запишем закон преломления.

$$\frac{\sin\alpha}{\sin\beta} = \frac{n_2}{n_1} = n_2.$$

Отсюда определим угол преломления  $\beta$ .

$$\sin\beta = \frac{\sin\alpha}{n_2} = \frac{\sin 60^\circ}{1.51} \approx 0.574.$$

$$\sin\beta = \arcsin 0.574 \approx 35^\circ.$$

Из рисунка видно, что прямоугольные треугольники ABC и ABD имеют общую гипотенузу AB.

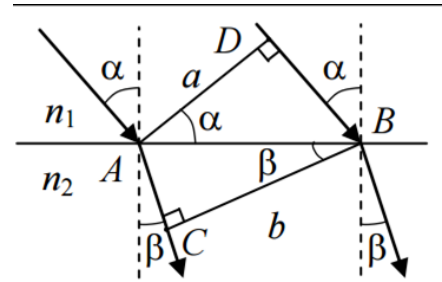
$$AB = \frac{a}{\cos\alpha}; AB = \frac{b}{\cos\beta}.$$

Приравняв правые части уравнений, получим

$$\frac{a}{\cos\alpha} = \frac{b}{\cos\beta}.$$

отсюда ширина пучка  $b$  в стекле будет равна

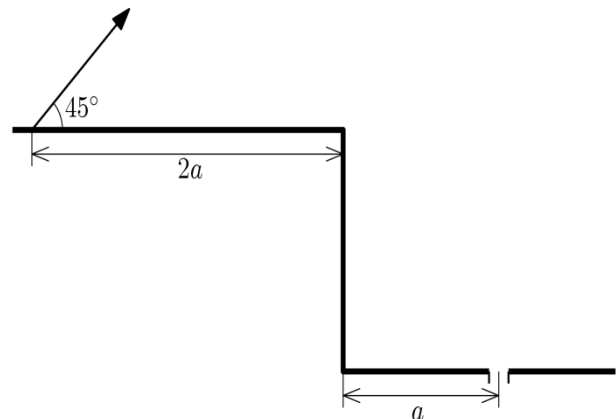
$$b = \frac{a \cos\beta}{\cos\alpha} = \frac{0.1 \cos 35^\circ}{\cos 60^\circ} = 0.16 \text{ м.}$$



Критерий оценивания	Значение	Балл
Записан закон преломления		2
Сделан верный рисунок		4
Рассчитана ширина пучка	0.16 м	4

### Задача 4. Гольф

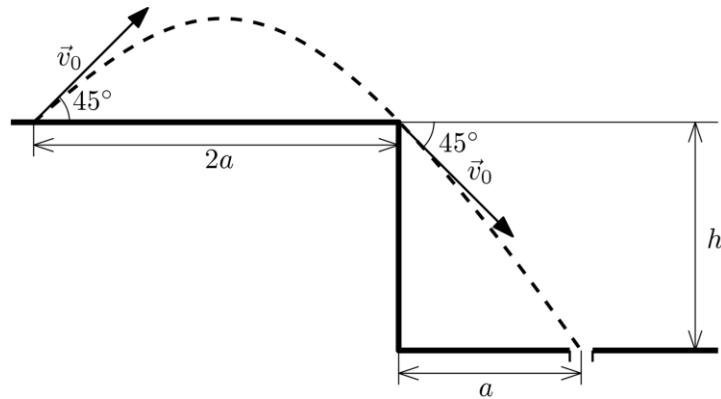
Тайгер Вудс стоит на расстоянии  $2a$  от края обрыва и хочет загнать мяч в лунку на дне (см. рис.). Ближайшая лунка, в которую он ещё может попасть, находится на расстоянии  $a$  от основания обрыва, при этом Тайгер решил направлять мяч ровно под углом  $45^\circ$  к горизонту. Определите по этим данным требуемую начальную скорость мяча, высоту обрыва и время, которое мяч проведёт в полёте.



Соппротивлением воздуха он пренебрегает, мяч принимает за материальную точку.

### Решение

Выпущенный гольфистом мяч полетит по параболической траектории, причём, чтобы мяч мог попасть в ближайшую к основанию обрыва лунку, траектория должна «касаться» обрыва, как показана на рисунке:



Дальность полёта мяча до обрыва, согласно известной кинематической формуле, равна

$$S = \frac{v_0^2 \sin 2\alpha}{g} = \frac{v_0^2 \sin 90^\circ}{g} = \frac{v_0^2}{g}.$$

Отсюда можно найти начальную скорость

$$v_0 = \sqrt{2ag}$$

Движение мяча вдоль горизонтальной оси является равномерным, с постоянной составляющей скорости  $v_0 \cos \alpha$ . Поэтому полное время движения мяча можно найти как:

$$t = \frac{3a}{v_0 \cos \alpha} = \frac{3a}{\sqrt{2ag} \cos 45^\circ} = 3 \sqrt{\frac{a}{g}}.$$

При этом время спуска мяча после обрыва:

$$t_1 = a / (v_0 \cos \alpha) = t / 3 = \sqrt{\frac{a}{g}}.$$

Используем полученное значение, чтобы найти высоту обрыва.

После того, как мяч достигнет обрыва, его скорость, в силу симметрии задачи, будет равна  $v_0$  и направлена под углом  $45^\circ$  к горизонту. Высоту обрыва можно определить, рассматривая вертикальную составляющую движения мяча:

$$h = (v_0 \sin \alpha) \cdot t_1 + \frac{gt_1^2}{2} = \sqrt{2ag} \cdot \frac{\sqrt{2}}{2} \cdot \sqrt{\frac{a}{g}} + \frac{g}{2} \left( \sqrt{\frac{a}{g}} \right)^2 = a + \frac{a}{2} = \frac{3}{2}a.$$

Критерий оценивания	Балл
Указана траектория полёта мяча, при этом указано, что траектория касается обрыва	1
Найдена начальная скорость мяча $v_0 = \sqrt{2ag}$	3
Найдено полное время полёта $t = 3 \sqrt{\frac{a}{g}}$	3
Найдена высота обрыва $\frac{3}{2}a$ .	3

### Задача 5Э. Затухающие колебания.

Декремент затухания для колебаний можно ввести как:

$$\lambda = \ln \frac{x_n}{x_{n+1}},$$

где  $x_n$  и  $x_{n+1}$  – амплитуды двух последовательных колебаний.

Коэффициент затухания можно определить по следующей формуле:

$$\beta = \frac{\lambda}{T},$$

где  $\lambda$  – декремент затухания,  $T$  – период колебания.

Изучите затухание колебаний математического маятника. Определите декремент и коэффициент затухания колебаний маятника. Постройте график изменения амплитуды колебания маятника от времени.

Проведите два эксперимента при разных длинах маятника.

**Оборудование:** нить, груз, 2 линейки, канцелярский зажим, лист миллиметровой бумаги.

#### Решение

Собираем математический маятник произвольной длины. Период колебания находим по формуле, измерив длину маятника.

$$T = 2\pi \sqrt{\frac{l}{g}}.$$

Далее проводим эксперимент, запускаем маятник с малым углом отклонения, линейкой измеряем амплитуду каждого колебания. Зная время одного колебания, можно построить график зависимости амплитуды уже не от номера колебания, а от времени. По указанным в задании формулам рассчитываем декремент и коэффициент затухания. Осталось повторить эксперимент с разными длинами подвеса маятника.

<b>Критерий оценивания</b>	<b>Балл</b>
Оговорено условие соблюдения именно малых колебаний, так как только они будут изохронны при затухании.	1
Рассчитан период колебания маятника.	1
Учтена не только длина нити, но и геометрические размеры груза (длина измерена до центра масс груза)	1
Для одной длины маятника проведено 1 измерение	0
Для одной длины маятника проведено 2 измерения	1
Для одной длины маятника проведено 3 и более измерений	3
Построен график в координатах $A(t)$ (амплитуда от времени)	1
Оценка погрешности измерения (отмечена на графике)	2
Проведены все два эксперимента с маятниками различной длины.	2
Определен декремент затухания колебаний	2
Определен коэффициент затухания колебаний	2