

Возможные решения задач

8 класс

1-й вариант

Задача 1. Проблемное взаимодействие

Пусть времена, которое ожидания в очереди сверху и снизу равны $T_{\text{низ}}$ и $T_{\text{верх}}$ соответственно. По условию скорости подъёма и спуска равны, значит равно и время, которое на них требуется. Обозначим это время за T_0 . После первой встречи Петя, за время $\frac{2}{3}T_0$ добрался до вершины, прождал в очереди время $T_{\text{верх}}$, а затем проехал до середины пути, на что ушло время $\frac{1}{2}T_0$. Вася же, спустился к подножию за время $\frac{1}{3}T_0$, подождал время $T_{\text{низ}}$ и поднялся до середины $\frac{1}{2}T_0$. Мальчики встретились посередине, поэтому

$$\frac{2}{3}T_0 + T_{\text{верх}} + \frac{1}{2}T_0 = \frac{1}{3}T_0 + T_{\text{низ}} + \frac{1}{2}T_0, \quad (1)$$

откуда

$$T_{\text{низ}} - T_{\text{верх}} = \frac{1}{3}T_0. \quad (2)$$

Обозначим за x

$$\frac{1}{2}T_0 + T_{\text{низ}} + xT_0 = \frac{1}{2}T_0 + T_{\text{верх}} + (1-x)T_0 \quad (3)$$

тогда

$$(1-2x)T_0 = T_{\text{низ}} - T_{\text{верх}} = \frac{1}{3}T_0 \Rightarrow x = \frac{1}{3}, \quad (4)$$

то есть третья встреча произойдёт там же где первая.

Ответ: третья встреча произойдёт там же, где и первая.

№	Критерий	Баллы
1	Записано условие встречи (1) или эквивалентное.	4
2	Записано условие встречи (4) или эквивалентное.	4
3	Ответ	2
Сумма		10

Комментарий: если условия встречи (1), (4) сформулированы в текстовом виде, то баллы за соответствующие пункты тоже ставятся.

Задача 2. Гантель

Заметим, что плотность цилиндра больше плотности воды, а плотность шайбы меньше. Значит, чтобы горизонтальное положение гантели было бы положением равновесия, надо привязать верёвку правее центра масс цилиндра. Обозначим расстояние от правой границы цилиндра до точки крепления за x . Тогда правило рычага относительно точки крепления имеет вид

$$\pi d R^2 (\rho_{\text{ш}} - \rho_{\text{в}}) g \cdot \left(\ell - x + \frac{d}{2} \right) + \pi \ell r^2 (\rho_{\text{ц}} - \rho_{\text{в}}) g \cdot \left(\frac{\ell}{2} - x \right) = 0 \quad (5)$$

откуда

$$x = \frac{d R^2 (\rho_{\text{ш}} - \rho_{\text{в}}) \cdot \left(\ell + \frac{d}{2} \right) + \ell r^2 (\rho_{\text{ц}} - \rho_{\text{в}}) \cdot \frac{\ell}{2}}{d R^2 (\rho_{\text{ш}} - \rho_{\text{в}}) + \ell r^2 (\rho_{\text{ц}} - \rho_{\text{в}})} \quad (6)$$

подставляя числа получим, что

$$x = \frac{-200 \text{ см}^3 \cdot 0,2 \text{ г/см}^3 \cdot 16 \text{ см} + 375 \text{ см}^3 \cdot 1 \text{ г/см}^3 \cdot 7,5 \text{ см}}{-200 \text{ см}^3 \cdot 0,2 \text{ г/см}^3 + 375 \cdot \text{см}^3 \cdot 1 \text{ г/см}^3} \approx 6,5 \text{ см} \quad (7)$$

Ответ: гантель надо закрепить на расстоянии 6,5 см от правого края.

№	Критерий	Баллы
1	Записано выражение для силы Архимеда (любая формула вида $F = \rho g V$).	1
2	Правильно найдены силы, которые действуют на цилиндр	1
3	Правильно найдены силы, которые действуют на шайбу	1
4	Записано правило рычага для системы относительно точки крепления или система из двух уравнения статики, которые содержат силу натяжения нити (по 2 балла за каждое).	4
5	Ответ 6,5 см	3
Сумма		10

Задача 3. Разрез

По условию за единицу времени через единицу поверхности пропорционально разности температур. Это значит что если площадь поверхности тела равна S за малое время Δt количество потерянного тепла равно

$$\Delta Q = \Delta t \cdot \kappa S (T - T_{\text{воздуха}}), \quad (8)$$

где T — температура тела (если время мало, можно пренебречь её изменением), $T_{\text{воздуха}}$ — температура воздуха в комнате, а κ — некоторый постоянный коэффициент. Чтобы понять как при этом изменилась температура, воспользуемся тем, что

$$\Delta Q = cm\Delta T, \quad (9)$$

где c — удельная теплоёмкость, а m масса тела. Значит изменение температуры за малое время δt равно

$$\Delta T = \frac{S}{m} \Delta t \cdot \frac{\kappa}{c} (T - T_{\text{воздуха}}). \quad (10)$$

Получается что скорость, с которой остывает тело пропорциональна отношению площади поверхности, через которую уходит тепло, к массе. Будем обозначать его $k = S/m$.

Пусть $S_{\text{осн}}$ — площадь основания конуса, а $S_{\text{бок}}$ — площадь его боковой поверхности. Если конус стоит на поверхности, то тепло уходит только через боковую поверхность, а если его подвесить, то и через основание тоже. То есть

$$\frac{S_{\text{бок}}}{m} \cdot 10 \text{ с} = \frac{S_{\text{бок}} + S_{\text{осн}}}{m} \cdot 9 \text{ с} \Rightarrow \frac{S_{\text{осн}}}{S_{\text{бок}}} = \frac{1}{9} \quad (11)$$

Левая половинка представляет из себя такой же по форме конус. Из соображений размерности объём конуса равен $V = \alpha h^3$, а площадь боковой поверхности $S_{\text{бок}} = \beta h^2$ где α и β — некоторые безразмерный коэффициенты. Высота маленького конуса в два раза меньше, значит его масса меньше в восемь раз, а объём в четыре. Тогда отношение площади поверхности через которую выходит тепло к массе равно

$$k_1 = \frac{\frac{1}{4} S_{\text{бок}}}{\frac{1}{8} m} = 2 \frac{S_{\text{бок}}}{m} \quad (12)$$

то есть половинка конуса остывает в два раза быстрее, чем целый, поэтому она остынет на 1°C за 5 с.

Теперь посмотрим на правую половинку. Теплообмен происходит через боковую поверхность и поверхность основания. Причём площадь боковой поверхности правой половинки в сумме с площадью боковой поверхности левой равна $S_{\text{бок}}$, значит площадь боковой поверхности правой равна $\frac{3}{4} S_{\text{бок}}$. Из таких же соображений, её масса равна $\frac{7}{8} m$. Площадь основания равна $\frac{1}{4} S_{\text{осн}}$. Значит

$$k_2 = \frac{\frac{3}{4} S_{\text{бок}} + \frac{1}{4} S_{\text{осн}}}{\frac{7}{8} m} \quad (13)$$

что с учётом (11) превращается в

$$k_2 = \frac{8}{7} \left(\frac{3}{4} + \frac{1}{4} \cdot \frac{1}{9} \right) \frac{S_{\text{бок}}}{m} = \frac{8}{9} \frac{S_{\text{бок}}}{m}, \quad (14)$$

значит вторая половинка остынет на 1°C за $\frac{9}{8} \cdot 10 \text{ с} = 11,3$

Ответ: левая половинка остынет за 5 с, а правая за 11,3 с.

№	Критерий	Баллы
1	Уравнение (8).	1
2	Уравнение (9).	1
3	Указано, или явно используется, что при изменении размера тела в d раз, его объём изменяется в d^3 раз.	1

4	Указано, или явно используется, что при изменении размера тела в d раз, площадь поверхности изменяется в d^2 раз.	1
5	Указано, или явно используется, что скорость остывания тела пропорциональна отношению площади его поверхности к массе.	2
6	Ответ для левой половинки 5	1
7	Ответ для правой половинки 11,3 с	3
Сумма		10

Задача 4. Поршни

На квадратный поршень площади S со стороны воды действует сила равная $F_b = pS$, где p – давление на уровне центра поршня. Чтобы поршень находился в равновесии надо удерживать его с такой же силой. Пусть F_L и F_R – силы, с которыми давят на поршни, тогда

$$F_L = p_L S_L, \quad F_R = p_R S_R \quad (15)$$

с другой стороны разность давлений равна

$$p_R - p_L = \rho g h, \quad (16)$$

а значит

$$\frac{F_L}{S_L} = \frac{F_R}{S_R} + \rho g \Delta h. \quad (17)$$

Или, эквивалентно,

$$\frac{F_L}{S_L} - \frac{F_R}{S_R} = \rho g \Delta h \quad (18)$$

Правая сторона равенства постоянна, поэтому

$$\frac{2,6 \text{ Н}}{S_L} - \frac{30 \text{ Н}}{S_R} = \frac{5,1 \text{ Н}}{S_L} - \frac{40 \text{ Н}}{S_R} \quad (19)$$

откуда

$$\frac{2,5 \text{ Н}}{S_L} = \frac{10 \text{ Н}}{S_R} \Rightarrow \frac{S_R}{S_L} = \frac{10}{2,5} = 4 \quad (20)$$

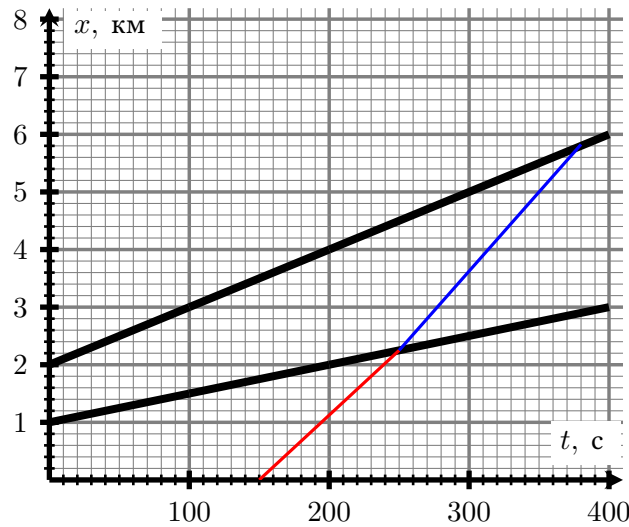
Ответ: площадь правого поршня в четыре раза больше площади левого.

№	Критерий	Баллы
1	Уравнение гидростатики в виде $\Delta p = \rho g h$	2
2	Получена связь сил, которые действуют, на левый и правый поршень уравнение (17),(18) или любое другое эквивалентное.	6
3	Ответ, 4 раза	2
Сумма		10

Комментарий: если записано уравнение гидравлического пресса без учёта силы тяжести, за второй пункт ставится 2 балла.

Задача 5. BMW

Перейдём в систему отсчёта первой машины и перестроим графики движения второго и третьего автомобиля



Видно, что оставшиеся машины движутся с постоянными скоростями. Скорость второй машины равна $v_2 = 5$ м/с, а скорость третьей $v_3 = 10$ м/с. Гонимый автомобиль меняет скорость в тот момент, когда оказывается ровно посередине между машинами. Проведем на графике пунктиром соответствующие линии. В области ниже нижней пунктирной линии, гонщик едет со скоростью $v_0 = 72$ км/ч = 20 м/с, в области между ними со скоростью $v_0 + v_2 = 25$ м/с, а в области выше верхней со скоростью $v_0 + v_3 = 30$ м/с.

Посчитаем среднюю скорость автомобиля между первым и вторым обгоном. Пусть в момент первого обгона вторая машина находилась на расстоянии S от первой. Гонимый автомобиль поменяет скорость через время Δt , которое мы можем найти исходя из того, что он находится ровно посередине между машинами

$$S + v_2 \Delta t = 2v_0 \Delta t \Rightarrow \Delta t = \frac{S}{2v_0 + v_2} \quad (21)$$

расстояние между второй машиной и гонщиком в этот момент равно

$$\Delta S = \frac{2v_0}{2v_0 + v_2} S. \quad (22)$$

Гонщик едет на v_0 быстрее второй машины, значит они встретятся через

$$\delta \tau = \frac{\Delta S}{v_0} = \frac{S}{2v_0 + v_2} \quad (23)$$

Получили, что время $\Delta t = \delta \tau$, то есть гонщик первую половину времени ехал со скоростью v_0 , а вторую половину со скоростью $v_0 + v_2$. Значит его средняя скорость между первым и вторым обгонами равна

$$v_{\text{cp},12} = \frac{v_0 + v_0 + v_2}{2} = 22,5 \text{ м/с}. \quad (24)$$

Точно такими же рассуждениями можно показать, что средняя скорость водителя между вторым и третьим обгонами равна

$$v_{\text{cp},23} = \frac{v_0 + v_2 + v_0 + v_3}{2} = 27,5 \text{ м/с}. \quad (25)$$

Проведём на графике прямую, которая отвечает движению с постоянной скоростью $v_{\text{cp},12} = 22,5$ м/с. Таким образом мы найдём моменты обгона (обгон — пересечение с графиком зависимости координаты машины от времени). Видно, что нам подходит ситуация, когда обгон первый обгон произошёл в момент времени $t_1 = 150$ с, а второй в момент времени $t_2 = 250$ с (красная прямая на графике). Проведя из точки второго обгона прямую которая соответствует скорости $v_{\text{cp},23} = 27,5$ м/с (синяя прямая) найдём время между вторым и третьим обгоном. Это время равно $\Delta t \approx 130$ с

№	Критерий	Баллы
1	Предложен любой верный способ нахождения времени	6
2	Определен момент времени первого обгона 150 с <ul style="list-style-type: none"> • 2 балла, если попадает в ворота [145 с; 155 с] • 1 балл, если попадает в ворота [140 с; 160 с] 	2
3	Ответ 128 с <ul style="list-style-type: none"> • 2 балла, если ответ попадает в ворота [123 с; 133 с] • 1 балл, если ответ попадает в ворота [118 с; 138 с] 	2
Сумма		10

Комментарий: время можно искать несколькими способами, например подбором траектории гонщика на исходном графике, подбором траектории на графике в системе отсчёта одной из машин. За правильное описание любого из методов ставится 6 баллов.

Возможные решения задач

8 класс

2-й вариант

Задача 1. Проблемное взаимодействие

Пусть времена, которое ожидания в очереди сверху и снизу равны $T_{\text{низ}}$ и $T_{\text{верх}}$ соответственно. По условию скорости подъёма и спуска равны, значит равно и время, которое на них требуется. Обозначим это время за T_0 . После первой встречи Петя, за время $\frac{3}{4}T_0$ добрался до вершины, прождал в очереди время $T_{\text{верх}}$, а затем проехал до середины пути, на что ушло время $\frac{1}{2}T_0$. Вася же, спустился к подножию за время $\frac{1}{4}T_0$, подождал время $T_{\text{низ}}$ и поднялся до середины $\frac{1}{2}T_0$. Мальчики встретились посередине, поэтому

$$\frac{3}{4}T_0 + T_{\text{верх}} + \frac{1}{2}T_0 = \frac{1}{4}T_0 + T_{\text{низ}} + \frac{1}{2}T_0, \quad (1)$$

откуда

$$T_{\text{низ}} - T_{\text{верх}} = \frac{1}{4}T_0. \quad (2)$$

Обозначим за x

$$\frac{1}{2}T_0 + T_{\text{низ}} + xT_0 = \frac{1}{2}T_0 + T_{\text{верх}} + (1-x)T_0 \quad (3)$$

тогда

$$(1-2x)T_0 = T_{\text{низ}} - T_{\text{верх}} = \frac{1}{4}T_0 \Rightarrow x = \frac{1}{4}, \quad (4)$$

то есть третья встреча произойдёт там же где первая.

Ответ: третья встреча произойдёт там же, где и первая.

№	Критерий	Баллы
1	Записано условие встречи (1) или эквивалентное.	4
2	Записано условие встречи (4) или эквивалентное.	4
3	Ответ	2
Сумма		10

Комментарий: если условия встречи (1), (4) сформулированы в текстовом виде, то баллы за соответствующие пункты тоже ставятся.

Задача 2. Гантель

Заметим, что плотность цилиндра больше плотности воды, а плотность шайбы меньше. Значит, чтобы горизонтальное положение гантели было бы положением равновесия, надо привязать верёвку правее центра масс цилиндра. Обозначим расстояние от правой границы цилиндра до точки крепления за x . Тогда правило рычага относительно точки крепления имеет вид

$$\pi dR^2(\rho_{\text{ш}} - \rho_{\text{в}})g \cdot \left(\ell - x + \frac{d}{2}\right) + \pi \ell r^2(\rho_{\text{ц}} - \rho_{\text{в}})g \cdot \left(\frac{\ell}{2} - x\right) = 0 \quad (5)$$

откуда

$$x = \frac{dR^2(\rho_{\text{ш}} - \rho_{\text{в}}) \cdot \left(\ell + \frac{d}{2}\right) + \ell r^2(\rho_{\text{ц}} - \rho_{\text{в}}) \cdot \frac{\ell}{2}}{dR^2(\rho_{\text{ш}} - \rho_{\text{в}}) + \ell r^2(\rho_{\text{ц}} - \rho_{\text{в}})} \quad (6)$$

подставляя числа получим, что

$$x = \frac{-288 \text{ см}^3 \cdot 0,2 \text{ г/см}^3 \cdot 16 \text{ см} + 240 \text{ см}^3 \cdot 1 \text{ г/см}^3 \cdot 7,5 \text{ см}}{-288 \text{ см}^3 \cdot 0,2 \text{ г/см}^3 + 240 \cdot \text{см}^3 \cdot 1 \text{ г/см}^3} \approx 4,8 \text{ см} \quad (7)$$

Ответ: гантель надо закрепить на расстоянии 4,8 см от правого края.

№	Критерий	Баллы
1	Записано выражение для силы Архимеда (любая формула вида $F = \rho g V$).	1
2	Правильно найдены силы, которые действуют на цилиндр	1
3	Правильно найдены силы, которые действуют на шайбу	1
4	Записано правило рычага для системы относительно точки крепления или система из двух уравнения статики, которые содержат силу натяжения нити (по 2 балла за каждое).	4
5	Ответ 4,8 см	3
Сумма		10

Задача 3. Разрез

По условию за единицу времени через единицу поверхности пропорционально разности температур. Это значит что если площадь поверхности тела равна S за малое время Δt количество потерянного тепла равно

$$\Delta Q = \Delta t \cdot \kappa S (T - T_{\text{воздуха}}), \quad (8)$$

где T — температура тела (если время мало, можно пренебречь её изменением), $T_{\text{воздуха}}$ — температура воздуха в комнате, а κ — некоторый постоянный коэффициент. Чтобы понять как при этом изменилась температура, воспользуемся тем, что

$$\Delta Q = cm\Delta T, \quad (9)$$

где c — удельная теплоёмкость, а m масса тела. Значит изменение температуры за малое время δt равно

$$\Delta T = \frac{S}{m} \Delta t \cdot \frac{\kappa}{c} (T - T_{\text{воздуха}}). \quad (10)$$

Получается что скорость, с которой остывает тело пропорциональна отношению площади поверхности, через которую уходит тепло, к массе. Будем обозначать его $k = S/m$.

Пусть $S_{\text{осн}}$ — площадь основания конуса, а $S_{\text{бок}}$ — площадь его боковой поверхности. Если конус стоит на поверхности, то тепло уходит только через боковую поверхность, а если его подвесить, то и через основание тоже. То есть

$$\frac{S_{\text{бок}}}{m} \cdot 10 \text{ с} = \frac{S_{\text{бок}} + S_{\text{осн}}}{m} \cdot 9 \text{ с} \Rightarrow \frac{S_{\text{осн}}}{S_{\text{бок}}} = \frac{1}{9} \quad (11)$$

Левая половинка представляет из себя такой же по форме конус. Из соображений размерности объём конуса равен $V = \alpha h^3$, а площадь боковой поверхности $S_{\text{бок}} = \beta h^2$ где α и β — некоторые безразмерный коэффициенты. Высота маленького конуса в два раза меньше, значит его масса меньше в восемь раз, а объём в четыре. Тогда отношение площади поверхности через которую выходит тепло к массе равно

$$k_1 = \frac{\frac{1}{4} S_{\text{бок}}}{\frac{1}{8} m} = 2 \frac{S_{\text{бок}}}{m} \quad (12)$$

то есть половинка конуса остывает в два раза быстрее, чем целый, поэтому она остынет на 1°C за 5 с.

Теперь посмотрим на правую половинку. Теплообмен происходит через боковую поверхность и поверхность основания. Причём площадь боковой поверхности правой половинки в сумме с площадью боковой поверхности левой равна $S_{\text{бок}}$, значит площадь боковой поверхности правой равна $\frac{3}{4} S_{\text{бок}}$. Из таких же соображений, её масса равна $\frac{7}{8} m$. Площадь основания равна $S_{\text{осн}}$. Значит

$$k_2 = \frac{\frac{3}{4} S_{\text{бок}} + S_{\text{осн}}}{\frac{7}{8} m} \quad (13)$$

что с учётом (11) превращается в

$$k_2 = \frac{8}{7} \left(\frac{3}{4} + \frac{1}{9} \right) \frac{S_{\text{бок}}}{m} = \frac{62}{63} \frac{S_{\text{бок}}}{m}, \quad (14)$$

значит вторая половинка остынет на 1°C за $\frac{63}{62} \cdot 10 \text{ с} = 10,2$

Ответ: левая половинка остынет за 5 с, а правая за 10,2 с.

№	Критерий	Баллы
1	Уравнение (8).	1
2	Уравнение (9).	1
3	Указано, или явно используется, что при изменении размера тела в d раз, его объём изменяется в d^3 раз.	1

4	Указано, или явно используется, что при изменении размера тела в d раз, площадь поверхности изменяется в d^2 раз.	1
5	Указано, или явно используется, что скорость остывания тела пропорциональна отношению площади его поверхности к массе.	2
6	Ответ для левой половинки 5	1
7	Ответ для правой половинки 10,2 с	3
Сумма		10

Задача 4. Поршни

На квадратный поршень площади S со стороны воды действует сила равная $F_b = pS$, где p – давление на уровне центра поршня. Чтобы поршень находился в равновесии надо удерживать его с такой же силой. Пусть F_L и F_R – силы, с которыми давят на поршни, тогда

$$F_L = p_L S_L, \quad F_R = p_R S_R \quad (15)$$

с другой стороны разность давлений равна

$$p_R - p_L = \rho g h, \quad (16)$$

а значит

$$\frac{F_L}{S_L} = \frac{F_R}{S_R} + \rho g \Delta h. \quad (17)$$

Или, эквивалентно,

$$\frac{F_L}{S_L} - \frac{F_R}{S_R} = \rho g \Delta h \quad (18)$$

Правая сторона равенства постоянна, поэтому

$$\frac{1 \text{ Н}}{S_L} - \frac{18 \text{ Н}}{S_R} = \frac{5 \text{ Н}}{S_L} - \frac{54 \text{ Н}}{S_R} \quad (19)$$

откуда

$$\frac{4 \text{ Н}}{S_L} = \frac{36 \text{ Н}}{S_R} \Rightarrow \frac{S_R}{S_L} = \frac{36}{4} = 9 \quad (20)$$

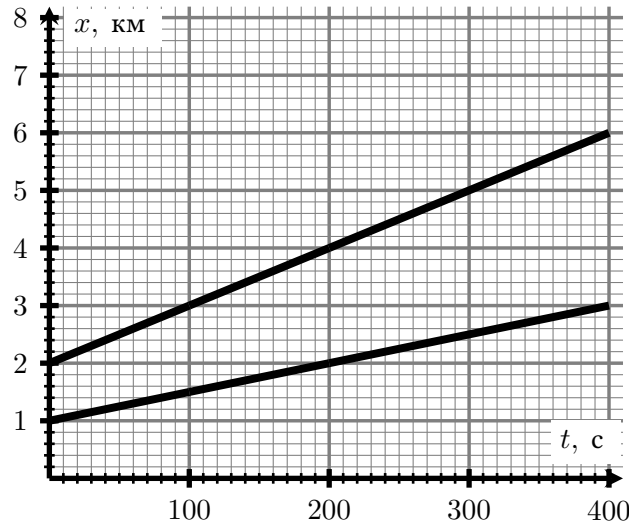
Ответ: площадь правого поршня в девять раз больше площади левого.

№	Критерий	Баллы
1	Уравнение гидростатики в виде $\Delta p = \rho g h$	2
2	Получена связь сил, которые действуют, на левый и правый поршень уравнение (17),(18) или любое другое эквивалентное.	6
3	Ответ, 9 раз	2
Сумма		10

Комментарий: если записано уравнение гидравлического пресса без учёта силы тяжести, за второй пункт ставится 2 балла.

Задача 5. BMW

Перейдём в систему отсчёта первой машины и перестроим графики движения второго и третьего автомобиля



Видно, что оставшиеся машины двигаются с постоянными скоростями. Скорость второй машины равна $v_2 = 5$ м/с, а скорость третьей $v_3 = 10$ м/с. Гоночный автомобиль меняет скорость в тот момент, когда оказывается ровно посередине между машинами. Проведем на графике пунктиром соответствующие линии. В области ниже нижней пунктирной линии, гонщик едет со скоростью $v_0 = 72$ км/ч = 20 м/с, в области между ними со скоростью $v_0 + v_2 = 25$ м/с, а в области выше верхней со скоростью $v_0 + v_3 = 30$ м/с.

Посчитаем среднюю скорость автомобиля между первым и вторым обгоном. Пусть в момент первого обгона вторая машина находилась на расстоянии S от первой. Гоночный автомобиль поменяет скорость через время Δt , которое мы можем найти исходя из того, что он находится ровно посередине между машинами

$$S + v_2 \Delta t = 2v_0 \Delta t \Rightarrow \Delta t = \frac{S}{2v_0 + v_2} \quad (21)$$

расстояние между второй машиной и гонщиком в этот момент равно

$$\Delta S = \frac{2v_0}{2v_0 + v_2} S. \quad (22)$$

Гонщик едет на v_0 быстрее второй машины, значит они встретятся через

$$\delta \tau = \frac{\Delta S}{v_0} = \frac{S}{2v_0 + v_2} \quad (23)$$

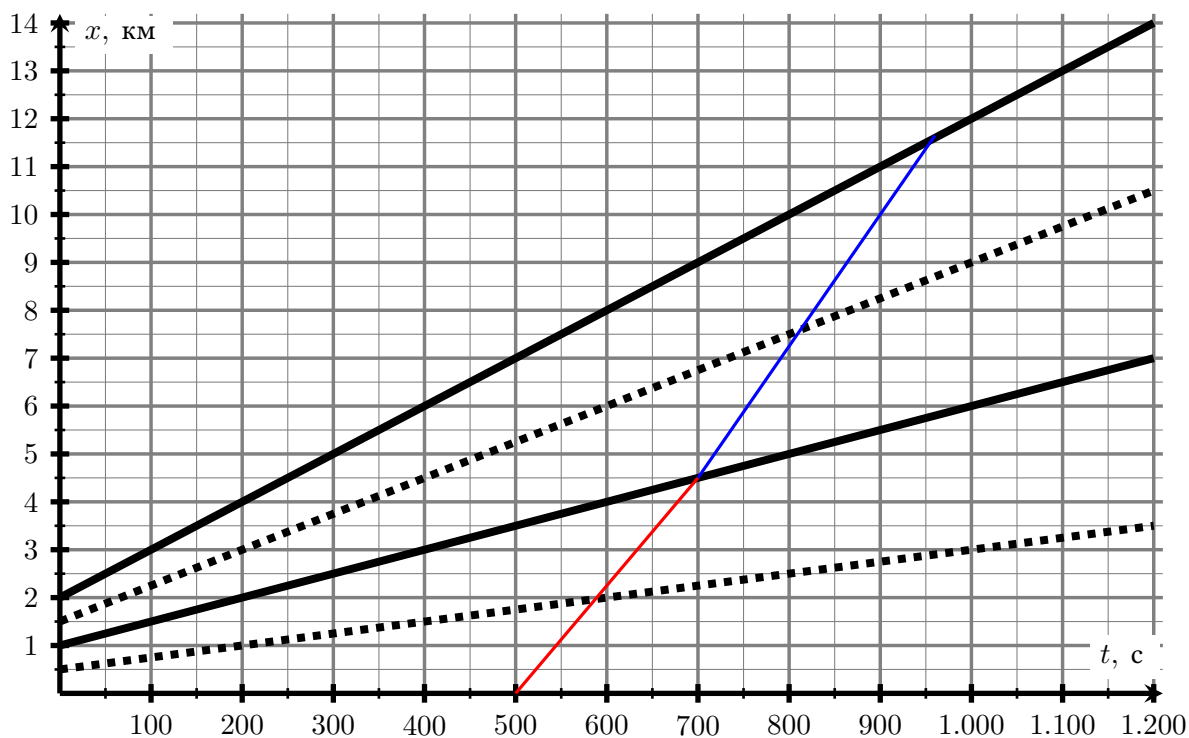
Получили, что время $\Delta t = \delta \tau$, то есть гонщик первую половину времени ехал со скоростью v_0 , а вторую половину со скоростью $v_0 + v_2$. Значит его средняя скорость между первым и вторым обгонами равна

$$v_{\text{cp},12} = \frac{v_0 + v_0 + v_2}{2} = 22,5 \text{ м/с}. \quad (24)$$

Точно такими же рассуждениями можно показать, что средняя скорость водителя между вторым и третьим обгонами равна

$$v_{\text{cp},23} = \frac{v_0 + v_2 + v_0 + v_3}{2} = 27,5 \text{ м/с}. \quad (25)$$

Проведём на графике прямую, которая отвечает движению с постоянной скоростью $v_{\text{cp},12} = 22,5$ м/с. Таким образом мы найдём моменты обгона (обгон – пересечение с графиком зависимости координаты машины от времени). Несложно убедиться, что какое бы график для гонщика мы не строили, время между первым и вторым обгонами оказывается меньше 200 с. Поэтому продлим график (по условию машины продолжают двигаться с постоянными скоростями)



Видно, что нам подходит ситуация, когда обгон первый обгон произошёл в момент времени $t_1 = 500$ с, а второй в момент времени $t_2 = 700$ с (красная прямая на графике). Проведя из точки второго обгона прямую которая соответствует скорости $v_{cp,23} = 27,5$ м/с (синяя прямая) найдём время между вторым и третьим обгоном. Это время равно $\Delta t \approx 257$ с

№	Критерий	Баллы
1	Предложен любой верный способ нахождения времени	6
2	Определен момент времени первого обгона 500 с <ul style="list-style-type: none"> • 2 балла, если попадает в ворота [480 с; 520 с] • 1 балл, если попадает в ворота [460 с; 540 с] 	2
3	Ответ 257 с <ul style="list-style-type: none"> • 2 балла, если ответ попадает в ворота [252 с; 262 с] • 1 балл, если ответ попадает в ворота [247 с; 267 с] 	2
Сумма		10

Комментарий: время можно искать несколькими способами, например подбором траектории гонщика на исходном графике, подбором траектории на графике в системе отсчёта одной из машин. За правильное описание любого из методов ставится 6 баллов.