

Олимпиада школьников по географии
Ответы к заданиям тестового и теоретического туров
муниципального этапа
для 7 класса в 2017/2018 учебном году

Ответы к тестовому заданию для 7 класса – максимально 30 баллов		
№ Вопроса	Вариант ответа	Кол-во баллов
1.	а) Ф. Беллинсгаузен	1,5
2.	г) Страбон	1,0
3	а) гипс	1,5
4.	а) Прикаспийская низменность	1,5
5.	а) Гольфстрим	0,5
	в) Норвежское	0,5
6.	б) сухой	0,5
	в) морозный	0,5
	г) с высоким атмосферным давлением	0,5
7.	а) о. Сахалин	1,0
	г) Приморье	1,0
8.	б) Волга	0,5
	в) Урал	0,5
	г) Терек	0,5
9.	а) Сахалин	1,0
	б) Мальта	1,0
	в) Родос	1,0
10.	в) Новая Англия	1,0
11.	а) подзолистые	0,5
12.	а) Сибирская	1,0
13.	а) Антарктида	1,0
14.	а-1	1,0
	б-3	1,0
	в-4	1,0
	г-2	1,0
15.	д) сельва - Бразилия	0,5
	е) пампа - Аргентина	0,5
	ж) скрэб - Австралия	0,5
16.	б) США	1,5
	г) Швеция	1,5
17.	Господство экваториальных муссонов	1,0
18.	Степь	1,0
19.	А. Гумбольдт	0,5
20.	скрэб	1,0

Теоретический тур (максимально -70 баллов)

Ответы к теоретическому туру 7 класса

Задание 7.1. Максимальное количество баллов – 8.

Вопрос	Правильный ответ	Количество баллов
<p>На основании описания некоторых фактов из жизни путешественника и карты его путешествий определите его имя.</p> <p>1. Этот путешественник родился в семье венецианского купца, семейство которого занималось торговлей ювелирными изделиями и пряностями.</p> <p>2. Своё первое путешествие он совершил вместе с отцом в Иерусалим в 1271 году. После этого его отец направил свои корабли в Китай, к хану Хубилаю, при дворе которого семейство прожило 15 лет.</p> <p>4. Этот путешественник является автором известной «Книги о разнообразии мира», о которой споры не утихают до сих пор: многие подвергают сомнению достоверность описанных в ней фактов. Тем не менее - эта книга стала бесценным источником по этнографии, географии и истории Ирана, Армении, Китая, Индии, Монголии, Индонезии в средние века.</p>	Марко Поло	8 баллов

Задание 7.2. Максимальное количество баллов – 12.

Таблица 7.2

Вопрос	Ответы	Кол-во баллов
Установите соответствие между понятием и его определением, заполните таблицу.	1-в	3
	2-г	3
	3-б	3
	4-а	3

Задание 7.3. Максимальное количество баллов – 10.



Таблица 7.3



Вопрос	Ответ	Кол-во баллов
Ознакомьтесь с картой, изображенной ниже, и выполните следующие задания:		
а). Определите по карте расстояние на местности по прямой от точки А до пристани, расположенной на левом берегу реки Зорька. Полученный результат округлите до десятков метров. Ответ запишите цифрами.	а). 670/680/690	3
б). Определите по карте азимут, по которому надо идти от точки В до отметки 181.0, расположенной у поселка Конное. Ответ запишите цифрами.	б). 20/21/22	2
в). Оцените в пределах, какого из участков, обозначенных на карте цифрами 1, 2 и 3 , можно	1). Назван участок 1 . 2). В ответе указывается, что участок 1	

построить ветряную мельницу. Для обоснования своего ответа приведите не менее двух доводов.	расположен на возвышенности или участок 3 расположен ниже. 3). Участок 2 находится в болоте.	
	Ответ	Количество баллов
	Ответ включает все три названных выше элемента	3
	Ответ включает два (1-й и 2-й или 1-й и 3-й) из названных выше элементов	2
	Ответ включает один из названных выше элементов или все выше перечисленные отсутствуют	0

Задание 7.4. Максимальное количество баллов – 16 .

Таблица 7.4

Вопрос	Название животного	Геологическая эра
По изображенным на фотографиях представителям фауны, определите геологическую эру, для которой этот вид был наиболее характерен и его название (при ответе на вопросы заполните таблицу).	(8 баллов – полный правильный ответ)	(8 баллов - полный правильный ответ)
	Шерстистый носорог (за ответ – 2 балла)	Кайнозой (за ответ – 2 балла)
	Диплодок (за ответ – 2 балла)	Мезозой (за ответ – 2 балла)

	<p>Трилобиты</p> <p>(за ответ – 2 балла)</p>	<p>Палеозой</p> <p>(за ответ – 2 балла)</p>
	<p>Бронтотерий</p> <p>(за ответ – 2 балла)</p>	<p>Кайнозой</p> <p>за ответ – 2 балла)</p>

Задание 7.5. Максимальное количество баллов – 24.

Таблица 7.5

Вопрос	Ответ		Кол-во баллов
<p>По фотографиям, представленным ниже, определите достопримечательности Красноярского края. Когда и кем они созданы, что символизируют и где располагаются (заполните таблицу)?</p>	<p>Достопримечательность</p>	<p>Когда и кем они созданы, что символизируют и где располагаются?</p>	
	<p>1. Смотровая площадка с «Царь-рыбой»</p>	<p>А). Смотровая площадка была обустроена в 70-е годы 20 века. Является одним из любимых мест, как местных жителей, так и посетителей города. Это место возвышается на высоте 200 м и открывает вид на р. Енисей.</p> <p>В). В центре площадки в 2004 году установили памятник «Царь-рыбе». Он сделан из металла, высотой 4 метра, вес – 300 килограмм. Это енисейский осетр, который ранее был распространен в реке Енисей. Этой рыбе посвящён один из самых знаменитых рассказов Виктора Петровича Астафьева - «Царь-Рыба». Автор проекта скульптурной композиции — красноярский предприниматель Евгений Пащенко.</p> <p>С). Смотровая площадка с Царь-рыбой располагается в 21, 6 км от центра г. Красноярска по дороге в сторону г. Дивногорска на Слизневском утесе.</p>	<p>А). -3 В).-3 С). -3</p>
		<p>А). В августе 2007 года открыт</p>	<p>А). -2</p>

	<p>2. Мемориальный комплекс Николаю Петровичу Рязанову</p>	<p>мемориальный комплекс Н.П. Рязанову, одному из руководителей первого русского кругосветного плавания. Первому официальному послу России в Японии, составителю одного из первых русско-японских словарей. Мемориальный комплекс включает включающий в себя памятник и кенотаф. Это событие приурочили к 200-летию первой русской кругосветной экспедиции, в которой Н.П. Рязанов участвовал в качестве одного из руководителей и посла.</p> <p>В). Автором мемориального комплекса является красноярский скульптор Константин Зинич.</p> <p>С). Мемориальный комплекс располагается на пр. Мира.</p>	<p>В).-2 С).-2</p>
	<p>3. «Триумфальная арка»</p>	<p>А). 5 сентября 2003 года состоялось торжественное открытие Триумфальной арки "В честь 375-летия Красноярска" или "375 лет созидания и развития".</p> <p>В). Проект создан заслуженным российским архитектором Владимиром Ульяновым.</p> <p>С). Арка находится в центре г. Красноярска на площади Мира около Большого концертного зала. Часто местные жители называют арку историческими вратами города, поскольку она располагается на том месте, где вероятней всего впервые высадились казаки на берег реки Енисей и считается местом острога – первого крепостного сооружения, с которого начался город Красноярск в 1628 г.</p>	<p>А). -3 В). -3 С). -3</p>