

_____	Ш И Ф Р
<i>Не заполнять!!!</i>	

**Всероссийская олимпиада школьников по географии
2017/2018 учебного года
Муниципальный этап**

_____	Ш И Ф Р
<i>Не заполнять!!!</i>	

Задания для 10-11-х классов

ТЕОРЕТИЧЕСКИЙ ТУР

1. Теоретический тур					ИТОГО <i>(за все задания тура)</i>
Зад. 1	Зад. 2	Зад. 3	Зад. 4	Зад. 5	
<div style="display: flex; justify-content: space-between; width: 80%; margin: 0 auto;"> _____ / _____ </div> <div style="display: flex; justify-content: space-between; width: 80%; margin: 0 auto; font-size: 0.8em;"> <i>Подписи проверяющих</i> <i>расшифровка</i> </div>					

заполняет учащийся (разборчиво)

ФИ учащегося (полностью разборчиво)	<div style="border-bottom: 1px solid black; height: 15px; margin-bottom: 5px;"></div> <div style="border-bottom: 1px solid black; height: 15px; margin-bottom: 5px;"></div>
Общеобразова- тельное учрежде- ние (полностью)	<div style="border-bottom: 1px solid black; height: 15px; margin-bottom: 5px;"></div> <div style="border-bottom: 1px solid black; height: 15px; margin-bottom: 5px;"></div>
Класс	<div style="border-bottom: 1px solid black; height: 15px; margin-bottom: 5px;"></div>
ФИО учителя (полностью)	<div style="border-bottom: 1px solid black; height: 15px; margin-bottom: 5px;"></div> <div style="border-bottom: 1px solid black; height: 15px; margin-bottom: 5px;"></div>
Населенный пункт, Район РБ	<div style="border-bottom: 1px solid black; height: 15px; margin-bottom: 5px;"></div> <div style="border-bottom: 1px solid black; height: 15px; margin-bottom: 5px;"></div>

Перед выполнением заданий
внимательно прочтите инструкцию:

- на выполнение всех заданий отводится **90 минут**
- листы с ответами не подписывать
- использование любых справочных материалов, средств связи, электронных устройств **НЕ** допускается
- для ответов можно использовать простой калькулятор
- при решении заданий ответ вписываете в столбик «*Ответы*», при этом столбик «*Балл*» **НЕ** заполнять (заполняет член жюри)
- сумма баллов за все задания – 50 баллов
- **ПРОВЕРЬТЕ!!!** Комплект заданий состоит из **3 листов** (5 страниц)

На обороте ТИТУЛА ничего НЕ РАСПЕЧАТЫВАТЬ!!!

1. ТЕОРЕТИЧЕСКИЙ ТУР

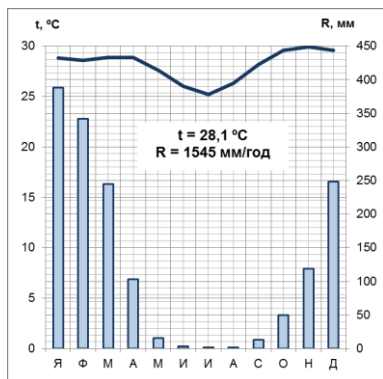
Задание 1. В распределении, взаимном соотношении и очертаниях воды и суши на Земле можно отметить ряд особенностей. Характерной особенностью является асимметрия структуры. Другая особенность заключается в антиподальности, т.е. противостоящем расположении океанических и материковых пространств. Однако существующие особенности распределения воды и суши на земной поверхности нельзя считать случайными.

Ответьте на вопросы, заполнив нижеприведенную таблицу:

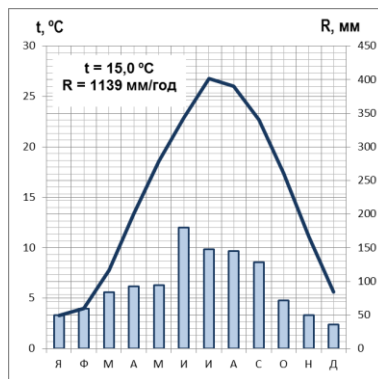
Вопросы	Ответы на задание 1	Балл
1. Назовите основную неравномерность земной поверхности?		
2. Каково соотношение (%) материковой и океанической поверхности?		
3. Объясните закономерность распределения материков и океанов?		

Вопросы	Ответы на задание 1	Балл
4. В чем заключается особенность земной поверхности – наличие «материковых лучей»?		
5. Приведите не менее трех примеров антиподальности материков и океанов?		
Сумма баллов		

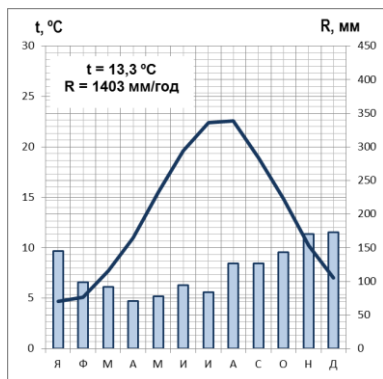
Задание 2. Ниже приведены четыре климатограммы (А, Б, В, Г). Три из них объединяет один «общий» тип климата. Одна климатограмма в этой группе «лишняя».



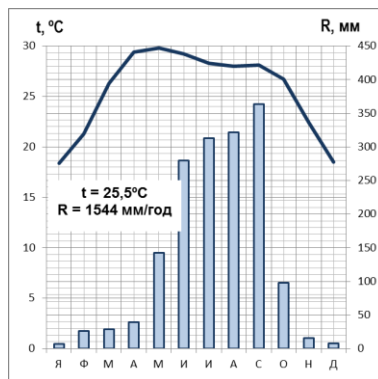
А



Б



В



Г

Ответьте на вопросы, заполнив нижеприведенную таблицу:

Вопросы	Ответы на задание 2	Балл
1. К какому типу климата относятся три климатограммы с одинаковым «общим» типом климата?		

Вопросы	Ответы на задание 2	Балл
2. Какая из климатограмм «лишняя»?		
3. К каким климатическим поясам и какому полушарию относятся климатограммы?	А - Б - В - Г -	
4. Какова причина формирования «общего» типа климата?		
5. Почему для южного полушария данный «общий» тип климата НЕ наблюдается южнее 20° ю.ш.?		
Сумма баллов		

Задание 3. Границей между этими морями считается линия, проведённая от мыса одного полуострова до мыса другого полуострова. Одно из морей окраинное, а второе – внутреннее. Средняя глубина первого в 2-3 раза больше второго, а площадь больше в 15 раз. Первое море расположено значительно севернее второго, зимой его юго-западная часть не замерзает. Второе с ноября по май покрыто дрейфующими льдами, а в бухтах и у берегов замерзает совсем.

Ответьте на вопросы, заполнив нижеприведенную таблицу:

Вопросы	Ответы на задание 3	Балл
1. Назовите эти моря.		
2. Назовите эти полуострова?		
3. Почему юго-западная часть первого моря не замерзает?		
4. К бассейну какого океана они относятся?		
	Сумма баллов	

Задание 4. Особое значение для формирования единой железнодорожной сети России, заселения и освоения юга Сибири и Дальнего Востока имело строительство магистральных железных дорог.

Ответьте на вопросы, заполнив нижеприведенную таблицу:

Вопросы	Ответы на задание 4	Балл
1. Назовите эти две наиболее протяженные железнодорожные магистрали, которые имеют выход к портам Дальнего Востока.		
2. Назовите длину самой грузонапряженной железной дороги России.		
3. Перечислите, через какие крупные города проходит самая длинная в мире ж/д магистраль.		
4. Назовите крупные морские порты, которые являются главными перевалочными пунктами ж/д грузов.		
5. Какие массовые грузы перевозят по этим магистралям?		

Вопросы	Ответы на задание 4	Балл
6. Какое место занимает железнодорожный транспорт по грузообороту среди других видов транспорта?		
7. Дайте определение, что такое грузооборот.		
8. Как называется строящаяся ж-д магистраль до города Якутск? Через какие центры будет проходить?		
Сумма баллов		

Задание 5. Эта страна выделяется среди других стран материка разнообразными природными условиями и ресурсами, историей заселения, составом современного населения и высокой степенью развития современного хозяйства. А разнообразный рельеф (горы, возвышенные равнины, котловины) и климатические различия (от влажных и сухих субтропиков до тропических пустынь) способствуют формированию разных ландшафтов.

Большая часть населения страны – представители коренных народов материка, а потомки переселенцев из Европы составляют около 20% жителей.

Ответьте на вопросы, заполнив нижеприведенную таблицу:

Вопросы	Ответы на задание 5	Балл
1. О какой стране идет речь?		
2. Назовите коренных жителей материка, которые составляют большую часть населения страны.		
3. Назовите основные промышленные производства, развитые в данной стране.		
4. Какая продукция животноводства данной страны поставляется на мировой рынок?		
5. Назовите официальную и «экономическую» столицы данной страны.		
Сумма баллов		