

География, 7 класс, муниципальный этап
Время выполнения – 2 часа

Часть I. Тестовый раунд
(37 баллов)

«Афоризмы на уроках географии»

1. «Зеленым адом» иногда называют...
 - А) тайгу
 - Б) смешанные леса
 - В) саванны
 - Г) влажный экваториальный лес
 - Д) мангровые заросли
2. Эту реку поэтично называют «душой Мьянмы»...
 - А) Ганг
 - Б) Иравади
 - В) Пай
 - Г) Меконг
 - Д) Янгон
3. «... - окна в недра земли»
 - А) озера
 - Б) пещеры
 - В) океаны
 - Г) вулканы
 - Д) скважины

«Ландшафтная» география

4. Территорию, которую вы видите на фотографиях, называют самым большим болотом в мире. Как оно называется. Ответ запишите.



5. Это уникальное место на планете природный и культурный объект Всемирного наследия ЮНЕСКО называют Памукалле «хлопковый замок». Какими горными породами сложен этот объект?

- А) доломит
- Б) мрамор
- В) травертин
- Г) гранит
- Д) кварц



6. Соотнесите природную зону и преобладающий тип почвы.



- А) подзолистые
- Б) серые лесные
- В) черноземы
- Г) тундрово-глеевые
- Д) красно-бурые

«Именная» география

7. Индейцы называют Анды...

- А) Медными горами
- Б) Серебряными горами
- В) Золотыми горами
- Г) Железными горами

8. С именем, какого исследователя связано открытие водопадов в нижнем течении реки Конго.

- А) Д. Ливингстон
- Б) Н.Н. Миклухо-Маклай
- В) Г.М. Стэнли
- Г) П.С. Лаплас

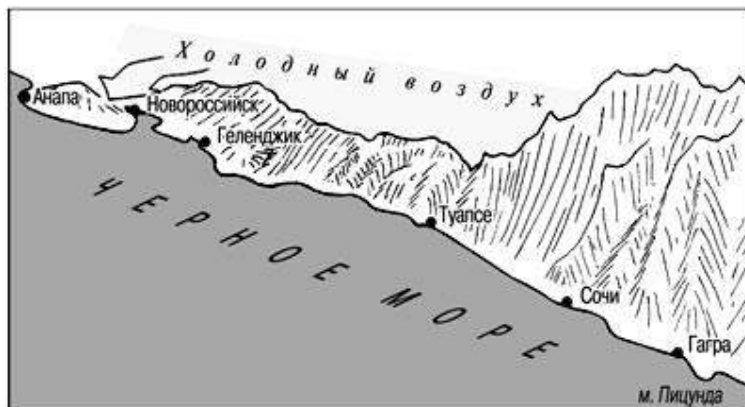
9. Город на востоке европейской части России, административный центр крупного субъекта РФ в 1940 – 1957 годах назывался Молотов.

- А) Ижевск
- Б) Набережные Челны
- В) Уфа
- Г) Пермь

«Начальная» география

10. Определите, о каком ветре идет речь. Ответ запишите.

Новороссийск находится на самом севере субтропической зоны, и там зимой бывают иногда значительные понижения температуры (до -24°), потому что в этом месте горы низкие, с северной их стороны временами скапливается холодный воздух и обрушивается на город сильным и холодным ветром. При этом стены домов, деревья, столбы, корабли, стоящие в порту, покрываются льдом.



11. Что называют «уровнем 365»

- А) высокое атмосферное давление
- Б) предельную глубину водоема
- В) минимальную глубину водоема
- Г) снеговую линию

12. Среди терминов характеризующих размерность атмосферного давления есть один не имеющий отношения к теме. Найдите это исключение.

- А) паскаль
- Б) килограмм-сила
- В) бар
- Г) килограмм
- Д) барическая ступень
- Е) миллиметр ртутного столба
- Ж) метр водяного столба
- З) атмосфера техническая

«Юбилейная» география

13. А.С. Пушкин 185 лет назад написал свое знаменитое стихотворение «Анчар». Такое дерево действительно произрастает на островах Малайского архипелага Анчар ядовитый (Антиарис Токсикария – *Antiaris toxicaria*). Укажите ядовитые растения, распространенные в нашей зоне.

*В пустыне чахлой и скупой,
На почве, зноем раскаленной,
Анчар, как грозный часовой,
Стоит — один во всей вселенной.*

*Природа жаждающих степей
Его в день гнева породила,
И зелень мертвую ветвей
И корни ядом напоила...* А. С. Пушкин

- А) Ландыш
- Б) Паслен
- В) Рогоз
- Г) Копытень
- Д) Наперстянка
- Е) Василек
- Ж) Вороний глаз
- З) Жимолость татарская

14. 100 лет назад (1917 г.) Николай II подписал отречение от престола. Россия перестала быть монархией. Из предложенного списка выберите страны с монархической формой правления.


- А) Канада
- Б) Германия
- В) Норвегия
- Г) Франция
- Д) Ватикан
- Е) Бразилия
- Ж) Саудовская Аравия
- З) Финляндия

15. Установите соответствие между городом входящим в состав Золотого кольца России и его гербом.

1



2



3



4



5



6



7



8



- А) Владимир
- Б) Суздаль
- В) Ростов Великий
- Г) Ярославль
- Д) Иваново
- Е) Кострома
- Ж) Переславль Залесский
- З) Сергиев Посад

Часть II. Аналитический раунд
(63 балла)

Задача № 1. «В дальние дали» (12 баллов)

В начале 15 века в голове одного гениального человека, обладавшего редкой настойчивостью и смелостью все разрозненные отрывочные мысли и данные привезенные путешественниками из своих странствий соединились в стройное целое. Этот уникальный человек родился между 1430 и 1445 г.г. близ Генуи. В перерывах между морскими путешествиями жил в Португалии, занимался составлением морских карт. Вел переписку с известными учеными Мартином Бехаймом и Паоло Тосканелли. По приказанию испанских католических королей совершил свои удивительные открытия.



Ответьте на следующие вопросы:

- 1. назовите имя этого путешественника;***
- 2. укажите точную транслитерацию его имени с испанского;***
- 3. сколько путешествий он совершил;***
- 4. в каком году были совершены эти путешествия;***
- 5. как назывались суда, на которых было совершено первое путешествие;***
- 6. куда направлялся путешественник;***
- 7. какие открытия он совершил;***
- 8. назовите объекты, названные именем этого путешественника.***

Задача № 2. «Путешествия по карте...» (10 баллов)

Укажите следующие характеристики земной суши:

1. Перечислите все части света.
2. Перечислите все материки.
3. Самый сухой материк.
4. Самый жаркий материк.
5. Самый большой по территории материк.
6. Самый влажный материк.
7. Самый холодный материк.
8. Материк, на котором расположена высочайшая горная вершина. Назовите ее (в т.ч. и местные названия), укажите абсолютную высоту.
9. Материк, на котором расположена самая низкая точка на суше. Назовите ее, укажите высоту относительно уровня моря.
10. Назовите город – миллионер, расположенный на тропике Козерога.

Задача № 3. «Географический обед ...» (17 баллов)

Растениеводство возникло одновременно в Старом и Новом свете, Процесс одомашнивания первоначально происходил независимо в географически обособленных областях земного шара на всех пяти континентах и, конечно, на видах окружающей флоры. Давайте проанализируем среднестатистический обед с географической точки зрения.

Сегодня в меню:

- *Щи из свежей капусты (капуста белокочанная, картофель, морковь, лук репчатый, лавровый лист, черный перец).*
- *Салат из сезонных овощей (томаты, огурцы, чеснок, укроп, петрушка).*
- *Кофе.*

1. **Назовите имена исследователей, на основе идей которых сформировалось учение о центрах происхождения культурных растений.**
2. **Определите, где расположена родина перечисленных в меню овощных ингредиентов блюд.**
3. **Определите, какой съедобный минерал обычно используют при приготовлении блюд.**

Задача № 4. «Течет река Волга...» (12 баллов)

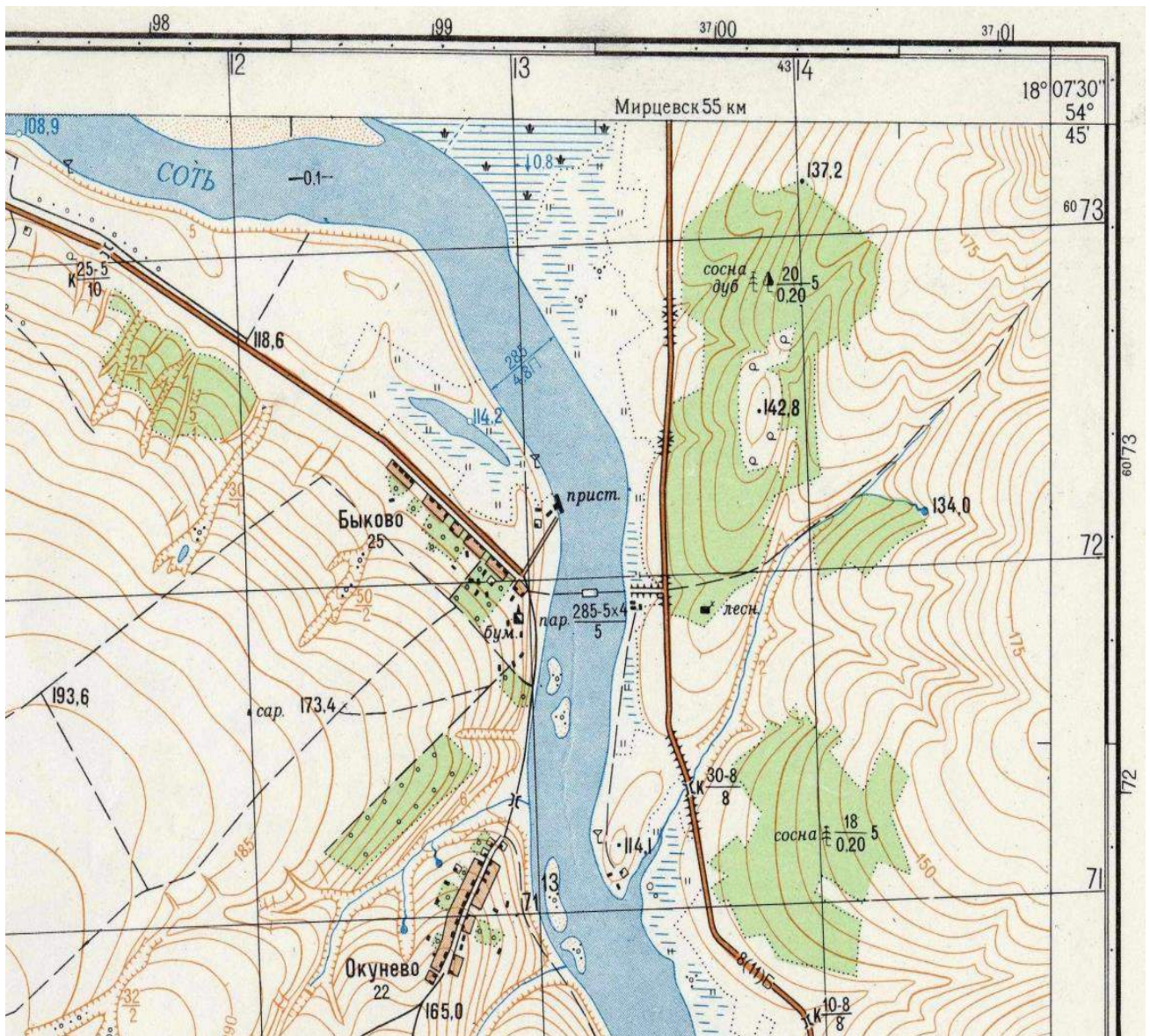


- Путешествуя по территории России с севера на юг, можно воочию увидеть, как природные зоны сменяют одна другую.
- **Последовательно укажите природные зоны, которые мы сможем увидеть, путешествуя по Волге от Твери до Астрахани.**
 - **В какой природной зоне находится Ярославль?**

Задача № 5. «Гадание по карте» (12 баллов)

Перед вами фрагмент топографической карты. Внимательно изучите ее и ответьте на следующие вопросы:

- 1. Какова высота вершины, окруженной со всех сторон смешанным лесом, состоящим преимущественно из сосны и дуба?**
- 2. На какой высоте расположено заболоченное озеро?**
- 3. Какая растительность преобладает в лесу, расположенном к востоку от шоссе, ведущему в Мирцевск. Кратко опишите этот лес.**
- 4. Какая растительность преобладает в лесу, расположенном к востоку от Окунево за рекой Соть. Составьте краткое описание этого леса.**
- 5. Судходна ли река Соть? По каким признакам вы это определили?**



Фрагмент топографической карты