

- 1) По признаку географического положения найдите исключение из логики:
- a) Австрия
  - b) Белоруссия
  - c) Словакия
  - d) **Словения** 26
  - e) Молдавия
  - f) Люксембург
- 2) Если двигаться в одном направлении по азимуту равному  $300^\circ$ , то возвращаться необходимо по азимуту:
- a)  $100^\circ$
  - b)  **$120^\circ$**  26
  - c)  $60^\circ$
  - d)  $180^\circ$
- 3) Выделите страну, в которой предпосылки для межэтнических конфликтов минимальны:
- a) Индия
  - b) Канада
  - c) Турция
  - d) Испания
  - e) **Япония** 26
  - f) Великобритания
- 4) Какой из перечисленных народов НЕ проживает вдоль сухопутной границы России:
- a) буряты
  - b) осетины
  - c) карелы
  - d) алтайцы
  - e) **ханты** 26
  - f) тувинцы
- 5) На плане местности по склону холма проведено 9 горизонталей с высотой сечения 5 метров. Какова высота холма?
- a) 180 м
  - b) 50 м
  - c) 25 м
  - d) **43 м** 26
  - e) 35 м
- 6) В каком субъекте РФ был зафиксирован абсолютный максимум температуры воздуха?
- a) Астраханская область;
  - b) Волгоградская область;
  - c) Дагестан;
  - d) **Калмыкия** 26

- 7) В этой стране официальный язык - арабский. 60% населения исповедуют ислам, 40% христианство, при этом президент должен быть христианином-маронитом, премьер мусульманином-суннитом, а спикер - мусульманином-шиитом.
- Бахрейн
  - Ливан** 26
  - Босния и Герцеговина
  - Кувейт
  - Государство Палестина
  - Йемен
- 8) В крупных городах России возникли так называемые «спальные районы». К какому типу миграций относят демографы ежедневное перемещение населения этих районов?
- сезонные
  - маятниковые** 26
  - нерегулярные
  - внешние
- 9) Из перечисленных стран наименьшая смертность характерна для:
- Кувейта и Катара** 26
  - Швеции и Германии
  - Латвии и Венгрии
  - Мали и Чада
- 10) Кратчайшее расстояние между Северным и Южным полюсами Земли составляет
- 6356 км;
  - 12 712 км;** 26
  - 22 450 км;
  - 44 230 км.
- 11) Установите соответствие между промышленным центром Поволжья и его городом-спутником: (1+1+1+1) 46

1. Волгоград – <b>в</b>	а. Энгельс
2. Самара – <b>г</b>	б. Зеленодольск
3. Саратов – <b>а</b>	в. Волжский
4. Казань – <b>б</b>	г. Новокуйбышевск

- 12) Какова будет температура воздуха на горе Монблан (4800 м), если у ее подножия температура воздуха составила + 20°C:
- +48,8°C;
  - 48,8°C;
  - +24,8°C;
  - 8,8°C** 26
- 13) Длина дуги меридиана между северным и южным тропиком составляет (в градусах):
- 34°

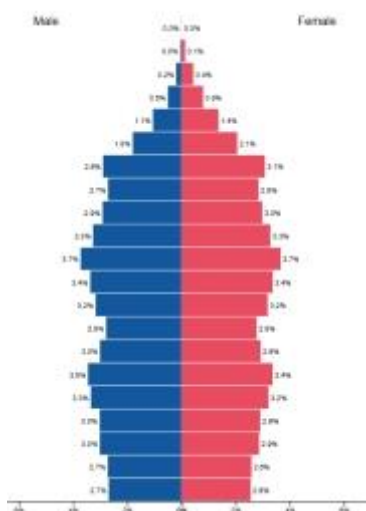
- b) 24°
- c) 14°
- d) 47°

26

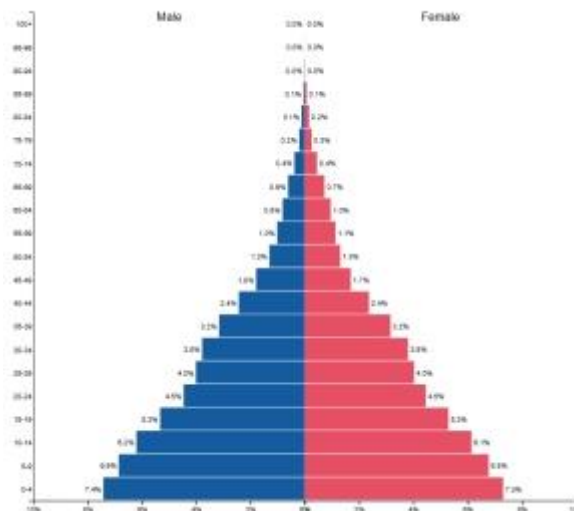
14) Определи, какой стране из перечисленных ниже соответствует каждая половозрастная пирамида. Подпиши под пирамидой название страны.

Страны:

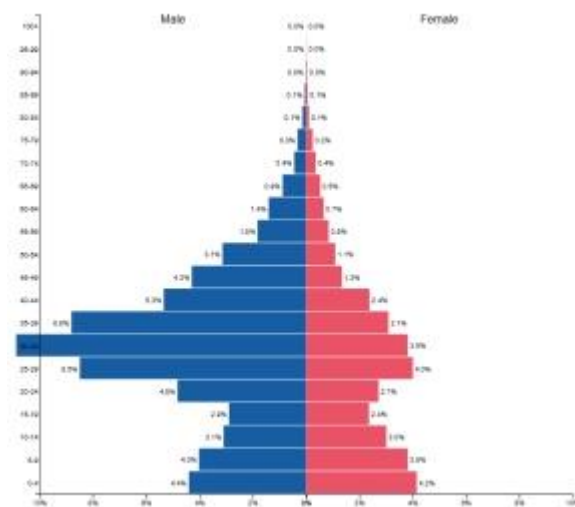
Аргентина, Дания, Оман, Кения. (1+1+1+1) 46



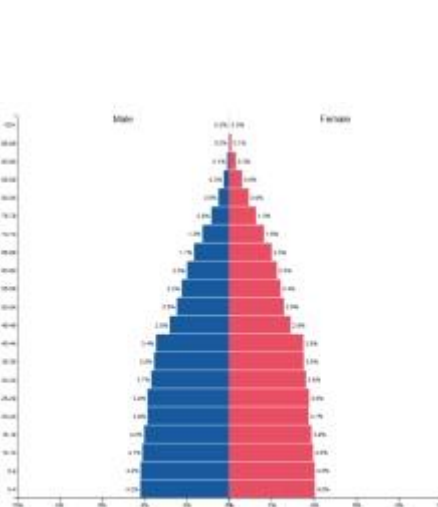
**Дания**



**Кения**



**Оман**



**Аргентина**

15) На каком материке нет действующих вулканов и современного оледенения?

а) Америка

б) Австралия 26

с) Африка

д) Евразия

е) Азия

Максимальное количество баллов за 2 тура – 34

Максимальная сумма баллов за два тура - 165