

ТЕОРЕТИЧЕСКИЙ ТУР

7 КЛАСС

Задача 1. Найди 5 ошибок в тексте, подчеркни предложения (части предложения) с ошибками, исправь ошибки, допущенные в тексте.

На море

Стоял солнечный яркий день. Индийский океан сверкал и переливался. Лёгкий бриз слегка покачивал шхуну и только опущенный мощный якорь не позволял ветру унести корабль в море.

Матросы, расположившись на палубе, лениво наблюдали, как средних размеров кондор охотится на сурков, изрывших норами весь берег. Бесшумно паря в воздухе, кондор внезапно падал на землю и иногда, когда ему везло, взмывал в воздух с очередной жертвой в когтях. Моряки, души которых огрубели в постоянной борьбе со штормами и самумами, были на стороне хищника и бурно радовались каждой его удаче.

Старший матрос подсёк и вытащил с огромным трудом гигантскую рыбину. Это был метровый целакант или латимерия, как её часто называют. Да! Это редкая удача, чаще удавалось поймать небольшого сома или лещика. Свежая рыба вносила разнообразие в привычное морское меню.

Исправления.

(допускаются иные формулировки ответа, не искажающие его смысла) :

1. Бриз в дневное время (морской бриз) всегда дует с моря, и поэтому корабль, не удерживаемый якорем, будет сноситься не в море, а к берегу. Корабль может быть отнесён в море ночным бризом.
2. Сурки не обитают на морских побережьях, это животные степные или горные. Сурки живут в Северной Америке и Евразии, но не на побережье Индийского океана.
3. Кондор обитает в горах Южной Америки, а не на побережье Индийского океана. Он не охотится подобным образом, так как питается падалью, известны редкие случаи нападения его на мелких животных. Его когти не способны удерживать добычу и поднимать её в воздух.
4. Сом и лещ – пресноводные рыбы и в Индийском океане не могут быть пойманы.
5. Самун- это сухой ветер пустыни Северной Африки и Аравийского полуострова, сопровождающийся пылевой(песчаной) бурей. Направление самуна чаще всего западное или юго-западное. Моряки с самумом моряки в Индийском океане столкнуться не могли.

Каждая верно обнаруженная ошибка- +1 балл

Каждый верно исправленный факт или суждение-+1 бала

Каждая ложно обнаруженная ошибка - - 0,5 балл

Каждое неверно исправленный факт или суждение- 0,5 балл

Максимально- +10 баллов.

Задача 2. Выбери из списка слова, которые будут использованы в рассказе о Австралии. Поясни, что они означают.

Сянган, конфуцианство, Айны, Сикоку, Чхота-Напур, Калькутта, Кашмир, Канберра, Кокодо, Калгурли, Астана, Байконур, Актобе, Мангышлак, Алаколь, Мугоджарам, Карпентария, вомбат, кукабара, Уйгуры, дунгане, штаты, Мумбаи, Ченнаи, синтоизм, Мицубиси, император, Кавасаки, Хэйлунцзян, Чунцин.

Верный ответ (допускаются иные формулировки ответа, не искажающие его смысла)

Канберра - столица Австралийского Союза (Австралии). Канберра является крупнейшим городом Австралии, расположенным внутри страны, а не на побережье.

Калгурли - город на территории австралийского штата Западная Австралия.

Карпентария — залив Арафурского моря на севере Австралии.

вомбат - сумчатые млекопитающие из отряда двурезцовых, обитающие в Австралии.

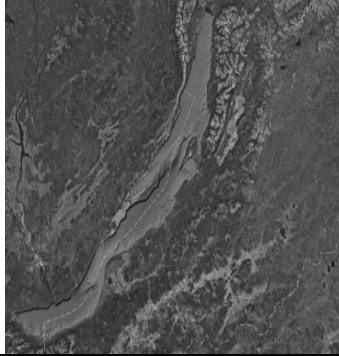

кукабара - род птиц семейства зимородковых, обитают в тропиках и редколесье Австралии и на Новой Гвинее.



Каждое верно выбранное слово 1 б.

Каждое верное пояснение 1б.

Максимально 10 б

Задача 3. Рассмотрите снимки из космоса. Какие географические объекты России на них изображены? В чём их уникальность? Запишите название этих объектов и чем они уникальны (1-2 характеристики).

		<p>Озеро Байкал</p>	<p>Самое глубокое озеро в мире</p> <p>Самый большой в России резервуар пресной воды.</p>
		<p>Каспийское море (устье Волги)</p>	<p>Самое большое по площади в России (самая длинная река Европейской части России)</p>

	Остров Сахалин	Самый большой остров у берегов России
	Полуостров Крым (Азовское море) Самый южный полуостров России (самое маленькое по площади море России)	Самый южный полуостров России (самое маленькое по площади море России)

Правильное название каждого объекта- 1 балл




Характеристика(хотя бы одна) - 1 балл


Максимальное количество баллов- 8 баллов.

Задача 4. Составьте правильную комбинацию. Подберите к портрету и укажите фамилию мореплавателя, описанного в задании.

- 1) Первый европеец, достигший берегов Индии морским путем.
- 2) Совершил второе кругосветное путешествие.
- 3) Во время трех кругосветных плаваний были открыты и исследованы берега Восточной Австралии, острова Океании, значительная часть западного побережья Северной Америки.
- 4) Первый разработал проект плавания западным путем вдоль побережья Южной Америки к Молуккским островам.

Впишите номер описания и фамилию мореплавателя в таблицу.

	номер описания	фамилия ученого
	1	Васко да Гама
	4	Фернан Магеллан
	2	Фрэнсис Дрейк

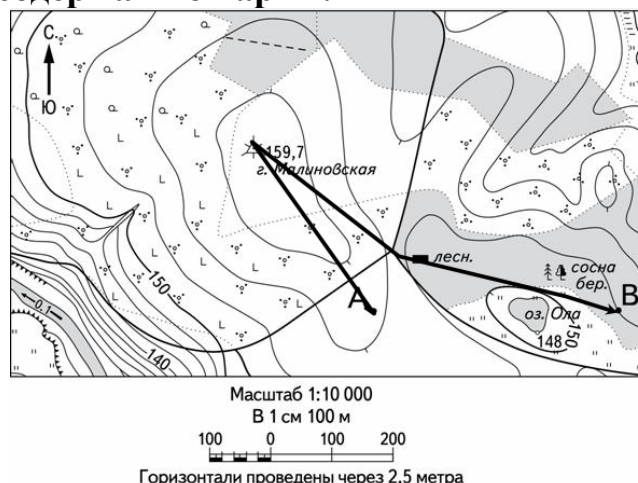


3

Джеймс Кук

Каждая правильно заполненная ячейка - 1 балл
Максимальное количество – 8 баллов

Задача 5. Заполните пропуски в тексте, выберите правильные варианты из предложенных, внесите исправления, так чтобы содержание текста соответствовало содержанию карты.



Утром мы вышли из нашего лагеря, который находился в точке А и отправились на вершину горы Малиновская. Направление нашего движения было _____ (1). Путь наш пролегал через густой лес/болото/кустарник(2). Гора Малиновская – самая высокая(3) в этих местах и мы отлично осмотрели окрестности. Затем мы по _____(4) склону горы спустились к домику лесника, который располагался в _____(5)лесу. И пройдя вдоль северного/южного(6)берега озера Ола дошли до места новой стоянки. Всего мы за это время прошли _____(7)м.

Верный ответ	Количество баллов
1. северо- восток	1
2. кустарник	1
3. правильно, ничего исправлять не надо	1
4. юго-западному	1
5. смешанном	1
6. северного	1
7. 1125± 50м	1

Максимально- 7 баллов.

Максимальный балл - 43