

**Задания 11 класс**  
**Тестовая часть.**

1. Выберите правильное соответствие: наука – объект её изучения.  
А) демография – расы  
Б) геоморфология – внутреннее строение Земли  
В) ландшафтоведение – рельеф  
Г) лимнология – озёра
  
2. Особый тип охраняемых территорий с малоизмененными живописными ландшафтами, где охрана природы сочетается с рекреационными функциями территории, называется  
А) заповедником  
Б) заказником  
В) национальным природным парком  
Г) биосферным заповедником
  
3. Какую длину на карте масштаба 1:50 000 будет иметь путь в 5 км?  
А) 1 см    Б) 10 см    В) 100 см    Г) 0,1 см
  
4. Азимут юго-западного направления равен  
А) 45°    Б) 135°    В) 225°    Г) 315°
  
5. С помощью какого условного обозначения можно определить на плане местности холм это или впадина?  
А) изотерма    Б) пунсон    В) бергштрих    Г) изохрона
  
6. Выберите верное соответствие: центр цветной металлургии – металл, производимый на расположенном в нём предприятии.  
А) Норильск – олово    Б) Волгоград – никель  
В) Челябинск – алюминий    Г) Красноуральск – медь
  
7. Одним из основных показателей, характеризующих качество жизни населения в стране, является  
А) половозрастная структура населения  
Б) естественный прирост населения  
В) средняя продолжительность жизни населения  
Г) численность трудовых ресурсов
  
8. Выберите верное утверждение.  
А) Примером рационального природопользования является молевой сплав древесины.  
Б) Природный газ – возобновимый вид природных ресурсов.  
В) Образование кислотных дождей связано с загрязнением воздуха выбросами предприятий цветной металлургии.  
Г) Вертикальная распашка склонов способствует их защите от эрозии.
  
9. Выберите вариант, где правильно указаны столицы монархий.  
А) Оттава, Нью-Дели, Абуджа, Эр-Рияд  
Б) Рабат, Осло, Куала-Лумпур, Тхимпху  
В) Париж, Масеру, Джакарта, Тегеран  
Г) Богота, Прага, Сеул, Тегусигальпа
  
10. Выберите вариант, где указаны страны, имеющие наибольшую долю городского населения среди названных государств.  
А) Бельгия, Бразилия, Катар  
Б) Россия, Перу, Индия  
В) Пакистан, Австралия, Япония  
Г) Эфиопия, ЮАР, Непал

11. Выберите верное соответствие: субъект Российской Федерации – угольный бассейн, расположенный на его территории.

- А) Архангельская область – Печорский бассейн
- Б) Воронежская область – Донецкий бассейн
- В) Краснодарский край – Кузнецкий бассейн
- Г) Республика Хакасия – Минусинский бассейн

12. Выберите вариант, где правильно указаны страны, лидирующие в мире по доле производства электроэнергии на ГЭС.

- А) Китай, США, Япония
- Б) Норвегия, Бразилия, Таджикистан
- В) Россия, Индия, ФРГ
- Г) Франция, Бельгия, Южная Корея

13. Определите верное соответствие: продукция – страна-лидер по её производству.

- А) железная руда – Бразилия
- Б) автомобили – Италия
- В) алюминий – Канада
- Г) электроэнергия – Китай

14. Выберите правильное соответствие: новое название страны – старое название страны.

- А) Бангладеш – Западный Пакистан
- Б) Бенин – Золотой берег
- В) Кот-д'Ивуар - Берег Слоновой Кости
- Г) Малави – Северная Родезия

15. Назовите архипелаг, являющийся суверенным государством.

- А) Бермудские острова
- Б) Андаманские острова
- В) Марианские острова
- Г) Сейшельские острова

16. Определите техническую культуру по доле её валового сбора в странах-лидерах в 2014 г: Россия – 17%, Франция – 13%, США – 12%, Германия – 10%, Украина – 7%.

- А) Подсолнечник
- Б) картофель
- В) сахарная свёкла
- Г) лён

17. Определите происхождение форм рельефа:

1. Мерзлотный	А. подземная пещера
2. Карстовый	Б. дюна
3. Эоловый	В. риф
4. Тектонический	Г. рифт
5. Биогенный	Д. карьер
6. Антропогенный	Е. кратер
7. Вулканический	Ж. бугор пучения
8. Склоновый	И. оползень

18. Само название этого народа - ирон и дигор. Представители этого народа считаются потомками алан, относятся к индоевропейской семье и исповедуют христианство (православие). О каком народе идет речь?

- А) Якуты
- Б) Осетины
- В) Тофалары
- Г) Адыгейцы

19. Выберите верную характеристику миграции населения из Сирии и Ирака в Европу.

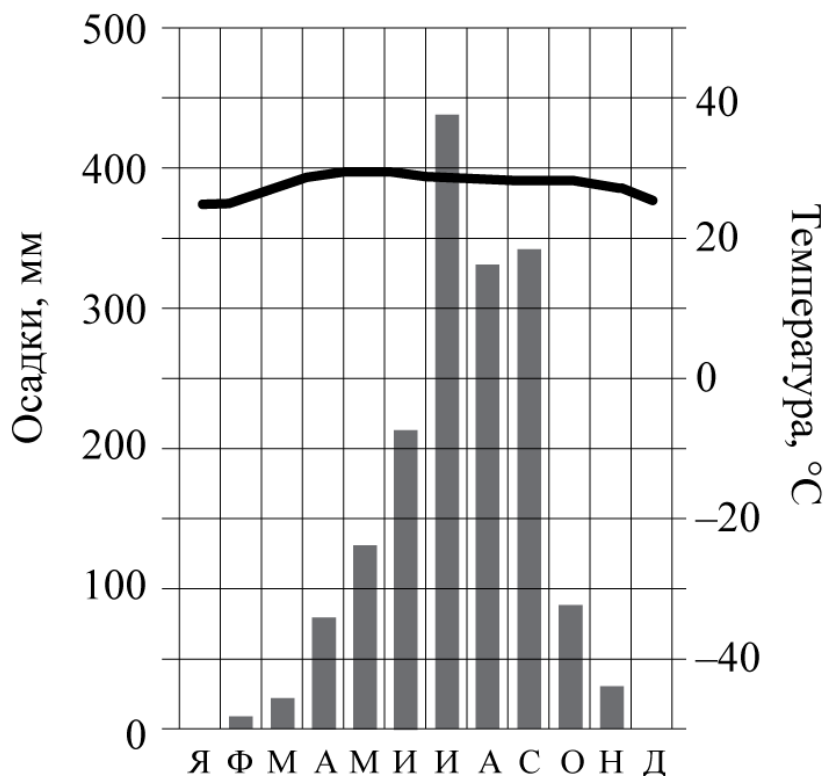
- А) принудительная, организационная, религиозная
- Б) добровольная, стихийная, этническая
- В) вынужденная, стихийная, социально-экономическая
- Г) вынужденная, организационная, экологическая

20. Выберите верное соответствие: объект Всемирного культурного наследия ЮНЕСКО – страна, в которой он расположен

- А) доиспанский город Чичен-Ица – Гватемала
- Б) монастыри Метеоры – Болгария
- В) мавзолей Тадж-Махал – Индия
- Г) город Куско – Боливия

### Теоретическая часть.

21. На рисунке представлена климатограмма одного из городов, через который проходит Панамериканское шоссе. В каком из 13 климатических поясов Земли расположен город, климат которого показан на климатограмме? Для обоснования Вашего ответа приведите два довода.



22. Самолет с туристами покинул аэропорт столицы государства (23<sup>0</sup>с.ш., 82<sup>0</sup>з.д.), расположенного на острове, который называют самым драгоценным камнем в ожерелье Антильских островов, поэт Николас Гильен сравнивал свой родной остров с большой изумрудной ящерицей, плывущей в бирюзовом море. Маршрут самолета лежал строго на север. День был солнечный и туристы из иллюминаторов самолета могли наблюдать местность, над которой пролетают. Сначала они увидели залив, по акватории которого были размещены нефтяные платформы. Затем они любовались одной из величайших рек мира, название которой в переводе из алгонкинских языков означает «большая река». «Первая в мире обманщица», именно так называл эту реку известный писатель Марк Твен. Через три часа полета со скоростью 700км/час самолет приземлился в городе, который долгое время считался центром автомобилестроения третьей по численности населения страны мира.

1. Назовите остров и город отправления туристов.
2. Назовите залив и реку, о которых говорится в тексте.
3. В какой стране и в каком городе приземлились туристы.
4. Определите географические координаты этого города. Обязательно запишите свои расчеты.

23. Определите полуостров по описанию в тексте и ответьте на вопросы.

Расположен на юге одной из частей света крупнейшего по площади материка планеты. Его название с языка одного народа тюркской группы, относящегося к крупной языковой семье, можно, перевести на русский язык как «лесистые горы». На полуострове расположено 12 суверенных государств и одно не признанное нашей страной государство. До 1991 года здесь

существовало федеративное государство, которое включало шесть современных суверенных государств, распад этой страны продолжался до 2003 г. Полуостров вдаётся в межматериковое море и отделяет от него одно из «цветных» морей мира. На востоке полуостров омывается водами самого маленького по площади моря мира. Частично северная граница полуострова проходит вдоль второй по длине реке и части света. В тектоническом строении полуостров является определенной областью складчатости, здесь часто происходит разрушительное стихийное бедствие. На полуострове выделяются два типа климата. На юге распространены плантации масличной сельскохозяйственной культуры. Крупнейшие города полуострова, как правило, столицы государств, но особо выделяется город, расположенный на границе двух частей света, которые разделяет узкий пролив. С 330 до 1930 гг. этот город был столицей империй и носил другое название он относится к стране, основная территория которой не расположена на этом полуострове, она лежит на другом крупном полуострове и в другой части света.

Определите:

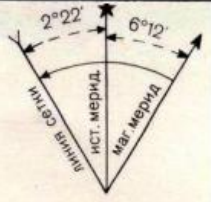
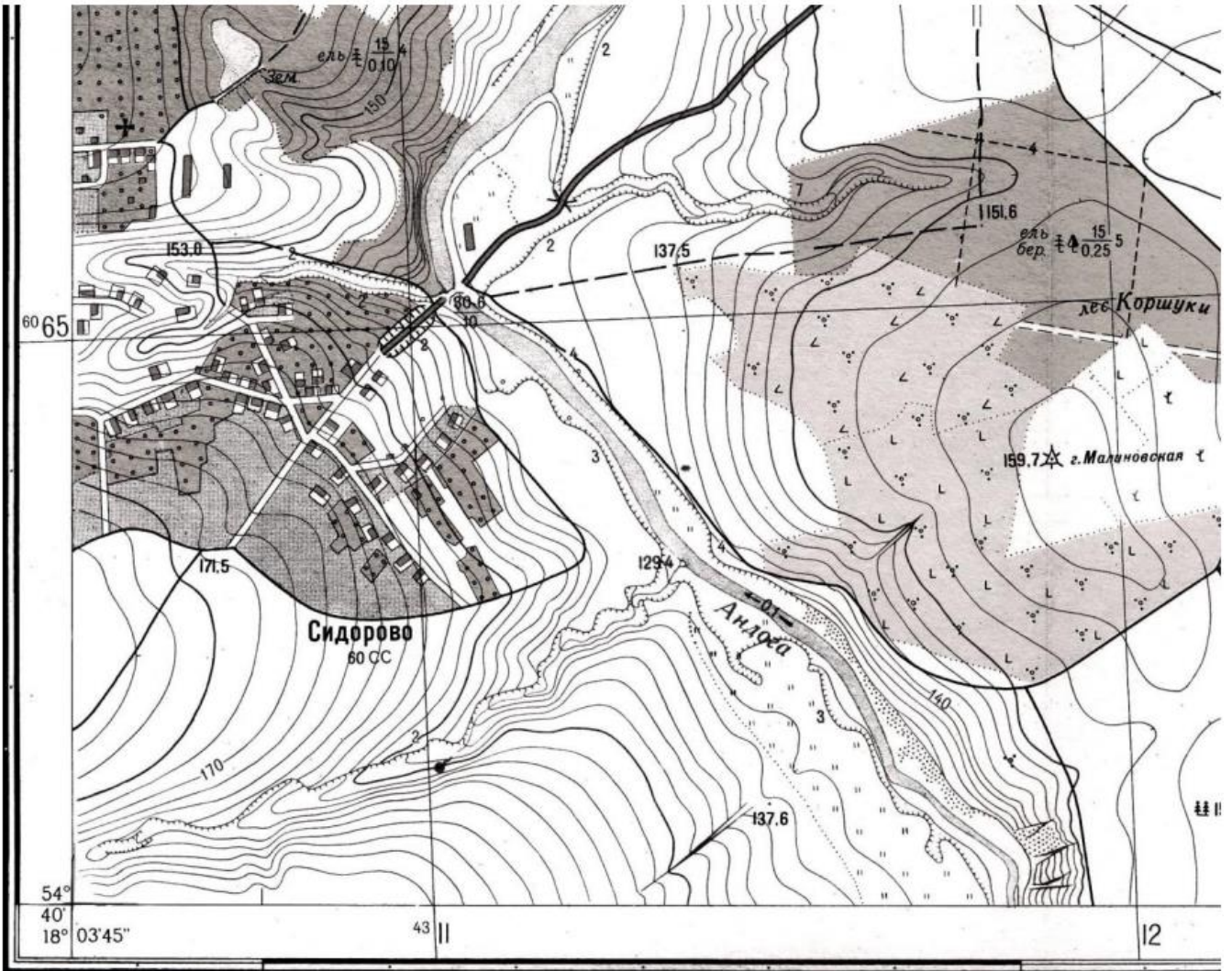
- 1) название полуострова, о котором идёт речь в тексте;
- 2) часть света, материк;
- 3) название языка народа тюркской группы и его языковую семью;
- 4) не признанное нашей страной государство полуострова;
- 5) бывшее федеративное государство и входившие в него 6 стран;
- 5) вторую по длине реку части света;
- 6) название складчатости, стихийное бедствие;
- 7) два типа климата;
- 8) масличную сельскохозяйственную культуру;
- 9) город на границе частей света, пролив, название этого города с 330 по 1930 гг.;
- 10) страну, к которой этот город относится.

**24.** Определите, для каких пяти стран мира составлены логические цепочки (1–5), состоящие из пяти позиций, которые все имеют прямое отношение к его экономике. В каждой цепочке выявите страну, «лишний объект» объясните причину вашего решения. Ответы занесите в бланк ответов.

1. «Ауди» – «Фольксваген» – «Байер» – «Опель» – «БМВ»
2. Хатсфилда–Джексона (Атланта) – О, Хара (Чикаго) – Форт-Уэрт (Даллас) – мыс Канаверал – Джон Ф. Кеннеди (Нью-Йорк)
3. Балаковская – Братская – Белоярская – Ростовская – Билибинская
4. Ницца – Шамони – Куршевель – Савойя – Альп-д'Юэз
5. добыча бокситов – производство цемента – производство рома – выращивание бананов – туризм

### **Практическая часть.**

1. Определите и запишите численный и именованный масштаб карты (обязательно запишите расчет).
2. Определите географические координаты церкви
3. Определите абсолютные высоты родника и церкви, а так же их относительную высоту от известного уровня реки Андога.
4. Определите самую высокую и самую низкую горизонтали на данном участке карты.
5. Какие формы рельефа представлены на этой равнине?
6. Определите по карте азимут от г. Малиновская на церковь. Какие данные вам покажет компас на местности?
7. Опишите растительность склонов г. Малиновская.



Сплошные горизонталы проведены через 2,5 метра  
Балтийская система высот