

**Муниципальный этап  
всероссийской олимпиады школьников  
по географии**

**2019/20 учебный год**

**11 класс**

*Дорогой друг! Желаем успеха!*

**I. Прочитайте предложенные вопросы. На каждый вопрос выберите правильный(е) ответ(ы).**

1. Установите соответствие: кому принадлежат фотографии выдающихся русских учёных-исследователей, внёсших вклад в развитие географической науки?



**А**




**Б**



**В**



**Г**



**Д**

- 1) Эдуард Васильевич Толль
- 2) Семён Иванович Дежнёв
- 3) Юрий Фёдорович Лисянский
- 4) Иван Фёдорович Крузенштерн
- 5) Борис Андреевич Вилькицкий

Запишите в таблицу цифры, соответствующие буквам

1	2	3	4	5

2. Найдите соответствие между рядами.

1) главный порт Мексики	А) Бельмопан
2) бухта у города Рио-де-Жанейро	Б) Веракрус
3) крупнейшее месторождение железной руды на Юго-Востоке Бразилии	В) Гуанабара
4) столица Белиза	Г) Итабира

Ответ запишите в таблицу цифры, соответствующие буквам

1	2	3	4

3. Выберите группу стран, имеющих крупнейшие в мире запасы древесины
- а) Россия, Индия, Саудовская Аравия
  - б) Бразилия, США, Канада, Россия
  - в) США, Китай, Индия, Канада
  - г) Канада, США, Финляндия, Китай
  - д) Россия, Ливия, Франция, Германия
  - е) Швеция, Финляндия, Канада, Австралия
4. Страна с самым многочисленным населением – Китай. А вот Эфиопия – крупнейшая по населению страна среди этих стран. Каких?
- а) среди развивающихся стран
  - б) среди стран, не имеющих выхода к морю
  - в) среди стран с преобладающим чернокожим населением
  - г) среди стран –производителей кофе
5. Установите соответствие: название геологического периода – его возраст.

Название периода	Его возраст
а) девон	1) 490 – 435 млн лет назад
б) четвертичный	2) 280 – 235 млн лет назад
в) ордовик	3) 185 – 132 млн лет назад
г) юра	4) 400 – 345 млн лет назад
д) пермь	5) 2 млн лет назад –настоящее время

Запишите в таблицу цифры, соответствующие выбранным ответам.

А	Б	В	Г	Д

6. Выберите группу топонимов, относящихся к гидрологическим объектам.
- а) Витим, Зeya, Баскунчак, Уссури
  - б) Хибинь, Иртыш, Гиндукуш, Общий Сырт
  - в) Саяны, Яна, Эльтон, Чаны
  - г) Хамар-Дабан, Лопатка, Джугжур, Ишим
7. Сколько государственных образований в свободной ассоциации с Новой Зеландией?
- а) 7      б) 12      в) 2      г) 3
8. Какие три страны имеют наименьшую густоту автомобильных дорог?
- а) Гренландия
  - б) Индонезия
  - в) Судан
  - г) Мавритания
  - д) Колумбия
9. Выберите масштаб карты, если известно, что расстояние на местности в 400 км изображено на ней отрезком в 2 см
- а) 1:400 000 000
  - б) 1:200 000 000
  - в) 1:40 000 000

г) 1:20 000000

10. Что разделяет граница Мохоровичича?

- а) Южный и Тихий океаны
- б) зоны тайги и широколиственных лесов
- в) земную кору и верхнюю мантию
- г) базальтовый и гранитный слои материковой земной коры.

11. Длина Залива – более 800 км, ширина от 30 до 80 км, глубина до 25 м, освобождается ото льда, кроме южной части, в июле и покрывается льдом в октябре. О каком заливе идет речь

- а) Анадырский
- б) Енисейский
- в) Обская губа
- г) Петра Великого

12. Укажите острова, на которых расположено независимое государство

- а) Канарские
- б) Багамские
- в) Фолклендские
- г) Гавайские

13. Какие географические координаты города Салехарда?

- а)  $66^{\circ}31'48''$  с.ш.  $66^{\circ}36'06''$  в.д.
- б)  $66^{\circ}33'58''$  с.ш.  $66^{\circ}39'50''$  в.д.
- в)  $66^{\circ}35'30''$  с.ш.  $66^{\circ}55'50''$  в.д.
- г)  $66^{\circ}48'60''$  с.ш.  $66^{\circ}60'60''$  в.д.

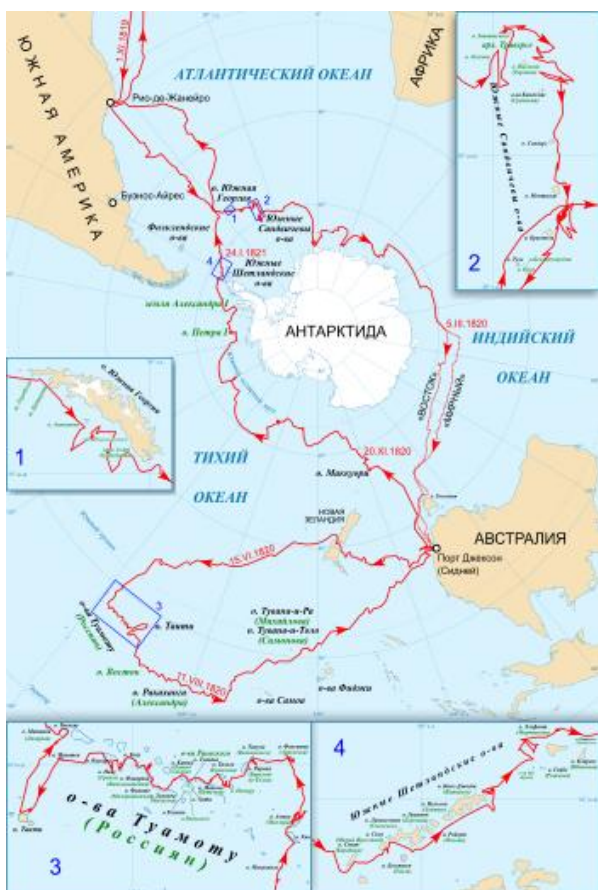
14. Зависимые территории, не имеющие постоянного населения

- а) Острова Ашмор и Картье
- б) Острова Кука
- в) Испанская Сахара
- г) Азад Кашмир

15. Как называются территории, автономии, части федераций, резервации, составные части Соединенного Королевства – Англия, Шотландия, Уэльс, Северная Ирландия?

- а) неконтактных народов
- б) субнациональными
- в) нейтральными
- д) спорными

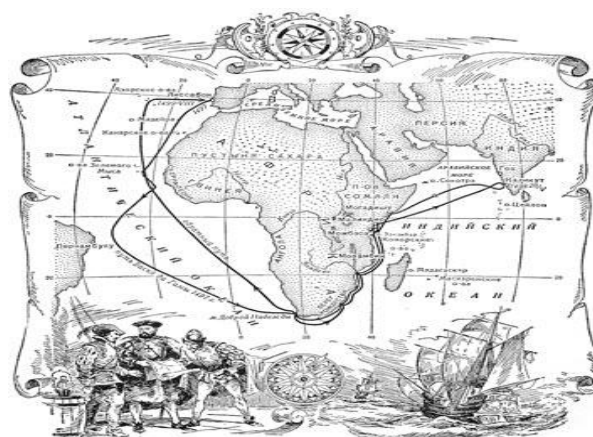
16. Установите соответствие: какому фрагменту географической карты соответствует указанная дата?



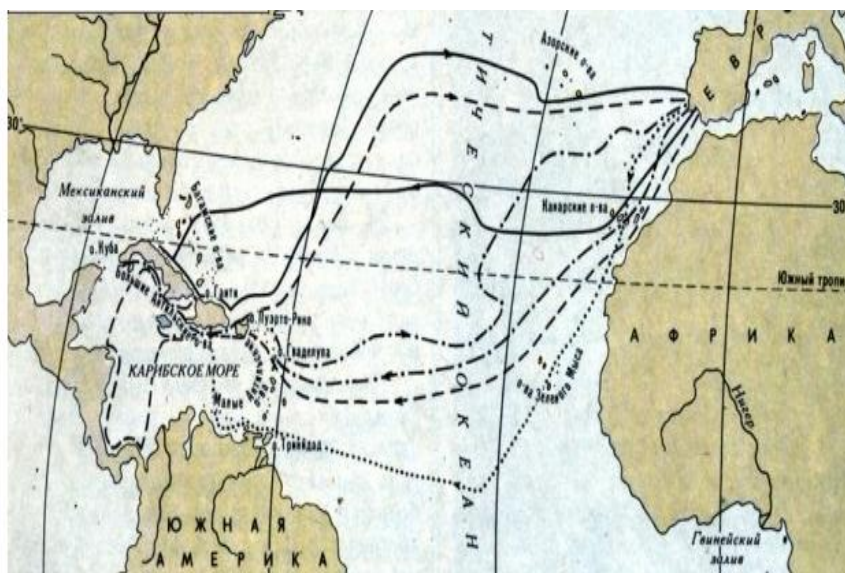
А



Б



В



Г

- 1) 1492 год
- 2) 1497 – 1499 гг.
- 3) 1519 – 1522 гг.
- 4) 1819 – 1821 гг.

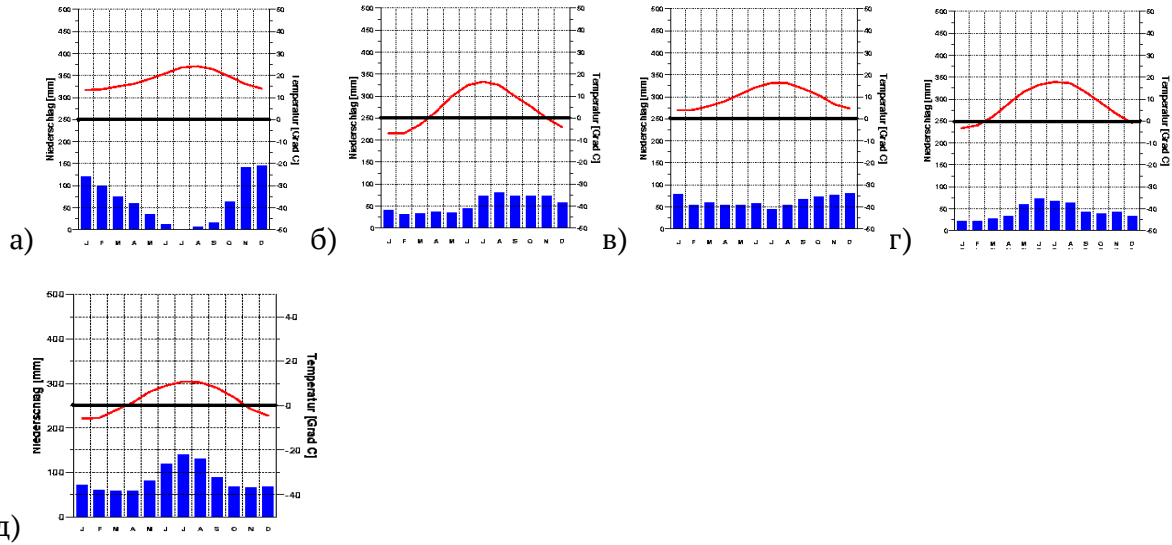
Запишите в таблицу цифры, соответствующие выбранным ответам.

А	Б	В	Г

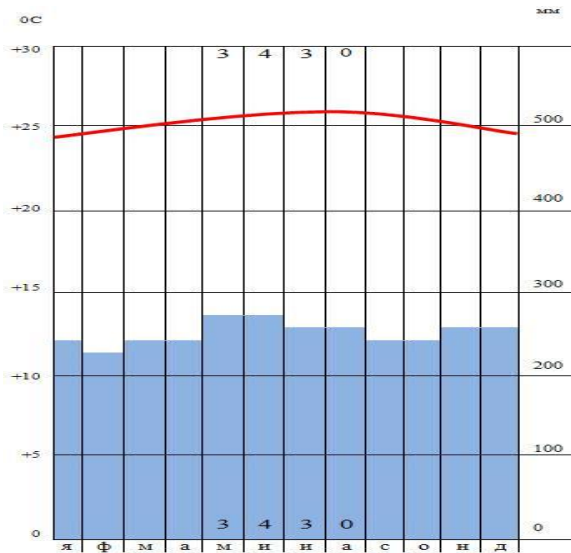
17. Многие страны мира находятся в сейсмоопасных районах. На территории каких из перечисленных стран разрушительные землетрясения наиболее вероятны?

- а) Канада
- б) Польша
- в) Турция
- г) Австралия
- д) Индонезия

18. Выберите климатограмму, описывающую годовой ход температуры и осадков в единственной сохранившейся в Европе колонии



19. Какой климатический пояс изображен на климатограмме?



- а) умеренный
- б) тропический
- в) арктический
- г) экваториальный

20. Минерал ... служит рудой для получения алюминия

- а) лимонит
- б) боксит
- в) опал
- г) галенит
- д) сильвин



## II. Дайте развернутые ответы на следующие задания.

### Географическая задача № 1

Вы смотрите в окно и видите низко над северным горизонтом Полярную звезду. Как Вам нужно одеться, чтобы выйти на улицу? (Ответ поясните)

### Географическая задача № 2

Посмотрите внимательно на карту (рис 1). Вы увидите, что к западу от низовий Сырдарьи показаны её сухие русла – староречья. На левом побережье Сырдарьи раскинулась пустыня Кызылкум. На 400 км, от реки в глубь пустыни до берегов Аральского моря её избороздили сухие извиляющиеся староречья. А ведь в 1816 г. по сухой ныне Жанадарье текли еще воды. Были полноводны в 1842 г. и другие староречья Сырдарьи, например Куандарья.

- 1) Что же заставило блуждать по пустыне эту реку?
- 2) Почему она столько раз покидала свои русла?
- 3) Почему десятки таких русел, покинутых реками, избороздили пустыню?

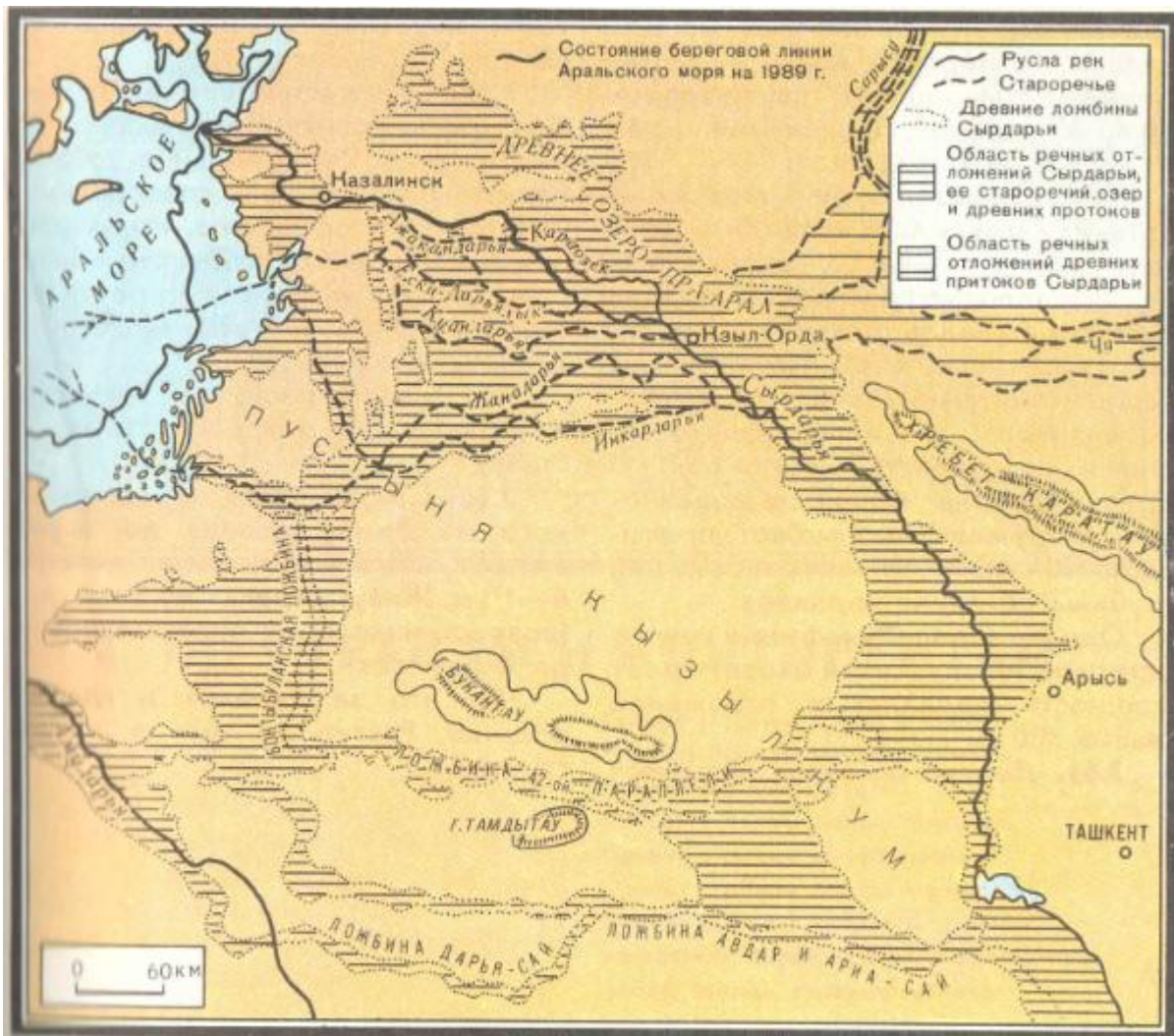
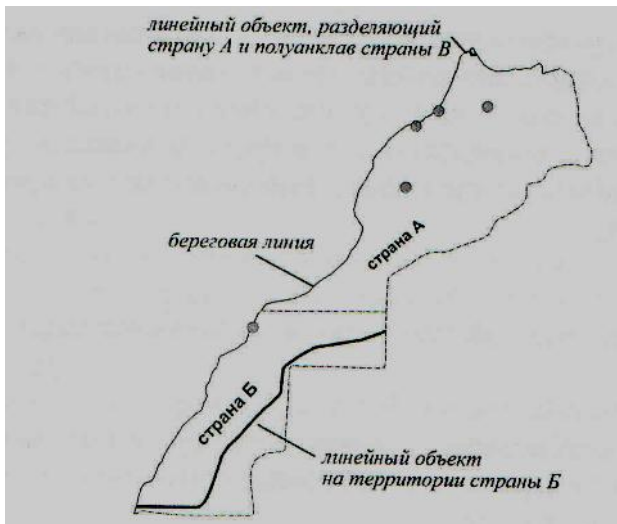


Рис 1

### Географическая задача № 3

На рисунке представлена контурная карта двух стран (А и Б), находящихся на северо-западе материка. Большая часть страны Б оккупирована страной А, отрицающей её независимость с 1979 г. При этом ООН до сих пор официально не признала ни незаконность оккупации страны Б, ни её государственной независимости. Утолщенными черными линиями обозначены и подписаны некие линейные объекты, выполняющие схожие функции в обеих странах. В стране А этот объект назван так же, как и полуанклав, принадлежащий стране В, который он отделяет, а в стране Б его название созвучно с названием страны А. Серыми пунсонами (значками) на карте обозначены крупные города стран А и Б.



1. Укажите названия стран А, Б и В.
2. Какой полуанклав страны В также граничит по суше со страной А, но не отделён от неё линейным объектом?
3. Назовите объект на границе страны А и полуанклава В. По какой причине он был возведён?
4. Назовите объект в стране Б. Сколько названий этого объекта вам известно (перечислите их)?
5. По запасам какого полезного ископаемого страны А и Б входят в десятку лидеров среди стран мира?
6. Подпишите на контурной карте города 1–5, опираясь на их описания.

Город 1 – старейший из имперских городов своей страны и четвертый по величине, его гордостью является медина (старейшая часть арабских городов), входящая в список памятников Всемирного наследия с 1981 года.

Город 2 является третьим по величине городом в своей стране, славится своей мединой (с 1985 года – в списке Всемирного наследия), которая зовётся «красным городом» по причине коричнево – рыжего оттенка глинобитных зданий и укреплений. Название города созвучно с названием страны А.

Город 3 является столицей своего государства, на его территории находится мечеть Хасана, которая имела шансы стать самым высоким сооружением мусульманского мира. Кроме того, все памятники этого города и планировка его новой части с 2012 года входят в список Всемирного наследия ЮНЕСКО.

Город 4 – крупнейший порт в своей стране, располагающийся на одной из самых больших искусственных гаваней в мире. Основной его достопримечательностью является мечеть с самым высоким минаретом в мире. Название города на русский язык переводится как «белый дом».

Город 5 – крупнейший город своей страны, основанный колонизаторами этой территории лишь в 30-х годах XX в. Город имеет свой порт, но основная часть застроенных площадей находится в оазисе, в 20 километрах от морского побережья.

7. Назовите европейскую страну, которая до 1956 года контролировала большую часть страны А, а также современную форму правления страны А.

8. Назовите крупнейшую горную систему, у подножия которой расположен Город 2 (на территории страны А расположена лишь часть этой горной системы).

9. Харматтан – это:

- а) Сухой северо-восточный пассат
- б) месяц обязательного для мусульман поста
- в) единица АТД страны А
- г) Верховный правитель страны А

#### Географическая задача № 4

Назовите европейскую страну по следующим признакам: монархическая форма правления, развитое автомобилестроение, в основном ориентированное на внутренний рынок, крупная добыча топливного сырья, на суше граничит лишь с одной страной.

В ответе укажите:

- название страны (сокращенное и полное)
- страна сосед
- район добычи топливного сырья (какого? где?)
- исторические области
- название известного озера на севере страны
- тип страны (по уровню социально-экономического развития)
- два преобладающих языка
- название реки, на которой расположена столица
- название столичного аэропорта
- денежная единица страны

Ответ можно оформить в форме таблицы.

• название страны (сокращенное и полное)	• тип страны (по уровню социально-экономического развития)
• страна сосед	• два преобладающих языка
• район добычи топливного сырья (какого? где?)	• название реки, на которой расположена столица
• исторические области	• название столичного аэропорта
• название известного озера на севере страны	• денежная единица страны

#### Географическая задача № 5

Политическая карта мира – сложная, активно изменяющаяся общественно-геопространственная система. Периодом наиболее динамичных изменений на политической карте был XX век. В истории формирования современной политической карты мира известно несколько десятков государств, не попавших ни на политическую карту мира 1910 года, ни на политическую карту мира 2010 года, но существовавших от нескольких месяцев до нескольких десятилетий в течение XX столетия

Вспомните некоторые из этих государств по приведенным фактам и укажите их официальные названия (на момент исчезновения) и современную принадлежность их территорий. Об этих государствах известно:

№	Период существования	Примечания
1	1922 – 1991 гг.	Возникло как союз четырех государств, два из которых являлись федерациями.



2	1918 – 1992 гг. 	Включало территорию Подкарпатской Руси в первые 20 лет своего существования. На гербе отражены геральдические символы двух составных частей государства.
3	1949 – 1990 гг.	Анклавное политическое образование, существовавшее на территории трёх секторов оккупации, одна из его границ являлась второй по протяженности стеной после Великой Китайской.
4	1921 – 1944 гг.	Государство возникло на территории Урянхайского края, протектората Российской империи. Родина действующего Президента Русского географического общества.
5	1982 – 1989 гг.	Конфедерация, возникшая в бассейнах двух рек Западной Африки, давших ей название.

Ответ оформите в таблице:

№	Официальное название государства (на момент исчезновения)	Современная принадлежность территории
1.		
2.		
3.		
4.		
5.		