

Тестовый тур 7 класс
Инструкция по выполнению заданий тестового раунда

На выполнение заданий тестового тура отводится 60 минут. Прочитайте задание и выберите из предложенных ответов один правильный. Если задание не удастся выполнить сразу, перейдите к следующему. Если останется время, вернитесь к пропущенному заданию. Максимальное количество баллов за тестовый тур – 20 баллов.

1. К системе Великих Американских озер НЕ относится озеро:

- 1) Эри 2) Гурон 3) Мичиган 4) Виннипег

2. Наука, изучающая географические названия называется:

- 1) геодезия 2) картография 3) топонимика 4) топография

3. Определите среднесуточную температуру по следующим показателям:

- в 6 часов-10°C; в 12 часов-15°C; в 18 часов-13°C; в 20 часов-11°C.

4. Определите, какой океан самый теплый и укажите причину

Название океана	Причина
1. Тихий	А) самый узкий и течения быстро переносят теплые воды из экваториальных широт в умеренные и субтропические
2. Индийский	Б) большая часть акватории океана расположена в Южном полушарии
3. Атлантический	В) значительная часть лежит в экваториальных и тропических широтах

5. Сильнейший ветер Сахары, несущий тучи песка, называется:

- 1) бора 2) фен 3) самум 4) мистраль

6. Периодически пересыхающие реки Австралии называются:

- 1) вади 2) крики 3) русло 4) скрэб

7. Крайними точками Африки являются

- 1) м. Рока, м. Игольный, м. Рас-Хафун, м. Альмади 2) м Игольный, м. Рас-Хафун, м. Альмади, м. Пиай

- 3) м. Эль-Абъяд, м Игольный, м. Рас-Хафун, м. Альмади, 4) м. Эль-Абъяд, м Игольный, м. Рас-Хафун, м. Йорк

8. Если численный масштаб плана составляет 1:2 000 000, то именованный будет:

- 1) в 1 см 200 км; 2) в 1 см 20 000 км; 3) в 1 см 20 км; 4) в 1 см 2 км.

9. Назовите дату, когда оба полушария Земли освещаются одинаково:

- 1) 21 марта 2) 22 июня 3) 15 сентября 4) 1 января

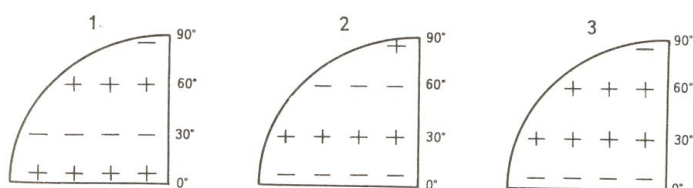
10. В каком варианте указана НЕ тектоническая структура?

- 1) молодая платформа 2) древняя платформа 3) плоскогорье 4) рифтовая зона

11. Установите соответствие между названием гор и их вершинами

Название гор	Название вершин
1) Альпы	А) Мак-Кинли
2) Кордильеры	Б) Аконкагуа
3) Анды	В) Монблан
4) Аппалачи	Г) Митчелл

12. Правильное расположение поясов атмосферного давления показано на рисунке:



- области низкого давления + области высокого давления

13. Какое море, омывает три части света?

- 1) Красное 2) Средиземное 3) Чукотское 4) Берингово

14. Расположите горные системы в порядке уменьшения их абсолютной высоты: Ответ записать в виде последовательности цифр.

- 1) Анды, 2) Большой Водораздельный хребет, 3) Гималаи, 4) Кордильеры.

15. Установите правильные соответствия «тип климата - режим осадков»

Тип климата	Режим осадков
1) экваториальный	А) зимний максимум
2) субэкваториальный	Б) равномерный в течение года
3) умеренный муссонный	В) равномерный с двумя максимумами
4) субтропический средиземноморский	Г) летний максимум

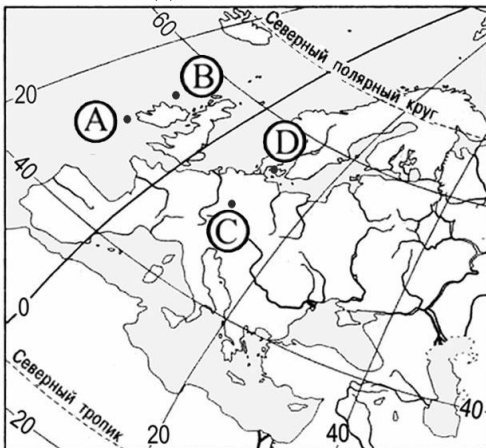
16. Укажите природный комплекс:

- 1) рельеф 2) растения 3) животные 4) море

17. Океаническая земная кора отличается от материковой:

- 1) Наличием гранитного слоя 2) Наличием мощного осадочного слоя
3) Наличием базальтового слоя 4) Отсутствием базальтового слоя

18. Какой буквой на карте Европы обозначена точка, имеющая географические координаты 55° с.ш. и 10° з.д.?



19. Кто из перечисленных путешественников исследовал внутренние районы Африки?

- 1) Дж. Кабот 2) Д. Ливингстон 3) А. Веспуччи 4) А. Макензи

20. Найдите соответствие материка и местного название природной зоны:

Материк	Местное название природной зоны
1) Экваториальный лес Южной Америки	А) Пампа
2) Степь Южной Америки	Б) Скрэб
3) Саванна Южной Америки	В) Сельва
4) Степь Северной Америки	Г) Прерия
5) сухие заросли Австралии (полупустыни)	Д) Льянос

ТЕОРЕТИЧЕСКИЙ ТУР 7 класс

На выполнение заданий теоретического тура отводится 120 минут. Прочитайте внимательно задание. Если задание не удастся выполнить сразу, перейдите к следующему. Если останется время, вернитесь к пропущенному заданию. Максимальное количество баллов за теоретический тур – 72 баллов.

Задание 1.

Распределите слова по группам, каждую группу озаглавьте.

Чернозем, устье, смерч, эстуарий, пассат, волк, краснозем, суховей, русло, губа, подзолистые, буран, излучина, исток, бриз, коала, тайфун, дельта, муссон, вомбат

Максимальное количество баллов 20 баллов. За каждый правильный ответ 1 балл

Задание 2.

Определите, какие из ниже перечисленных географических объектов находятся на указанных материках? Запишите их номера рядом с названием материка.

Материки

А) Австралия _____

Б) Африка _____

В) Евразия _____

Г) Северная Америка _____

Д) Южная Америка _____

Географические объекты: 1) Великие равнины; 2) Аппалачи; 3) р. Парана; 4) р. Амур; 5) Аральское море; 6) Большая пустыня Виктория; 7) вдп. Анхель; 8) р. Миссисипи; 9) влк. Килиманджаро; 10) пустыня Гоби, 11) пустыня Намиб; 12) г. Митчелл; 13) оз. Ньяса; 14) р. Замбези; 15) оз. Эри

Максимальное количество баллов -15. За каждый правильный ответ -1 балл

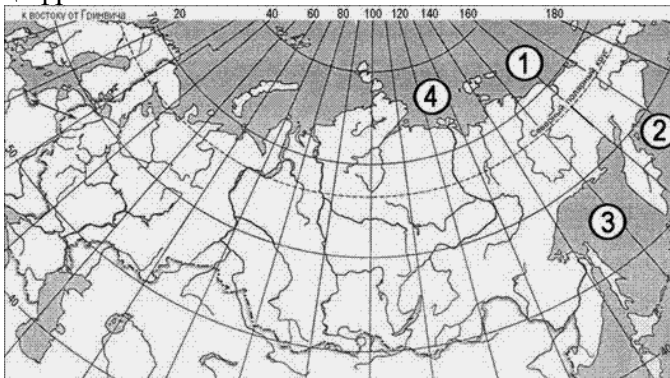
Задание 3.

Дополните текст:

Постоянные ветры, дующие от 30° с.ш. и ю.ш. к экватору, называются Под влиянием осевого вращения Земли, они отклоняются и дуют с на в северном полушарии, а в южном полушарии с на

Максимальное количество баллов 15 баллов. За каждый правильный ответ 3 балла.

Задание 4. Установите соответствие между морем и его расположением на карте, обозначенным цифрой



Цифра на карте	Название моря
1.	А) Охотское
2.	Б) Лаптевых
3.	В) Восточно-Сибирское
4	Г) Берингово
	Д) Карское

Максимальное количество баллов- 10. За каждый правильный ответ 2,5 балла

Задание 5. Назовите все известные Вам географические объекты на фрагменте карты.



За каждый правильный ответ 1 балла

Бланк ответов

ТЕСТОВЫЙ ТУР

Номер вопроса	Ответ
1	
2	
3	
4	
5	
6	
7	
8	
9	
10	
11	
12	
13	
14	
15	
16	
17	
18	
19	
20	

ТЕОРЕТИЧЕСКИЙ ТУР

Задание 1.

Название группы	Перечень слов

Задание 2.

Материки

А) Австралия _____

Б) Африка _____

В) Евразия _____

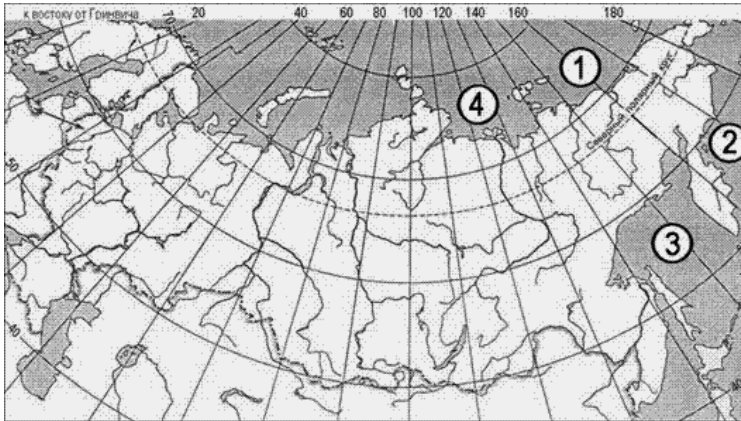
Г) Северная Америка _____

Д) Южная Америка _____

Задание 3.

Постоянные ветры, дующие от 30° с.ш. и ю.ш. к экватору, называются Под влиянием осевого вращения Земли, они отклоняются и дуют с на в северном полушарии, а в южном полушарии с на

Задание 4.



Цифра на карте	Название моря
1.	
2.	
3.	
4.	

Задание 5
