

**ВОПРОСЫ ВТОРОГО (МУНИЦИПАЛЬНОГО) ЭТАПА ВСЕРОССИЙСКОЙ
ОЛИМПИАДЫ ШКОЛЬНИКОВ ПО ГЕОГРАФИИ**

ТЕОРЕТИЧЕСКИЙ РАУНД
10 КЛАСС

1. Выберите в каждой строке «лишнее» название и дайте объяснение своему выбору:

А.	Абхазия, Афганистан, Ангола, Австрия, Аргентина
Б.	Гамбург, Краков, Монреаль, Милан, Женева
В.	Марокко, Гамбия, Эритрея, Бурунди, Фиджи
Г.	Сидней, Нью-Дели, Каракас, Каир, Дамаск
Д.	Молдова, Армения, Казахстан, Эстония, Беларусь
Е.	Шанхай, Берлин, Буэнос-Айрес, Нью-Йорк, Мумбаи

ОТВЕТ запишите ниже:

А. «лишнее» название: _____
объяснение: _____

Б. «лишнее» название: _____
объяснение: _____

В. «лишнее» название: _____
объяснение: _____

Г. «лишнее» название: _____
объяснение: _____

Д. «лишнее» название: _____
объяснение: _____

Е. «лишнее» название: _____
объяснение: _____

2. По протяженности государственных границ Россия не имеет равных в мире – более 60 тысяч километров, при этом общие границы наша страна имеет с 16 государствами. По описанию узнайте ряд стран, граничащих с Россией, и запишите в таблицу.

Пограничные страны России

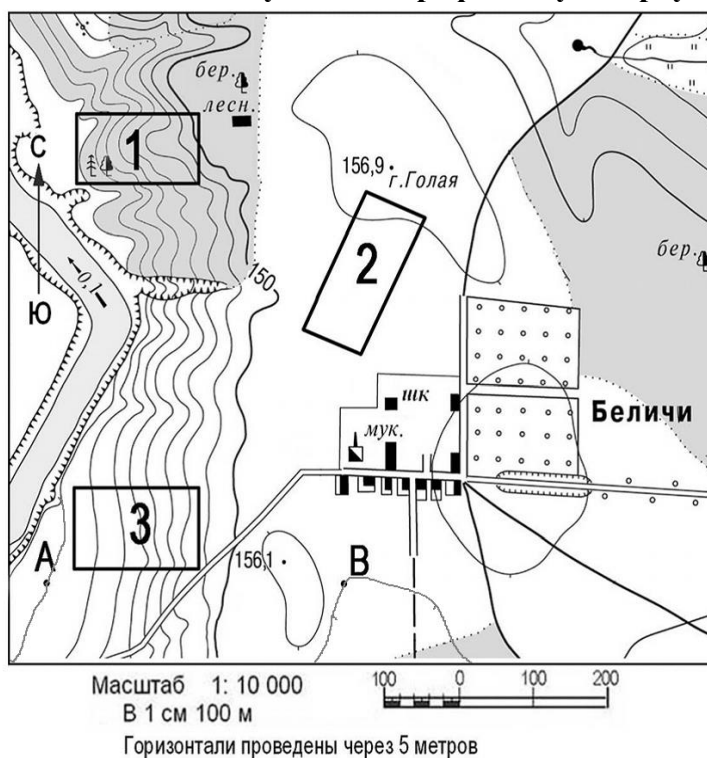
№	Описание страны	Название страны
1	Государство, выходящее к берегам самого большого по площади озера. Часть территории является эксклавом, отделённый соседней страной. Один из старейших центров нефтедобычи в мире.	
2	Страна, большую часть которой занимают болота. Здесь находится единственный сохранившийся древний лесной массив в Зарубежной Европе – Беловежская пуца.	
3	Государство, население которого исповедует православие. Занимает как горные, так и равнинные территории. Высшая точка – г. Шхара (5068 м). Славится своими минеральными источниками:	

**ВОПРОСЫ ВТОРОГО (МУНИЦИПАЛЬНОГО) ЭТАПА ВСЕРОССИЙСКОЙ
ОЛИМПИАДЫ ШКОЛЬНИКОВ ПО ГЕОГРАФИИ**

	Цхалтубо, Менджи и др.	
4	Государство, занимающее 1/5 площади Евразии. Жители называют свою страну «Срединное государство». Одна из самых обеспеченных природными ресурсами стран мира. Является мировым лидером в ряде отраслей экономики.	
5	Одно из самых малонаселенных государств мира (средняя плотность – 1 чел./км ²), расположенное в «сердце» Евразии. Население исповедует буддизм-ламаизм. Значительную часть территории занимают пустыни и полупустыни.	
6	Название этой приморской страны означает «Северный путь». Береговая линия сильно изрезана. Основная часть населения проживает на юге, исповедует лютеранство.	
7	Государство – родина Папы Римского Иоанна Павла II (предстоятель Римско-католической церкви в 1978-2005 гг.). С захвата страны немецкими фашистами в 1939 г. началась Вторая Мировая война. Один из крупнейших в Европе производителей каменного угля.	
8	Название этого государства в значении «Пограничная территория» впервые упоминалось в летописи 1187 г. В XIV – начале XX вв. по отношению к нему употреблялось также название «Малая Русь». В административном отношении разделено на 24 области.	
9	По площади территории занимает девятое место среди стран мира. Государство располагается в Европе и Азии и не имеет выхода в Мировой океан. Большая часть населения исповедует ислам. Потребление чая жителями этой страны одно из самых высоких в мире – 1,2 килограмма в год на человека.	
10	Это самая закрытая страна мира. Менее одного процента населения страны имеют выход в интернет. Только в 2013 году власти страны разрешили иностранным туристам пользоваться сотовыми телефонами и мобильным интернетом.	

ВОПРОСЫ ВТОРОГО (МУНИЦИПАЛЬНОГО) ЭТАПА ВСЕРОССИЙСКОЙ ОЛИМПИАДЫ ШКОЛЬНИКОВ ПО ГЕОГРАФИИ

3. Для выполнения задания используйте топографическую карту.



1) Определите расстояние от домика лесника до мукомольного предприятия. Ответ запишите цифрами, округлив полученный результат до десятков метров.

2) Найдите высшую абсолютную точку в пределах изображенной территории и ответьте на вопросы:

→ укажите её название и её абсолютную высоту _____

определите от нее до школы:

→ азимут _____

→ расстояние _____

3) Определите, какой из участков местности, обозначенных на карте цифрами 1, 2, 3 лучше выбрать для размещения волейбольной площадки. Для обоснования своего ответа приведите не менее двух доводов: _____

4) Определите абсолютную высоту, на которой расположен родник, и направление в котором течет родниковый ручей:

5) В какой части плана изображена река? _____

Приведите ее основные характеристики:

→ направление течения реки _____

→ скорость течения _____

→ ширину русла _____

→ описание правого и левого берегов _____

ВОПРОСЫ ВТОРОГО (МУНИЦИПАЛЬНОГО) ЭТАПА ВСЕРОССИЙСКОЙ ОЛИМПИАДЫ ШКОЛЬНИКОВ ПО ГЕОГРАФИИ

4. В гавань Лондона зашли три корабля. По представленным флагам определите, из каких они государств.

1



2



3



Страна 1: _____

Страна 2: _____

Страна 3: _____

5. Определите страну по описанию и ответьте на дополнительные вопросы:

Эта парламентская республика получила независимость в декабре 1917 года от своего восточного соседа, в состав которого входила более 100 лет. В этом же году сменила название и столица. Ещё раньше, на протяжении 600 лет зависела от своего западного соседа. До XII века на территории страны проживало племя СУМЬ. Его название за много веков трансформировалось, и сейчас его используют как самоназвание страны. Протяжённость страны с севера на юг примерно в 2 раза больше, чем с запада на восток. Кроме континентальной части в её состав входит крупный архипелаг, имеющий особый политический статус. Большая часть страны представляет из себя низменную, слабо холмистую равнину с выходами скальных пород, между которыми расположились многочисленные озера (их около 190 тысяч) и порожистые реки. На северо-западе располагается высочайшая точка – 1328 м. 76% страны покрыто лесом. Россия поддерживает тесные экономические связи с этим государством. На нашем рынке присутствуют продукция полиграфии, лёгкой, пищевой, химической промышленности, средства связи и телекоммуникаций произведенные в этой стране, используются особенности ее транспортной сети.

- 1) Название государства
- 2) Название столицы до 2017 г.
- 3) Современное название столицы
- 4) Государства, от которых находилась в зависимости
- 5) Современное самоназвание народа и страны
- 6) К какой языковой семье и группе этот народ относится
- 7) Процесс, сформировавший поверхность страны в четвертичное время и формы рельефа, которые он создал на этой территории

**ВОПРОСЫ ВТОРОГО (МУНИЦИПАЛЬНОГО) ЭТАПА ВСЕРОССИЙСКОЙ
ОЛИМПИАДЫ ШКОЛЬНИКОВ ПО ГЕОГРАФИИ**

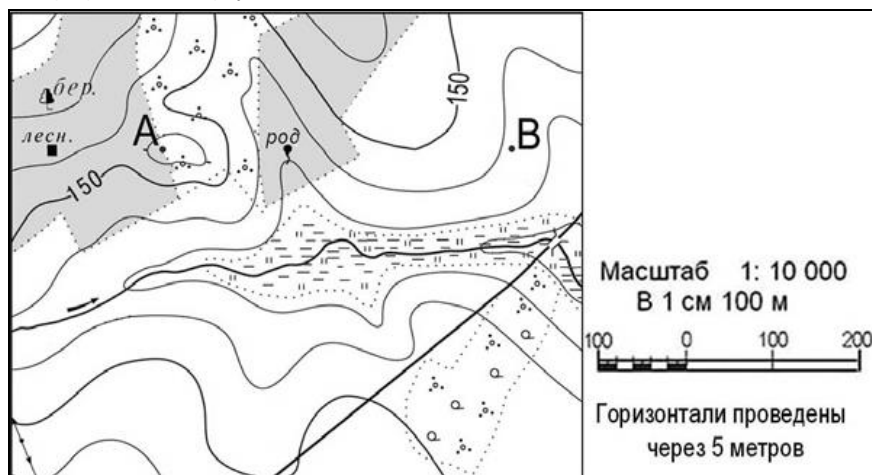
ТЕСТОВЫЙ РАУНД

10 КЛАСС

1. Какой минерал именуется горным хрусталем?:

- А. Аквамарин
- Б. Алмаз
- В. Кварц
- Г. Опал

2. Определите по карте азимут от родника на дом лесника:



- А. 360°
- Б. 90°
- В. 270°
- Г. 180°

3. Какие из форм рельефа не относятся к аккумулятивной деятельности ледника?:

- А. Моренные холмы
- Б. Озы
- В. Бараньи лбы
- Г. Камы

4. Какое утверждение является верным?:

- А. Наибольшая амплитуда температур в России зафиксирована в Краснодарском крае
- Б. Территория России расположена в двух климатических поясах
- В. На всей территории России в течение года преобладает пониженное атмосферное давление
- Г. В Якутии самые низкие температуры в Северном полушарии

5. В 1920 г. на Южном Урале был создан первый в мире минералогический заповедник. Главная его достопримечательность – огромная коллекция минералов. Как называется этот заповедник?:

- А. Ильменский
- Б. Печоро-Илычский
- В. Башкирский
- Г. Южно-Уральский

**ВОПРОСЫ ВТОРОГО (МУНИЦИПАЛЬНОГО) ЭТАПА ВСЕРОССИЙСКОЙ
ОЛИМПИАДЫ ШКОЛЬНИКОВ ПО ГЕОГРАФИИ**

6. Определите регион по его краткому описанию:

Эта область расположена в лесной зоне. Имеет пограничное положение с одной из стран СНГ. По ее территории проходят важнейшие транспортные магистрали, связывающие Россию со странами Западной Европы. Исторически по ее территории проходил путь «из варяг в греки». Административный центр называют «Ключ-город». Энергией хозяйство области обеспечивает крупная современная АЭС:

- А. Ленинградская область
- Б. Тверская область
- В. Калужская область
- Г. Смоленская область

7. Установите соответствие между государством и его столицей:

<i>Государство</i>	<i>Столица</i>
А. Непал	1. Абуджа
Б. Кабо-Верде	2. Братислава
В. Нигерия	3. Прага
Г. Словения	4. Катманду
Д. Эквадор	5. Любляна
	6. Кито

Ответ запишите в таблицу. Рядом с буквой поставьте соответствующую цифру:

А	Б	В	Г	Д
---	---	---	---	---

8. Какое полезное ископаемое добывается на территории Московской области, полуострове Флорида, в Марокко:

- А. Апатиты
- Б. Калийные соли
- В. Фосфориты
- Г. Самородная сера

9. Укажите количество республик в составе Российской Федерации:

- А. 22
- Б. 21
- В. 19
- Г. 11

10. Какое государство является одновременно монархией и федерацией?:

- А. Австрия
- Б. Бельгия
- В. Швеция
- Г. Великобритания

11. Какое государство входит в первую десятку стран по численности населения?:

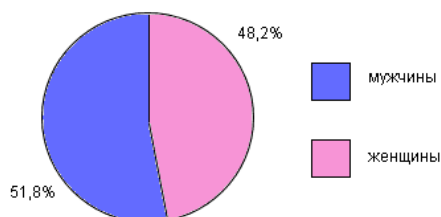
- А. Канада
- Б. Германия
- В. Бангладеш
- Г. Австралия

12. Выберите единственный район с самой низкой плотностью населения:

ВОПРОСЫ ВТОРОГО (МУНИЦИПАЛЬНОГО) ЭТАПА ВСЕРОССИЙСКОЙ ОЛИМПИАДЫ ШКОЛЬНИКОВ ПО ГЕОГРАФИИ

- А. Араратская равнина
- Б. Апшеронский п-ов
- В. Колхидская низменность
- Г. Туранская низменность
- Д. Ферганская долина
- Е. Подольская возвышенность

13. Страна, половой состав населения которой изображен на диаграмме:



- А. Норвегия
- Б. Япония
- В. Индия
- Г. Латвия

14. Установите соответствие между субъектом Российской Федерации и его местоположением на политико-административной карте, обозначенным буквой:



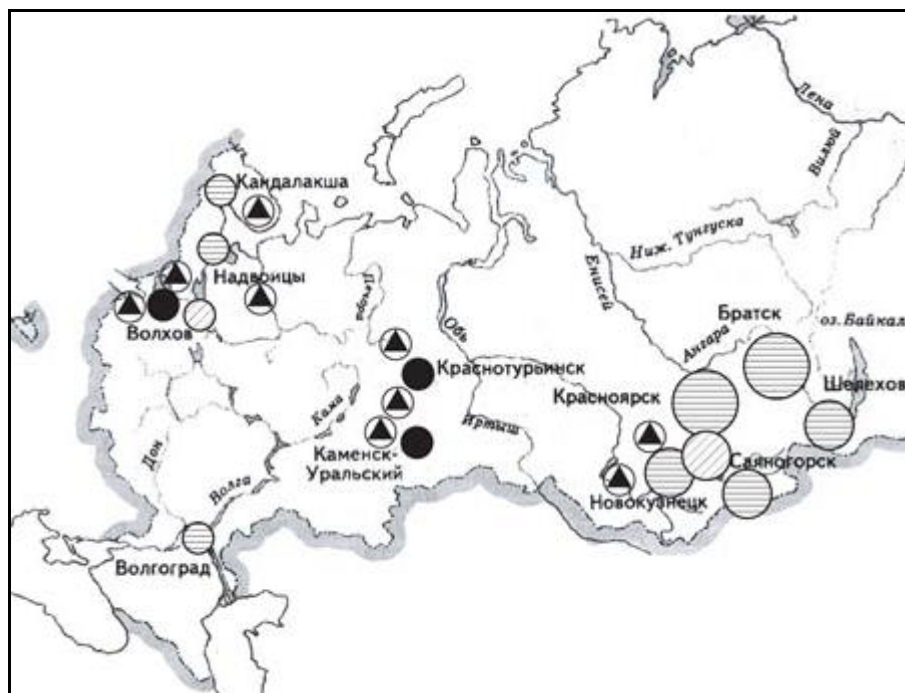
<i>Субъект РФ</i>	<i>Цифра на карте</i>
А. Чукотский автономный округ	1. 1
Б. Республика Бурятия	2. 2
В. Мурманская область	3. 3
Г. Республика Адыгея	4. 4

Ответ запишите в таблицу. Рядом с буквой поставьте соответствующую цифру:

А	Б	В	Г
---	---	---	---

15. Основные центры какой отрасли промышленности России представлены на карте?:

**ВОПРОСЫ ВТОРОГО (МУНИЦИПАЛЬНОГО) ЭТАПА ВСЕРОССИЙСКОЙ
ОЛИМПИАДЫ ШКОЛЬНИКОВ ПО ГЕОГРАФИИ**



- А. Производство минеральных удобрений
- Б. Чёрная металлургия
- В. Угольная промышленность
- Г. Алюминиевая промышленность

16. Найдите исключение из списка крупнейших портов мира:

- А. Роттердам и Йокогама
- Б. Гамбург и Нью-Дели
- В. Кобе и Марсель
- Г. Шанхай и Сингапур

17. Русское географическое общество было основано в ...:

- А. 1745 году
- Б. 1815 году
- В. 1845 году
- Г. 1945 году

18. Административный центр какого района Калужской области находится дальше от Калуги:

- А. Мещовского
- Б. Козельского
- В. Куйбышевского
- Г. Дзержинского

19. Выберите верные утверждения о Калужской области:

- А. На территории Калужской области находится высшая точка Среднерусской возвышенности
- Б. Железные руды Подмосковского бассейна отличаются низким качеством
- В. Перепад высот в Калужской области не превышает 180 м
- Г. Наибольшее количество осадков в Калужской области выпадает в октябре
- Д. Самым продолжительным сезоном в Калужской области является зима

**ВОПРОСЫ ВТОРОГО (МУНИЦИПАЛЬНОГО) ЭТАПА ВСЕРОССИЙСКОЙ
ОЛИМПИАДЫ ШКОЛЬНИКОВ ПО ГЕОГРАФИИ**

- | | | |
|--|---|--|
| | Е. Атмосферное давление на территории Калужской области ниже, чем на побережье Балтийского моря | 20. Н
а
с
е
в
е |
| | Ж. Реки Калужской области имеют преимущественно дождевое питание | |
| | З. Большая часть территории Калужской области относится к бассейну Каспийского моря | |

ро-востоке Калуги находится индустриальный парк...:

- | | |
|--|---------------------------|
| | А. «Ворсино» |
| | Б. «Грабцево» |
| | В. «Росва» |
| | Г. «Калуга-Северо-Восток» |