

## Тестовый тур

**1. Через какую часть света не проходит жаркий тепловой пояс?**

- а) Африка
- б) Америка
- в) Азия
- г) Европа

**2. Установите соответствие между рекламными лозунгами и островами:** к каждому элементу первого столбца подберите соответствующий элемент из второго столбца.

<u>Рекламные лозунги</u>	<u>Острова</u>
1) Красота коралловых островов в Индийском океане уникальна! Для любителей подводного плавания здесь великолепные лагуны с кристально чистой водой!	А) Шетландские острова
2) Здесь вам предложат множество экскурсий по влажным тропическим лесам, где можно увидеть дымчатых леопардов и орангутанов!	Б) Мальдивские острова
Ответ 1 _____, 2 _____	В) остров Калимантан
	Г) острова Новая Зеландия

**3. На каком из перечисленных островов имеются действующие вулканы, у подножья которых много селений, где жители занимаются земледелием?**

- а) Мадагаскар
- б) Ява
- в) Ирландия
- г) Шри-Ланка

**4. В какой из перечисленных стран влажные экваториальные леса занимают наибольшую площадь?**

- а) США
- б) Аргентина
- в) Чили
- г) Бразилия

**5. Какое из перечисленных морей имеет наибольшую солёность поверхностных вод?**

- а) Баренцево
- б) Карское
- в) Берингово
- г) Красное

**6. В какой из перечисленных горных стран количество высотных поясов наибольшее?**

- а) Альпы
- б) Аппалачи
- в) Саяны
- г) Урал

**7. В какой из перечисленных стран в заповедниках можно встретить носорогов?**

- а) Австралия
- б) Бразилия
- в) Мексика
- г) ЮАР

**8. Какому направлению соответствует азимут 135°?**

- а) юго-запад
- б) юго-восток
- в) восток
- г) северо-запад

**9. К холодным течениям относятся:**

- а) Перуанское и Гольфстрим
- б) Гольфстрим и Калифорнийское
- в) Лабрадорское и Куроисио
- г) Калифорнийское и Перуанское

**10. Пограничной российской рекой НЕ является река**

- а) Белая
- б) Нарва
- в) Урал
- г) Аргунь

**11. В исследование природы Южной Америки наибольший вклад внесла экспедиция, в составе которой находился:**

- а) Абель Тасман
- б) Джеймс Кук
- в) Александр Гумбольдт
- г) Чарльз Дарвин

**12. Этот известный физико-географический объект объединяет такие страны, как Россия, Туркмения, Иран, Казахстан, Азербайджан.**

Ответ: \_\_\_\_\_

**13. Выберите из списка ниже отличающийся по некоторому признаку географический объект и обоснуйте свой выбор (это не признак государственной принадлежности, не нахождение в определённой части света):**

- а) Новая Земля
- б) Новая Зеландия
- в) Новая Каледония
- г) Новая Гвинея.

---

**14. Выберите единственный вариант, где указаны НЕ единицы измерения расстояния:**

- а) галлон, бушель;
- б) стадий, пядь;
- в) лига, фа(у)рлонг;
- г) кабельтов, световой год.

**15. Какая из перечисленных горных пород является осадочной по происхождению?**

- а) известняк
- б) пемза
- в) базальт
- г) мрамор

**16. При каких погодных условиях можно, не поднимаясь вверх, путешествовать внутри облака?**

---

**17. Какое полезное ископаемое добывается таких бассейнах, как Кузбасс, Донбасс, Печорский, Ленский?**

- а) нефть;
- б) сланцы;
- в) газ;
- г) уголь.

**18. Найдите единственно верную пару:**

- а) Мегалополис Босваш
- б) Штат Монреаль
- в) Провинция Пхеньян
- г) Город Аризона
- д) Государство Шотландия.

**19. Расположите перечисленные ниже природные ресурсы в порядке очередности их освоения человеком от древности до наших дней:**

- а) ресурсы Мирового океана,
- б) минеральные ресурсы,
- в) земельные ресурсы,
- г) все виды природных ресурсов,
- д) биологические ресурсы (плоды, животные и пр.).    Ответ: \_\_\_\_\_

**20. Для какой из перечисленных природных зон характерны подзолистые почвы?**

- а) широколиственные леса
- б) тайга
- в) полупустыни и пустыни
- г) лесостепи и степи

**21. Верны ли следующие утверждения о действии климатообразующих факторов?**

**1.** Холодные океанические течения **не** способствуют выпадению атмосферных осадков.  
**2.** В умеренных широтах Евразии с удалением от Атлантического океана вглубь материка увеличивается годовая амплитуда температур воздуха.

- а) верно только А
- б) верно только Б
- в) верны оба утверждения
- г) оба утверждения неверны

**22. Туризм, ориентированный на прямое использование «дикой» природы на основе внедрения экологических технологий во все компоненты тура с минимальным ущербом окружающей среде называется:**

- а) экологический;
- б) лечебный;
- в) познавательный;
- г) спортивный.

**23. Как называются заросли низкорослых, иногда стелющихся кустарников в тундровой зоне?**

- а) ерники;
- б) шибляк;
- в) редины;
- г) маквис.

**24. Что общего у Аппалачей и Уральских гор (2 ответа):**

- а) вытянулись в широтном направлении;
- б) старые в геологическом отношении горы;
- в) месторождения полезных ископаемых во многом выработаны;
- г) на их склонах берут истоки самые длинные реки соответствующего материка;
- е) раньше у их подножья жили индейские племена.

## Теоретический тур

**1. Прочитайте приведенный ниже текст, в котором пропущен ряд слов. Выберите из предлагаемого списка слова, которые необходимо вставить на места пропусков.** Выбирайте последовательно одно слово за другим, мысленно вставляя на места пропусков слова из списка в нужной форме. Обратите внимание на то, что слов в списке больше, чем Вам потребуется для заполнения пропусков. Каждое слово может быть использовано только один раз.

Тропический циклон – мощный \_\_\_\_\_(1) вихрь, который образуется над \_\_\_\_\_(2) поверхностью океана в тропических широтах. Воздух в тропическом циклоне \_\_\_\_\_(3) вращается вокруг его центра – «глаза» бури и поднимается вверх. Образуются мощные \_\_\_\_\_(4) облака и выпадают \_\_\_\_\_(5) осадки. В тропическом циклоне \_\_\_\_\_(6) достигают ураганной силы.

Список слов

- |                 |                 |             |            |
|-----------------|-----------------|-------------|------------|
| А) атмосферный  | Г) медленно     | Ж) холодной | К) кучевые |
| Б) стремительно | Д) ветры        | З) слоистые | Л) осадки  |
| В) теплой       | Е) гидросферный | И) ливневые |            |

Ответ: 1 \_\_\_\_, 2 \_\_\_\_, 3 \_\_\_\_, 4 \_\_\_\_, 5 \_\_\_\_, 6 \_\_\_\_

**2. Среди буквенной неразберихи отыщите и вычеркните названия физико-географических объектов Африки. Какие категории объектов они обозначают?**

И	С	А	Л	Т	А
Л	К	Е	Н	И	Я
А	Р	А	Х	А	С
М	Р	Е	М	А	К
О	У	И	Г	О	Л
С	Н	Й	Ы	Н	Ь

---

---

---

---

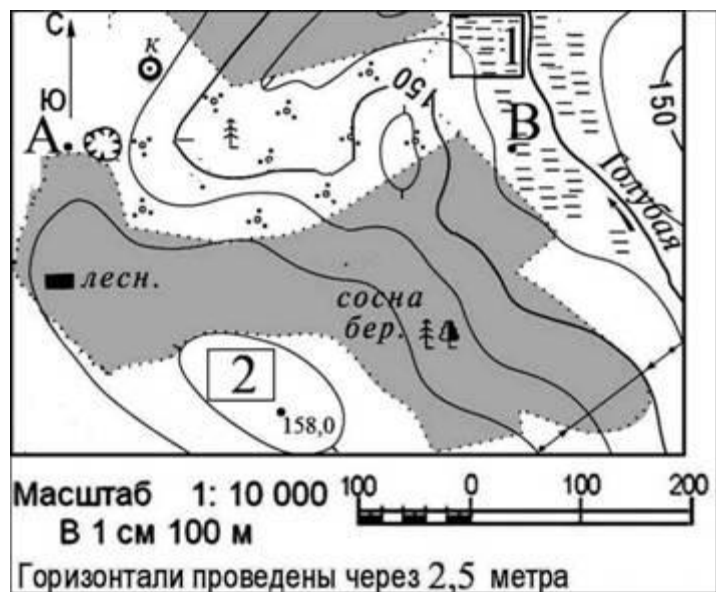
---

---

---

---

**3. Лесник хочет построить небольшую ветряную электростанцию для снабжения своего дома электроэнергией. Для строительства выделили два участка, обозначенные на карте цифрами 1 и 2. Лесник выбрал участок 2 потому, что он ближе к дому. Чем еще участок 2 лучше, чем участок 1, для строительства ветряной электростанции? Назовите еще два преимущества.**



Ответ

---



---

4. Многие географические объекты похожи друг на друга по своим природным особенностям, хотя располагаются в разных уголках нашей планеты. Подберите российские аналоги для таких известных географических объектов мира, как приведённые в таблице ниже. Для каждой пары «двойников» постарайтесь назвать две причины их сходств.

Географический объект	Аналог России	в	Сходства
Эри и Онтарио			
Лабрадор			
Миссисипи			
Танганьика			
Кракатау			
Альпы			

--	--	--

**5. Прочитайте приведенный ниже текст, в котором пропущен ряд слов. Выберите из предлагаемого списка слова, которые необходимо вставить на места пропусков.** Выбирайте последовательно одно слово за другим, мысленно вставляя на места пропусков слова из списка в нужной форме. Обратите внимание на то, что слов в списке больше, чем Вам потребуется для заполнения пропусков. Каждое слово может быть использовано только один раз.

Тайга Русской равнины – это хвойные леса на \_\_\_\_\_ (А) почвах. На Русской равнине тайга расположена в \_\_\_\_\_ (Б) климатическом поясе. Климат тайги характеризуется невысокими летними температурами. В тайге среднегодовое количество атмосферных осадков \_\_\_\_\_ (В) испаряемости. В тайге Русской равнины при движении с севера на юг наблюдаются зональные изменения ландшафта, позволяющие различать в ней три подзоны: северную, типичную и южную.

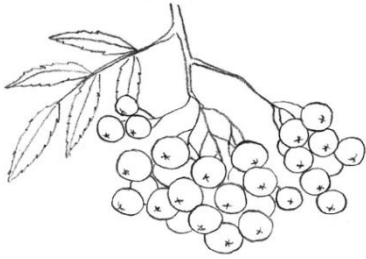



Слова для вставки:

1) умеренный 2) субарктический 3) подзолистый 4) чернозёмный 5) больше 6) меньше

Ответ: А \_\_\_\_, Б \_\_\_\_, В \_\_\_\_

**Найдите ошибку в перечне растений таёжной зоны:** сосна, ель, черника, кедр, рябина, брусника, полынь, ольха, пижма, череда (выберите (подчеркните) растение, которое не растет в этой природной зоне).

Подпишите под каждым рисунком соответствующее название растения из перечня выше:

6. На международную географическую олимпиаду приехали индус, австриец, шотландец, ирландец, тунисец, японец, мексиканец. Нужно узнать гостей в потоке пассажиров (участники олимпиады одеты в национальные костюмы), поприветствовать в соответствии с традициями их народов, а также заказать для них приветственный обед, включающий привычные для них блюда. Для этого выберите подходящие буквы из перечня ниже и впишите их в соответствующий столбец напротив нужной страны.

Страна	Одежда	Приветствие	Блюда
Индия			
Австрия			
Ирландия			
Тунис			
Япония			
Шотландия			
Мексика			

Одежда: а) Кимоно; б) Джебба, барнус, чечия; в) Килт; г) В одежде обязательно будет что-то зеленое, изображение трилистника; д) Сомбреро, пончо; е) Ледерхозе (кожаные шорты), тирольская шляпа; ж) Сари, дхоти, лунги, шервани, тюрбан.

Приветствие: а) Поклон, правой рукой прикоснуться ко лбу, затем к губам, затем к сердцу; б) Рукопожатие, объятие; в) Ай-ай; г) Поднятый вверх указательный палец; д) «Намасте» (руки, сжатые ладонями перед грудью); е) Рукопожатие; ж) Поклон от пояса.

Блюда: а) Карри, масала, тхали (рис с лепешкой), гхи (топленое масло), сабджи (бобы и овощи); б) Картофельное пюре, пудинг, баранина, ирландское рагу, коддл; в) Суши, сашими, такаяки, тэмпура; г) Шницель, бакхун (курица), яблочный штрудель, кофе; д) Кускус, тажин, табуна (лепешки), шорба; е) Тортилья, такос, тамалес (кукурузные лепешки), суп из фасоли, буритто, кесадилья. сальса; ж) Хаггис, картофель (клэпшот, стовиз), рыба (лосось), овсяная каша (лепешки), форфар бридиз (пироги с подливой).