

**ВОПРОСЫ ВТОРОГО (МУНИЦИПАЛЬНОГО) ЭТАПА ВСЕРОССИЙСКОЙ
ОЛИМПИАДЫ ШКОЛЬНОВ ПО ГЕОГРАФИИ**

ТЕОРЕТИЧЕСКИЙ РАУНД
7 КЛАСС

1. Выберите в каждой строке «лишнее» название и дайте объяснение своему выбору:

- А. Бассов, Татарский, Бенгальский, Берингов, Мозамбикский**
- Б. Алтай, Альпы, Алдан, Анды, Апеннины**
- В. Обь, Янцзы, Ока, Конго, Дунай**
- Г. Индостан, Ирландия, Сахалин, Суматра, Тасмания**
- Д. Мексиканский, Ла-Манш, Карпентария, Персидский, Финский**
- Е. Корея, Камчатка, Куба, Кейп-Йорк, Калифорния**

ОТВЕТ запишите ниже:

- А. «лишнее» название: _____
объяснение: _____

- Б. «лишнее» название: _____
объяснение: _____

- В. «лишнее» название: _____
объяснение: _____

- Г. «лишнее» название: _____
объяснение: _____

- Д. «лишнее» название: _____
объяснение: _____

- Е. «лишнее» название: _____
объяснение: _____

2. В 1487 году экспедиция искавшая путь в Индию, достигла того места, где берег материка уже поворачивал к востоку, и попала в жестокий шторм. Поэтому крайняя южная точку этого материка была названа путешественником *мысом Бурь*.

- 1. Кто руководил этой экспедицией? _____**
- 2. Как называется материк? _____**
- 3. Как сейчас называется этот мыс? _____**

3. Какие сегодня время года, день и месяц на побережье второго по глубине озера мира?

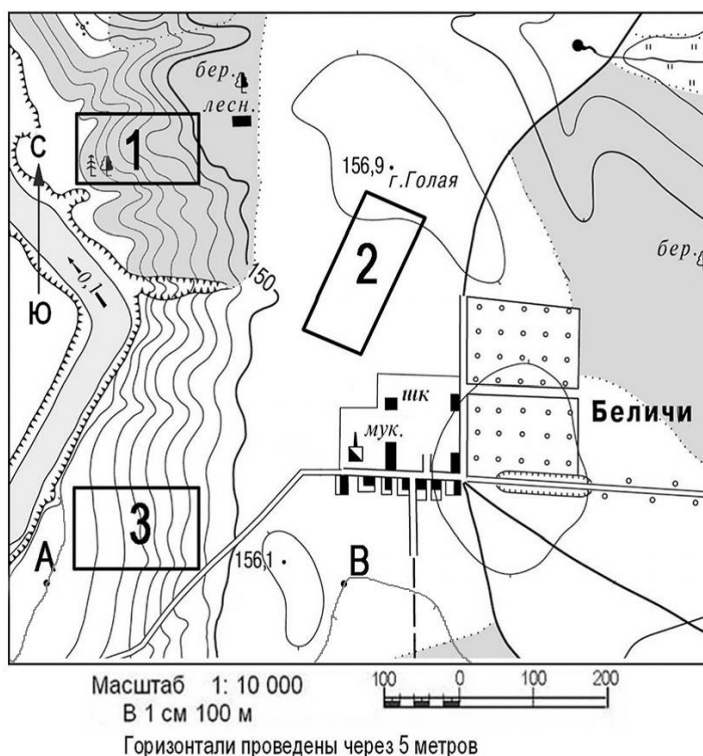
1. Время года _____

2. Дата _____

ВОПРОСЫ ВТОРОГО (МУНИЦИПАЛЬНОГО) ЭТАПА ВСЕРОССИЙСКОЙ ОЛИМПИАДЫ ШКОЛЬНОВ ПО ГЕОГРАФИИ

3. Месяц _____

4. Для выполнения задания используйте топографическую карту.



1) Определите расстояние от домика лесника до мукомольного предприятия. Ответ запишите цифрами, округлив полученный результат до десятков метров.

2) Найдите высшую абсолютную точку в пределах изображенной территории и ответьте на вопросы:

→ укажите её название и её абсолютную высоту _____

определите от нее до школы:

→ азимут _____

→ расстояние _____

3) Определите, какой из участков местности, обозначенных на карте цифрами 1, 2, 3 лучше выбрать для размещения волейбольной площадки. Для обоснования своего ответа приведите не менее двух доводов:

4) Определите абсолютную высоту, на которой расположен родник, и направление в котором течет родниковый ручей:

5) В какой части плана изображена река? _____

**ВОПРОСЫ ВТОРОГО (МУНИЦИПАЛЬНОГО) ЭТАПА ВСЕРОССИЙСКОЙ
ОЛИМПИАДЫ ШКОЛЬНОВ ПО ГЕОГРАФИИ**

Приведите ее основные характеристики:

→ направление течения реки _____

→ скорость течения _____

→ ширину русла _____

→ описание правого и левого берегов _____

5. Февральской ночью 1911 г. жители Бартанга проснулись от невероятного гула, идущего из недр земли. Гул сопровождался оглушительным каменным грохотом. Казалось, что где-то вверху разбушевался невидимый джин, ломающий памирского исполина. С вершин летели гигантские обломки скал. Перепуганные люди чувствовали себя, как на зыбких волнах; под ногами ходила почва. Над кишлаком Усой несколько дней кружились клубы густой пыли. А когда пыль рассеялась, в русле реки люди увидели нерукотворную каменную стену полукилометровой высоты. Образовавшаяся из обломков стена перегородила бурную реку. Так появился «Байкал» Памира.

1. Что произошло этой ночью в Памире?: _____

2. Как называется река? _____

3. Как называется образовавшийся объект на географической карте?:

**ВОПРОСЫ ВТОРОГО (МУНИЦИПАЛЬНОГО) ЭТАПА ВСЕРОССИЙСКОЙ
ОЛИМПИАДЫ ШКОЛЬНОВ ПО ГЕОГРАФИИ**

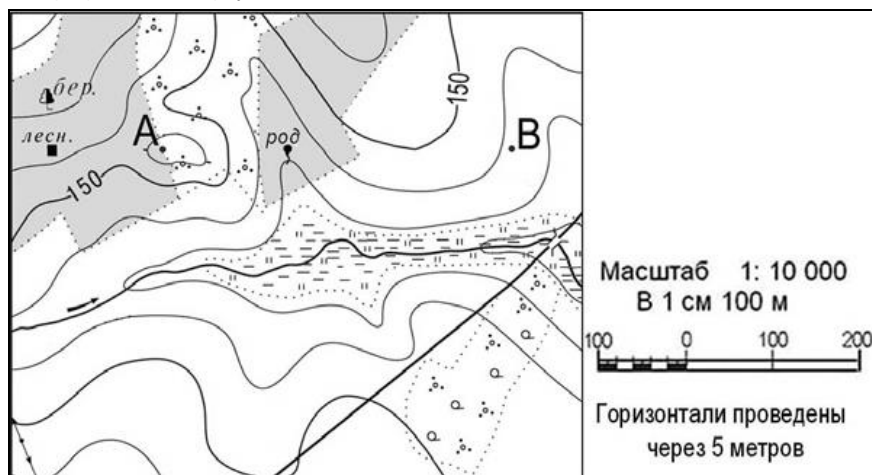
ТЕСТОВЫЙ РАУНД

7 КЛАСС

1. Какой минерал именуется горным хрусталем?:

- | | |
|--------------------------|--------------|
| <input type="checkbox"/> | А. Аквамарин |
| <input type="checkbox"/> | Б. Алмаз |
| <input type="checkbox"/> | В. Кварц |
| <input type="checkbox"/> | Г. Опал |

2. Определите по карте азимут от родника на дом лесника:




- | | |
|--------------------------|---------|
| <input type="checkbox"/> | А. 360° |
| <input type="checkbox"/> | Б. 90° |
| <input type="checkbox"/> | В. 270° |
| <input type="checkbox"/> | Г. 180° |

3. Назовите страну, где самая высокая вершина и пролив между крупнейшими островами названы в честь английского путешественника совершившего несколько кругосветных экспедиций:

- | | |
|--------------------------|-------------------|
| <input type="checkbox"/> | А. Филиппины |
| <input type="checkbox"/> | Б. Великобритания |
| <input type="checkbox"/> | В. Индонезия |
| <input type="checkbox"/> | Г. Новая Зеландия |

4. Установите соответствие между фрагментом карты и рисунком, характеризующим его:



**ВОПРОСЫ ВТОРОГО (МУНИЦИПАЛЬНОГО) ЭТАПА ВСЕРОССИЙСКОЙ
ОЛИМПИАДЫ ШКОЛЬНОВ ПО ГЕОГРАФИИ**

<i>Фрагмент карты</i>	<i>Рисунок</i>
А.	1.
Б.	2.
В.	3.

Ответ запишите в таблицу. Рядом с буквой поставьте соответствующую цифру:

А	Б	В
---	---	---

5. Как называется самый плотный слой атмосферы?:

- А. Тропосфера
- Б. Стратосфера
- В. Термосфера
- Г. Мезосфера

6. Установите соответствие между столбцами:

<i>Тип объекта</i>	<i>Географический объект</i>
А. Вулкан	1. Сагарматха
Б. Пролив	2. Попокатепетль
В. Гора	3. Каттегат
Г. Водопад	4. Илья Муромец
	5. Кейп-Йорк

Ответ запишите в таблицу. Рядом с буквой поставьте соответствующую цифру:

А	Б	В	Г
---	---	---	---

7. Закончите определение: «Геоид – это...»:

- А. Искусственный спутник Земли
- Б. Форма Земли
- В. Поверхность Земли
- Г. Элемент внутренней структуры Земли

8. В каком направлении дуют пассаты Северного полушария?:

- А. С юго-запада на северо-восток
- Б. С юго-востока на северо-запад
- В. С северо-запада на юго-восток
- Г. С северо-востока на юго-запад

9. Какой полуостров расположен между Японским и Желтым морями?

- А. Индокитай
- Б. Корея
- В. Чукотский
- Г. Шаньдунский

10. Выберите название географического объекта, которое относится к Африке:

- А. Тибет
- Б. Тибести
- В. Гвианское нагорье

**ВОПРОСЫ ВТОРОГО (МУНИЦИПАЛЬНОГО) ЭТАПА ВСЕРОССИЙСКОЙ
ОЛИМПИАДЫ ШКОЛЬНОВ ПО ГЕОГРАФИИ**

Г. Аппалачи

11. Безлесные пространства с господством трав в умеренном климатическом поясе Северной Америки называют:

- А. Пампа
- Б. Степи
- В. Гилея
- Г. Прерии

12. Кто из перечисленных русских исследователей внес большой вклад в изучение Африки?

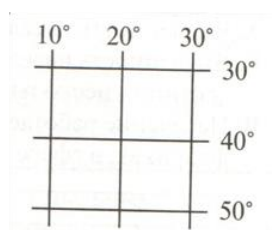
- А. В. Юнкер
- Б. В. Поярков
- В. Н. Пржевальский
- Г. С. Крашенинников

13. Какая из перечисленных рек несут свои воды в Атлантический океан?

- А. Енисей
- Б. Лимпопо
- В. Оранжевая
- Г. Макензи

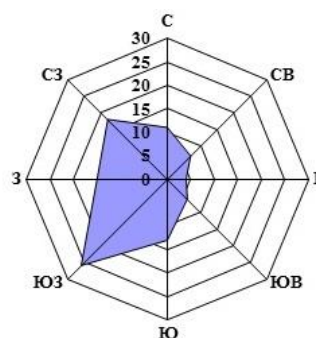
14. В каких полушариях может находиться данная часть градусной сетки?:

- А. В Восточном и Южном
- Б. В Восточном и Северном
- В. В Западном и южном
- Г. В Западном и Северном



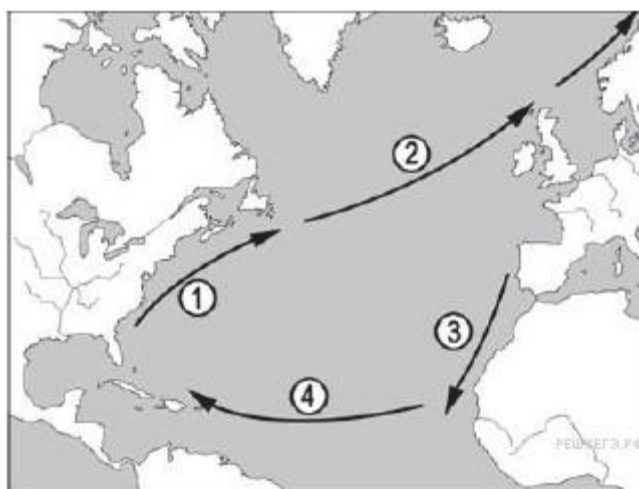
15. Определите по розе ветров, какое направление ветра преобладает в данном населенном пункте?:

- А. Восточное
- Б. Северо-западное
- В. Южное
- Г. Юго-западное



16. Какое из обо-

- А. 1
- Б. 2
- В. 3
- Г. 4



значенных цифрами на карте течений будет холодным?

**ВОПРОСЫ ВТОРОГО (МУНИЦИПАЛЬНОГО) ЭТАПА ВСЕРОССИЙСКОЙ
ОЛИМПИАДЫ ШКОЛЬНОВ ПО ГЕОГРАФИИ**

17. Определите, какие из перечисленных объектов не встретили на своём пути участники первой кругосветной экспедиции Фернана Магелана:

- | | |
|--------------------------|---------------------------|
| <input type="checkbox"/> | А. Южная Америка |
| <input type="checkbox"/> | Б. Малайский архипелаг |
| <input type="checkbox"/> | В. Красное море |
| <input type="checkbox"/> | Г. Апеннинский полуостров |
| <input type="checkbox"/> | Д. Тихий океан |
| <input type="checkbox"/> | Е. Остров Сахалин |
| <input type="checkbox"/> | Ж. Острова Огненная Земля |
| <input type="checkbox"/> | З. Аравийский полуостров |
| <input type="checkbox"/> | И. Филиппинские острова |

18. Установите соответствие между материками и географическими объектами:

<i>Материк</i>	<i>Объект</i>
А. Африка	1. влк. Эребус
Б. Евразия	2. оз. Титикака
В. Южная Америка	3. р. Ангара
Г. Северная Америка	4. г. Косцюшко
Д. Австралия	5. Флорида
Е. Антарктида	6. Атлас

Ответ запишите в таблицу. Рядом с буквой поставьте соответствующую цифру:

А	Б	В	Г	Д	Е
---	---	---	---	---	---

19. Какой районный центр Калужской области находится ближе к Калуге:

- | | |
|--------------------------|--------------|
| <input type="checkbox"/> | А. Мещовск |
| <input type="checkbox"/> | Б. Козельск |
| <input type="checkbox"/> | В. Ферзиково |
| <input type="checkbox"/> | Г. Боровск |

20. Установите соответствие между главными реками Калужской области и их притоками:

<i>Главная река</i>	<i>Приток</i>
А. Угра	1. Рессета
Б. Протва	2. Неполоть
В. Жиздра	3. Ресса
Г. Болва	4. Нара
	5. Лужа

Ответ запишите в таблицу. Рядом с буквой поставьте соответствующую цифру:

А	Б	В	Г
---	---	---	---

**ВОПРОСЫ ВТОРОГО (МУНИЦИПАЛЬНОГО) ЭТАПА ВСЕРОССИЙСКОЙ
ОЛИМПИАДЫ ШКОЛЬНОВ ПО ГЕОГРАФИИ**
