

**ВОПРОСЫ ВТОРОГО (МУНИЦИПАЛЬНОГО) ЭТАПА ВСЕРОССИЙСКОЙ
ОЛИМПИАДЫ ШКОЛЬНИКОВ ПО ГЕОГРАФИИ**

ТЕОРЕТИЧЕСКИЙ РАУНД
9 КЛАСС

1. Выберите в каждой строке «лишнее» название и дайте объяснение своему выбору:

А.	Онежское, Ладожское, Азовское, Телецкое, Ханка
Б.	Карское, Лаптевых, Чукотское, Берингово, Баренцево
В.	Боровск, Вязьма, Козельск, Юхнов, Таруса
Г.	Брянская, Тверская, Калужская, Рязанская, Псковская
Д.	Краснодар, Воронеж, Москва, Самара, Уфа
Е.	Усть-Луга, Находка, Туапсе, Калуга, Таганрог

ОТВЕТ запишите ниже:

А. «лишнее» название: _____
объяснение: _____

Б. «лишнее» название: _____
объяснение: _____

В. «лишнее» название: _____
объяснение: _____

Г. «лишнее» название: _____
объяснение: _____

Д. «лишнее» название: _____
объяснение: _____

Е. «лишнее» название: _____
объяснение: _____

2. Название этой горной страны означает «горы», «холмы», высшая точка этих гор лежит на высоте всего 1191 м, а в основе – щит древней платформы. В этих горах обнаружены самые крупные в мире месторождения минерала, содержащего фосфор. Его также называют «хлебным» камнем за особенности применения в хозяйстве. Укажите горную страну, тектоническую структуру, в пределах которой она расположена; минерал и то, что из него производят:

1) горная страна _____

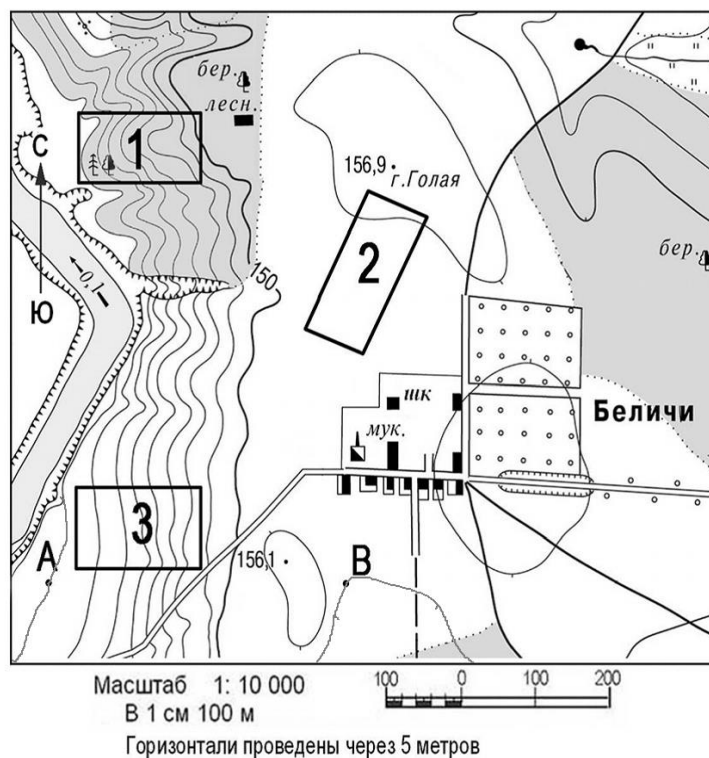
2) тектоническая структура _____

3) «хлебный» минерал _____

4) продукт, производимый из него _____

3. Для выполнения задания используйте топографическую карту.

ВОПРОСЫ ВТОРОГО (МУНИЦИПАЛЬНОГО) ЭТАПА ВСЕРОССИЙСКОЙ ОЛИМПИАДЫ ШКОЛЬНИКО ПО ГЕОГРАФИИ



1) Определите расстояние от домика лесника до мукомольного предприятия. Ответ запишите цифрами, округлив полученный результат до десятков метров.

2) Найдите высшую абсолютную точку в пределах изображенной территории и ответьте на вопросы:

→ укажите её название и её абсолютную высоту _____

определите от нее до школы:

→ азимут _____

→ расстояние _____

3) Определите, какой из участков местности, обозначенных на карте цифрами 1, 2, 3 лучше выбрать для размещения волейбольной площадки. Для обоснования своего ответа приведите не менее двух доводов:

4) Определите абсолютную высоту, на которой расположен родник, и направление в котором течет родниковый ручей:

5) В какой части плана изображена река? _____

Приведите ее основные характеристики:

→ направление течения реки _____

→ скорость течения _____

ВОПРОСЫ ВТОРОГО (МУНИЦИПАЛЬНОГО) ЭТАПА ВСЕРОССИЙСКОЙ ОЛИМПИАДЫ ШКОЛЬНИКОВ ПО ГЕОГРАФИИ

→ ширину русла _____

→ описание правого и левого берегов _____

4. Используя ваши географические знания, определите, какой регион России изображен на почтовых марках Федерального Агентства связи. Объясните свой выбор.

1



Субъект: _____

Объяснение:

2



Субъект: _____

Объяснение:

3



Субъект: _____

Объяснение:

**ВОПРОСЫ ВТОРОГО (МУНИЦИПАЛЬНОГО) ЭТАПА ВСЕРОССИЙСКОЙ
ОЛИМПИАДЫ ШКОЛЬНИКОВ ПО ГЕОГРАФИИ**

5. Определите народы России по их самоназваниям, и укажите республики, в которых они являются титульными народами. Ответ оформите в виде таблицы:

Самоназвание народа	Официальное название народа	Республика, в которой народ является титульным
Галгаи		
Ирон		
Карачайлыла		
Карьялайзет		
Коми		
Марий		
Нохчий		
Ойроты		
Саха		
Хальмг		

**ВОПРОСЫ ВТОРОГО (МУНИЦИПАЛЬНОГО) ЭТАПА ВСЕРОССИЙСКОЙ
ОЛИМПИАДЫ ШКОЛЬНИКОВ ПО ГЕОГРАФИИ**

ТЕСТОВЫЙ РАУНД

9 КЛАСС

1. **Укажите самый молодой по дате основания город-миллионер России:**
 А. Пермь
 Б. Воронеж
 В. Красноярск
 Г. Новосибирск

2. **Выберите промышленный центр России, в котором сырьем для получения бумаги является тростник:**
 А. Байкальск
 Б. Кондопога
 В. Астрахань
 Г. Сыктывкар

3. **В 1920 г. на Южном Урале был создан первый в мире минералогический заповедник. Главная его достопримечательность – огромная коллекция минералов. Как называется этот заповедник?:**
 А. Ильменский
 Б. Печоро-Илычский
 В. Башкирский
 Г. Южно-Уральский

4. **Укажите республику, которая граничит только с одним субъектом Российской Федерации:**
 А. Ингушетия
 Б. Хакасия
 В. Алтай
 Г. Адыгея

5. **В основании Западно-Сибирской равнины лежит:**
 А. Щит
 Б. Плита
 В. Область древней складчатости
 Г. Область мезозойской складчатости

6. **Выберите группу городов, в которых представлены центры легкового автомобилестроения:**
 А. Миасс, Серпухов, Москва
 Б. Набережные Челны, Воронеж, Нижний Новгород
 В. Тольятти, Калуга, Ижевск
 Г. Саратов, Уфа, Курган

7. **Определите регион по его краткому описанию:**
Эта область расположена в лесной зоне. Имеет пограничное положение с одной из стран СНГ. По ее территории проходят важнейшие транспортные магистрали, связывающие Россию со странами Западной Европы. Исторически по ее территории прохо-

**ВОПРОСЫ ВТОРОГО (МУНИЦИПАЛЬНОГО) ЭТАПА ВСЕРОССИЙСКОЙ
ОЛИМПИАДЫ ШКОЛЬНИКО ПО ГЕОГРАФИИ**

дил путь «из варяг в греки». Административный центр называют «Ключ-город». Энергией хозяйство области обеспечивает крупная современная АЭС:

- А. Ленинградская область
- Б. Тверская область
- В. Калужская область
- Г. Смоленская область

8. Кто из перечисленных путешественников исследовал наиболее северные районы нашей страны?:

- А. Н.Пржевальский
- Б. И. Черский
- В. Е. Хабаров
- Г. И. Москвитин

9. Выберите самый древний город на территории Российской Федерации:

- А. Самарканд
- Б. Дербент
- В. Великий Новгород
- Г. Владимир

10. Какой из перечисленных народов относится к коренному населению Камчатки?:

- А. Коряки
- Б. Коми
- В. Ненцы
- Г. Эвенки

11. Установите соответствие между субъектом Российской Федерации и его административным центром:

<i>Субъект РФ</i>	<i>Административный центр</i>
А. Ненецкий автономный округ	1. Чита
Б. Забайкальский край	2. Благовещенск
В. Удмуртская республика	3. Йошкар-Ола
Г. Амурская область	4. Забайкальск
Д. Республика Марий Эл	5. Нарьян-Мар
	6. Ижевск

Ответ запишите в таблицу. Рядом с буквой поставьте соответствующую цифру:

А	Б	В	Г	Д
---	---	---	---	---

12. Перед Вами стоит задача, где лучше разместить новое предприятие по выплавке алюминия. Известно, что в данном месте сырьевым фактором можно пренебречь. В каком из предложенных регионов России Вы бы это сделали:

- А. Рязанская область
- Б. Ставропольский край
- В. Калининградская область
- Г. Иркутская область

**ВОПРОСЫ ВТОРОГО (МУНИЦИПАЛЬНОГО) ЭТАПА ВСЕРОССИЙСКОЙ
ОЛИМПИАДЫ ШКОЛЬНИКО ПО ГЕОГРАФИИ**

13. Установите соответствие между субъектом федерации и цифрой, которой он обозначен на карте:



<i>Субъект РФ</i>	<i>Цифра на карте</i>
А. Забайкальский край	1. 1
Б. Омская область	2. 2
В. Челябинская область	3. 3
	4. 4

Ответ запишите в таблицу. Рядом с буквой поставьте соответствующую цифру:

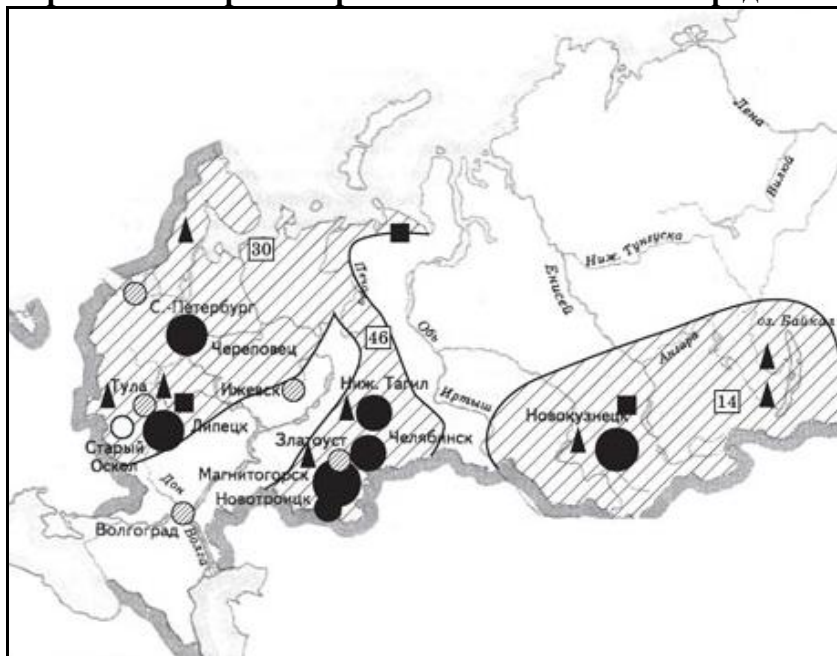
А	Б	В
---	---	---

14. Выберите верное утверждение:

- А. Большая часть электроэнергии в России производится на ГЭС
- Б. Большая часть автомобилей в России производится в Поволжье
- В. Центральный Федеральный округ объединяет 18 субъектов Федерации
- Г. В 2014 г. численность населения России продолжала сокращаться
- Д. Основные запасы железных руд сосредоточены в азиатской части России
- Е. Река Обь является наиболее перспективной для строительства ГЭС
- Ж. Россия граничит с 5 странами-членами НАТО

**ВОПРОСЫ ВТОРОГО (МУНИЦИПАЛЬНОГО) ЭТАПА ВСЕРОССИЙСКОЙ
ОЛИМПИАДЫ ШКОЛЬНИКО ПО ГЕОГРАФИИ**

15. Основные центры какой отрасли промышленности России представлены на карте?:




- А. Производство минеральных удобрений
- Б. Чёрная металлургия
- В. Угольная промышленность
- Г. Алюминиевая промышленность

16. Русское географическое общество было основано в ...:

- А. 1745 году
- Б. 1815 году
- В. 1845 году
- Г. 1945 году

17. В каких полушариях может находиться данная часть градусной сетки?:

- А. В Восточном и Южном
- Б. В Восточном и Северном
- В. В Западном и южном
- Г. В Западном и Северном



18. Выберите верные утверждения о Калужской области:

- А. На территории Калужской области находится высшая точка Среднерусской возвышенности
- Б. Железные руды Подмосковского бассейна отличаются низким качеством
- В. Перепад высот в Калужской области не превышает 180 м
- Г. Наибольшее количество осадков в Калужской области выпадает в октябре
- Д. Самым продолжительным сезоном в Калужской области является зима

**ВОПРОСЫ ВТОРОГО (МУНИЦИПАЛЬНОГО) ЭТАПА ВСЕРОССИЙСКОЙ
ОЛИМПИАДЫ ШКОЛЬНИКОВ ПО ГЕОГРАФИИ**

- | | | | |
|--------------------------|---|------------|----------|
| <input type="checkbox"/> | Е. Атмосферное давление на территории Калужской области ниже, чем на побережье Балтийского моря | 19. | У |
| <input type="checkbox"/> | Ж. Реки Калужской области имеют преимущественно дождевое питание | | с |
| <input type="checkbox"/> | З. Большая часть территории Калужской области относится к бассейну Каспийского моря | | т |
| | | | а |
| | | | н |
| | | | о |

вите соответствие между главными реками Калужской области и их притоками:

Главная река

Приток

А. Угра

1. Ресета

Б. Протва

2. Неполоть

В. Жиздра

3. Ресса

Г. Болва

4. Нара

5. Лужа

Ответ запишите в таблицу. Рядом с буквой поставьте соответствующую цифру:

А	Б	В	Г
---	---	---	---

20. Ближайшая к Калуге действующая атомная электростанция расположена в городе:

- | | |
|--------------------------|---------------|
| <input type="checkbox"/> | А. Обнинск |
| <input type="checkbox"/> | Б. Курчатов |
| <input type="checkbox"/> | В. Десногорск |
| <input type="checkbox"/> | Г. Удомля |

**ВОПРОСЫ ВТОРОГО (МУНИЦИПАЛЬНОГО) ЭТАПА ВСЕРОССИЙСКОЙ
ОЛИМПИАДЫ ШКОЛЬНИКОВ ПО ГЕОГРАФИИ**
