

**ВОПРОСЫ ВТОРОГО (МУНИЦИПАЛЬНОГО) ЭТАПА ВСЕРОССИЙСКОЙ
ОЛИМПИАДЫ ШКОЛЬНИКОВ ПО ГЕОГРАФИИ 2021-22**

ТЕОРЕТИЧЕСКИЙ ТУР
11 КЛАСС

1. САМЫЕ-САМЫЕ

На каждом материке есть свои уникальные географические объекты. Ответьте на поставленные вопросы и запишите названия географических объектов в соответствующие ячейки таблицы.

| Номер вопроса | Австралия | Африка | Евразия | Северная Америка | Южная Америка |
|---------------|-----------|--------|---------|------------------|---------------|
| 1. | | | | | |
| 2. | | | | | |
| 3. | | | | | |
| 4. | | | | | |

1. Запишите названия самых полноводных рек приведённых в таблице материков. Подчеркните самую полноводную из них.
2. Запишите названия самых длинных рек приведённых в таблице материков. Подчеркните самую протяжённую из них.
3. Запишите названия самых больших по площади озёр приведённых в таблице материков. Подчеркните самое большое из них.
4. Запишите названия самых высоких вершин приведённых в таблице материков. Подчеркните самую высокую из них.

2. РАЗМЕЩАЕМ ПРЕДПРИЯТИЯ

Представьте, что Вы готовите аналитическую записку руководству транснациональной корпорации по возможностям развития бизнеса. Перед Вами стоит задача обоснования размещения новых предприятий с точки зрения экономической эффективности производства (главным образом, за счёт сравнительно низкой себестоимости, специфичной для соответствующей отрасли).

Для оптимального размещения предприятий, различных отраслей, производящих следующие виды продукции:

- 1) первичный алюминий;
- 2) лекарственные препараты;
- 3) нефтехимическая продукция;
- 4) металлическая медь;
- 5) швейные изделия.

Приведите по одной стране из приведённого ниже списка для каждого из видов продукции с обоснованием ключевой причины Вашего выбора.

Список стран:

Бангладеш, Замбия, Израиль, Исландия, Катар.

| Страна | Производство | Обоснование |
|--------|--------------|-------------|
| | | |
| | | |

**ВОПРОСЫ ВТОРОГО (МУНИЦИПАЛЬНОГО) ЭТАПА ВСЕРОССИЙСКОЙ
ОЛИМПИАДЫ ШКОЛЬНИКОВ ПО ГЕОГРАФИИ 2021-22**

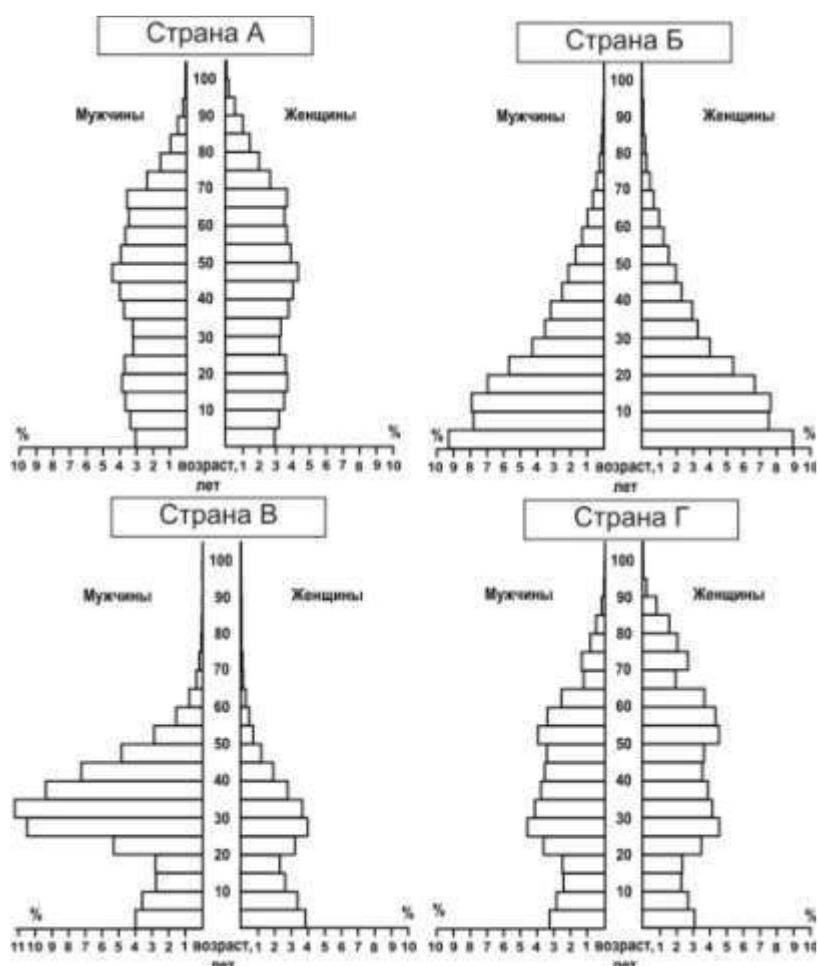
| | | |
|--|--|--|
| | | |
| | | |
| | | |

3. ЧЬЯ ПИРАМИДКА

На рисунке показаны возрастно-половые пирамиды, составленные на 2012 г. для населения четырёх стран:

- ~ Объединённых Арабских Эмиратов,
- ~ Афганистана,
- ~ Дании,
- ~ России.

Для каждой из перечисленных стран определите соответствующую ей пирамиду. В каждом случае поясните, какие особенности возрастной структуры населения, и какие особенности воспроизводства населения в этих странах позволили Вам сделать выбор. Ответ оформите в виде таблицы.



**ВОПРОСЫ ВТОРОГО (МУНИЦИПАЛЬНОГО) ЭТАПА ВСЕРОССИЙСКОЙ
ОЛИМПИАДЫ ШКОЛЬНИКОВ ПО ГЕОГРАФИИ 2021-22**

Таблица для ответа

| Страна | Обозначение пирамиды на рисунке | Особенности воспроизводства населения |
|------------|---------------------------------|---------------------------------------|
| ОАЭ | | |
| Афганистан | | |
| Дания | | |
| Россия | | |

4. Найдите соответствие между изображёнными на флагах государств мира растениями и животными и следующими государствами:
Канада, Кирибати, Ливан, Шри-Ланка.
Как называются эти растения и животные?
Ответ запишите в виде таблицы.



Таблица для ответа

| Страна | Обозначение флага на рисунке | Растение / Животное |
|-----------|------------------------------|---------------------|
| Канада | | |
| Кирибати | | |
| Ливан | | |
| Шри-Ланка | | |

**ВОПРОСЫ ВТОРОГО (МУНИЦИПАЛЬНОГО) ЭТАПА ВСЕРОССИЙСКОЙ
ОЛИМПИАДЫ ШКОЛЬНИКОВ ПО ГЕОГРАФИИ 2021-22**

5. СТОЛИЦЫ: ДАЛЁКИЕ И БЛИЗКИЕ

Определите столицы и государства. Запишите названия столиц и соответствующих им государств в порядке удаления (от самого близкого к самому дальнему) от аудитории, в которой Вы находитесь в настоящее время.

1. Столица самого большого федеративного государства в мире.
2. Столица, в которой находится штаб-квартира ОПЕК.
3. Столица самого большого государства, лежащего полностью в южном полушарии.
4. Столица государства с самым большим в мире населением, исповедующим ислам.
5. Столица самого большого государства в Зарубежной Европе.

ОТВЕТ ОФОРМИТЕ В ВИДЕ ЗАПОЛНЕННОЙ ТАБЛИЦЫ


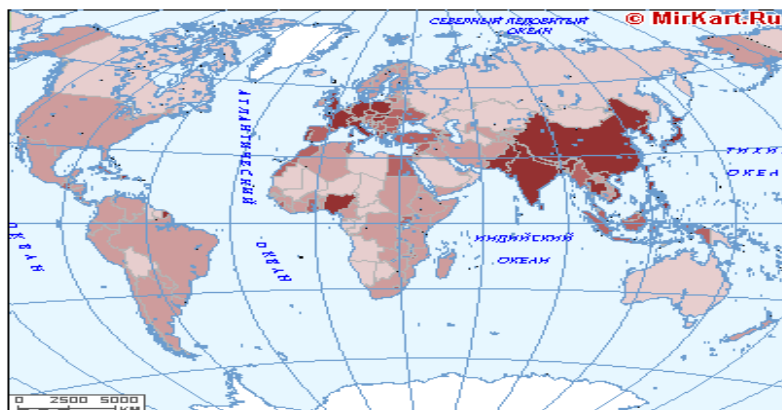
(государства и их столицы расположите в порядке удаления от Вашей аудитории)

| Название столицы | Название государства |
|------------------|----------------------|
| | |
| | |
| | |
| | |
| | |

ТЕСТОВЫЙ ТУР

11 КЛАСС

1. **Какое из этих названий не является названием высшей точки планеты:**
А) Демавенд В) Сагарматха
Б) Эверест Г) Джомолунгма
2. **Какой из этих городов является крупнейшим по численности в своем регионе:**
А) Череповец В) Северодвинск
Б) Елец Г) Нижний Тагил
3. **Кто из нижеперечисленных ученых написал труд «Русский чернозем» и предложил современную генетическую классификацию почв:**
А) А.И. Воейков В) П.А. Кропоткин
Б) В.В. Докучаев Г) И.Д. Черский
4. **Уголь какого из перечисленных бассейнов может использоваться в производственном цикле черной металлургии:**
А) Подмосковного В) Иркутского
Б) Канско-Ачинского Г) всех вышеперечисленных
5. **Какой из этих архипелагов принадлежит Индии:**
А) Мальдивские острова В) Амирантские острова
Б) Кокосовые острова Г) Лаккадивские острова
6. **Какое явление изображено на карте:**



- А) природные зоны В) плотность населения мира
Б) почвы мира Г) годовое количество осадков
7. **Сколько субъектов Российской Федерации насчитывается в настоящее время:**
А) 88 В) 79
Б) 85 Г) 45
8. **Самый большой по численности населения субъект Российской Федерации – это:**
А) Краснодарский край В) Республика Саха (Якутия)
Б) Республика Алтай Г) Ленинградская область
9. **Производство какого вида продукции транспортного машиностроения представлено в таких центрах как Брянск, Людиново, Коломна, Муром, Калуга:**
А) пассажирских вагонов В) электровозов

**ВОПРОСЫ ВТОРОГО (МУНИЦИПАЛЬНОГО) ЭТАПА ВСЕРОССИЙСКОЙ
ОЛИМПИАДЫ ШКОЛЬНИКОВ ПО ГЕОГРАФИИ 2021-22**

- 19. Выберите тройку столиц субъектов Российской Федерации, коренные жители которых исповедуют общую религию:**
А) Горно-Алтайск, Нарьян-Мар, Улан-Удэ
Б) Кызыл, Абакан, Элиста
В) Горно-Алтайск, Уфа, Кызыл
Г) Кызыл, Улан-Удэ, Элиста
- 20. Выберите столицу страны, входящей в первую десятку стран по численности населения:**
А) Абуджа В) Канберра
Б) Буэнос-Айрес Г) Мехико
- 21. Какая из стран не является членом Европейского союза:**
А) Дания В) Норвегия
Б) Словения Г) Литва
- 22. Среди микрогосударств Европы укажите республику**
А) Лихтенштейн В) Монако
Б) Сан-Марино Г) Сингапур
- 23. К какому бассейну стока рек относится административный центр Калужской области?:**
А) Атлантического океана В) Северного Ледовитого океана
Б) Тихого океана Г) Внутреннего стока
- 24. Какая река в Калужской области протекает по наибольшему количеству районов (муниципальных образований):**
А) Ока В) Нара
Б) Угра Г) Жиздра
- 25. В Калужской области есть административные центры районов, названия которых не совпадают с названиями районов. Выберите строку, в которой указаны такие райцентры:**
А) Кондрово и Киров В) Бетлица и Кондрово
Б) Киров и Бетлица Г) Обнинск и Кремёнки
- 26. Какой уникальный природный комплекс на Оке находится между Калугой и Тарусой:**
 А. Кольцовские пещеры
 Б. Алексинский каньон
 В. Андреевский карьер
 Г. Залидовские луга
- 27. Выберите из списка территорию, лишённую экономической и политической самостоятельностью:**
 А. Сейшельские острова
 Б. Бермудские острова
 В. Острова Зелёного мыса
 Г. Багамские острова
- 28. Доля современной структуры занятости в высокоразвитых странах характеризуется наибольшей долей занятых в ...:**

**ВОПРОСЫ ВТОРОГО (МУНИЦИПАЛЬНОГО) ЭТАПА ВСЕРОССИЙСКОЙ
ОЛИМПИАДЫ ШКОЛЬНИКОВ ПО ГЕОГРАФИИ 2021-22**

- А. сельском хозяйстве
- Б. промышленном производстве
- В. транспортном комплексе
- Г. сфере услуг

29. Международное географическое разделение труда – это ...?:

- А. взаимная торговля между странами
- Б. специализация отдельных стран на производстве отдельных товаров и услуг
- В. специализация отдельных стран на производстве отдельных товаров и услуг и обмен ими
- Г. миграция трудовых ресурсов из экономически слаборазвитых стран в высокоразвитые

30. Наиболее выгодным магистральным экспортным газопроводом в снабжении газом стран Центральной Европы с экономической и экологической точки зрения является:

- А. «Сияние Севера»
- Б. «Прогресс»
- В. «Северный поток»
- Г. «Сила Сибири»