

МУНИЦИПАЛЬНЫЙ ЭТАП ВСЕРОССИЙСКОЙ ОЛИМПИАДЫ ШКОЛЬНИКОВ ПО ИСТОРИИ 2015-16 УЧ. ГОДА

7 КЛАСС

1. Выберите по одному верному ответу в каждом задании (2 балла за каждый правильный ответ, максимальный балл – 8)

I. Прочтите отрывок и укажите произведение, фрагментом которого он является.

«Великий князь Всеволод! Не помыслишь ли ты прилететь издалека, отцовский золотой престол побережь? Ты ведь можешь Волгу веслами расплескать, а Дон шлемами вычерпать».

- а) «Хождение за три моря»
- б) «Слово о законе и благодати»
- в) «Задонщина»
- г) «Слово о полку Игореве»

II. Прочтите отрывок из источника и укажите событие, с которым он связан.

«И когда был подожен порох во рвах, а дьякон, читавший в это время на литургии святое Евангелие, произнес последние слова: «И будет одно стадо и один пастырь», словно соглашаясь с ним, как с верным другом, тотчас же загрохотала земля, подобно сильному грому, и затряслось все то место, где стоял город, и заколебались городские стены, и едва весь город не разрушился до основания».

- а) взятие Смоленска войсками Василия III
- б) взятие Казани Иваном IV Грозным
- в) присоединение Новгорода к Москве
- г) взятие Астрахани войсками Ивана IV Грозного

III. Укажите имя митрополита, перенесшего свою резиденцию из Владимира в Москву

- а) Филипп
- б) Макарий
- в) Пётр
- г) Алексей

IV. Одним из последствий внутренней политики великого князя Ивана IV является

- а) усиление княжеских усобиц
- б) завершение объединения русских земель вокруг Москвы
- в) начало закрепощения крестьян
- г) ликвидация церковного землевладения

| I | II | III | IV |
|---|----|-----|----|
| | | | |

2. Выберите несколько верных ответов в каждом задании (2 балла за каждое задание, максимальный балл – 8)

I. Князья – участники Куликовской битвы

- а) Дмитрий Боброк-Волынский
- б) Мстислав Старый
- в) Мстислав Удатный
- г) Дмитрий Шемяка
- д) Владимир Храбрый

II. Выберите из предложенного перечня события относящиеся к XIII в.

- а) создание «Правды» Ярославичей
- б) съезд князей в Любече
- в) нашествие Батыя на Русь
- г) основание Нижнего Новгорода
- д) основание княжеской резиденции в Боголюбове

III. Какие события и явления связаны с реформами Избранной рады?

- а) создание опричнины
- б) ликвидация вечевого строя в Новгороде

- в) созыв первого Земского собора
- г) учреждение патриаршества в России
- д) отмена кормлений

IV. Сооружения, построенные в годы правления Ивана III

- а) Грановитая палата
- б) собор Василия Блаженного
- в) Благовещенский собор Московского Кремля
- г) церковь Покрова на Нерли
- д) Вознесенская церковь в Коломенском

| I | II | III | IV |
|---|----|-----|----|
| | | | |

3. Что объединяет понятия, события, имена образующие каждый из представленных рядов? Дайте краткий ответ (2 балла за каждое задание, максимальный балл – 8)

I. Мечник, вирник, емец _____

II. Джучи, Чагатай, Угэдэй, Толуй _____

III. Битва на Калке, битва на Сити, битва у Коломны _____

IV. Устав, полуустав, скоропись _____

4. Восстановите хронологическую последовательность событий (2 балла за каждую правильно указанную цифру, максимальный балл – 12)

1. Строительство белокаменного Кремля в Москве
2. Судебник Ивана III
3. Грюнвальдская битва
4. Путешествие Афанасия Никитина в Индию
5. Стояние на Угре
6. Кревская уния

Ответ: _____

5. Установите соответствия. Запишите в таблицу выбранные цифры под соответствующими буквами (1 балл за каждое правильное соответствие, максимальный балл – 15)

I. Соотнесите дату и событие

- | | |
|---------------------------------|---------|
| 1) Венчание Ивана IV на царство | а) 1551 |
| 2) Ям-Запольское перемирие | б) 1572 |
| 3) Стоглавый собор | в) 1582 |
| 4) Введение опричнины | г) 1549 |
| 5) Битва при Молодях | д) 1547 |
| | е) 1565 |

II. Соотнесите событие и его современника

- | | |
|---|--------------------------|
| 1) Первый съезд русских князей в Любече | а) Тамерлан |
| 2) Взятие Киева Батыем | б) Фрэнсис Дрейк |
| 3) Битва на реке Воже | в) Роджер Бэкон |
| 4) Присоединение Твери к Москве | г) Вильгельм Завоеватель |
| 5) Сибирский поход Ермака | д) Урбан II |
| | е) Леонардо да Винчи |

III. Соотнесите высказывание с его автором

1) «Дай мне, отче, двух воинов из своей братии – Пересвета Александра и брата его Андрея Ослябу, тем ты и сам нам поможешь».

а) Иван IV Грозный

2) «Разве подобает царю, если его бьют по щеке, подставлять другую? Как же царь сможет управлять царством, если допустит над собой бесчестье?»

б) Андрей Курбский

3) «А мог бы ты и о том вспомнить, как во времена благочестивой жизни твоей все дела у тебя шли хорошо по молитвам святых и по наставлениям избранной рады, достойнейших советников твоих?»

в) Дмитрий Донской

4) «Если будете в ненависти жить, в распрях и ссорах, то погибнете сами и погубите землю отцов своих и дедов своих, которые добыли её трудом своим великим».

г) Ермолай-Еразм

5) «Необходимы вельможи, но вовсе не трудом своим снабжаются они. Необходимы прежде всего земледельцы: от их трудов хлеб, а от него начало всех благ».

д) Иосиф Волоцкий

е) Ярослав Мудрый

| | 1 | 2 | 3 | 4 | 5 |
|-----|---|---|---|---|---|
| I | | | | | |
| II | | | | | |
| III | | | | | |

6. Прочитайте отрывок из письменного источника и ответьте на вопросы
(максимальный балл – 7).

«Что умеете хорошего, то не забывайте, а чего не умеете, тому учитесь – как отец мой, дома сидя, знал пять языков, оттого и честь от других стран. Леность ведь всему мать: что кто умеет, то забудет, а чего не умеет, тому не научится. Добро же творя, не ленитесь ни на что хорошее, прежде всего к церкви: пусть не застанет вас солнце в постели. Так поступал отец мой блаженный и все добрые мужи совершенные».

Вопросы:

1. Как называется этот источник? (1 балл) _____
2. Кто является автором источника? (1 балл) _____
3. Когда он был написан (с точностью до четверти века)? (1 балл) _____
4. Как звали отца автора (Имя и Отчество)? (1 балл) _____
5. Историкам точно известны 3 из 5 иностранных языков, которыми владел отец автора, назовите их (3 балла) _____

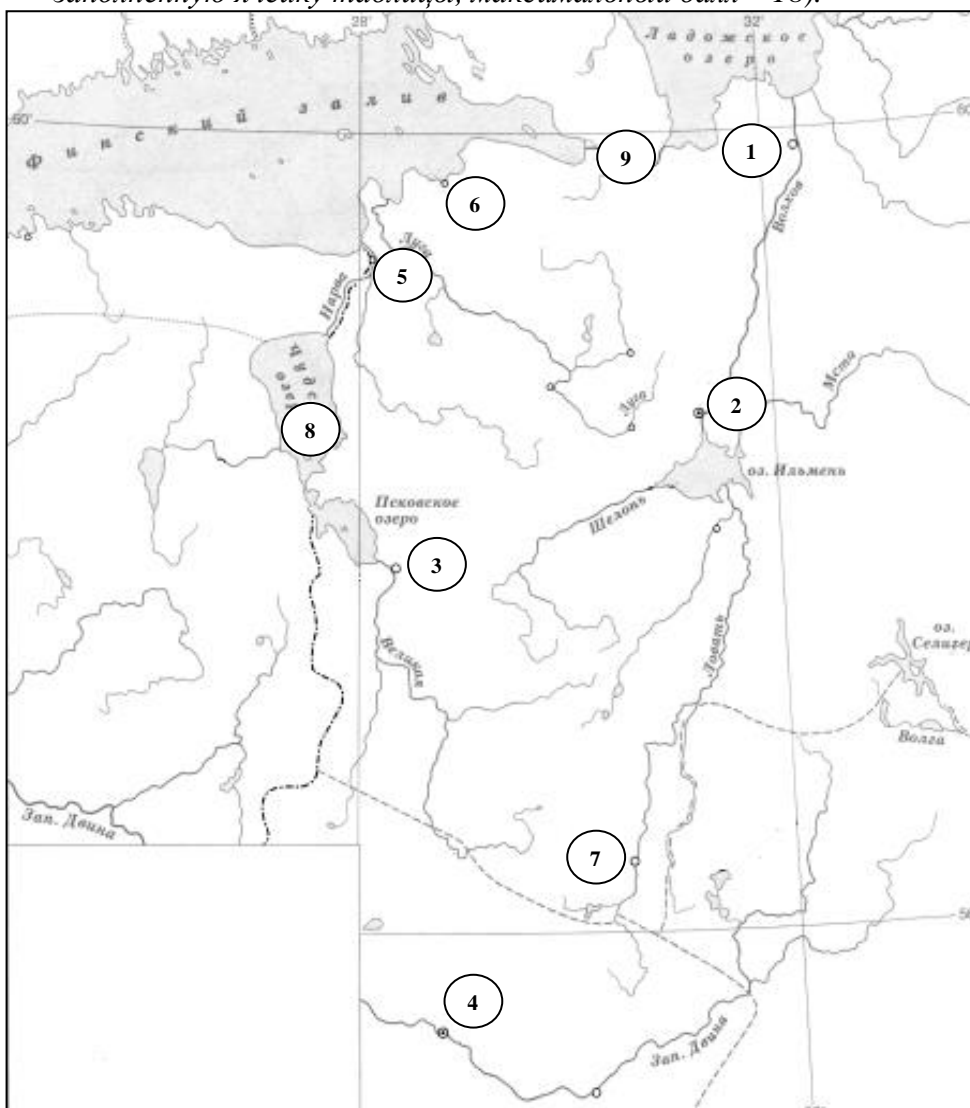
7. Прочитайте текст. Заполните пробелы в тексте. Ответ оформите в виде перечня элементов под соответствующими номерами (1 балл за каждый правильно заполненный пропуск, максимальный балл – 8)

Согласно «Повести временных лет», в ____ (1) ____ году восточнославянские и финноязычные племена, проживавшие на северо-западе, прекратили платить дань варягам и изгнали их «за море». Однако очень скоро племена рассорились, дело дошло до вооруженных столкновений. И тогда собрались представители всех племен на ____ (2) ____ и решили послать послов «за море» к знакомым варягам со словами: «Земля наша велика и обильна, а наряда в ней нет. Да пойдите княжить и володеть нами». На приглашение откликнулся князь ____ (3) _____. Он обосновался со своей дружиной в

городе ____ (4) _____. Так в северо-западных землях возникло княжество, центром которого стал ____ (5) _____. Затем знатные воины ____ (6) ____ и ____ (7) ____ отправились в столицу Византии Царьград. Спустившись вниз по Днепру, они увидели раскинувшийся на трех холмах город полян ____ (8) _____. Жители города сделали варяжских воинов своими правителями, чтобы те защитили их от хазар, древлян и других «обидчиков».

| № п/п | Вставка |
|-------|---------|
| 1 | |
| 2 | |
| 3 | |
| 4 | |
| 5 | |
| 6 | |
| 7 | |
| 8 | |




8. Внимательно рассмотрите карту «Походы князя Александра Невского», запишите в таблицу названия городов и сражений (2 балла за каждый правильно заполненную ячейку таблицы, максимальный балл – 18).



| Города | |
|--------|--|
| 1 | |
| 2 | |

| | |
|-----------------|--|
| 3 | |
| 4 | |
| 5 | |
| 6 | |
| 7 | |
| Сражения | |
| 8 | |
| 9 | |

9. Перед вами иллюстрации по теме: «Московская архитектура XV-XVI веков». Ответы внесите в таблицу, сделав подписи к порядковым номерам иллюстраций. (2 балла за каждый правильный ответ, максимальный балл – 16).



| № иллюстрации | Название памятника |
|----------------------|---------------------------|
| 1 | |
| 2 | |
| 3 | |
| 4 | |
| 5 | |
| 6 | |
| 7 | |
| 8 | |

| | | |
|--|--|--|
| | | |
|--|--|--|

Максимальная сумма баллов – 100