

Всероссийская олимпиада школьников по истории
Муниципальный этап
7 класс

Время выполнения работы – 120 минут (максимум – 100 баллов)

1. Выберите по 1 верному ответу в каждом задании, впишите его в таблицу (5 баллов)

1.1. При каком царе происходило Азовское сидение?

- а) Борис Годунов
- б) Лжедмитрий I
- в) Алексей Михайлович
- г) Михаил Фёдорович

1.2. «Царем» впервые стал именовать себя правитель:

- а) Василий I
- б) Иван III
- в) Василий III
- г) Иван IV

1.3. Кто в Европе правил одновременно с царем Иваном Грозным?

- а) Генрих III, король Франции
- б) Максимилиан I, император Германии
- в) Филипп IV, король Испании
- г) Генрих VIII, король Англии

1.4. Дмитрием Донским были построены следующие укрепления в Москве:

- а) дубовый кремль
- б) белокаменный кремль
- в) кирпичный кремль
- г) Китайгородская стена

1.5. Одним из результатов внешней политики Ивана Грозного во второй половине XVI в. было:

- а) присоединении к России Крыма
- б) присоединение к России Казанского и Астраханского ханства
- в) присоединении к России Смоленска
- г) потеря Россией выхода в Балтийское море

1.1	1.2	1.3	1.4	1.5

II. Восстановите предложения, вставив подходящие по смыслу понятие, даты, имена (16 баллов).

2.1. В 1 году князь 2 одержал победу на 3 озере над войском 3 . В двумя годами ранее он разгромил 4 войска в битве 5 .

- 2.2. В _____6_____ году при князе _____7_____ был создан Судебник. Он ограничил право перехода крестьян к новому владельцу неделей до, а также неделей после праздника _____8_____.
- 2.3. Архитектор _____9_____ на месте старого обветшавшего храма времен Ивана Калиты возвёл новый пятиглавый _____10_____.
- 2.4. Решающую роль в _____11_____ году в обороне Москвы от хана _____12_____ сыграли _____13_____ - так назывались первые пушки, установленные на стены Кремля в годы правления князя _____14_____.
- 2.5. Исключительное положение в средневековом Новгороде занимал _____15_____. Он не только ведал религиозными вопросами, но и вместе с _____16_____ занимался внешней политикой.

III. Согласны ли вы с утверждениями (да, нет)? Ответы внесите в таблицу.

- 3.1. Правителем, присоединившим Смоленск к Московскому государству, был Иван III Великий.
- 3.2. «Постельничий», «стряпчий», «сытник» - это придворные должности в России XVI века.
- 3.3. Борис Годунов был первым правителем, посылавшим русских дворян учиться за границу.
- 3.4. Жильцы – первое регулярное войско в России.
- 3.5. Крепостное право в России окончательно утвердилось в 1589 году.

3.1	3.2		3.3	3.4	3.5

IV. Объясните принцип образования ряда. Вычеркните лишнее (8 баллов)

4.1. «Нинья», «Виктория», «Пинта», «Санта-Мария».

4.2. Ливонский, Меченосцев, Тевтонский, Курляндский.

4.3. Ахмат, Батый, Берке, Узбек, Джанибек.

4.4. Граф, Маркиз, Барон, Вассал, Рыцарь, Герцог.

V. Установите соответствия. Запишите в таблицу выбранные цифры под соответствующими буквами (1 балл за каждую правильно указанную цифру, максимальный балл – 15).

5.1. Соотнесите событие и век.

- | | |
|---|---------|
| А) Созыв Стоглавого собора в России | 1) XII |
| Б) Женитьба Ивана III на Софье Палеолог | 2) XIII |
| В) Создание Генеральных штатов во Франции | 3) XIV |
| Г) Первое летописное упоминание Москвы | 4) XV |
| Д) «Великая хартия вольностей» | 5) XVI |
| | 6) XVII |

5.2. Перед Вами Дни воинской славы России. Соотнесите даты и великие исторические события.

- А) 18 апреля 1) День Бородинского сражения русской армии под командованием М.И. Кутузова с французской армией
- Б) 9 августа 2) День победы русской армии под командованием Петра I над шведами в Полтавской битве
- В) 8 сентября 3) День освобождения Москвы силами народного ополчения под руководством Кузьмы Минина и Дмитрия Пожарского от польских интервентов
- Г) 4 ноября 4) День первой в российской истории морской победы русского флота под командованием Петра Первого над шведами у мыса Гангут
- Д) 10 июля 5) День победы русских воинов князя Александра Невского над немецкими рыцарями на Чудском озере
6) День победы русской эскадры под командованием Ф.Ф. Ушакова над турецкой эскадрой у мыса Тендра

5.3. Соотнесите высказывания с обстоятельствами, при которых они были произнесены:

- А) «И умом не дошел, и нам будет поваден» 1) Галилео Галилей перед судом инквизиции
- Б) «Кто с мечом к нам придет – от меча и погибнет» 2) Бояре по поводу избрания на царский престол Михаила Романова
- В) «И все-таки она вертится!» 3) Митрополит Кирилл после смерти Александра Невского
- Г) «Париж стоит мессы!» 4) После убийства Святослава Игоревича печенегами
- Д) «Знайте, чада моя, яко уже зашло солнце земли Суздальской. Не будет больше такого князя в Русской земле» 5) А. Невский после разгрома немецких рыцарей
6) Генрих IV перед восшествием на престол

№	А	Б	В	Г	Д
5.1.					
5.2.					
5.3.					

VI. *Определите, какие события относятся к периоду феодальной раздробленности, а какие – к периоду централизации (6 баллов).*

1. Битва на р. Калке
2. Слепление Василия II
3. Нашествие Тимура (Тамерлана)
4. Правление Юрия Долгорукого
5. Сожжение Москвы Тохтамышем
6. Строительство дубового Кремля в Москве










Ответ:

Период феодальной раздробленности: _____

Период централизации: _____

VII. Соотнесите между собой название архитектурного памятника, его изображение и время создания **(20 баллов)**.

1. Архангельский собор.
2. Благовещенский собор.
3. Дмитровский собор.
4. Собор Покрова Пресвятой Богородицы на Рву.
5. Софийский собор.
6. Успенский собор.
7. Церковь Вознесения Господня.
8. Церковь Покрова Пресвятой Богородицы на Нерли.
9. Церковь Спаса на Ильине улице.
10. Церковь Спаса на Нередице.

		
А	Б	В
		
Г	Д	Е
		
Ж	З	И

