

Всероссийская олимпиада школьников по истории
Муниципальный этап
7 класс

Время выполнения работы – 90 минут

I. Выберите по 1 верному ответу в каждом задании, впишите его в таблицу.

1.1. При каком царе происходили Соляной и Медный бунты?

- а) Борис Годунов
- б) Лжедмитрий I
- в) Алексей Михайлович
- г) Михаил Фёдорович

1.2. «Государем всея Руси» впервые стал именовать себя правитель:

- а) Василий I
- б) Иван III
- в) Василий III
- г) Иван IV

1.3. Кто в Европе правил одновременно с царем Иваном Грозным?

- а) Людовик XIII, король Франции
- б) Максимилиан I, император Германии
- в) Филипп IV, король Испании
- г) Елизавета I, королева Англии

1.4. В строительстве какого из сооружений Московского Кремля не принимали участия иностранные архитекторы:

- а) Успенский собор
- б) Архангельский собор
- в) Благовещенский собор
- г) Грановитая палата

1.5. Одним из результатов внешней политики Великого княжества Московского в первой половине XVI в. было:

- а) присоединение к России Крыма
- б) присоединение к России Казанского и Астраханского ханства
- в) присоединение к России Смоленска
- г) завоевание Россией выхода в Балтийское море

1.1	1.2	1.3	1.4	1.5

Всего 5 баллов

II. Восстановите предложения, вставив подходящие по смыслу понятия, даты, имена. Вписанные имена и понятия должны быть грамматически верными.

(Иван IV Грозный; Александр Ярославович; Дмитрий Иванович Донской; Петр I Великий; Алевиз Новый; Биргер; Владимир Андреевич Храбрый; Куликовская; Нева; Софийский собор; Александро-Невская лавра; Архангельский собор; Ярославово дворище; Стоглав; Засадный; 1551)

2.1. В 1240 году князь _____ одержал победу на реке _____ над войском ярла _____. В XVIII веке неподалеку от этого места императором _____ была основана _____.

2.2. В _____ при царе _____ был созван Церковный собор. Принятые на нем решения были записаны в сборнике, получившем название _____.

2.3. Архитектор _____ на месте старого обветшавшего храма времен Ивана Калиты возвёл новый пятиглавый _____.

2.4. Решающую роль в _____ битве сыграл _____ полк, неожиданно ударивший в тыл татарам. Руководил этим полком князь _____, двоюродный брат князя _____.

2.5. Новгородское вече обычно созывалось на площади у _____. В случае несогласия с решением веча часть горожан собиралась на другой стороне реки на _____.

Всего 16 баллов

III. Согласны ли вы с утверждениями (да, нет)? Ответы внесите в таблицу.

3.1. Правителем, присоединившим Псков к Московскому государству, был Иван III Великий.

3.2. «Тиун», «огнищанин», «гридь» - это категории зависимого населения в Древней Руси.

3.3. Борису Годунову удалось вернуть для России выход в Балтийское море.

3.4. Стрельцы – первое регулярное войско в России.

3.5. Крепостное право в России окончательно утвердилось в 1649 году.

3.1	3.2	3.3	3.4	3.5

Всего – 5 баллов.

IV. Объясните принцип образования ряда. Вычеркните лишнее:

4.1. Закуп, рядович, смерд, холоп, изгой.

4.2. Берке, Узбек, Тохтамыш, Тамерлан.

4.3. Генеральные Штаты, Курултай, Парламент, Земский Собор.

4.4. Граф, Маркиз, Барон, Сеньор, Рыцарь, Герцог.

Всего 8 баллов

V. Установите соответствия. Запишите в таблицу выбранные цифры под соответствующими буквами.

5.1. Соотнесите событие и век.

- | | |
|---|---------|
| А) Созыв первого Земского собора в России | 1) XII |
| Б) Использование двуглавого орла на печати Великого князя всея Руси | 2) XIII |
| В) Создание Генеральных штатов во Франции | 3) XIV |
| Г) Основание Москвы | 4) XV |
| Д) Создание английского парламента | 5) XVI |
| | 6) XVII |

5.2. Соотнесите высказывание с обстоятельствами, при которых они были произнесены:

- | | |
|---|--|
| А) «И умом не дошел, и нам будет поваден» | 1) М.Лютер во время суда в Вормсе |
| Б) «Разбита и развеяна по всем румбам» | 2) Бояре по поводу избрания на царский престол Михаила Романова |
| В) «На этом я стою. И не могу иначе» | 3) Митрополит Кирилл после смерти Александра Невского |
| Г) «Не понимаю, как мои предки допустили такое учреждение» | 4) После убийства Святослава Игоревича печенегами |
| Д) «Знайте, чада моя, яко уже зашло солнце земли Суздальской. Не будет больше такого князя в Русской земле» | 5) Ф.Дрейк после гибели «Непобедимой допустили такое учреждение» армады» |
| | 6) Яков I Стюарт после роспуска парламента |

№	А	Б	В	Г	Д
5.1.					
5.2.					

1 балл за каждую правильно указанную цифру, максимальный балл – 10

VI. Определите, какие события относятся к периоду феодальной раздробленности, а какие – к периоду централизации.

1. Битва на р. Неве
2. Война между потомками Дмитрия Донского
3. Нашествие Батыя
4. Правление Андрея Боголюбского
5. Сожжение Москвы Тохтамышем
6. Строительство белокаменного Кремля в Москве

Ответ:











Период феодальной раздробленности: _____

Период централизации: _____

Всего 6 баллов

VII. Соотнесите между собой название архитектурного памятника, его изображение и архитектурный стиль.

1. Архангельский собор.
2. Благовещенский собор.
3. Дмитровский собор.
4. Собор Покрова Пресвятой Богородицы на Рву.
5. Софийский собор.
6. Успенский собор.
7. Церковь Вознесения Господня.
8. Церковь Покрова Пресвятой Богородицы на Нерли.
9. Церковь Спаса на Ильине улице.
10. Церковь Спаса на Нередице.

		
А	Б	В
		
Г	Д	Е
		
Ж	З	И
		
	К	

