

**Муниципальный этап Всероссийской олимпиады школьников
в Красноярском крае 2016-2017 учебном году 9 класс**

1 тур (80 баллов) время на выполнение 90 минут

Фамилия, имя _____ **класс** _____

Задание № 1. По какому принципу образованы ряды (максимальный балл - 3)

- а) «Зеленая книга», «Конституция», «Русская правда»
- б) Успенский собор, Архангельский собор, Благовещенский собор, Церковь Ризоположения
- в) Палех, Хохлома, Гжель

Обоснование:

а) _____

б) _____

в) _____

Задание № 2. Восстановите правильную хронологическую последовательность событий. Ответ запишите в виде ряда цифр, отражающего последовательность событий (максимальный балл за все задание — 3).

А)

- 1. битва на р. Воже
- 2. первое упоминание Москвы
- 3. установление автокефалии Русской церкви
- 4. Грюнвальдская битва
- 5. присоединение Тверского великого княжества к Москве

Ответ _____

б)

- 1. учреждение в России патриаршества
- 2. Медный бунт
- 3. походы Ерофея Хабарова
- 4. Нерчинский договор с Китаем
- 5. восстание Кондратия Булавина

Ответ _____

в)

- 1. образование Северного и Южного обществ;
- 2. реформа управления государственными крестьянами П.Д. Киселева
- 3. Берлинский конгресс
- 4. возникновение «Товарищества передвижных художественных выставок»
- 5. издание «Положения о мерах к охранению государственного порядка и общественного спокойствия»

Ответ _____

Задание № 3 Применительно к каждому изображенному ниже памятнику укажите в таблице:


1) его название,

2) место расположения (город),

3) архитектора,

4) время создания (с точностью до половины столетия) постройки памятника.
(максимальный балл за все задание – 8).

А:
Б:



Г:

В:

	А	Б	В	Г
название				
город				
архитектор				
Время создания				

Задание № 4. Соотнесите элементы правого и левого столбцов таблицы. В перечне справа есть лишняя характеристика, ответ запишите в таблицу. Определите город, по оставшемуся описанию (максимальный балл — 9)

Город	Описание
1.Канск	А: Город своим развитием обязан Канско-Ачинскому топливно-энергетическому комплексу (КАТЭК); 31 июля 1981 г. указом Президиума Верховного Совета РСФСР село было преобразовано в город. С 1984 по 1988 г. город менял свое название: после смерти Председателя Президиума Верховного Совета СССР, генерального секретаря ЦК КПСС К. У. Черненко город был назван его именем
2.Ачинск	Б:Основан в 1628 году как малый острожек у Комаровских порогов в 43 км ниже современного города. В 1636 году перенесён на нынешнее место. Четвёртый по численности населения город Красноярского края.
3.Дивногорск	В:Первое документальное свидетельство о городе оставил бергмейстер (горный мастер) императорской берг-коллегии Никифор Клеопин. В 1741 г. он составил рапорт о результатах обследования медных рудников на Енисее, в котором сообщал о сельском поселении на реке Минуса, где жили семьями бывшие рабочие Лугазского медеплавильного завода. В 1822

	село преобразовано в окружной город
4.Шарыпово	Г: Возник в 1957 году, как поселок градостроителей. Город — с 1963 года
	Д: Острог основан в 1641 году возможно на р. Белый Июс. После пожара 1683 года перенесен на р. Чулым. С 1782 — уездный город Томской области, с 1822 — окружной город Енисейской губернии

Ответ: _____

Таблица № 2

1	2	3	4
Город, определенный по описанию:			

Задание № 5 Заполните пробелы в тексте (максимальный балл — 11)

После смерти Тимура в 1405 году его держава начала распадаться. Начались усобицы и в Орде. В течение XV века из состава Золотой Орды выделились отдельные ханства: _____, _____, _____, _____. В середине XV века на юных рубежах России появилась новая угроза. В _____ году под ударами войск турецкого султана пал _____. На месте Византии сложилась воинственная _____. В 1475 году _____ превратилось в вассала Османского государства.

8 октября 1480 года ордынские войска подошли к реке _____, притоку Оки, где проходила русско-литовская граница, и стали поджидать войска литовского князя _____, с которым хан _____ заключил союз.

- 1.
- 2.
- 3.
- 4.
- 5.
- 6.
- 7.
- 8.
- 9.
- 10.
- 11.

Задание № 6. Определите:

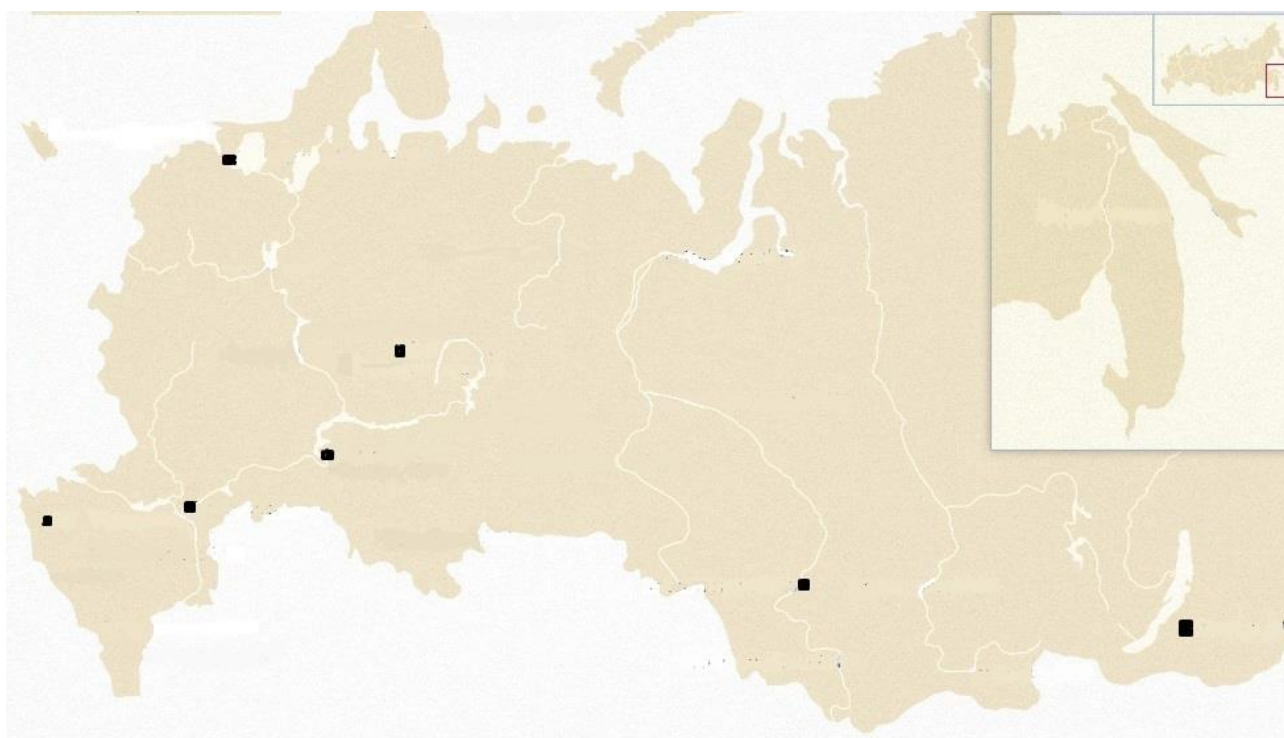
- а) Какому правителю России посвящен данный памятник
- б) Назовите автора памятника
- в) Назовите время создания памятника (с точностью до четверти века)
- г) Назовите город, в котором он находится



Укажите по биографическому описанию государственных деятелей, чьи фигуры представлены на постаменте и заполните таблицу(максимальный балл - 13)

Кому посвящен памятник		
Время		
Автор		
Город		
№	Государственный деятель	Биографическое описание
1		граф, светлейший князь (1747-1799). Государственный деятель, дипломат.
2		(1704-1795). Просветитель, общественный деятель.
3		княгиня (1744-1810). Президент Российской Академии, директор Петербургской Академии наук.
4		(1743-1816). Русский поэт и государственный деятель.
5		граф (1737-1808). Генерал-аншеф, командующий русской эскадрой в Средиземном море во время русско-турецкой войны 1768-1774 гг.
6		светлейший князь (1739-1791). Генерал-фельдмаршал, главнокомандующий русской армией в русско-турецкой войне 1787-1791 гг.
7		граф (1725-1796). Генерал-фельдмаршал, президент Малороссийской коллегии.
8		граф, князь Италийский (1730-1800). Генералиссимус, создатель оригинальной системы ведения боя и воспитания солдат. Не проиграл ни одного сражения.
9		(1726-1809). Адмирал, командовал Балтийским флотом в русско-шведской войне 1788-1790 гг.

Задание № 7. Города иногда меняют свои названия. Найдите эти города на карте, обозначьте номером и напишите, как они были названы на карте Российской империи сто лет назад. Ответ оформите в виде таблицы. (максимальный балл - 14)



Современное название	Название в 1916 г.	Номер на карте
Санкт-Петербург		

Краснодар		
Волгоград		
Киров		
Новосибирск		
Тольятти		
Улан-Удэ		

Задание № 8. Проанализируйте источник. (максимальный балл - 9)

«По пресечении сего мужеского поколения наследство переходит в род второго МОЕГО сына, где и следовать тому, что сказано о поколении старшего МОЕГО сына, и так далее, если бы более у меня сыновей было; что и есть первородство. По пресечении последнего мужеского поколения Сыновей МОИХ наследство остается в сем роде; но в женском поколении последне-царствовавшего, как в ближайшем Престоле, дабы избегнуть затруднений при переходе от рода в род, в котором следовать тому же порядку, предпочитая мужеское лицо женскому, однако здесь приметить надлежит единожды навсегда, что не теряет никогда права то женское лицо, от которого право непосредственно пришло. По пресечении сего рода, наследство переходит в род старшего МОЕГО Сына в женское поколение, в котором наследует ближняя Родственница последне-царствовавшего рода вышеупомянутого Сына МОЕГО, а в недостатке оной то лицо мужеское или женское, которое заступает ее место, наблюдая что мужеское лицо предпочитается женскому, как уже выше сказано; что и есть заступление: по пресечении же сих родов наследство переходит в женский род прочих МОИХ Сыновей, следуя тому же порядку; а потом в род старшей Дочери МОЕЙ в мужеское Ее поколение, а по пресечении оного в женское Ее поколение, следуя порядку, наблюденному в женских поколениях Сыновей МОИХ.»

1. Определите название документа, автора, год создания


2. Почему издание этого документа стало одним из первых решений правителя?

3. Какие два принципа престолонаследия существовали в Древнерусском государстве?




4. Можно ли считать Акт о престолонаследии 1722 г. политической ошибкой Петра I?

5. Что такое морганатический брак?

Задание 9. Перед Вами десять монет из серии «Древние города России». Ваша задача – соотнести факты из истории городов с посвящёнными им монетами, ответ занесите в таблицу (максимальный балл — 10):

<p>1. </p>	<p>А. Считается, что название города этимологически связано с наименованием местных финно-угорских племён.</p>
---	--

2.		<p>Б. Есть версия, что Иван IV начал строить укрепления этого города с целью перенести в него из Александровой слободы центр опричнины. Однако, в связи с отменой опричнины кремль оказался недостроен.</p>
3.		<p>В. Процесс присоединения города к великому княжеству Московскому был положен заключением Яжелбицкого мирного договора.</p>
4.		<p>Г. Монастырь, расположенный в этом городе, стал местом нахождения одной из самых известных вариантов Первоначальной летописи.</p>
5.		<p>Д. В этом городе был основан один из старейших университетов Российской империи.</p>
6.		<p>Е. Этот русский город вошёл в состав Великого княжества Московского лишь в правление Василия III.</p>
7.		<p>Ж. Название этого города свидетельствует о направлении потоков миграции населения Древней Руси в XI-XIII веках.</p>

<p>8.</p> 	<p>З. Во время удельного периода истории России в этот город из Киева была перенесена кафедра митрополита, что свидетельствовало о росте влияния княжеств Северо-Восточной Руси.</p>
<p>9.</p> 	<p>И. Город был основан по приказу Бориса Годунова как пограничная крепость.</p>
<p>10.</p> 	<p>К. Город до конца XVII века продолжал оставаться центром формально независимого феодального царства.</p>
	<p>Л. Во время Смуты защитники города двадцать один месяц оборонялись от многократно превосходящих сил поляков.</p>
	<p>М. Несмотря на древнюю историю, город был впервые присоединён к России в начале XVIII века.</p>

Ответ занесите в таблицу:

1.	2.	3.	4.	5.	6.	7.	8.	9.	10.

ТУР II
РАЗВЕРНУТЫЙ ОТВЕТ (20 БАЛЛОВ)

время на выполнение 80 минут

Темы развернутых ответов

1. Исторический выбор Александра Невского в пользу подчинения Золотой Орде
2. Присоединение Украины к России (причины и последствия)
3. Характер общественного движения XIX в. и оценка его роли в истории России
4. Оценка уровня развития Российской империи в начале XX века.

Критерии оценивания:

1. Связность и логичность повествования (5 баллов)
2. Грамотность использования исторических фактов и терминов (5 баллов)
3. Четкость и доказательность основных положений работы (до 10 баллов)