

**ВСЕРОССИЙСКАЯ ОЛИМПИАДА ШКОЛЬНИКОВ ПО ИСТОРИИ.
МУНИЦИПАЛЬНЫЙ ЭТАП. 7 - 8 КЛАСС.**

ЗАДАНИЕ 1. Какие события произошли в одном и том же веке? Установите правильное соответствие (по 2 б. за правильный ответ – до 12 б.):

События отечественной истории	События всемирной истории
1. Реформы княгини Ольги	А. Первый крестовый поход
2. Правление Ярослава Мудрого	Б. Третий крестовый поход
3. Любеческий съезд	В. Разграбление Константинополя крестоносцами
4. Правление Владимира Мономаха	Г. Разделение христианской церкви на православную и католическую
5. Нашествие Батыя на Русь	Д. Открытие португальцами морского пути в Индию
6. Стояние на Угре	Е. Образование Священной Римской империи

Ответы:


1	2	3	4	5	6
Е	Г	А	Б	В	Д

ЗАДАНИЕ 2. Укажите годы, когда произошли две битвы, представленные на схемах. Какие два важных события в этом же веке произошли в истории Англии? Ответы внесите в таблицу (по 2 б. за правильный ответ – до 8 б.).

А.



Б.



Битва А год	1223
Битва Б год	1242
В этом веке в Англии	1. Великая Хартия вольностей 2. Впервые созван парламент

ЗАДАНИЕ 3. Укажите, с каким событием или личностью связано данное изречение (по 1 б. за правильный ответ – до 6 б.):

3.1. «Земля наша велика и обильна, а порядка в ней нет»

Событие: призвание варягов (Рюрика)

3.2. «Ты, князь, чужой земли ищешь, а свою покинул»

Личность: Святослав

3.3. «Как ты хочешь взять меня женою, когда сам крестил и назвал дочерью»

Личность: Ольга

3.4. «Иду на вы»

Личность: Святослав

3.5. «Пусть каждый держит отчину свою»

Событие: съезд князей в Любече

3.6. «Взяв дань, пошел он в свой город. Когда же шел назад, - поразмыслив, сказал своей дружине: «Идите с данью домой, а я возвращусь и похожу еще». И отпустил дружину свою домой, а сам с малой частью дружины вернулся, желая большего богатства».

Личность: Игорь

ЗАДАНИЕ 4. Прочитайте отрывок из исторического источника и ответе на вопросы. Ответы внесите в таблицу (по 2 б. за правильный ответ – до 10 б.).

А скончался благоверный князь Михаил, которого звали Святополком, месяца апреля в 16 день за Вышгородом, привезли его в ладье в Киев, и привели в надлежащий вид тело его, и возложили на сани. ... После того на десятый день устроили киевляне совет, послали к Владимиру, говоря: «Пойди, князь, на стол отчий и дедов». Услышав это, Владимир много плакал и не пошел (в Киев), горюя по брате. Киевляне же разграбили двор Путяты тысяцкого, напали на ростовщиков, разграбили их имущество. И послали вновь киевляне к Владимиру, говоря: «Пойди, князь, в Киев; если же не пойдешь, то знай, что много зла произойдет, это не только Путятин двор или сотских, но и ... пограбят, а ещё нападут на невестку твою, и на бояр, и на монастыри, и будешь ты ответ держать, князь, если разграбят и монастыри». Услышав это, Владимир пошел в Киев. Владимир ... сел в Киеве в воскресенье. Встречали же его митрополит Нифонт с епископами и со всеми киевлянами с честью великой.

Вопросы	Ответы
В каком году произошли события, описанные в источнике?	1113
О каком известном князе идет речь? Укажите имя и прозвище.	Владимир Мономах
Победами над каким кочевым народом прославился этот князь?	Половцы
Чем прославился этот князь в культуре Древней Руси?	«Поучение детям»
Какой предмет, приписываемый легендой этому князю, приобрел особое значение для правителей Московского государства?	Шапка Мономаха

ЗАДАНИЕ 5. Прочитайте отрывок из исторического источника и ответе на вопросы. Ответы внесите в таблицу (по 2 б. за правильный ответ – до 12 б.).

Беззаконный же Шевкал, разоритель христианства, пошел на Русь со многими татарами, и пришел в Тверь, и выгнал великого князя с его двора, а сам поселился на великокняжеском дворе, исполненный гордости и ярости. И сотворил великое гонение на христиан — насилие, грабеж, избиение и поругание. Люди же городские, постоянно оскорбляемые нехристиами, много раз жаловались великому князю, прося оборонить их. Он же, видя озлобление своих людей и не имея возможности их оборонить, велел им терпеть. Но тверичи не терпели, а ждали удобного времени. И случилось так, что 15 августа, ранним утром, когда собирается торг, некий диакон-тверянин, — прозвище ему Дудко, — повел кобылицу, молодую и очень тучную, напоить водой к Волге. Татары же, увидев ее, отняли. Диакон же очень огорчился и стал вопить: «Люди тверские, не выдавайте!» И началась между ними драка. Татары же, надеясь на свою власть, пустили в ход мечи, и тотчас сбежались люди, и началось возмущение. И ударили во все колокола, стали вечем, и восстал город, и сразу же собрался весь народ. И возник мятеж, и кликнули тверичи и стали избивать татар, где кого поймут, пока не убили самого Шевкала. Убивали же всех подряд, не оставили и вестника, кроме пастухов, пасших на поле стада коней. Те взяли лучших жеребцов и быстро бежали в Москву, а оттуда в Орду, и там возвестили о кончине Шевкала.

Вопросы	Ответы
В каком году произошли события, описанные в источнике?	1327
Укажите термин определяющий функцию Шевкала и его ордынских воинов в русских землях.	баскаки
Кто из русских князей помог ордынцам подавить это восстание? Укажите имя и прозвище.	Иван Калита
Какие выгоды в итоге получил этот князь от сотрудничества с ордынцами?	Великий ярлык и право собирать дань с русских земель – 2б. если, есть оба элемента ответа
Кто был дедом этого князя?	Александр Невский
Кто будет внуком этого князя?	Дмитрий Донской

ЗАДАНИЕ 6. Заполните пропуски в тексте. Ответ внесите в таблицу (по 1 б. за правильный – до 4 б.): Согласно Повести временных лет: «В тот же год пошёл Ярослав на чудь, и победил их, и поставил город (1) ». Так он назвал городище по своему (2). В 1224 году после долгой осады этот город был взят войсками рыцарей-меченосцев и затем переименован в (3). Сейчас это эстонский город (4).

(1) русское название города	Юрьев
(2) объяснение, почему город был так назван	Христианскому имени
(3) немецкое название города	Дерпт
(4) эстонское название города	Тарту

ЗАДАНИЕ 7. Перед вами четыре памятника русского зодчества. Укажите их название, город и век, где и когда они были построены и правителя при котором они появились. Ответы внесите в таблицу (по 2 б. за правильный ответ – до 14 б.). Строительством одного из этих памятников руководил итальянский зодчий. Укажите этот памятник и этого архитектора:

Г - буквенное обозначение памятника

Аристотель Фиораванти - итальянский зодчий


А.

Б.





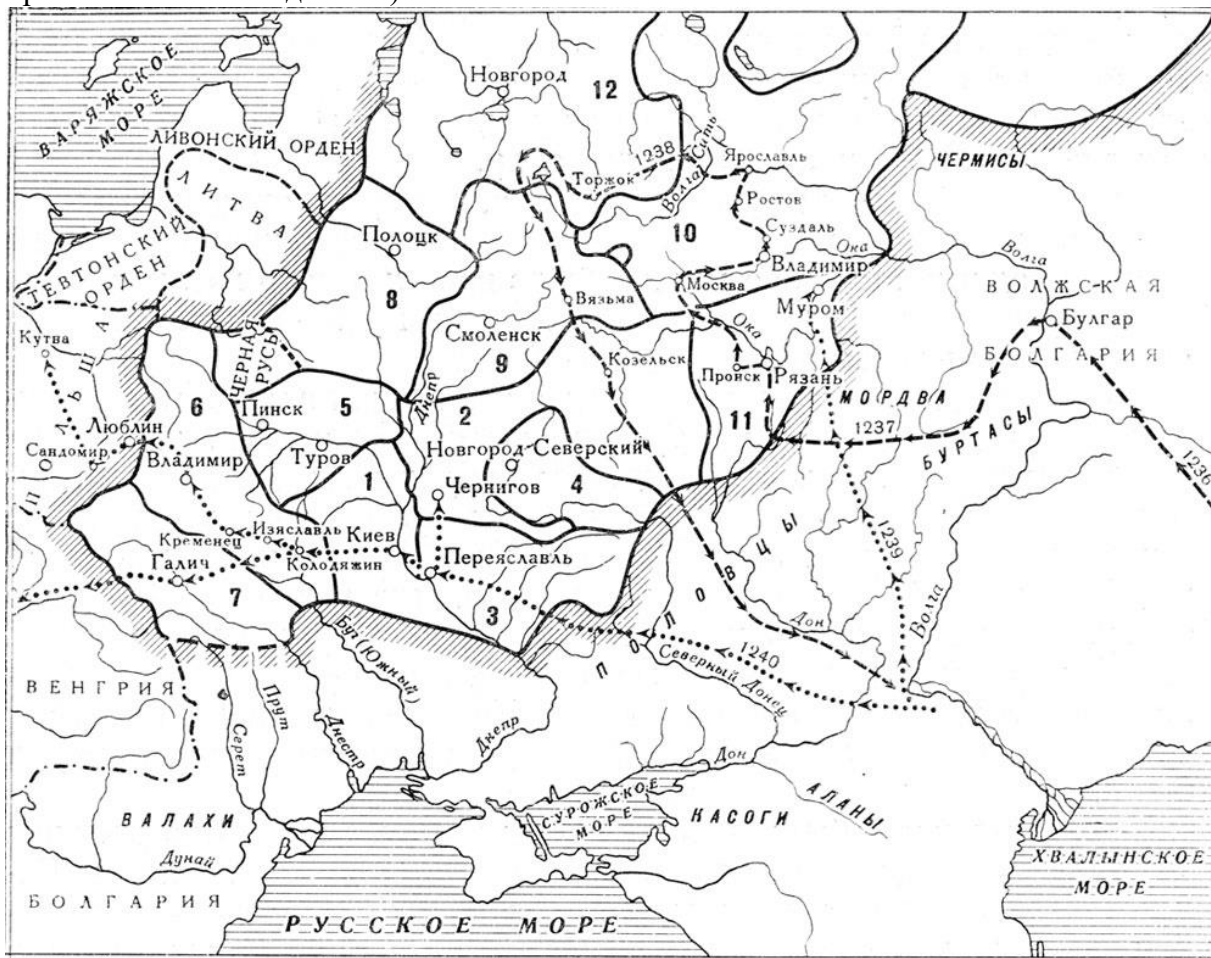
В.

Г.



Буквенное обозначение памятника культуры	Название памятника культуры, город	Век	Правитель
А	Золотые ворота во Владимире	XII в.	Андрей Боголюбский
Б	Софийский собор в Новгороде	XI в.	Ярослав Мудрый
В	Дмитриевский собор во Владимире	XII в.	Всеволод Большое Гнездо
Г	Успенский собор в Москве	XV в.	Иван III

ЗАДАНИЕ 8. Выполните задания по карте и внесите ответы в таблицу (по 2 б. за правильный ответ – до 20 б.).



Вопросы	Ответы
Как называется исторический период, которому посвящена эта карта?	Феодальная раздробленность
Укажите цифры, обозначающие наиболее влиятельные земли в этот период. Три земли – четыре цифры (одно княжество обозначено двумя цифрами).	8 б. – по 2 б. за каждую правильную цифру : 6, 7; 10; 12;
Укажите цифру, обозначающую княжество, которое приходит в упадок и его центр захватывается разными князьями.	1
Укажите цифру, обозначающую княжество, откуда начался поход описанный в «Слове о полку Игореве».	4
Укажите цифру, обозначающую княжество, в котором правил Юрий Долгорукий.	10
Укажите цифру, обозначающую княжество, с которым был связан подвиг Евпатия Коловрата.	11
Какой город в этот период будет назван врагами «злой город»?	Козельск

ЗАДАНИЕ 9. Выполните задания по карте и внесите ответы в таблицу (по 2 б. за правильный ответ – 14 б.).



Вопросы	Ответы
В каком году проходили события представленные на карте?	1471
На какой город было направлено наступление московского войска?	Новгород
Кто возглавлял в этом городе противников Москвы?	Марфа Борецкая (Марфа Посадница)
От какого иноземного правителя противники Москвы в этом городе рассчитывали получить военную помощь?	Польско-литовский король Казимир IV
Где произошло сражение, в котором решилась судьба этого города?	На р. Шелонь
В каком году этот город будет окончательно присоединен к Москве?	1478
Какое историческое событие произошло на калужской земле через два года после присоединения данного города к Москве?	Стояние на Угре (свержение ордынского ига)

Итого – 9 заданий – **100 баллов. Желаем успеха!**

