

История, 8 класс, муниципальный этап

Указания к проверке

Историческая хронология

1. Произведите хронологические расчеты. Найдите значение выражения, составленного из исторических дат.

Смерть Василия III + Тязвинский мирный договор – смерть Федора Алексеевича + Поляновский мирный договор – Судебник Ивана IV = X.

Назовите событие, которое произошло в год X.

Ответ: $1533 + 1595 - 1682 + 1634 - 1550 = 1530$ (рождение Ивана IV)

Высшая оценка: 7 баллов (по 1 баллу за каждую правильную дату и 2 балла за названное событие).

2. Установите правильное соответствие между элементами левого и правого столбцов. Полученные результаты запишите в таблицу.

<i>События правления Елизаветы Петровны</i>	<i>Дата</i>
1. Отмена опричнины	А) 1510
2. Введение на Руси патриаршества	Б) 1668
3. Присоединение Пскова к Московской Руси	В) 1655
4. Отмена местничества	Г) 1572
5. Начало Соловецкого восстания	Д) 1589
	Е) 1682

Ответ:

1	2	3	4	5
Г	Д	А	Е	Б

Высшая оценка: 5 баллов (по 1 баллу за каждый правильный ответ).

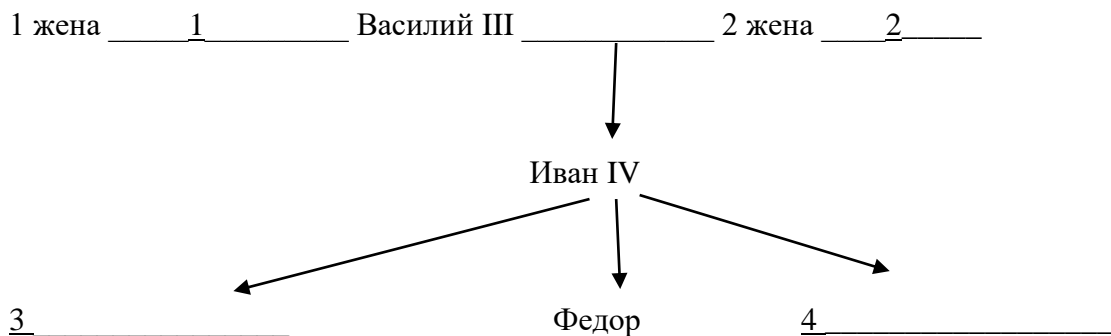
3. Что из перечисленного не произошло в XVI веке:
- строительство Архангельского собора в Кремле;
 - начало Ливонской войны;
 - избрание Бориса Годунова на царство;
 - восстание Хлопка;
 - введение «урочных лет»;
 - битва на реке Шелони;
 - создание вассального по отношению к России Ливонского королевства во главе с датским принцем Магнусом.

Ответ: восстание Хлопка (1603), битва на реке Шелони (1471).

Высшая оценка: 2 балла (по 1 баллу за каждый правильный ответ, 1 балл при одном правильном и одном неправильном ответе, при двух правильных и одном неправильном ответе).

Историческая личность

4. Заполните пустые ячейки в генеалогической таблице:



Ответ:

- 1 – Соломония Сабурова
- 2 – Елена Глинская
- 3 – Иван
- 4 – Дмитрий

Высшая оценка: 4 балла (по 1 баллу за каждый правильный ответ).

5. Кто и в связи с какими событиями произнес эту фразу:
«Ничего не жалеть – дворы продавать, жен и детей закладывать».

Ответ: Кузьма Минин – в речи перед нижегородцами в 1611 году с призывом жертвовать деньги на ополчение.

Высшая оценка: 2 балла (по 1 баллу за каждый правильный ответ).

6. Определите, о ком идет речь?

Этот человек был русским государственным и военным деятелем, дипломатом и экономистом середины и 2-й половине 17 в. С 1622 на военной службе в Пскове, с начала 40-х гг. привлечён к дипломатической службе. Во время русско-шведской войны 1656 – 58 участвовал в штурме Витебска, походе на Динабург, руководил штурмом Дриссы. В 1656 подписал договор о дружбе и союзе с Курляндией, завязал отношения с Бранденбургом. В 1658 вёл успешные переговоры со шведами, завершившиеся подписанием перемирия. В 1662 – 66 участвовал в переговорах с Речью Посполитой и подписании Андрусовского перемирия, после чего был пожалован в бояре и назначен главой Посольского приказа. С его именем связано создание Новоторгового устава, регламентировавшего торговлю с иностранцами. В период руководства Посольским приказом он значительно активизировал внешнюю политику России. Этот деятель выступал за союз с Речью Посполитой для борьбы со Швецией за выход к Балтийскому морю и отражения турецкой агрессии. Был сторонником преобразования России в экономической и военной областях. В 50-х гг. предложил реформировать армию путём введения рекрутских наборов, увеличения стрелецкого войска и сокращения малобоеспособной дворянской конницы. Поощрял развитие торговли и промышленности; создал судоверфи на Западной Двине и Оке. Развитие промышленности он рассматривал не только как источник получения денег и

усиления экспорта, но и как способ преодоления экономической отсталости России. Он организовывал металлообрабатывающие, кожные, бумажные и стеклянные мануфактуры.



Ответ: А.Л. Ордин-Нащокин.

Высшая оценка: 2 балла.

Работа с терминами

7. Дайте определение перечисленным ниже терминам или впишите термины, соответствующие определениям. Заполните пустые ячейки таблицы:

1.	Зерновые культуры, засеваемые осенью.
Ясак	2.
3.	Часть территории Руси, не включенная в опричнину.
Магнат	4.
5.	Окончательное утверждение международного договора высшим органом государства или его главой.

Ответ:


1. Озимые
2. **Натуральный (пушнинной) налог с народов Сибири и Севера**
3. Земщина
4. **Представитель родовитой знати в Речи Посполитой**
5. Ратификация

Высший балл: 5 баллов (по 1 баллу за каждый правильный ответ).

История культуры

8. Посмотрите на изображения храмов и ответьте по каждой из иллюстраций:
Как называется храм?
В каком городе он находится?
По случаю какого события он сооружен?

1)



2)



3)



Ответ:

- 1) Храм Василия Блаженного (Покрова на рву), в Москве, победа над Казанью
- 2) Вознесения в Коломенском, в Москве, в честь рождения Ивана IV
- 3) Дмитрия на крови, в Угличе, в память убиения на этом месте царевича Дмитрия Ивановича.

Высшая оценка: 9 баллов (по 1 баллу за каждый правильный ответ).

Работа с источником

9. Прочтите выдержку из документа и ответьте на вопросы:

- 1) Как называется этот документ?
- 2) В каком году он был составлен?
- 3) При каких правителях враждующих сторон он был составлен?

«...Войско его величества после снятия осады с Пскова должно быть выведено из владений московского князя.

Нельзя допускать пожаров и разорения полей.

Перемирие заключается на 10 лет. Города, взятые в Московии в прошлом году: Великие Луки, Холм, Заволочье, Невель и другие, так же как и взятые в нынешнем году: Остров, Красный Городок, Воронеж, Велья и прочие крепости, принадлежащие Пскову, вместе с оружием и военным снаряжением, те, которые не были сожжены, должны быть возвращены [московскому князю].

В возмещение этого великий князь московский отказывается от всех городов и владений где бы то ни было в Ливонии, захваченных им, вместе со взятым им там военным снаряжением и оружием.

Он не должен требовать обратно городов: Велиж, Усвят, Озерище, Сокол и других, взятых на войне, и городов, принадлежащих Полоцку.

...

Что касается Нарвы и других городов, занятых светлейшим королем шведским, послы светлейшего короля польского заявили, что его величество, несмотря на перемирие, будет добиваться своих прав...»

Ответ:

1) Текст Ям-Запольского мирного договора

2) 1582

3) Иван Грозный и Стефан Баторий

Высший балл: 4 балла (по 1 баллу за каждый правильный ответ на вопросы 1 – 2, на вопрос 3 – 2 балла).

Историческая география

10. Этот город сейчас располагается в Тюменской области, но когда-то был «столицей Сибири». Он был основан на Иртыше в нескольких километрах от столицы Сибирского ханства города Кашлык, по преданию – на том самом месте, где высадились на берег воины Ермака перед знаменитой битвой на Чувашском мысу, решившей вопрос о присоединении Сибирского ханства к России. Что это за город?



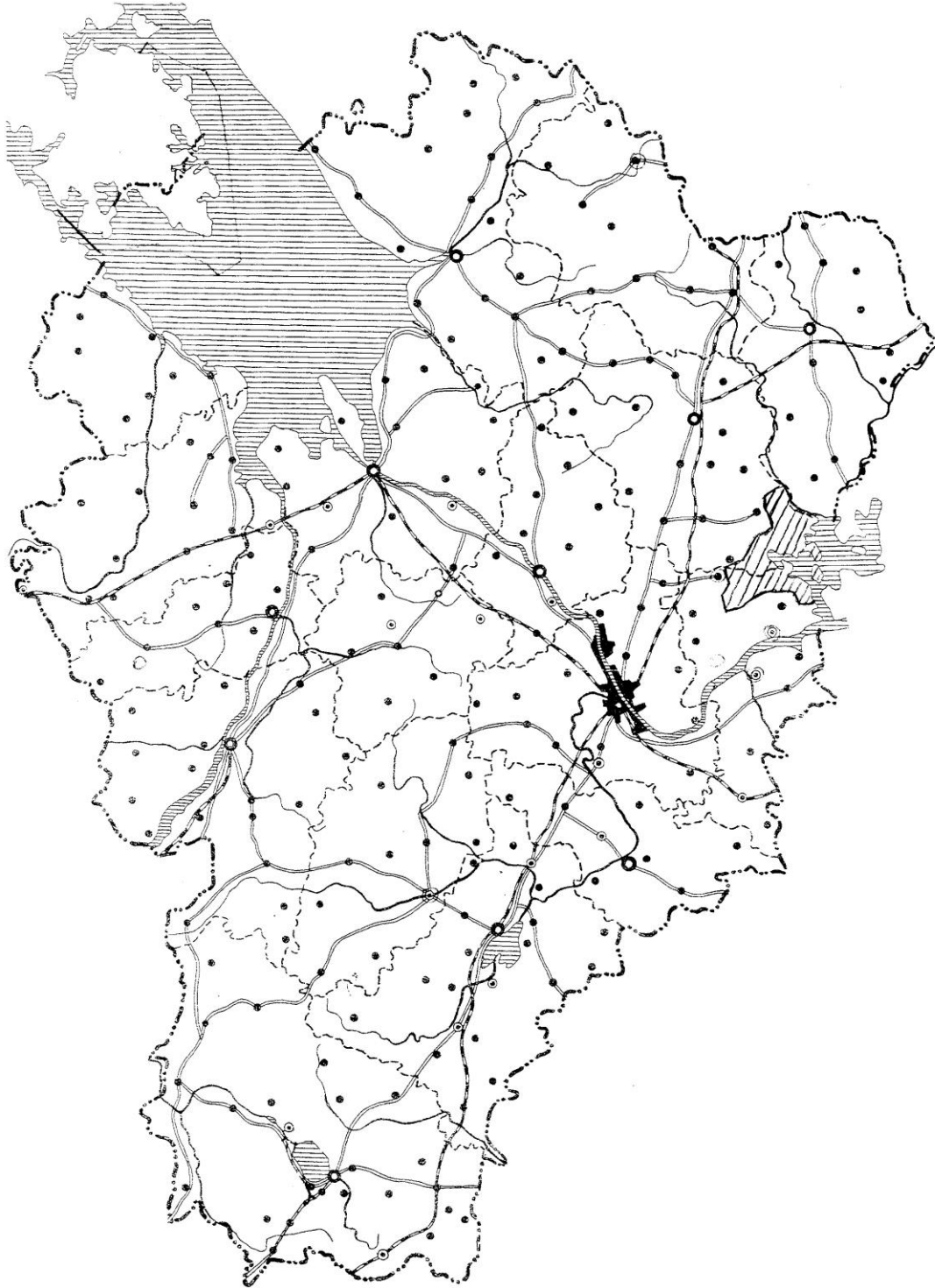
На фотографии – знаменитый кремль этого города.

Ответ: **Тобольск.**

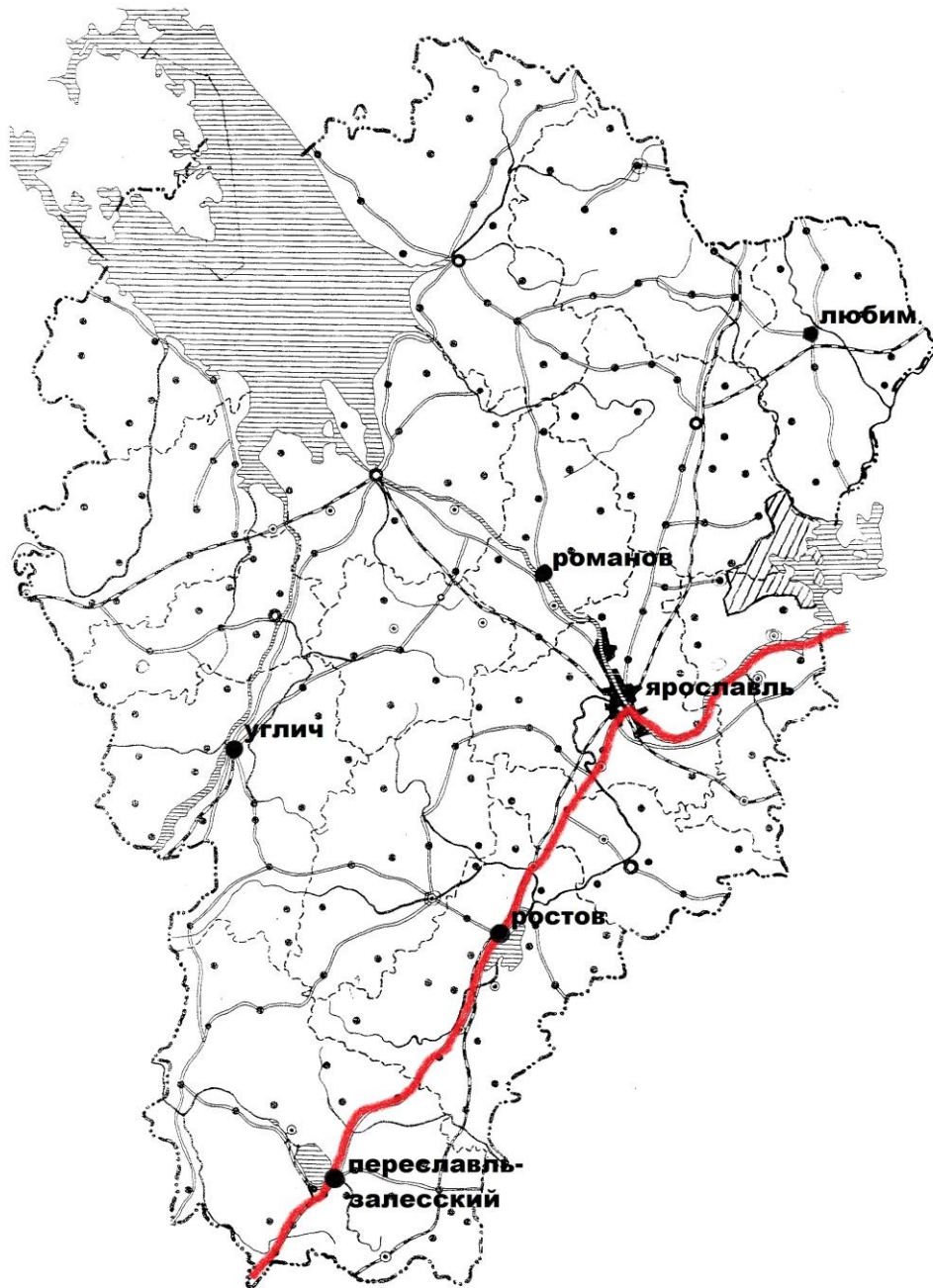
Высшая оценка: 1 балл.

Историческое краеведение

- 11.** Посмотрите на контурную карту Ярославской области и выполните задания:
- 1) Нанесите на карту путь Нижегородского ополчения к Москве по территории современной Ярославской области.
 - 2) Отметьте те современные города, которые имели официальный статус города к концу XVII века. Подпишите их названия на указанное время.



Ответ:



Высшая оценка: 7 баллов (по 1 баллу за каждый правильный ответ).

12. Чьи слова из драмы А.С. Пушкина «Борис Годунов» здесь приведены? Как этот человек связан с Ярославлем?

«... Постой, царевич. Наконец
Я слышу речь не мальчика, но мужа.
С тобою, князь, она меня мирит.
Безумный твой порыв я забываю
И вижу вновь Дмитрия. Но — слушай:
Пора, пора! проснись, не медли боле;
Веди полки скорее на Москву —

Очисти Кремль, садись на трон московский,
Тогда за мной шли брачного посла;
Но — слышит бог — пока твоя нога
Не оперлась на тронные ступени,
Пока тобой не свержен Годунов,
Любви речей не буду слушать я...»

Ответ: Марина Мнишек. Она в 1606-08 гг. находилась в ссылке в Ярославле.

Высшая оценка: 2 балла (по 1 баллу за каждый правильный ответ).

Максимальное количество баллов за все задания олимпиады – 50 баллов.