

ШИФР	
баллы	

**Всероссийская олимпиада школьников по праву
Муниципальный этап - 2017-2018 год
7 класс**

Продолжительность выполнения работы 90 минут
*Уважаемые участники II (муниципального) тура
Всероссийской олимпиады школьников по истории!*

Прежде чем приступить к работе, внимательно прочитайте задание. При выполнении работы учитывайте, что за неверный ответ штрафные баллы не начисляются. Любыми дополнительными материалами, включая учебную и специальную литературу, а также нормативными актами, мобильным телефонами пользоваться не разрешается.

Задание №1. Выберите один правильный ответ из четырёх предложенных.

1. Какое из перечисленных событий не относится к истории Московского княжества?
А) Мамаево побоище Б) Ледовое побоище В) Стояние на Угре Г) Битва на реке Воже;
2. При каком из перечисленных правителей был построен краснокирпичный московский Кремль?
А) Иван Грозный Б) Иван III Великий В) Иван Калита Г) Дмитрий Донской
3. Какой из перечисленных методов государственного управления перестал применяться в России в середине XVI века?
А) местничество Б) приказная система В) кормления Г) Земские соборы
4. Кто из перечисленных лиц был современником великого московского князя Ивана III?
А) Христофор Колумб Б) Марко Поло В) Ричард Львиное Сердце Г) Чингисхан
5. Какой из перечисленных терминов использовался для обозначения основного свободного земледельческого населения на Руси XI – XIV вв.?
А) дружинники Б) вотчинники В) холопы Г) смерды
6. В годы правления какого царя было учреждено патриаршество?
А) Федор Иоаннович Б) Борис Годунов В) Иван III Г) Иван IV Грозный

(12 баллов)

1	2	3	4	5	6

За каждый правильный ответ – 2 б. Максимальный балл за задание – 12.

Задание №2. Из предложенного списка выберите события, относящиеся к периоду феодальной войны в Московском княжестве второй четверти XV века. Впишите выбранные буквы в таблицу.

- А) Присоединение к Московскому государству Новгорода Великого.
- Б) Учреждение патриаршества.
- В) Ослепление Василия II Темного.
- Г) Ливонская война.
- Д) Венчание на царство Ивана IV.
- Е) Отказ Московской Руси подписать Флорентийскую унию.
- Ж) Набеги золотоордынских войск на русские земли.

(6 баллов)

Задание №3. Установите соответствие между средневековыми правителями и империями, которыми они управляли:

- | | |
|------------------------------|--------------------|
| 1) Византийская империя | А) Карл Великий |
| 2) Священная римская империя | Б) Юстиниан I |
| 3) Каролингская империя | В) Оттон I Великий |
| 4) Османская империя | Г) Баязид I |

1	2	3	4

Всего – 8 баллов.

Какое из указанных государства позже других получило статус империи? (правильный ответ – 2 балла)

Задание №4. Прочтите приведённые ниже утверждения. Заполните таблицу, указав, согласны ли вы с ними или не согласны.

- 1) В Древней Руси господствовало натуральное хозяйство.
- 2) В результате Ливонской войны Россия потеряла Смоленск.
- 3) Иван III Великий был внуком Дмитрия Донского.
- 4) На Руси в XIII – XIV веках баскаками называли сборщиков дани.
- 5) При Дмитрии Донском главой русской церкви был митрополит.
- 6) Иван III и Василий III положили начало объединению русских земель вокруг Москвы.
- 7) Великое княжество Литовское было союзником Московской Руси в Куликовской битве.
- 8) При Ярославе Мудром был учрежден общерусский свод законов.
- 9) Иван Калита был сыном основателя Московского княжества.
- 10) Рюриковичи правили на Руси в течение семи столетий.

Верно	Неверно

Задание №5. Установите соответствие между московскими князьями и присоединенными ими землями.

- | | |
|-------------------------|---------------------------------|
| 1. Даниил Александрович | А. Смоленск, Псков, Рязань |
| 2. Иван I Калита | Б. Коломна, Переславль, Можайск |
| 3. Иван III Васильевич | В. Ростов, Тверь, Новгород |
| 4. Василий III Иванович | Г. Углич, Белоозеро |

1	2	3	4

Задание №6. Расположите в хронологической последовательности (по времени) события, описанные в представленных ниже исторических источниках.

А) ... В тот год сказала дружина Игорю: "Отроки Свенельда изоделись оружием и одеждой, а мы наги. Пойдем, князь, с нами за данью, и себе добудешь, и нам". И послушал их Игорь - пошел к древлянам за данью и прибавил к прежней дани новую, и творили насилие над ними мужи его.

Б) ... и была у них усобица, и стали воевать друг с другом. И сказали себе: «Поищем себе князя, который бы владел нами и судил по праву». И пошли за море к варягам, к руси. ... Сказали руси чудь, словене, кривичи и весь: «Земля наша велика и обильна, а порядка в ней нет. Приходите княжить и владеть нами».

В) Пошел Олег на греков ; взял же с собою множество варягов, и славян, и чуди, и кривичей, и мерю, и древлян, и радимичей, и полян, и северян, и вятичей, и хорватов, и дулебов, и тиверцев, известных как толмачи... И с этими всеми пошел Олег на конях и в кораблях.. И пришел к Царьграду.

Г) Ольга с сыном Святославом собрала много храбрых воинов и пошла на Деревскую землю. И вышли древляне против нее. И когда сошлись оба войска для схватки, Святослав метнул копье в древлян, и копье пролетело между ушей коня и ударило коня по ногам, ибо был Святослав еще совсем мал.

Д) И стал Владимир княжить в Киеве один, и поставил кумиры на холме за теремным двором: деревянного Перуна с серебряной головой и золотыми усами, и Хорса, Дажьбога, и Стрибога, и Симаргла, и Мокошь. И приносили им жертвы, называя их богами, и приводили своих сыновей и дочерей, и приносили жертвы бесам, и оскверняли землю жертвоприношениями своими. И осквернилась кровью земля Русская и холм тот.

--	--	--	--	--

Задание №7. Какое из перечисленных понятий (имён, дат, событий) является лишним в данном ряду? Лишнее слово (словосочетание) зачеркните.

- 1) боярин, окольник, дяк, тиун, холоп, огнищанин.
- 2) Ягайло, Батый, Тимучин, Тохтамыш, Мамай, Ахмат.
- 3) семибоярщина, крестоцеловальная запись, народное ополчение, опричное войско, восстание Ивана Болотникова, совет всей земли.
- 4) кафтан, армяк, береста, тулуп, косоворотка, зипун

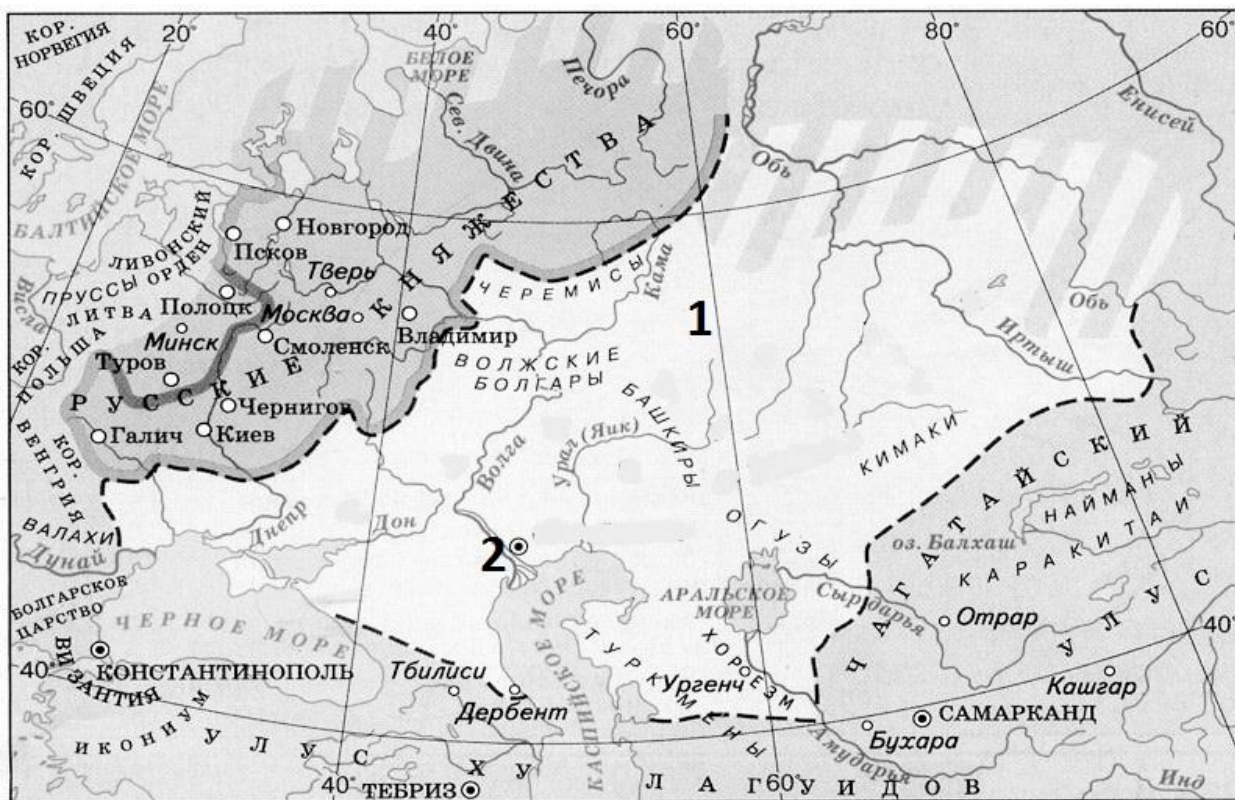
Содержание верного ответа и указания по оцениванию	Баллы
За каждое правильно указанное понятие, которое является лишним	3
Максимальное количество баллов	12

Задание №8. Прочитайте отрывок из труда С.М. Соловьева. Вставьте пропущенные слова (имена, понятия, даты).

В то время как на востоке русские князья принуждены были признать над собою власть татарских ханов, ездить к ним в степь кланяться и обдаривать их, западные русские области, **Новгород** и Псков, подвергаются сильным нападениям с трех сторон: со стороны шведов, **ливонских** рыцарей и Литвы. Шведский владетель Биргер, побуждаемый папскими посланиями, вздумал идти на русских крестовым походом для обращения их в **католицизм**. В **Новгороде** в это время княжил сын Ярославов Александр. Узнавши, что шведы пришли в устье Ижоры в **Неву**, Александр с небольшою Дружиною выступил против неприятеля и 15 июля **1240** года нанес ему сильное поражение, за что получил прозвание **Невского**. Шведы ушли, но в том же году уехал из Новгорода и Александр, рассорившись с его жителями... А между тем

немцы ливонские взяли Изборск, разбили псковичей ... стали завоевывать и новгородские области... В такой беде новгородцы опять послали за Александром Ярославичем; тот приехал, очистил от немцев и Новгородскую область, и Псков и 5 апреля 1242 года одержал над немцами знаменитую победу на льду Чудского озера, почему она и слывет **ледовым** побоищем...

Задание №9. Изучите карту «Русские земли и их соседи во второй половине XIII века» и ответьте на вопросы.



Укажите название государства, граничащего с русскими землями и обозначенного на карте цифрой 1 (границы государства обозначены пунктиром).

.....

Назовите создателя этого государства и укажите часть века, вплоть до десятилетия, когда оно было создано.

.....

Назовите столицу государства, обозначенную на карте цифрой 2.

.....

Объясните, какими были отношения между русскими землями и указанным государством во второй половине XIII века.

Содержание верного ответа и указания по оцениванию	Баллы
	2
	4
	2

	4
Максимальный балл за задание	12


Задание №10. Вам представлены гербы городов Смоленской губернии. Объяснение символики гербов дается по книге «Полное собрание законов Российской империи» 1830 года. Соотнесите герб и его описание и определите какому городу Смоленской области в наше время они принадлежат.

Описания гербов:

1. В белом поле куст розов, производящий приятный дух.
2. В серебряном поле черная пушка на золотом лафете, а на пушке райская птица.
3. В щите красном с серебром три бунта пеньки.
4. Ворота и две башни красного цвета в серебряном поле, означающие имя сего города.
5. Два золотых улья в голубом поле, в знак изобилия медом.
6. Ему принадлежит герб Смоленска, с различием от Смоленского герба положением на верху голубого титла.
7. Нагруженная хлебом и готовая к отправлению барка в серебряном поле в знак того, что при сем городе славная хлебная пристань.
8. Птица сыч, сидящая на молодом дереве в голубом поле, означающая имя сего города.
9. Серебряная река в зеленом поле, по которой вниз плывет стрела, означая имя сего города.
10. Три дерева в белом поле, означающие имя сего города.

Номер герба	Номер описания	Название города
1		
2		
3		
4		
5		
6		
7		
8		
9		
10		

1.



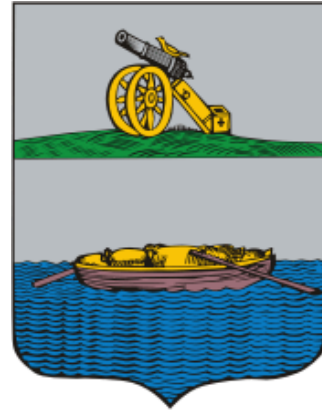
2.



3.




6.



4.



7.



5.



8.



9.



10.

