

**Муниципальный этап  
Всероссийской олимпиады школьников  
по истории  
2017/18 учебный год  
7 класс**

**Задание 1. Выберите по 1 верному ответу в каждом задании и впишите их в таблицу.**

**(5 баллов)**

**1.1.** Какой из перечисленных городов был племенным центром ильменских словен?

- а) Полоцк
- б) Новгород
- в) Смоленск
- г) Киев

**1.2.** Какой из перечисленных терминов не связан с эпохой Ивана Грозного?

- а) Земские соборы
- б) Приказы
- в) «Урочные годы»
- г) «Заповедные лета»

**1.3.** Укажите, кому из правителей принадлежал титул «Мы, пресветлейший и непобедимейший Монарх Дмитрий Иванович, Божию милостию, Цесарь и Великий Князь всея России, и всех Татарских царств и иных многих Московской монархии покоренных областей Государь и Царь».

- а) Дмитрию Донскому
- б) Дмитрию Грозные Очи
- в) Лжедмитрию I
- г) Лжедмитрию II

**1.4.** Основателем первой династии литовских князей стал:

- а) Гедимин
- б) Миндовг
- в) Витовт
- г) Ягайло

**1.5.** Прочтите отрывок и укажите произведение, фрагментом которого он является.

*«Беззаконный же...., разоритель христианства, пошел на Русь со многими татарами, и пришел в Тверь, и выгнал великого князя с его двора, а сам поселился на великокняжеском дворе, исполненный гордости и ярости. И сотворил великое гонение на христиан – насилие, грабеж, избиение и поругание. Люди же городские, постоянно оскорбляемые нехристями, много раз жаловались великому князю, прося оборонить их. Он же, видя озлобление своих людей и не имея возможности их оборонить, велел им терпеть. Но тверичи не терпели, а ждали удобного времени».*

- а) «Повесть временных лет»
- б) «Повесть о Шевкале»
- в) «Задонщина»
- г) «Хождение за три моря»

1.1	1.2	1.3	1.4	1.5

**Задание 2. Выберите несколько верных ответов в каждом задании (6 баллов)**

2.1. Члены Опричного двора

- а) Афанасий Ордин-Нащокин
- б) Борис Годунов
- в) Алексей Адашев
- г) Нил Сорский
- д) Малюта Скуратов

2.2. Выберите из предложенного перечня события, относящиеся к XII в.

- а) создание «Правды» Ярославичей
- б) съезд князей в Любече
- в) первое летописное упоминание о Москве
- г) поход Игоря Святославовича на половцев
- д) создание первых школ при храмах и монастырях

2.3. С именем Юрия Долгорукого связаны первые летописные упоминания?

- а) Ростова
- б) Суздаля
- в) Дмитрова
- г) Переславля-Залесского
- д) Смоленска

2.1	2.2	2.3

**Задание 3. Объясните принцип образования ряда. (6 баллов)**

2.1. Николо-Дворищенский собор, Церковь Праскевы-Пятницы на Торгу, Церковь Спаса Преображения на Ильине улице, Церковь Федора-Стратилата на Ручью \_\_\_\_\_

2.2. Ф. И. Мстиславский, И. М. Воротынский, А. В. Трубецкой, Ф. И. Шереметев \_\_\_\_\_

2.3. Гривна, куна, ногата, веверица \_\_\_\_\_

**Задание 4. Укажите, кто (что) является лишним в каждом ряду. Ответ поясните.**

**(6 баллов)**

3.1. Тохтамыш, Тамерлан, Батый, Узбек, Ахмат, Джанибек \_\_\_\_\_

3.2. Пермь, Вятка, Тверь, Новгород, Смоленск, Ростов, Ярославль \_\_\_\_\_

3.3. 1136, 1240, 1242, 1471, 1478, 1569 \_\_\_\_\_

**Задание 5. Соотнесите событие и современника (5 баллов)**

1) Основание города Юрьев	А) Илларион
2) Осада Троице-Сергиева монастыря	Б) Ахмат
3) Созыв Стоглавого собора	В) Марина Мнишек
4) Стояние на реке Угре	Г) Гаврило Алексич
5) Невская битва	Д) Андрей Курбский

А	Б	В	Г	Д

**Задание 6. Проанализируйте события, произошедшие в годы правления трёх владимиросуздалских князей, потомков Владимира Мономаха, правивших в XII веке. Заполните таблицу, указав в верхней строке таблицы имена князей, а в нижней – порядковые номера соответствующих каждому князю событий. (12 баллов)**

- 1) поход князя новгород-северского Игоря Святославовича против половцев в 1185 г.
- 2) строительство храма Покрова Богородицы на Нерли
- 3) первое летописное упоминание о Москве
- 4) основание династии Владимиро-Суздальских князей
- 5) строительство Успенского собора во Владимире
- 6) перенос столицы княжества из Суздаля во Владимир
- 7) строительство Дмитриевского собора во Владимире
- 8) введение в употребление титула Великого князя Владимирского

Князья			
События			

**Задание 7. Расположите в хронологической последовательности события правления Дмитрия Донского. (6 баллов)**

- А) строительство белокаменного Кремля в Москве
- Б) получение князем Дмитрием первого ярлыка на Великое Владимирское княжение
- В) битва с ордынцами на реке Воже
- Г) битва с Мамаевой ратью на Куликовом поле
- Д) нашествие ордынского хана Тохтамыша на русские земли
- Е) поход князя Дмитрия на Тверь

--	--	--	--	--	--

**Задание 8. В 1862 году в Великом Новгороде был установлен памятник «Тысячелетие России». Внимательно изучите его изображение и ответьте на поставленные вопросы. (10 баллов)**



К какому событию русской истории было приурочено возведение памятника?

---

Считается, что памятник по форме напоминает один из главных символов монархической власти России. Назовите его \_\_\_\_\_

Как вы думаете, что символизирует большой шар с крестом, покоящийся на огромном постаменте? \_\_\_\_\_

Вокруг шара размещены 17 фигур, символизирующие главные периоды в истории Российского государства. Одной из основных скульптурных групп памятника является фигура великого князя Ивана III в полном парадном облачении с символами власти в руках, принимающего от коленопреклонённого татарина знак власти — бунчук. Рядом лежат поверженные литовец и ливонский рыцарь со сломанным мечом.



Как вы думаете, какой из периодов в развитии Российского государства отражает данная скульптурная композиция? \_\_\_\_\_

Что, по вашему мнению, символизируют фигуры татарина, литовца и ливонского рыцаря? Свой ответ обоснуйте.

---

---

---

---

---

---

**Задание 9. Вставьте пропущенные в тексте имена и названия. Ответ внесите в таблицу под соответствующими порядковыми номерами. (6 баллов)**

Великий князь \_\_\_\_\_ (имя 1) Иванович со своим братом, князем Владимиром Андреевичем, и со своими воеводами был на пиру у Микулы Васильевича. Поведали нам, брат, что царь \_\_\_\_\_ (имя 2) пошёл на Русь, стоит уже у быстрого \_\_\_\_\_ (название реки 3), хочет идти к нам в землю Залесскую.

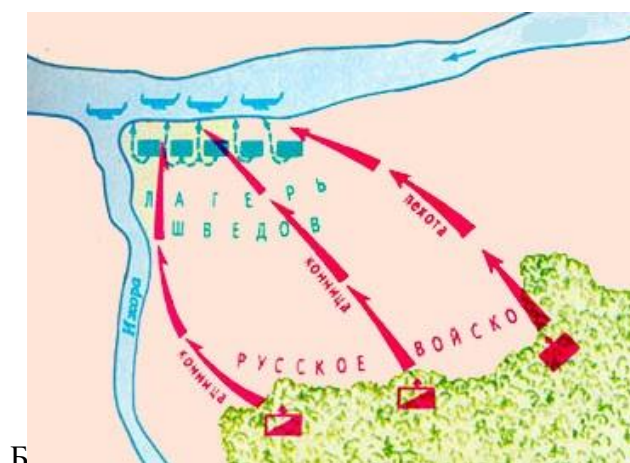
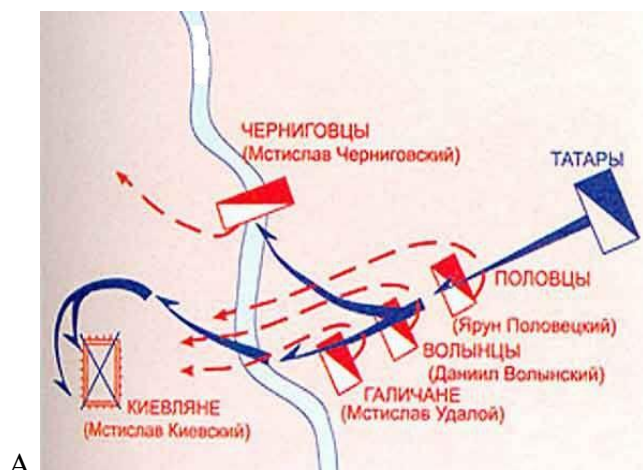
... Сначала описал я жалость Русской земли и все остальное из книг взяв, а потом написал жалость и похвалу великому князю \_\_\_\_\_ (имя 1) Ивановичу и брату его, князю Владимиру Андреевичу. Сойдемся, братья и друзья, сыновья русские, сложим слово к слову, возвеселим Русскую землю, отбросим печаль в восточные страны – в удел Симов, и восхвалим победу над поганым \_\_\_\_\_ (имя 2), а великого князя \_\_\_\_\_ (имя 1) Ивановича и брата его, князя Владимира Андреевича, прославим!

... Вспомним давние времена, воздадим похвалу вещему \_\_\_\_\_ (имя 4), прославленному гуслиарю киевскому. Ведь тот вещей \_\_\_\_\_ (имя 4), перебирая быстрыми своими перстами живые струны, славы пел русским князьям: первую славу великому князю Киевскому Игорю Рюриковичу, вторую – великому князю Владимиру Святославичу Киевскому, третью – великому князю Ярославу Владимировичу. Я же помяну рязанца \_\_\_\_\_ (имя 5), и восхваляю песнями, под звонкий наигрыш гусельный, нашего великого князя \_\_\_\_\_ (имя 1) Ивановича и брата его, князя Владимира Андреевича, потомков святого великого князя Владимира Киевского. Воспоём князей русских, постоявших за веру христианскую!

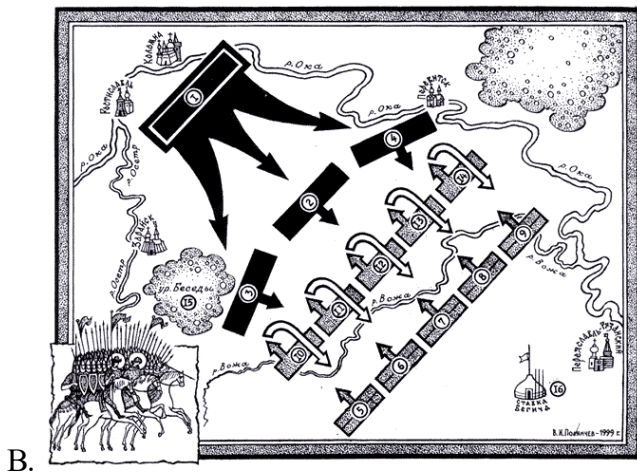
Название произведения \_\_\_\_\_

1.
2.
3.
4.
5.

**Задание 10. Изучите карты-схемы известных сражений с участием русских войск XIII – XV веков. Названия этих сражений связаны с названием рек, на берегах которых они произошли. Укажите название этих сражений и их дату. (8 баллов)**







В.



Г.

**Задание 11. Перед вами изображения правителей Древней Руси. Напишите их имена в таблице и цифры соответствующих им изображений, а затем соотнесите с буквенными обозначениями дат их правления. (8 баллов)**



1.



2.



3.



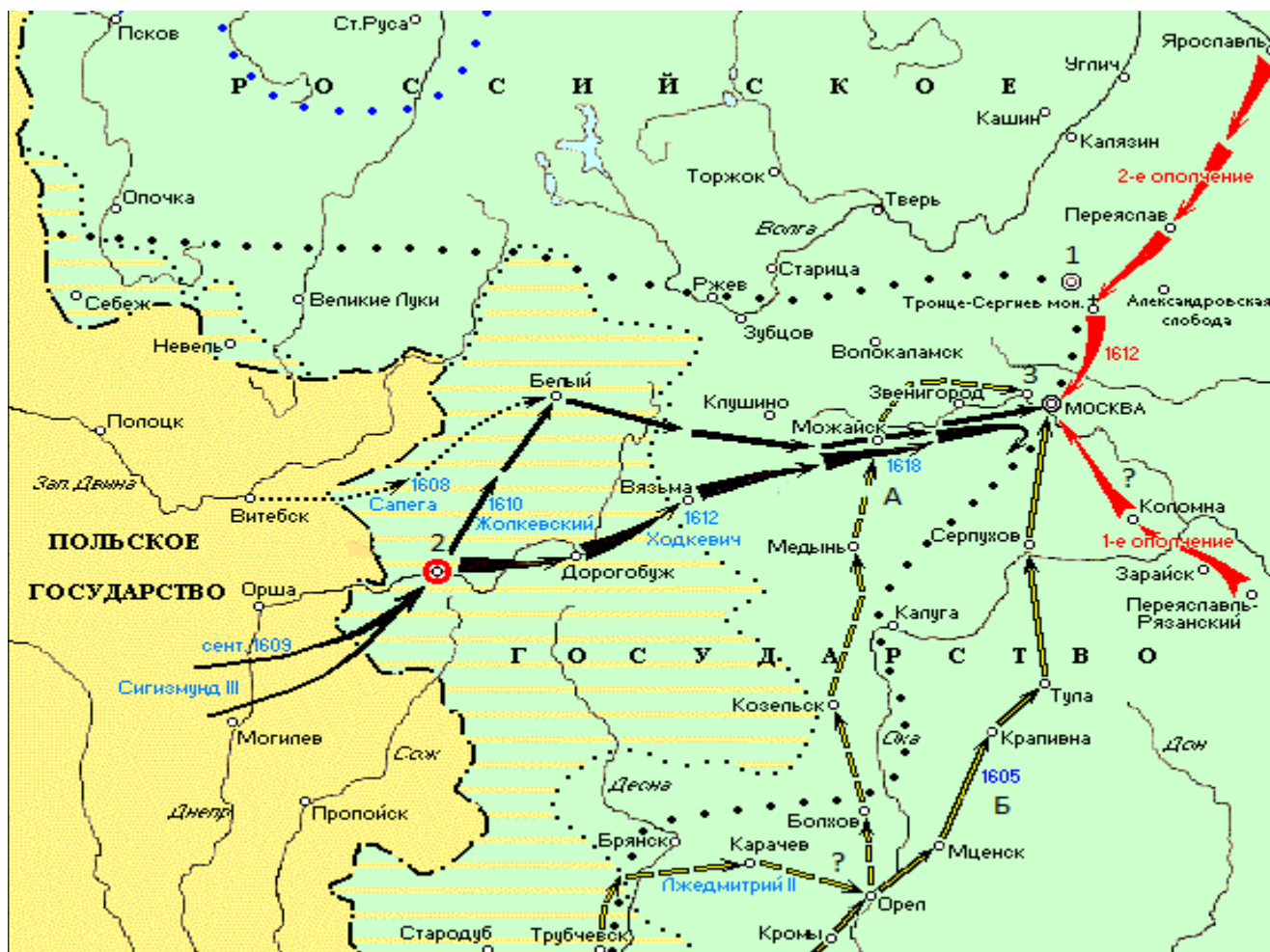
4.

А) 978 – 1015 гг; Б) 1016 – 1054 гг; В) 1252 – 1263 гг; Г) 1325 – 1340 гг.

1.	2.	3.	4.

**Задание 12. Выполните задания по карте**

**(16 баллов)**



1. Укажите, какому периоду отечественной истории посвящена карта, и напишите его дату?
2. Напишите название населённого пункта, обозначенного цифрой «1», где в 1618 г. был заключен русско-польский договор \_\_\_\_\_
3. Укажите название русского города, обозначенного цифрой «2», который несколько лет находился в осаде. \_\_\_\_\_
4. Напишите название населённого пункта, обозначенного цифрой «3», в котором находилась резиденция Лжедмитрия II \_\_\_\_\_
5. Напишите имена исторических деятелей, указанных на карте событий, зашифрованные на карте буквами «А» \_\_\_\_\_ и «Б» \_\_\_\_\_
6. Напишите даты походов Лжедмитрия II \_\_\_\_\_ и 1-го ополчения, обозначенные на карте вопросительными знаками «?» \_\_\_\_\_

**Задание 13. Внимательно изучите представленную ниже таблицу и ответьте на вопросы к ней.**

**(6 баллов)**

*Соотношение сил в битве на Чудском озере (1242 г.)*

Сторона	Пехота (чел.)	Конница (чел.)	Всего (чел.)
Русские полки	10–14 тысяч	2–4 тысячи	15–17 тысяч
Войска Ордена	7–9 тысяч	2–3 тысячи	10–12 тысяч

1. Какой род войск играл ключевую роль в наступлении Ордена? \_\_\_\_\_  
\_\_\_\_\_
2. Используя ваши знания, оцените соотношение этого рода войск Руси и Ордена. \_\_\_\_\_  
\_\_\_\_\_
3. Из представителей каких народов состояла пехота Ордена? \_\_\_\_\_
4. Кем была укомплектована конница Ордена \_\_\_\_\_
5. Какие категории населения (сословия) составляли основную массу пехотинцев русского войска? \_\_\_\_\_
6. Кем была укомплектована русская конница? \_\_\_\_\_

**Максимально возможное количество баллов – 100.**