

**Муниципальный этап
Всероссийской олимпиады школьников
по истории
2017/18 учебный год
8 класс**

Задания

Задание 1. Выберите правильный вариант ответа на вопрос. Ответы впишите в таблицу. (4 балла)

1.1. В каком году произошли описанные в тексте события?

Той же зимой князь великий Иван Васильевич разгневался на князя тверского Михаила Борисовича, который начал дружбу держать с литовским королем Андреем и советы с ним творить и просил короля выдать за него его внучку. И за это князь великий послал на него своих воевод со множеством воинов. И попленили всю их землю, и взяли 2 города и сожгли; после того тверской владыка з боярами добила (великому князю) челом и смирились.

- а) 1485
- б) 1571
- в) 1478
- г) 1569

1.2. Укажите, о каком правителе идет речь.

«Новый царь был маленький старик лет за 50 с лишком, очень некрасивый, с подслеповатыми глазами, начитанный, очень умный и очень скупой, любил только тех, которые шептали ему в уши доносы, и сильно верил в чародейство».

- а) Борис Годунов
- б) Михаил Фёдорович
- в) Василий Шуйский
- г) Федор Иоаннович

1.3. В каком году произошли описанные в тексте события?

«Покончив с домом Морозова, чернь покинула Кремль и разделилась на разные отряды, которые, увеличиваясь новыми толпами, отправились разрушать и грабить дворы Плещеева, Траханиотова, Чистаго и вообще нелюбимых бояр, окольничих, дьяков и некоторых гостей, друживших с боярами и чиновниками».

- а) 1662
- б) 1667
- в) 1648
- г) 1682

1.4. Правление какого киевского князя отсрочило окончательное наступление удельной раздробленности в русских землях в XII веке?

- а) Ярослав Мудрый
- в) Юрий Долгорукий
- б) Мстислав Владимирович
- г) Александр Ярославович

1.1.	1.2.	1.3.	1.4.

Задание 2. Выберите правильные варианты ответов на вопросы.

(8 баллов)

2.1. Кто из перечисленных лиц был современником Петра Великого?

- а) Исаак Ньютон
- б) Людовик XIV Бурбон
- в) Мартин Лютер
- г) Николай Коперник

2.2. Кто из перечисленных лиц был главой русской православной церкви в годы правления Михаила и Алексея Романовых?

- а) Питирим
- б) Гермоген
- в) Иов
- г) Иосиф

2.3. Какие из перечисленных литературных произведений посвящены войнам с монголами?

- а) Задонщина
- б) Слово о полку Игореве
- в) Слово о законе и благодати
- г) Слово о погибели русской земли

2.4. Какие из перечисленных дат относятся к стрелецким восстаниям в России?

- а) 1648
- б) 1670–1671
- в) 1682
- г) 1698

2.1.	2.2.	2.3.	2.4.
------	------	------	------

Задание 3. По какому принципу образованы ряды?

(8 баллов)

1. Крещение Руси, борьба с печенегами, строительство Десятинной церкви

2. Борис Ростовский, Глеб Муромский, Мстислав Тмутараканский, Ярослав Мудрый

3. Юрий Долгорукий, Андрей Боголюбский, Юрий Всеволодович, Всеволод Большое Гнездо

4. Карелия, Двинская земля, Водская пятина, Псков, Старая Ладога

5. Разгром печенегов, возведение Софийского собора, создание «Русской правды», поход на Константинополь

6. 1276 г., 1340 г., 1359 г., 1425 г., 1462 г.

7. «Житие Феодосия Печерского», «Слово о законе и благодати», «Повесть временных лет», «Поучение Владимира Мономаха»

8. Смоленская война, прекращение Смуты, возвращение Филарета из польского плена

Задание 4. Что (кто) является лишним в ряду? Объясните свой выбор.

(6 баллов)

1. Закуп, рядович, смерд, боярин, князь, помещик, холоп

2. Рига, Кенигсберг, Лондон, Саардам, Амстердам, Вена, Венеция _____

3. Мушкетёры, кирасиры, драгуны, рейтары, гренадеры, гардемарины _____

Задание 5. Расположите в хронологической последовательности следующие события. (6 баллов)

- А) указ о введении подушной подати
- Б) указ об отмене внутренних таможенных пошлин
- В) манифест об учреждении Ассигнационного банка и выпуске ассигнаций
- Г) указ о единонаследии
- Д) манифест о трехдневной барщине
- Е) жалованная грамота городам

Задание 6. Установите соответствие между средневековыми государственными образованиями и временем их существования. (6 баллов)

1	Новгородская боярская республика	А	650 – 969
2	Речь Посполитая	Б	1569 – 1795
3	Государство Тевтонского ордена в Пруссии	В	1247 – 1485
4	Священная Римская империя Германской нации	Г	1136 – 1478
5	Великое Тверское княжество	Д	1283 – 1525
6	Хазарский каганат	Е	962 – 1806

Задание 7. Прочитайте фрагмент текста, повествующего о русской культуре XVI века. Вставьте пропущенные слова или словосочетания (имена, понятия, даты). (14 баллов)

В XVI в. религиозное мировоззрение по-прежнему определяло духовную жизнь общества. _____ (1) церковный собор 1551 г. регламентировал искусство, утвердив образцы, которым надлежало следовать. В качестве образца в живописи провозглашалось творчество иконописца _____ (2). В зодчестве за образец выдвигался _____ (3) собор Московского Кремля. События XVI в. вызвали обсуждение вопроса о месте России среди других стран. В среде церковников был выдвинут тезис о Москве – «_____»(4).

Об обмирщении культуры свидетельствует написание книги, содержащей разнообразные полезные сведения и руководства в духовной и в мирской жизни, – «_____»(5), автором которой считают священника _____(6). Началом русского книгопечатания принято считать _____ г.(7), когда была издана первая русская печатная книга «_____»(8). Организацией работ по созданию типографии занимался _____ (9). Усиление Российского централизованного государства отмечено расцветом архитектуры. Одним из выдающихся его проявлений было строительство _____(10) храмов. Эти храмы не имели внутри столбов, и вся масса здания держалась на фундаменте. Наиболее известными памятниками этого стиля являются церковь Вознесения в селе _____(11), построенная в честь рождения _____(12) и собор Василия Блаженного, сооруженный в честь взятия _____(13). Высокого уровня достигло русское ремесло. Своей вершины литье орудий достигло в работах Андрея Чехова. Созданная им _____ (14) до сих пор является крупнейшим по калибру артиллерийским орудием в мире.

1.	8.
----	----

2.	9.
3.	10.
4.	11.
5.	12.
6.	13.
7.	14.

Задание 8. Дайте определения понятиям и терминам.

(8 баллов)

А. Писцовые книги – _____

Б. Кабальные люди – _____

В. Белая слобода – _____

Г. Гостиная сотня – _____

Задание 9. Выполните задания по карте.

(12 баллов)

9.1. На территории Прибалтики в первой половине XVI века существовало несколько крупных государств, которые в последующие столетия начнут упорную борьбу за гегемонию в регионе Балтийского моря. Внимательно изучите представленную вам карту и назовите государства, которым принадлежали обозначенные римскими цифрами территории. Важно, чтобы названия государств соответствовали именно первой половине XVI века.



I _____

II _____

III _____

IV _____

V _____

9.2. Названия многих городов Прибалтики, указанных на карте, также претерпели серьезные изменения по сравнению с XVI веком. Укажите их современные названия, вписав в таблицу.

Ковно	
Реваль (Ревель)	
Вильно	
Мемель	
Кенигсберг	
Дерпт	
Тильзит	

Задание 10. Составьте определения исторических понятий, используя все приведенные слова, и назовите их. Разрешено изменять слова по падежам и добавлять предлоги. Слова не могут быть использованы дважды. (6 баллов)

А) Древний, культ, служители, языческий, Русь, религиозный _____

Б) Не получить, широкий, азбука, просветитель, распространение, созданный, славянский, предположительно, Кирилл _____

В) монгольский, отряд, человек, десять, военачальник, тысяч, возглавлять _____

Задание 11. Перед Вами описания событий XVI века. Ваша задача – назвать каждое из описанных событий, дать его датировку (с точностью до года). Оформите ответ в виде таблицы. (10 баллов).

А. «Государь набирал особых людей для борьбы с боярами-изменниками, коих он клеймил позором в письме из Александровской слободы. Каждому воину выдавалось чёрное одеяние, напоминавшее рясю, и собачья голова привязывалась к шее лошади...»

Б. «Молодой 16-летний был окружён огромною толпою бояр, дворян, простого люда. Сопровождаемой женою свою, был наречён он титулом, дотоле не дававшимся великим князьям московским – ...»

В. «Два страшных взрыва были сигналом к общему штурму. Полки большой, левой и правой руки, передовой и сторожевой двинулись на стены крепости... Когда бои велись уже в самом городе, часть воинов бросилась грабить ... Защитники городские стали теснить поредевшие русские полки, и тогда в дело была введена половина отборного царского полка – к вечеру 2 октября мощная крепость в Поволжье была взята...»

Г. «Небольшой московский отряд был послан к столице второго татарского ханства в Поволжье, расположенного в низовьях могучей реки... Слуги тамошнего правителя, приняв несколько сотен московских стрельцов и казаков за авангард огромного русского войска, бежали со своим властителем из города, оставив его победителям...»

Д. «Представители Ордена отказывались платить «Юрьевскую дань». Кроме того, Орден чинил большие препятствия каждому иностранцу, кто желал въехать во владения московского государя... Российская делегация прервала переговоры, а передовой полк был немедленно

двинут в пределы Ордена, заняв вскоре мощную крепость Нарву и тем положив начало 25-летней борьбе за Прибалтику...»


Отрывок (буква)	Событие	Датировка
А		
Б		
В		
Г		
Д		

Задание 12. Перед Вами изображения храмов Руси. Ваша задача дать название каждого из них, указать стиль, город и век постройки. Свой ответ оформите в виде таблицы.


(12 баллов)




А.



Б.



В.



Г.

Изображение (буква)	Название собора	Город	Стиль	Век постройки
А				
Б				
В				
Г				

Максимально возможное количество баллов – 100.