

**Муниципальный этап всероссийской олимпиады школьников  
по истории  
7 КЛАСС  
ОТВЕТЫ**

**Время выполнения заданий – 120 минут  
Максимальный балл – 100 баллов**

**Задание 1. Выберите по одному верному ответу в каждом задании**  
[1 балл за каждый правильный ответ, максимальный балл – 4].

**1.1. В каком году, согласно летоисчислению от сотворения мира, был издан документ, отрывок из которого дан ниже?**

*«Придоша Свѣи в силѣ велицѣ, и Мурмане, и Сумь, и гѣмь в кораблихъ множество много зѣло; Свѣи съ княземъ и съ пискупы своими; и сташа в Невѣ устье Ижеры, хотяче восприяти Ладугу, просто же реку и Новѣгородъ и всю область Новгородскую».*

- |            |            |
|------------|------------|
| 1) 6370 г. | 3) 7005 г. |
| 2) 6748 г. | 4) 7055 г. |

**1.2. Прочтите отрывок и укажите произведение, фрагментом которого он является:** «Сойдемся, братья и друзья, сыновья русские, сложим слово к слову, возвеселим Русскую землю, отбросим печаль в восточные страны — в удел Симов, и восхвалим победу над поганым Мамаем, а великого князя Дмитрия Ивановича и брата его, князя Владимира Андреевича, прославим! И скажем так: лучше, братья, поведать не привычными словами о славных этих нынешних рассказах про поход великого князя Дмитрия Ивановича и брата его, князя Владимира Андреевича, потомков святого великого князя Владимира Киевского»

- 1) «Хождение игумена Даниила в Святые места»
- 2) «Хождение за три моря»
- 3) «Задонщина»
- 4) «Сказание Епифания мниха о пути в Иерусалим»

**1.3. Одним из последствий распада Древнерусского государства является**

- 1) пресечение династии Рюриковичей
- 2) развитие местного летописания
- 3) принятие христианства

4) поражение русских князей от печенегов

#### 1.4. О каком королевиче идет речь в данном тексте?

«А мы бояре дали гетману запись... королевичу, коли придет в царствующий град Москву, венчать на государство царским венцом по прежнему чину. А будучи королевичу на Российском государстве, церкви Божий иконам и чудотворным мощам поклоняться и почитать, костелов и иных молебных в Московском государстве нигде не ставить...».

- 1) Сигизмунд III
- 2) Дмитрий Иванович

- 3) Владислав IV
- 4) Казимир IV

**Ответ:**

1.1.	1.2.	1.3.	1.4.
2	3	2	4

**Задание 2. Выберите несколько верных ответов в каждом задании** [2 балла за каждый правильный ответ, максимальный балл – 8].

#### 2.1. Выберите из предложенного перечня события, НЕ относящиеся к правлению Ивана Грозного:

- 1) присоединение Рязани к Москве
- 2) созыв Земского собора
- 3) создание «Стоглава»
- 4) учреждение патриаршества
- 5) присоединение Крымского ханства
- 6) создание стрелецкого войска

#### 2.2. Какие из перечисленных деятелей были современниками Бориса Годунова?

- 1) Стефан Баторий
- 2) Карл I Великий
- 3) Аристотель Фиораванти
- 4) Александр Ягеллончик
- 5) Сигизмунд III Ваза
- 6) Питер Рубенс

#### 2.3. Какие события связаны с борьбой против монгольской зависимости в XIV вв.?

- 1) битва на реке Калке
- 2) Куликовская битва
- 3) битва на р. Угре
- 4) битва на р. Воже
- 5) сражение на р. Пьяни
- 6) сражение на р. Сить

**2.4. Какие из перечисленных понятий относятся к категориям привилегированного населения в Киевской Руси?**

- |          |            |
|----------|------------|
| 1) закуп | 4) тиун    |
| 2) муж   | 5) отрок   |
| 3) смерд | 6) рядович |

**Ответ:**

<b>2.1.</b>	<b>2.2.</b>	<b>2.3.</b>	<b>2.4.</b>
1 4 5	1 5 6	2 4 5	2 4 5

**Задание 3. Определите и запишите принцип образования каждого логического ряда, найдите и выпишите лишний элемент в каждом ряду. [2 балла за каждый правильный элемент ответа, до 4 баллов за каждый логический ряд, максимальный балл – 16].**

**3.1.** Пядь, аршин, верста, пищаль, сажень

**Ответ:** МЕРЫ ДЛИННЫ, **ПИЩАЛЬ**-ОРУЖИЕ

**3.2.** А. Вяземский, В. Грязной, Ф. Колычев, М. Скуратов, П. Басманов

**Ответ:** ОПРИЧНИКИ, **Ф.Колычев (митрополит Филипп)** ЖЕРТВА

**3.3.** Паперть, струг, притвор, неф, алтарь

**Ответ:** ЭЛЕМЕНТЫ ВНУТРЕННЕГО СТРОЕНИЯ ХРАМА, **СТРУГ**-РЕЧНОЕ СУДНО

**3.4.** «Слово о полку Игореве», «Задонщина», «Хождение за три моря», «Устав Мономаха»

**Ответ:** ЛИТЕРАТУРНЫЕ ПРОИЗВЕДЕНИЯ, **«Устав Мономаха»**-НОРМАТИВНЫЙ АКТ

**Задание 4. Восстановите правильную хронологическую последовательность событий. Ответ запишите в виде ряда цифр, отражающего последовательность событий [2 балла за каждую правильную хронологическую последовательность, максимальный балл – 4].**

- 4.1.** А) гибель царевича Дмитрия в Угличе  
 Б) поход Чингис-хана в Среднюю Азию  
 В) образование Речи Посполитой  
 Г) походы Олега в Византию  
 Д) строительство Софийского собора в Новгороде  
 Е) Тверское восстание

**Ответ:**

<i>Г</i>	<i>Д</i>	<i>Б</i>	<i>Е</i>	<i>В</i>	<i>А</i>
----------	----------	----------	----------	----------	----------

- 4.2.** А) Иван Калита  
 Б) Василий Темный  
 В) Даниил Московский  
 Г) Иван Грозный  
 Д) Симеон Гордый  
 Е) Иван Красный

**Ответ:**

<i>В</i>	<i>А</i>	<i>Д</i>	<i>Е</i>	<i>Б</i>	<i>Г</i>
----------	----------	----------	----------	----------	----------

**Задание 5.** Соотнесите элементы правого и левого столбцов таблицы. Запишите в таблицу выбранные цифры под соответствующими буквами [1 балл за каждый правильный ответ, максимальный балл – 15].

**5.1.** Установите соответствие между историческим событием и датой. Обратите внимание, в правом столбце таблицы содержится лишний элемент [5 баллов].

<b>Историческое событие</b>	<b>Дата</b>
А) поход Олега Вещего на Киев	1) 1185 г.
Б) сражение на р. Альте	2) 1581 г.
В) смерть Лжедмитрия I	3) 1378 г.
Г) введение заповедных лет	4) 882 г.
Д) поход новгород-северского князя Игоря против половцев	5) 1068 г.
	6) 1606 г.

**Ответ:**

№	А	Б	В	Г	Д
5.1.	4	5	6	2	1

**5.2. Установите соответствие между историческими деятелями и происходившими при них событиями. Обратите внимание, в правом столбце таблицы содержится лишний элемент [5 баллов].**

Событие	Деятели
А) Любечский съезд князей	1) А. Курбский
Б) венчание на царство	2) Александр Невский
В) Невская битва	3) Иван Грозный
Г) поход Тохтамыша	4) Дмитрий Донской
Д) бегство в Литву	5) Дмитрий Борецкий
	6) Владимир Мономах

**Ответ:**

№	А	Б	В	Г	Д
5.2.	6	3	2	5	1

**5.3. Установите соответствие между историческими деятелями отечественной истории и всемирной истории. Обратите внимание, в правом столбце таблицы содержится лишний элемент [5 баллов].**

Деятели отечественной истории	Деятели всемирной истории
А) Ярослав Мудрый	1) Карл Великий
Б) Алексей Михайлович Романов	2) Оттон I
В) Дмитрий Донской	3) Вильгельм I Завоеватель
Г) Княгиня Ольга	4) Мартин Лютер
Д) Василий III	5) Кромвель
	6) Ф. Петрарка

**Ответ:**

№	А	Б	В	Г	Д
5.3.	3	5	6	2	4

**Задание 6. Прочтите отрывок из документа и ответьте на вопросы [максимальный балл – 6].**

«Крестьянам разрешается переходить из волости в волость, из села в село лишь в течение одного срока в году: за неделю до осеннего Юрьева дня (26 ноября) и в течение недели после осеннего Юрьева дня. За пользование двором крестьяне платят в степной полосе рубль, а в лесной — полтину. Если крестьянин проживет у господина год, то при уходе он платит четверть стоимости двора, если два года - половину стоимости двора, три года - три четверти, а за четыре года он уплачивает стоимость всего двора».

1. Напишите название данного документа, в котором содержится данная норма? [1 балл].

**Ответ:** СУДЕБНИК ИВАНА 3

2. Укажите год, когда он был принят? [1 балл].

**Ответ:** 1497

3. Как называлась описанная плата и кому она предназначалась? [1 балл].

**Ответ:** ПОЖИЛОЕ

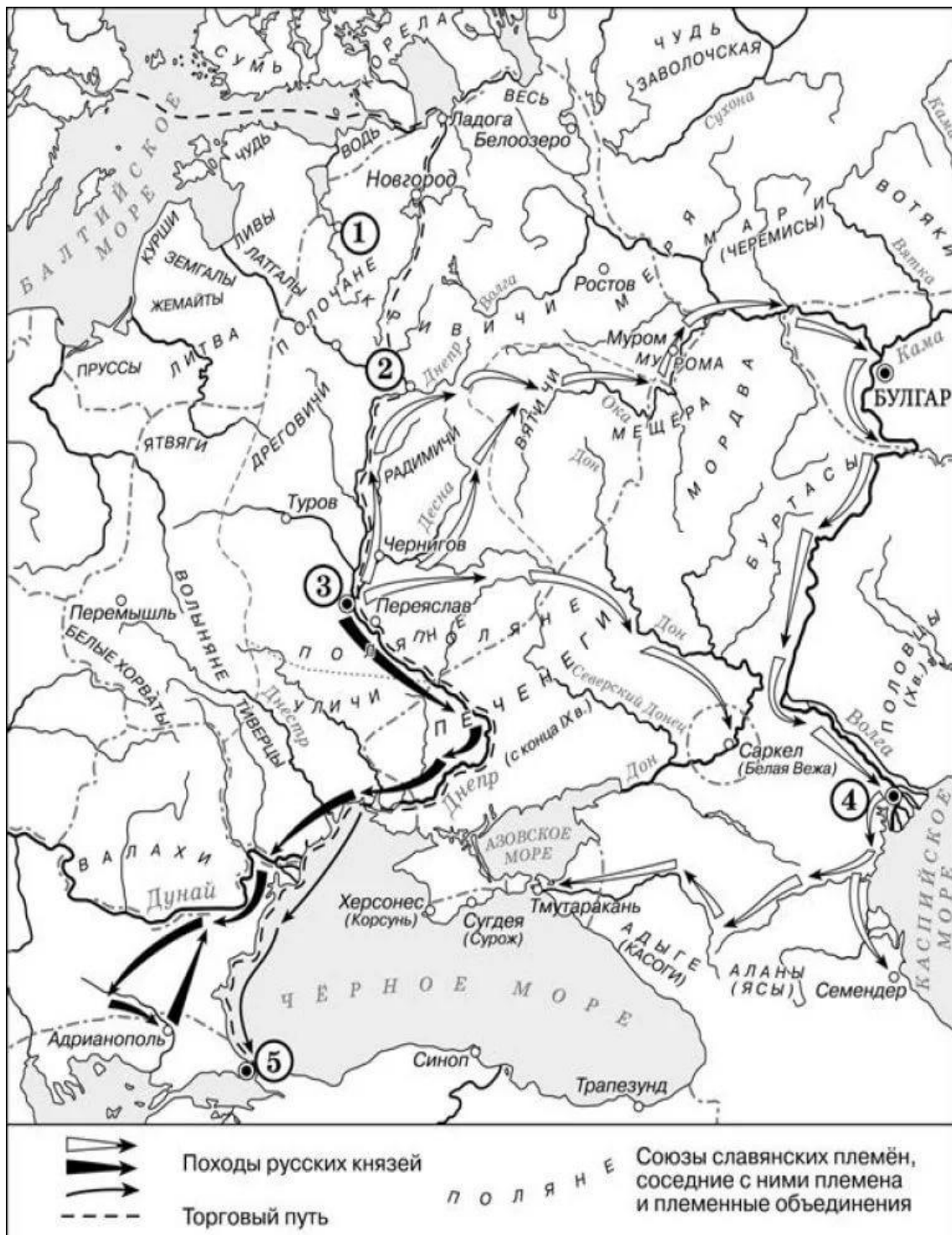
4. Начало какому процессу было положено этим документом? [1 балл].

**Ответ:** ПРОЦЕСС ЗАКРЕПОЩЕНИЯ КРЕСТЬЯН

5. Укажите название и дату принятия документов, в которых данная норма была подтверждена [2 балла].

**Ответ:** СУДЕБНИК 1550 ИВАНА 4

**Задание 7. Внимательно рассмотрите карту и ответьте на вопросы** [1 балл за каждый из перечисленных элементов ответа, максимальный балл за все задание – 14].



1. Напишите название города, обозначенного на карте цифрой «2», и название реки, которая расположена рядом с ним [2 балла].

**Ответ:** СМОЛЕНСК, ДНЕПР

2. Какой город являлся центром полянской земли? Напишите название города и укажите цифру, которой он обозначен на карте [2 балла].

**Ответ:** КИЕВ, 3

3. Назовите не менее двух славянских племен, получивших свое название от легендарных предков [2 балла].

**Ответ:** ВЯТИЧИ, РАДИМИЧИ

4. Какой город обозначен по цифрой 5 и какое историческое событие 988 года в истории Руси было с ним связано? [2 балла].

**Ответ:** КОНСТАНТИНОПОЛЬ(ЦАРЬГРАД), КРЕЩЕНИЕ РУСИ

5. Укажите название государства, на территории которого был построен город, обозначенный на карте цифрой 4 [2 балла].

**Ответ:** ХАЗАРСКИЙ КАГАНАТ (ХАЗАРИЯ)

6. Напишите название государств, через земли которых пролегли обозначенные стрелками походы Киевских князей? [2 балла].

**Ответ:** В.БУЛГАРИЯ, ХАЗАРИЯ,Д.БОЛГАРИЯ,ВИЗАНТИЯ

7. Назовите три главных города на территории Древнерусского государства, через которые проходил торговый путь «из варяг в греки»? [1 балл].

**Ответ:** НОВГОРОД,СМОЛЕНСК,КИЕВ

8. Назовите город на карте, около которого построен и функционирует сегодня знаменитый Крымский мост? [1 балл].

**Ответ:** ТМУТАРАКАНЬ

**Задание 8. Заполните пробелы в тексте. Ответ оформите в виде перечня элементов под соответствующими номерами [1 балл за каждый правильно заполненный пропуск, максимальный балл – 9].**

Смертью царевича \_\_\_\_\_(1) в 1591 году, и царя \_\_\_\_\_(2) не оставившего после себя детей, пресеклась династия московских государей. \_\_\_\_\_(3) избрал на царство боярина \_\_\_\_\_(4), шурина покойного государя. Вскоре после этого избрания начались смуты, которые постепенно развились в страшное потрясение государства, окончившееся только со вступлением на московский престол первого царя новой династии, Михаила, в \_\_\_\_\_(5) году. Эти годы (1598—1613) известны в нашей истории как \_\_\_\_\_(6) или эпоха самозванцев. Эти самозванцы большей частью выдавали себя за младшего сына \_\_\_\_\_(7) царевича \_\_\_\_\_(8), погибшего насильственной смертью, обстоятельства которой остались неразъясненными. Такое насильственное и таинственное пресечение династии и послужило первым поводом к




смуте, которую поддержало сопровождавшее его появление самозванцев. Государство было спасено только при широком участии народа, который, образовав ополчение, в \_\_\_\_\_(9) году изгнал интервентов из Москвы.


**Ответ:**

1. ДМИТРИЯ
2. ФЕДОРА ИОАННОВИЧА
3. ЗЕМСКИЙ СОБОР
4. БОРИСА ФЕДОРОВИЧА ГОДУНОВА
5. 1613
6. СМУТА
7. ИВАНА 4 ГРОЗНОГО
8. ДМИТРИЯ
9. 1612


**Задание 9.** Посмотрите на архитектурные сооружения и укажите: 1) название архитектурных сооружений [2 балла]; 2) время их создания (с точностью до половины столетия) [1 балл]; 3) имя князя, при котором они были построены [1 балл]; 4) место их расположения [1 балл] [до 6 баллов за ответ по одному архитектурному сооружению, максимальный балл за все задание – 20].



1.



2.



3.



4.

Ответ:

№	Название [2 балла]	Время создания [1 балл]	Имя князя [1 балл]	Место расположения [1 балл]
1	ЗОЛОТЫЕ ВОРОТА	1164 (XII в.)	АНДРЕЙ БОГОЛЮБСКИЙ	ВЛАДИМИР
2	УСПЕНСКИЙ СОБОР	1475- 1479 (XV в.)	ИВАН III	МОСКВА
3	ДМИТРИЕВСКИЙ (ДМИТРОВСКИЙ) СОБОР	1194- 1197 (XII в.)	ВСЕВОЛОД БОЛЬШОЕ ГНЕЗДО	ВЛАДИМИР
4	ЦЕРКОВЬ ПЕТРА И ПАВЛА НА ГОРОДЯНКЕ  (ПЕТРОПАВЛОВСКАЯ ЦЕРКОВЬ)	1146 (XII в.)	РОМАН МСТИСЛАВИЧ	СМОЛЕНСК

**Задание 10.** Прочтите отрывок из монографии современных историков и выберите из предложенных вариантов ответов те, которые пропущены в тексте. Получившуюся

**последовательность цифр перенесите в бланк ответов** [1 балл за каждый правильно заполненный пропуск, максимальный балл – 4].

«Сибирский губернатор князь М.П. Гагарин донес царю \_\_\_\_\_(А) про «городок калмыцкой Эркет, под которым на реке Дарье промышляют песошное золото»... Царь на доношении губернатора написал резолюцию об отправке туда экспедиции и о назначении руководителем этой военной экспедиции \_\_\_\_\_(Б)... Только в августе \_\_\_\_\_(В) года подполковник с небольшим отрядом отправился из Москвы в \_\_\_\_\_(Г).

1) 1715 г.

5) Санк-Петербург

2) Петр I

6) Михаил Романов

3) 1617 г.

7) И.Д. Бухгольц

4) Тобольск

8) М.В. Скопин-Шуйский

**Ответ:**

<b>А</b>	<b>Б</b>	<b>В</b>	<b>Г</b>
<b>2</b>	<b>7</b>	<b>1</b>	<b>4</b>