

**ВСЕРОССИЙСКАЯ ОЛИМПИАДА ШКОЛЬНИКОВ ПО ИСТОРИИ**  
**2018/2019 УЧЕБНЫЙ ГОД**  
**МУНИЦИПАЛЬНЫЙ ЭТАП**  
**7 КЛАСС**

Максимальное количество баллов за тур – 70 баллов.

**1. Выберите правильные позиции из приведённых данных и занесите их в таблицу (6 баллов)**

- 1.1. За годы княжения Ивана III к Московскому княжеству были присоединены:  
а) Новгородская земля б) Псков в) Тверь г) Чернигов д) Рязань.
- 1.2. Современниками Ивана IV были:  
а) Вольтер б) Микеланджело Буонаротти в) Карл XII г) Фернан Магеллан  
д) Генрих VIII е) Болеслав Храбрый
- 1.3. Известными живописцами XV-XVI вв. являлись:  
а) М.Руффо б) С.Ушаков в) А.Рублев г) Ф.Грек д) Д.Черный.

1.1	1.2.	1.3

**2. Установите соответствие между двумя рядами данных. К каждой позиции первого столбца подберите соответствующую позицию из второго столбца. Результаты оформите в виде таблицы (5 баллов)**

**Соотнесите автора и произведение, им созданное.**

ПРОИЗВЕДЕНИЕ

АВТОР

- |  |                     |
|--|---------------------|
| 1. «Моление»                               | а) Афанасий Никитин |
| 2. «Поучение детям»                        | б) Ярослав Мудрый   |
| 3. «Русская правда»                        | в) А. Курбский      |
| 4. «Хождение за три моря»                  | г) В. Мономах       |
| 5. «История о великом князе<br>Московском» | д) Д. Заточник      |

Ответ:

1	2	3	4	5

**3. Расположите в хронологической последовательности исторические события. Ответ оформите в таблицу (8 баллов)**

**3.1. Этапы противостояния русских князей с половцами:**

- а) битва на Альте  
б) поход Игоря Святославича на половцев  
в) поход в Степь Владимира Мономаха  
г) поход Мстислава Владимировича против половцев

**3.2. Периоды правления киевских князей.**


- а) Игорь Старый  
б) Владимир Святой  
в) Олег Вещий  
г) Ольга Прекрасная

Ответ:

	1	2	3	4
--	---	---	---	---

3.1				
3.2				

**4. Внимательно рассмотрите представленное изображение.**

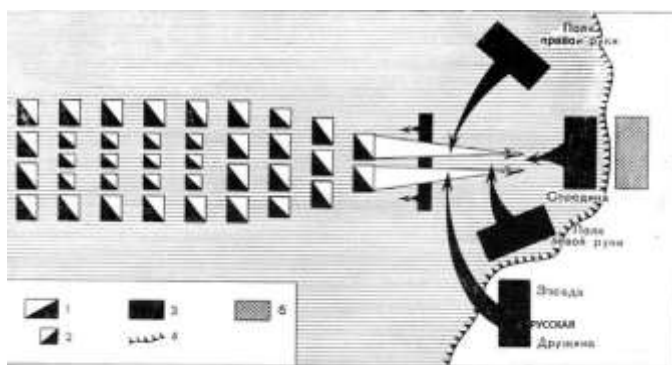


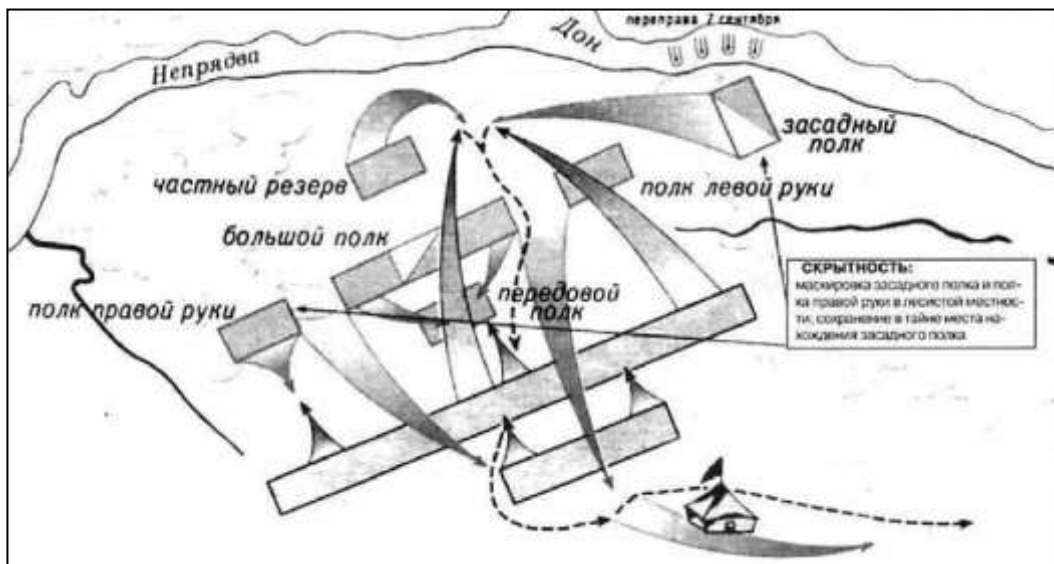
**Выберите из приведённого ниже списка верные суждения о памятнике, изображённом на фотографии (3 балла)**

- а) сооружён в честь создания «Русской правды Ярославом Мудрым»
- б) событие, которому посвящён памятник, положило начало объединению русских военных сил против половцев
- в) активным участником события, в честь которого был сооружён памятник, был Д. Донской
- г) событие, которому посвящён памятник, окончательно остановило распад русского государства
- д) участниками события, которому посвящён памятник, были внуки и правнуки Я. Мудрого
- е) памятник сооружён в ознаменование 900-летия съезда князей в Любече.

Ответ: \_\_\_\_\_.

**5. Исторические схемы и карты – важнейший источник знаний. Внимательно рассмотрите предложенные схемы важнейших битв и ответьте на вопросы к ним. Ответы оформите в таблицу (15 баллов)**





3.

ВОПРОСЫ	СХЕМА №1	СХЕМА №2	СХЕМА №3
Название, под которым битва вошла в историю			
Ориентиры, по которым битва определена			
Имя русского полководца, возглавлявшего сражение			
Дата битвы			
Название <u>государства ИЛИ рыцарского ордена</u> , противостоявших русским войскам			

**6. Историк должен грамотно писать и знать исторические понятия и термины. Впишите правильные буквы вместо пропусков в исторических терминах и дайте им определения (13 баллов)**

1. ...сак - \_\_\_\_\_  
 \_\_\_\_\_  
 \_\_\_\_\_

2. ч...л...битная - \_\_\_\_\_

---

---

3. ...пала - \_\_\_\_\_

---

---

4. м...стн...чество - \_\_\_\_\_

---

---

5. м...тр...полит - \_\_\_\_\_

---

---

**7. О ком идёт речь? (3 балла).**

*1. Отец, дядя и дед многих европейских правителей. При крещении ..... получил имя Георгий (или Юрий). Его родителями стали Владимир Святославович, который принадлежал к роду Рюриковичей, и полоцкая княжна Рогнеда Рогволодовна. ...Огромной заслугой князя стала победа над печенегами. На месте блистательной победы над кочевниками был заложен Софийский собор. Он во многом был копией собора в Царьграде. Украшенный великолепными фресками и мозаикой, храм поражал красотой современников и радует глаз сегодня.*

Ответ: \_\_\_\_\_

*2. Князь, «подобно персидскому царю Артаксерксу, проявлял алчность к приобретению». Непокойный князь регулярно вмешивался в междукняжеские распри. Особенный интерес он имел к великому Киеву, где в то время правил его племянник Изяслав Мстиславович. Ранее городом управлял его отец, поэтому честолюбивый князь так истово стремился занять старший княжеский престол. Из нескольких попыток овладеть Киевом три оказались результативными. Киевляне не любили алчного и жестокого вельможу. Однажды, возвратившись из похода на Новгород, написал союзнику, чернигово-северскому князю Святославу Ольговичу, послание: «Прииде ко мне, брате, в Москов!». В этом послании Москва упоминается впервые.*

Ответ: \_\_\_\_\_

*3. Духовный собиратель русского народа, с которым связаны культурный идеал Святой Руси и возникновение русской духовной культуры (и русской культуры вообще). Письменного наследия не оставил, однако известны его духовные наставления. По словам одного современника, «тихими и кроткими словами» мог действовать на самые загорелые и ожесточённые сердца; очень часто примирял враждующих между собой князей, уговаривая их подчиняться великому князю московскому (например, ростовского князя - в 1356, нижегородского - в 1365, рязанского князя Олега и др.), благодаря чему ко времени Куликовской битвы почти все русские князья признали главенство Дмитрия Иоанновича.*

Ответ: \_\_\_\_\_

**8. Важную роль в исторической науке играют документы. Ознакомьтесь с фрагментом исторического документа и ответьте на вопросы к нему (7 баллов).**

АНГЛИЙСКИЙ ПОСОЛ Д. ФЛЕТЧЕР 1589 г.

Пехоты, получающей постоянное жалованье, царь содержит до 12 тысяч человек, называемых ..... Из них 5000 должны находиться в Москве или в ином месте, где бы ни имел пребывание царь, и 2000 (называемые стремянными ....) при самой его особе... Прочие размещены в укрепленных городах, где остаются до тех пор, пока не понадобится отправить их в поход. Каждый из них получает жалованья по семи рублей в год, сверх двенадцати мер ржи и столько же овса, ... ..составляющие пехоту, не носят никакого оружия, кроме самопала в руке, бердыша на спине и меча с боку. Ствол их самопала не такой, как у солдатского ружья, но гладкий и прямой (несколько похожий на ствол охотничьего ружья); отделка ложа очень груба и неискусна, и самопал весьма тяжёл, хотя стреляют из него очень небольшою пулею...

В Сибири... построено несколько крепостей и поставлены гарнизоны около шести тысяч солдат, из русских и поляков, которые царь усиливает, отправляя туда новые партии для населения, по мере распространения владений... Постоянных телохранителей его (царя.— Ред.) составляют 2000 ....., стоящие день и ночь с заряженными ружьями, зажжёнными фитилями и другими нужными снарядами. Они не входят во дворец и сторожат во дворе, где живёт царь. ... сторожат дворец царский или опочивальню по двести пятидесяти человек в ночь; другие двести пятьдесят человек караулят на дворе и около казначейства...

**1. В тексте пропущено название воинских частей, о которых пишет Д. Флетчер - приведите его.**

\_\_\_\_\_

**2. В каком году и какой орган государственной власти принял решение об их создании?**

\_\_\_\_\_

**3. На смену какому порядку комплектования армии пришли новые полки? В чем их преимущества?**

\_\_\_\_\_

**4. Чем объясняется их появление?**

\_\_\_\_\_

**9. История Отечества начинается с истории своего края. Рассмотрите представленные ниже фотографии и ответьте на вопросы. 10 баллов.**



1.



2.



3.



4.

А. Что объединяет данные фотографии?

---



---

Б. Какова история здания, изображённого в нижнем правом углу? (Когда, кем и для чего построено)

---



---



---



---



---



---



---



---



---



---