

ВСЕРОССИЙСКАЯ ОЛИМПИАДА ШКОЛЬНИКОВ  
ПО ИСТОРИИ 2019–2020 учебный год  
МУНИЦИПАЛЬНЫЙ ЭТАП  
7 класс

**Критерии оценивания выполнения олимпиадных заданий**

*Максимальное количество баллов за работу -100.*

*В заданиях 1–3 дайте один верный ответ*

1. Назовите имя князя, который оставил это завещание детям?

«Старых чтите, как отца, а молодых, как братьев. В дому своем не ленитесь, но за всем сами наблюдайте; не полагайтесь на тиуна или на отрока, чтобы не посмеялись приходящие к вам ни над домом вашим, ни над обедом вашим».

1) Ярослав Мудрый

3) Юрий Долгорукий

2) Александр Невский

4) **Владимир Мономах**

2. В каком году, согласно летосчислению от сотворения мира, был издан документ, отрывок из которого дан ниже?

«А христианам отказываться из волости, и с села в село, один срок в году ...Дворы пожилые платят в полех за двор рубль, а в лесех полтина. А которой христианин поживет за ким год, да пойдет прочь, и он платит четверть двора, а два года поживет да поидеть прочь, и он полдвора платит; а три годы поживет, а пойдет прочь, и он платит три четверти двора; а четыре года поживет, и он весь двор платит».

1) **7005 г.**

3) 7059 г.

2) 7046 г.

4) 7105 г.

3. В правление какого князя был создан документ, статья из которого приведена ниже?

«Убьет муж мужа, то мстит брат за брата, или сын за отца, или сын брата, или сын сестры; если не будет никто мстить, то 40 гривен за убитого. Если убитый - русин, или гридин, или купец, или ябедник, или мечник, или же изгой, или словенин, то 40 гривен уплатить за него»

1) Владимир Мономах

2) Владимир Святославович

2) Изяслав Ярославович

4) **Ярослав Мудрый**

Ответ:

1	2	3
4	1	4

По 2 балла за каждый верный ответ.

**Всего 6 баллов за задания 1–3.**

*В заданиях 4–5 выберите несколько верных ответов из предложенных*

4. Какие из перечисленных городов входили в состав Московского княжества при князе Данииле Александровиче?

- 1) **Переяславль-Залесский**
- 2) **Коломна**
- 3) Торжок
- 4) Кострома
- 5) Можайск
- 6) Козельск

5. Какие из военных походов князя Святослава завершились победой?

- 1) на **Хазарский каганат**
- 2) **на вятичей**
- 3) на Дунайскую Болгарию
- 4) на **Волжскую Булгарию**
- 5) на Византию
- 6) на варягов

Ответ:

4	5
12	124

По 4 балла за полностью верный ответ на каждое задание; 1 балл за ответ с одной ошибкой (не указан один из верных ответов или наряду с указанными верными ответами приводится один неверный).

**Всего 8 баллов за задания 4, 5.**

6. Перед Вами список событий, произошедших в правления трёх различных русских князей. Запишите в верхнюю строку таблицы имена князей, а в нижнюю – порядковые номера соответствующих каждому князю событий.

- 1) пленение князя сыновьями хана Улу-Мухаммеда под Суздаlem
- 2) перенос митрополичьей кафедры в Москву
- 3) избрание московским митрополитом Ионы
- 4) перенос столицы своего княжества во Владимир
- 5) междоусобная война в Московском княжестве
- 6) строительство храма Покрова на Нерли
- 7) захват Киева
- 8) антиордынское восстание в Твери
- 9) присоединение к московскому княжеству Углича и Белоозера

Ответ:

Князь	Андрей Боголюбский	Иван Калита	Василий II
Событие	467	289	135

По 2 балла за каждый правильный критерий (имя правителя). По 2 балла за правильное определение событий, 1 балл в случае 1 ошибки.

**Всего 12 баллов.**

7. Дайте краткое обоснование ряда (что объединяет перечисленные элементы) и укажите, какой из элементов является лишним по данному основанию.

7.1.


А) Георгиевский собор



Б) Успенский собор



В) Софийский собор Г) Церковь Покрова



Д) Церковь Бориса и Глеба



7.2. 1223, 1238, 1242, 1252.

Ответ:

7.1. Храмы Северо-Восточной Руси XII – XIII вв. Лишнее: Софийский собор в Новгороде.

7.2. Годы столкновений Руси с войсками монгольской империи. Лишнее: 1242 – столкновение с крестоносцами.

*Ответы могут быть даны в иных, близких по смыслу формулировках.*

По 5 баллов за каждый верный ответ.

Всего **10 баллов**.

8. По какому принципу образованы ряды? Дайте максимально точный ответ.

8.1. 907, 911, 941, 944.

8.2. Паперть, притвор, неф, алтарь.

Ответ:

8.1. Годы заключения договоров Руси с Византией

8.2. Части христианского храма.

*Ответы могут быть даны в иных, близких по смыслу формулировках.*

По 4 балла за каждый верный ответ.

**Всего 8 баллов.**

9. Расположите в хронологической последовательности события. Ответы внесите в таблицу.

А) Невская битва

Б) битва на реке Воже

В) битва на реке Сити

Г) А.Невский стал великим князем владимирским

Д) Грюнвальдская битва

Е) битва на реке Шелони

Ответ:

В	А	Г	Б	Д	Е
---	---	---	---	---	---

6 баллов за полностью верную последовательность; 3 балла за последовательность с одной ошибкой (т. е. верная последовательность восстанавливается путём перестановки любых двух символов); 0 баллов, если допущено более 1 ошибки.

**Всего 6 балла**

10. Определите пропущенные в тексте названия, слова, имена, даты, обозначенные порядковыми номерами. При необходимости при порядковых номерах даются пояснения о характере требуемой вставки. Необходимые вставки впишите под соответствующими номерами в таблицу в бланке работы.

После Куликовской битвы в течение ста лет татары не раз разоряли Русскую землю, сжигали города, уводили русских людей в полон. Русь продолжала платить позорную дань Орде. Но вот на Великокняжеский Московский стол взошел князь (1 – имя), мудрый и осторожный политик, собиратель русских земель. Он был первым из русских Великих князей, который никогда не приезжал к хану. Понимая неизбежность столкновения с Ордой, князь, со свойственной ему предусмотрительностью, вел переговоры с Крымским ханом (2 – имя), договариваясь, в случае нападения ордынцев, о поддержке. Князь перестал платить дань Орде. Хан (3 – имя) должен был наказать непокорного данника. В (4 – дата) году «вся ордынская сила» двинулась на Русь. Узнав о готовящемся походе, князь направил войска под управлением своего сына (5 – имя) к хорошо укрепленному (6 – город). Сам же Великий князь «ста на Коломне», заняв переправы через реку (7 – название) на дороге из Орды на Русь. Но хан не решился идти на открытый бой без своего союзника короля(8 – имя). Он вышел к (9 – река), ожидая помощи. Узнав об

этом, Великий князь послал русскую рать к реке. Начиная с 8 октября оборона переправ продолжалась четверо суток. Многотысячному воинству ордынцев не удалось зацепиться за русский берег. Хану пришлось отойти на пару верст, Хан требовал признать власть Большой Орды, выплатить задолженность за все годы, когда дань не платилась. Князь, внешне проявляя готовность к переговорам, просто тянул время. Тем временем приближалось наступление морозов. Замерзшие реки, дороги открывали торный путь татарам на Русь. Однако морозы заставляли и ордынцев повернуть вспять: отсутствовала теплая одежда, в полный рост вставал вопрос снабжения фуражом конницы и многотысячных овечьих отар, которых привели в обозе для обеспечения питания войска. Простояв на берегу реки еще несколько дней, хан начал постепенно отводить свои части, а в начале ноября окончательно повернул в Орду. Это событие получило название (10).

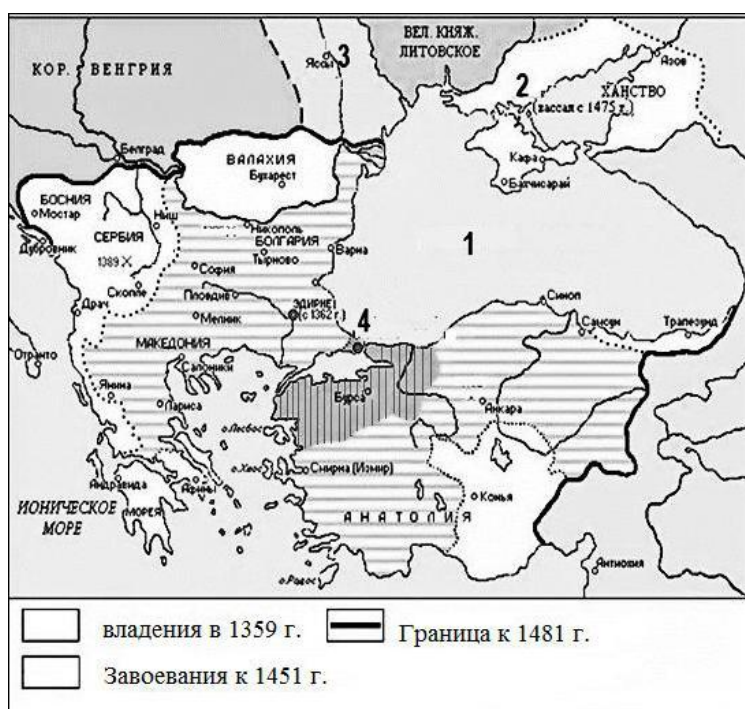
Ответ:

1	Иван III
2	Менги-Гирею
3	Ахмат
4	1480 г
5	Ивана «Молодшего»
6	Серпухову
7	Оку
8	Казимира Литовского
9	Угре
10	Великое стояние на реке Угре

По 1 баллу за каждую верную вставку.

Всего **10 баллов**.

11. Внимательно рассмотрите схему и выполните предложенные ниже задания.



1. Назовите государство, чья граница к 1481 году обозначена в легенде схемы.
2. Назовите правителя этого государства, при котором был захвачен город, обозначенный на схеме цифрой 4.
3. Как стал называться город, обозначенный на схеме цифрой 4, после того, как был захвачен войсками государства, представленного на схеме?
4. Напишите название моря, обозначенного на схеме цифрой 1.
5. Напишите название ханства, обозначенного на схеме цифрой 2.

Ответ:


1	Османская империя
2	Мехмет II
3	Стамбул
4	Чёрное море
5	Крымское

По 2 балла за каждый правильный ответ.

Всего **10 баллов**.

12. Внимательно рассмотрите изображения храмов и гербов и выполните задания. Ответы внесите в таблицу.

А



Б




В



1.

2.

3.



1. Соотнесите фотографии храмов и гербы городов, в которых они находятся.
2. Назовите имена великих князей, чья власть распространялась на города, в которых построены данные храмы, в годы их постройки.
3. Укажите, в каком из представленных храмов сохранились фрески Феофана Грека. Назовите этот храм

Ответ:

1.

Буквенное обозначение герба	А	Б	В
Порядковый номер изображения храма	2	3	1

2.

Порядковый номер изображения храма	Имя великого князя
1	Всеволод Большое Гнездо
2	Дмитрий Донской
3	Ярослав Мудрый

3.

Порядковый номер изображения храма	Название храма
2	Церковь Спаса на Ильине

По 2 балла за каждый верный элемент ответа.

Всего **16 баллов**

13. Рассмотрите изображения исторических личностей, родившихся или связанных с Владимирским краем. Назовите их и кратко проанализируйте основные направления их деятельности, ее результаты и связь этих людей с нашим краем.

№	Изображение	Характеристика
---	-------------	----------------

1		Андрей Боголюбский
2		Андрей Рублев
3		Николай Францевич Гастелло

По 1 баллу за верное определение исторической личности, до 3-х баллов за каждую характеристику.

Всего **12 баллов**

14. Какой из городов Владимирской области носит почетное звание «Город воинской славы»?

Ответ: Ковров

Всего **2 балла**