

ВСЕРОССИЙСКАЯ ОЛИМПИАДА ШКОЛЬНИКОВ
МУНИЦИПАЛЬНЫЙ ЭТАП
ИСТОРИЯ
8 КЛАСС
Критерии проверки

Время написания – 120 минут
Количество заданий – 10
Максимальное количество баллов – 100

Уважаемые участники олимпиады! Будьте внимательны, отвечая на вопросы. Убедитесь, что правильно понимаете смысл заданий. Ответы следует вписывать в таблицу или отведенное для ответа место.

Задание №1. (9 баллов) Выберите один правильный ответ из четырёх предложенных.

1.1. Кто из патриархов Русской православной церкви XVII в. был лишён духовного сана и стал простым монахом?

А) Адриан Б) Никон В) Гермоген Г) Иов

1.2. Какой из перечисленных городов был взят русской армией в период Ливонской войны?

А) Чернигов Б) Галич В) Львов Г) Полоцк

1.3. Какая из русских крепостей XVI-XVII вв. была построена по проекту зодчего Фёдора Коня?

А) Псковский кремль Б) Смоленская крепость В) Казанский кремль Г) Китай-город

1.1	1.2	1.3
Б	Г	Б

За каждый правильный ответ – **3 балла**. Всего – **9 баллов**.

Максимальное количество баллов – 9 баллов.

Задание №2. (9 баллов) Выберите три правильных ответа из шести предложенных.

2.1. Какие понятия связаны с периодом правления Ивана IV?

А) крестоцеловальная запись Б) Избранная Рада В) иосифляне Г) Земский собор Д) кормление Е) Переяславская Рада

2.2. Какие из перечисленных выступлений произошли в период правления царя Алексея Михайловича?

А) Соловецкое восстание Б) восстание Хлопка В) Медный бунт Г) Стрелецкий бунт Д) Соляной бунт Е) Астраханское восстание

2.3. Какие из перечисленных городов были разорены монголами в 1237-1240 гг.?

А) Рим Б) Рязань В) Владимир на Клязьме Г) Полоцк Д) Новгород Е) Киев

2.1	2.2	2.3
Б, Г, Д	А, В, Д	Б, В, Е

За каждый полностью правильный ответ – **3 балла**. При наличии одной ошибки – **1 балл**, двух и более ошибок – **0 баллов**. Всего – **9 баллов**.

Максимальное количество баллов – 9 баллов.

Задание №3. (16 баллов) Какое из перечисленных понятий (имён, событий) является лишним в данном ряду? Лишнее слово (словосочетание) зачеркните. Укажите, по какому принципу образован каждый ряд, то есть кратко поясните, что объединяет понятия (имена, даты, события).

А) Прокопий Ляпунов, Кузьма Минин, Дмитрий Пожарский, Иван Болотников, Дмитрий Трубецкой

Б) абсида, купол, неф, закомара, портик

В) Псковское осадное сидение, битва на Калке, битва у Коломны, битва на р. Сить, оборона Козельска

Г). Семён Дежнёв, Ерофей Хабаров, Василий Поярков, Федот Попов, Афанасий Никитин

Содержание верного ответа и указания по оцениванию	Баллы
А) Лишнее имя: Иван Болотников Принцип: <i>организаторы народных (земских) ополчений в период Смуты</i>	
Б) Лишнее понятие: портик Принцип: <i>архитектурные элементы православного храма</i>	
В) Лишнее событие: Псковское осадное сидение Принцип: <i>события, связанные с монгольским нашествием на русские земли</i>	
Г) Лишнее имя: Афанасий Никитин Принцип: <i>русские землепроходцы XVII в., исследователи Сибири и Дальнего Востока</i>	
За каждое правильно указанное понятие, которое является лишним	2
За каждое правильное обоснование принципа, по которому образован логический ряд	2
Максимальное количество баллов	16

Максимальное количество баллов – 16 баллов.

Задание №4. (9 баллов) Ознакомьтесь с фрагментом исторического источника и ответьте на предложенные вопросы.

«В год 6453. В тот год сказала дружина Игорю: "Отроки Свенельда изоделись оружием и одеждой, а мы наги. Пойдем, князь, с нами за данью, и себе добудешь, и нам". И послушал их Игорь - пошел к древлянам за данью и прибавил к прежней дани новую, и творили насилие над ними мужи его. Взяв дань, пошел он в свой город. Когда же шел он назад, - поразмыслив, сказал своей дружине: "Идите с данью домой, а я возвращусь и похожу еще". И отпустил дружину свою домой, а сам с малой частью дружины вернулся, желая большего богатства. Древляне же, услышав, что идет снова, держали совет с князем своим Малом: "Если повадится волк к овцам, то вынесет все стадо, пока не убьют его; так и этот: если не убьем его, то всех нас погубит". И послали к нему, говоря: "Зачем идешь опять? Забрал уже всю дань". И не послушал их Игорь; и древляне, выйдя из города Искоростеня, убили Игоря и дружинников его, так как было их мало. И погребен был Игорь, и есть могила его у Искоростеня в Деревской земле и до сего времени».

4.1. Назовите имена жены и сына князя, о гибели которого рассказывается в представленном фрагменте

Ответ: жена – Ольга (за правильный ответ – 1 балл); сын – Святослав (за правильный ответ – 1 балл);

4.2. Датировка события в источнике дана в системе летоисчисления «от сотворения мира» (6453 г.). В каком году «от рождества Христова» оно произошло?

Ответ: в 945 г. (за правильный ответ – 2 балла);

4.3. Назовите исторический источник, фрагмент которого представлен в задании, а также имя его предполагаемого автора (составителя)

Ответ: Источник – Повесть временных лет (3 балла), предполагаемый автор (составитель) – Нестор (допускается Сильвестр), 2 балла.

Максимальное количество баллов – 9 баллов.

Задание №5. (12 баллов) Прочитайте текст. Вставьте пропущенные слова или словосочетания (имена, понятия, даты)

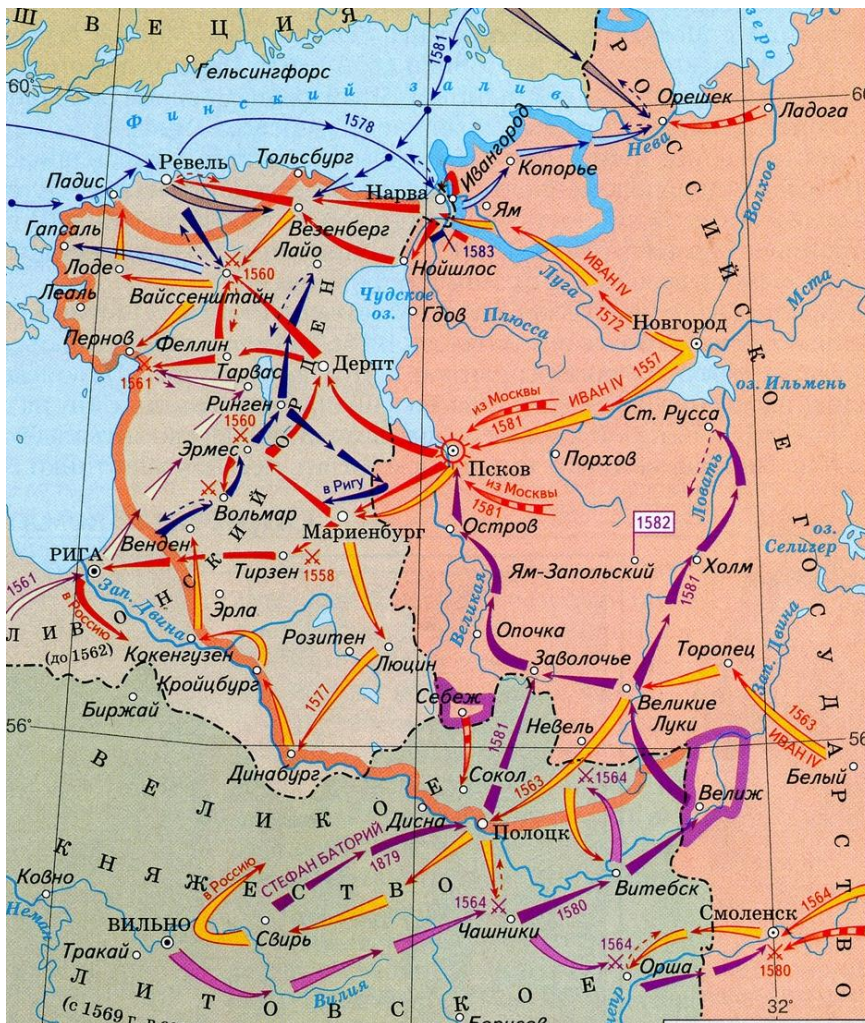
В феврале _____ г. (1) в Москве собрался Земский собор для избрания нового царя. Это был самый представительный Земский собор за всю историю. Только в соборе _____ г. (1) принимали участие черносочные _____ (2). На трон мог вступить либо кто-то из видных бояр, либо иностранный принц. Многие предпочитали видеть на российском троне «прирожденного» монарха. Ведь уже два боярских царя (Б.Ф. Годунов и _____ (3) оказались неудачными. Бояре предлагали царство даже шведскому принцу _____ (4), если он согласится перейти в _____ (5). Но большинство после неудачного опыта с Владиславом было против избрания иноземца. По некоторым сведениям, принял участие в предвыборной борьбе и прославленный вождь Второго ополчения князь _____ (6).

1	1613
2	крестьяне
3	В.И. Шуйский
4	Карлу – Филиппу
5	православие
6	Пожарский

За каждое правильно определенное понятие – 2 балла.

Максимальное количество баллов – 12 баллов.

Задание №6. (9 баллов) Вашему вниманию представлен фрагмент карты. Внимательно изучите его и ответьте на поставленные вопросы.



6.1. Напишите принятое в историографии название войны, события которой отражены на карте. Укажите её год начала и год завершения.

Ответ: Ливонская война (за правильный ответ – 1 балла); 1558 – 1583 гг. (за правильный ответ – 1 балла);

6.2. Какое новое государство, ставшее самым опасным противником России в этой войне, было создано в 1569 г.? Назовите историческое событие, произошедшее в этом году и положившее начало его существованию.

Ответ: Речь Посполитая (за правильный ответ – 1 балла); Люблинская уния (допускается Люблинский сейм, за правильный ответ – 2 балла).

6.3. Перечислите обозначенные на карте русские города, отошедшие к Швеции по условиям перемирия. Укажите год заключения перемирия и принятое в историографии название этого события.

Ответ: города – Ям, Ивангород, Копорье (1 балл за указание трёх городов), год заключения – 1583 (за правильный ответ – 1 балл), Плюсское перемирие (за правильный ответ – 2 балла).

Максимальное количество баллов – 9 баллов.

Задание №7. (16 баллов) Вашему вниманию представлены репродукции картин, посвящённых важным событиям отечественной истории. Определите, какие это события, результат запишите в таблицу. Также укажите дату (год) каждого события.

1



2



3



4







№	Событие	Дата (год)
1	Освобождение Кремля от польско-литовских войск (капитуляция польско-литовских войск).	1612 г.
2	Соляной бунт в Москве.	1648 г.
3	Переяславская рада (вариант – присоединение Украины к Российскому государству).	1654 г.
4	Стрелецкий бунт.	1682 г.

За каждое правильно установленное соответствие – 2 балла. За каждую верную дату – 2 балла. Всего – 16 баллов.

Максимальное количество баллов – 16 баллов.

Задание №8. (6 баллов) Установите хронологическую последовательность появления (создания) памятников русской архитектуры. Результат занесите в таблицу.

А		
Б		
В		

Г		
Д		
Е		

Б	Г	Д	Е	А	В
---	---	---	---	---	---

За полностью правильно составленную последовательность – **6 баллов**. Если правильно расположены 4 из 6 произведений – **3 балла**.
Максимальное количество баллов – 6 баллов.

Задание №9. (4 балла) Предложите максимально точное и то же время краткое определение исторических терминов (XI-XV вв.)

урочные лета	срок, в течение которого владельцы могли подать иск о возвращении
--------------	---

	им беглых крестьян
парсуна	произведение портретной живописи, созданное с использованием техники (приёмов) иконописи
ясак	подать, которой облагались народы Сибири и Дальнего Востока
государево тягло	система государственных повинностей крестьян и посадских людей в Русском (Московском) государстве XV – XVII вв.

По одному баллу за каждое верное определение. Всего – **4 балла**.

Максимальное количество баллов – 4 баллов.

Задание №10 (10 баллов). Соотнесите события отечественной и зарубежной истории, сопоставив факты, указанные в таблице (совпадение в пределах до 10 лет)

	Отечественная история		Зарубежная история
1	Деулинское перемирие	А	Гибель испанской «Непобедимой армады»
2	Введение опричнины	Б	Начало Тридцатилетней войны
3	Принятие Соборного уложения	В	Начало Английской революции
4	Начало царствования Алексея Михайловича	Г	Вестфальский мир
5	Введение патриаршества в России	Д	Начало революции в Нидерландах

1	2	3	4	5
Б	Д	Г	В	А

За каждое верное соответствие – **2 балла**.

Максимальное количество баллов – 10.