

ВСЕРОССИЙСКАЯ ОЛИМПИАДА ШКОЛЬНИКОВ 2019/20 гг.
МУНИЦИПАЛЬНЫЙ ЭТАП
ИСТОРИЯ
7 КЛАСС

Шифр _____

*В задании 1-3 дайте один правильный ответ. За каждый правильный ответ – 1 балл. За ответ на каждый дополнительный вопрос — 1 балл.
Максимум 6 баллов*

Задание № 1.¹

Этот город был построен в 1593 г. на месте хантыйского селения Сумгут, в последствии стал местом ссылки известных людей.

Назовите этот город.

- А) Сургут
- Б) Когалым
- В) Березов
- Г) Ханты-Мансийск

Напишите фамилии известных ссыльных (при правильном определении хотя бы одной личности — 1 балл)

Ответ: _____

Задание № 2

Тюменскую землю называют «воротами Сибири». Природные богатства издревле привлекали сюда людей, которые по быстрым рекам, по узким горным тропам, сквозь тайгу и болота пробивались в Сибирь.

Жители какого города Древней Руси первыми проникли в Сибирь?

- А) киевляне
- Б) новгородцы
- В) черниговцы
- Г) ростовчане

Когда это произошло?

Ответ: _____

¹ Задание с региональным компонентом

ВСЕРОССИЙСКАЯ ОЛИМПИАДА ШКОЛЬНИКОВ 2019/20 гг.
МУНИЦИПАЛЬНЫЙ ЭТАП
ИСТОРИЯ
7 КЛАСС

Задание № 3.

Укажите, какой из перечисленных ниже рядов дат связан с этапами завоевания Руси монгольскими войсками.

- А) 945 г., 1068 г., 1113 г.
- Б) 1223 г., 1237 г., 1240 г.
- В) 1240 г., 1242 г., 1410 г.
- Г) 1471 г., 1478 г., 1521 г.

Назовите события связанные с этими датами (балл за определение всех трех событий).

Ответ: _____

В заданиях 4-6 выберите несколько правильных ответов из предложенных. Ответ внесите в таблицу. По 2 балла за полностью верный ответ. 1 балл за ответ с одной ошибкой (не указан один из верных ответов, или наряду со всеми указанными верными ответами приводится один неверный). Максимум 6 баллов

Задание № 4.

Какие из представленных городов были отвоеваны у Литвы в начале XVI в.:

- 1) Вязьма
- 2) Чернигов
- 3) Серпухов
- 4) Витебск
- 5) Можайск
- 6) Смоленск
- 7) Полоцк
- 8) Киев

Задание № 5.

Выберите верные характеристики опричнины:

- 1) крупная государственная реформа
- 2) аппарат государственного террора
- 3) форма частного землевладения
- 4) пограничное войско Московского царства в XVI в.
- 5) территория, выделенная из состава государства
- 6) особая группа царских подданных, отделенная от остального государства
- 7) система новых налогов на содержание армии
- 8) система органов управления, действующая на особой территории отдельно от остального государства

ВСЕРОССИЙСКАЯ ОЛИМПИАДА ШКОЛЬНИКОВ 2019/20 гг.
МУНИЦИПАЛЬНЫЙ ЭТАП
ИСТОРИЯ
7 КЛАСС

Задание № 6

Отметьте результаты, достигнутые во внешней политике в XVII в. до 1689 г.:

- 1) присоединение Правобережной Украины
- 2) возвращение Смоленска
- 3) возвращение Новгорода и Пскова
- 4) отказ польского короля от претензий на русский престол
- 5) присоединение Левобережной Украины
- 6) получение выхода к Балтийскому морю
- 7) получение выхода к Азовскому морю
- 8) присоединение Киева

4	5	6

Задание № 7. Что с исторической точки зрения объединяет перечисленные в ряду элементы? (За каждый верный ответ - 1 балл, дополнительно по 1 баллу за определение дат, имен и других характеристик в каждом ряду. Максимальный балл – 12)

1. 1072 г., 1097 г., 1100 г., 1103 г.

Ответ:

2. 1463 г., 1474 г., 1478 г., 1485 г., 1510 г.

Ответ:

3. Алексей Басманов, Малюта Скуратов, Афанасий Вяземский.

Ответ:

Задание № 8.

Укажите, что является лишним в каждом ряду. Поясните свой ответ (за каждый правильный ответ 1 балл и за каждое пояснение – 1 балл, максимальный балл – 6)

8.1. Владимир, Олег, Ярополк, Святослав.

Ответ:

ВСЕРОССИЙСКАЯ ОЛИМПИАДА ШКОЛЬНИКОВ 2019/20 гг.
МУНИЦИПАЛЬНЫЙ ЭТАП
ИСТОРИЯ
7 КЛАСС

8.2. 1552 г., 1556 г., 1581 г., 1589 г.

Ответ:



8.3. 1549 г., 1552 г., 1566 г., 1649 г., 1653 г.

Ответ:

Задание № 9. *Определите правителей, годы их правления и расположите в хронологической последовательности. Ответ запишите в таблицу. За правильно определенную последовательность – 2 балла. Дополнительно 2 балла - за определение исторической личности, 2 балла — за правильное определение периода правления. Максимальный балл за всё задание – 18 баллов.*



ВСЕРОССИЙСКАЯ ОЛИМПИАДА ШКОЛЬНИКОВ 2019/20 гг.
МУНИЦИПАЛЬНЫЙ ЭТАП
ИСТОРИЯ
7 КЛАСС



В

Г

Ответ:

	Последовательность	Имя исторической личности	Даты правления
1			
2			
3			
4			

Задание № 10. Расположите в хронологическом порядке следующие события. Ответ занесите в таблицу. За каждую верно указанную последовательность – 1 балл. При наличии любого кол-ва ошибок в определении последовательности – 0 баллов. За правильно определенные даты (годы) по 1 баллу. Ответы внесите в таблицу. Максимально за задание – 15 баллов.

10.1. Расположите в хронологической последовательности следующие события:

- А) введение опричнины;
- Б) учреждение патриаршества в России;
- В) появление теории «Москва — третий Рим»;
- Г) созыв первого Земского собора.

Определите годы событий.

Ответ:

	1	2	3	4
Ответ				
Даты				

ВСЕРОССИЙСКАЯ ОЛИМПИАДА ШКОЛЬНИКОВ 2019/20 гг.
МУНИЦИПАЛЬНЫЙ ЭТАП
ИСТОРИЯ
7 КЛАСС

10.2. Расположите следующие литературные произведения в хронологическом порядке их создания.

- А) «Сказание о Мамаевом побоище»
- Б) «Домострой»
- В) «Повесть временных лет»
- Г) «Житие протопопа Аввакума»

Определите время создания представленных произведений литературы (век).

Ответ:

	<i>1</i>	<i>2</i>	<i>3</i>	<i>4</i>
Ответ				
Время создания				

10.3. Расположите в хронологическом порядке события XVII в., вошедшего в историю как «Бунташный век».

- А) Медный Бунт
- Б) Соляной Бунт
- В) Восстание Хлопка;
- Г) Хлебный бунт

Определите годы событий.

Ответ:

	<i>1</i>	<i>2</i>	<i>3</i>	<i>4</i>
Ответ				
Годы				

Задание № 11. Перед вами отрывки из исторических источников. Внимательно прочитайте и ответьте на вопросы. За правильный ответ на каждый вопрос 2 балла. Максимально за задание 10 баллов.

11.1 Когда ... был в Новгороде, пришла к нему весть, что печенеги осадили Киев. ... собрал воинов многих, варягов и словен, пришел к Киеву и вошел в город свой. А было печенегов без числа. ... выступил из города, и исполчил дружину, и поставил варягов посредине, а на правой стороне – киевлян, а на левом крыле – новгородцев; и стал пред градом. Печенеги пошли на приступи схватились на месте, где стоит ныне святая София, митрополия русская: было здесь тогда поле вне града. И была сеча жестокая, и побежали печенеги врассыпную, и не знали, куда бежать, одни, убегая, тонули в Сетомли, иные же в других реках, а остаток их бегают где-то и до сего дня.

- 1. Назовите имя какого исторического деятеля пропущено в тексте?**
- 2. В каком году произошло приведенное событие?**
- 3. Как называется документ, из которого взят отрывок?**

Ответ:

ВСЕРОССИЙСКАЯ ОЛИМПИАДА ШКОЛЬНИКОВ 2019/20 гг.
МУНИЦИПАЛЬНЫЙ ЭТАП
ИСТОРИЯ
7 КЛАСС

11.2. На престоле московских государей он был небывалым явлением... Он совершенно изменил чопорный порядок жизни старых московских государей и их тяжёлое, угнетательное отношение к людям... со всеми обращался просто, обходительно, не по-царски... Своим образом действий он приобрёл широкую и сильную привязанность в народе...

О ком идет речь в тексте?

Ответ: _____

11.3. Осужденный и сосланный в Ферапонтов монастырь, он получал от царя гостинцы, и, когда раз царь прислал ему много хорошей рыбы, Он обиделся и ответил упреком, зачем не прислали овощей, винограду в патоке, яблочек. В добром настроении он был находчив, остроумен, но, обиженный и раздраженный, терял всякий такт и причуды озлобленного воображения принимал за действительность... Он принадлежал к числу людей, которые спокойно переносят страшные боли, но охают и приходят в отчаяние от булавочного укола. У него была слабость, которой страдают нередко сильные, но маловыдержанные люди. Он скучал покоем, не умел терпеливо выжидать; ему постоянно нужна была тревога, увлечение смелую ли мыслью или широким предприятием, даже просто хотя бы ссорой с противным человеком. Это – словно парус, который только в буре бывает самим собой, а в затишье треплется на мачте бесполезной тряпкой.

О ком идет речь в тексте?

Ответ: _____

Задание № 12.

Соотнесите элементы правого и левого столбцов таблицы. В перечне справа есть лишний элемент. За каждый правильный ответ 1 балл, максимальный балл – 4.

1. Владимир Мономах	А) «Слово о Законе и Благодати»
2. Иаков	Б) «Почтение детям»
3. Илларион	В) «Задонщина»
4. Нестор	Г) «Памяти и похвале Владимира»
	Д) «Чтение о житии Бориса и Глеба»

1	2	3	4

Задание № 13. *Заполните пробелы в тексте. Ответ оформите в виде перечня элементов под соответствующими номерами. 1 балл за каждый правильно заполненный пропуск, максимальный балл – 6.*

«Владимир оставил за собой киевский престол, а своих старших сыновей посадил в крупнейшие русские города. Подчиненность их великому князю-отцу выражалась в регулярной выплате ____ 1 _____. При определении порядка наследования власти постепенно закрепилось преимущественное право ____ 2 _____. Если умирал самый старший из братьев, сидевший обычно на ____ 3 _____ «столе», его место занимал следующий по возрасту брат, а все остальные братья передвигались на одну ступеньку вверх, переходя на все более престижные княжества. Такая система организации передачи власти обычно называется ____ 4 _____ системой восхождения князей на престолы. Но она действовала только при жизни главы княжеского рода, каковым считался киевский князь. После его смерти нередко

ВСЕРОССИЙСКАЯ ОЛИМПИАДА ШКОЛЬНИКОВ 2019/20 гг.
МУНИЦИПАЛЬНЫЙ ЭТАП
ИСТОРИЯ
7 КЛАСС

начинались междоусобицы. Политический компромисс был достигнут в _____5_____ году в городе Любече, где внуки князя Ярослава Мудрого установили новый принцип взаимоотношений. «Каждо да держить отчину свою».

Утверждался новый принцип наследования престола в княжествах – _____6_____».

Ответ:

1		4	
2		5	
3		6	

Задание № 14. *Перед вами изображения деятелей XVI в. Соотнесите между собой портреты и имена деятелей. Что объединяет этих людей? Заполните таблицу. 2 балла за правильный ответ на вопрос и по 2 балла за каждое верно названное имя. Максимальный балл – 10.*

Портреты:




А)



Б)

ВСЕРОССИЙСКАЯ ОЛИМПИАДА ШКОЛЬНИКОВ 2019/20 гг.
МУНИЦИПАЛЬНЫЙ ЭТАП
ИСТОРИЯ
7 КЛАСС



В)



Г)

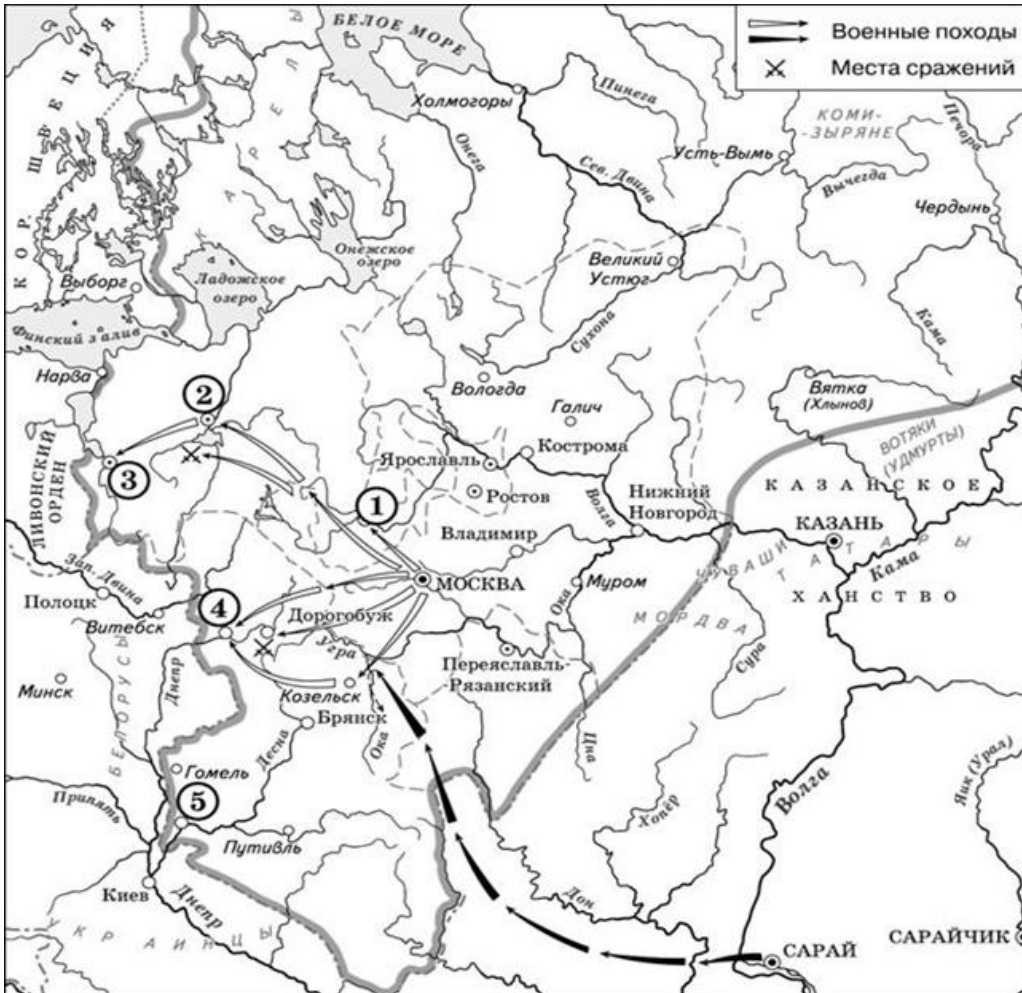
Ответ на вопрос:

(2 балла)

<i>Портрет</i>	<i>Имя</i>
А	
Б	
В	
Г	

ВСЕРОССИЙСКАЯ ОЛИМПИАДА ШКОЛЬНИКОВ 2019/20 гг.
МУНИЦИПАЛЬНЫЙ ЭТАП
ИСТОРИЯ
7 КЛАСС

Задание № 15. Выполните задания по карте России. За правильно данный ответ от 1 до 2 баллов, максимальный балл – 7.



15.1. Назовите князя, в годы правления которого в состав единого Русского государства вошли города, обозначенные на схеме цифрами «1» и «2» (1 балл).

Ответ: _____

15.2. Укажите век, когда в состав единого Русского государства вошли города, обозначенные на схеме цифрами «3», «4» и «5» (2 балл).

Ответ: _____

15.3. Назовите князя, при котором Русское государство достигло границ, обозначенных на схеме жирной чертой (1 балл).

Ответ: _____

15.4. В городах, обозначенных цифрами «2» и «3», до вхождения в состав единого Русского государства существовала республиканская форма правления. (Ответ да/нет) (1 балл). Назовите эти города (2 балла)

Ответ: _____