

**Всероссийская олимпиада школьников по истории  
муниципальный этап  
8 класс**

**Время выполнения работы – 90 минут (максимум – 90 баллов)**

**Задание 1.** Выберите по 1 верному ответу в каждом задании, впишите их в таблицу (5 баллов)

**1.1.** Какого съезда русских князей не было?

- а) Долобского                      в) Орловского  
б) Любечского                      г) Киевского

**1.2.** Какой из перечисленных архитектурных памятников относится к XVII веку:

- а) дворец в Коломенском                      в) колокольня Ивана Великого  
б) Новодевичий монастырь                      г) Архангельский собор Московского кремля

**1.3.** В организации и снаряжении похода Ермака принимал участие богатый род:

- а) Морозовых                      б) Голицыных  
в) Бельских                      г) Строгановых

**1.4.** Общегосударственное ведомство на рубеже XV – XVI вв., выполнявшее функции государевой канцелярии, архива, библиотеки, хранилища ценностей и пр.:

- а) Дворец                      б) Казна  
в) Челобитный приказ                      г) Грановитая палата

**1.5.** Какие мануфактуры отсутствовали в экономике России XVII века

- а) судостроительные                      в) металлургические  
б) шпалерные                      г) солеварные

1.1	1.2	1.3	1.4	1.5

**Задание 2.** Выберите несколько верных ответов в каждом задании и занесите выбранные ответы в таблицу. (9 баллов)

**2.1.** Какие события относятся ко времени правления царя Михаила Федоровича (три правильных ответа):

- 1) принятие царской Крестоцеловальной записи
- 2) созыв последнего Земского собора
- 3) организация полков «нового строя»
- 4) заключение Столбовского мира со Швецией
- 5) принятие Соборного уложения
- 6) основание Немецкой слободы в Москве

**2.2.** Какие исторические лица, из перечисленных ниже, не принимали участие в походе русских войск против хана Мамаю в 1380 г. (три правильных ответа)

- 1) князь Владимир Андреевич Серпуховский
- 2) князь Олег Иванович Рязанский
- 3) литовские князья Андрей и Дмитрий Ольгердовичи
- 4) литовский князь Ягайло Ольгердович
- 5) князь Дмитрий Михайлович Боброк-Волынец
- 6) князь Михаил Александрович Тверской

**2.3.** Укажите факты, относящиеся к биографии патриарха Филарета (три правильных ответа)

- 1) был отцом первого царя династии Романовых
- 2) носил титул Великий государь
- 3) стал первым патриархом в истории Русской православной церкви
- 4) активно боролся с раскольниками-староверами
- 5) жил в ссылке на Архангельском Севере
- 6) умер в плену у поляков, захвативших Москву

2.1	2.2	2.3

**Задание 3.** Укажите, что является лишним в каждом ряду. Ответ с пояснением впишите в строку. (10 баллов)

**3.1.** Саадак, аргамак, шишак, бехтерец, клевец

---

**3.2.** Дреговичи, северяне, уличи, тиверцы, латгалы

---

**3.3.** Стригольники, исихасты, жидовствующие, хлысты, иосифляне

---

**3.4.** Олег, Игорь, Святослав, Владимир, Ярослав

---

**3.5.** «Повесть о Шемякином суде», «Повесть о Ерше Ершовиче», «Хождение за три моря», «Слово о бражнике», «Повесть о Фроле Скобееве»

---

**Задание 4.** Определите хронологический порядок событий. Занесите буквенные обозначения событий в хронологическом порядке в приведенную таблицу (15 баллов).

**4.1.** а) основание тушинского лагеря; б) битва у села Добрыничи; в) сражение с войсками гетмана Ходкевича под Москвой; г) убийство Лжедмитрия II; д) воцарение В. Шуйского;

**4.2.** а) основание Нижнего Новгорода; б) основание Архангельска; в) основание Владимира; г) основание Москвы; д) основание Свяжска;

**4.3.** а) первое издание Синописа; б) открытие Славяно-греко-латинской академии; в) открытие школы Симеона Полоцкого в Москве; г) составление Л. Магницким «Арифметики»; д) выход в свет «Грамматики» М. Смотрицкого.

4.1					
4.2					
4.3					

**Задание 5.** Установите соответствия. Запишите в таблицу выбранные цифры под соответствующими буквами. **(15 баллов)**

**5.1.** Соотнесите цитату и её автора, а также впишите в таблице в строках под именем исторического деятеля событие, с которым связано высказывание:

А) патриарх Гермоген <hr/> <hr/> Б) Биргер Магнуссон, ярл Швеции <hr/> <hr/> В) царь Борис Годунов <hr/> <hr/> Г) князь А.М. Курбский <hr/> <hr/> Д) князь Святослав Игоревич <hr/> <hr/>	1) «Если можешь – сражайся, но знай: я здесь и пленю землю твою!» 2) «Да будут благословенны те, которые идут для очищения Московского государства, а вы, изменники, будьте прокляты!». 3) «Не посрадим земли русской, но ляжем здесь костями, ибо мертвые срама не имут.» 4) «Да будет тебе ведомо, царь, уже не увидишь ты в этом мире лица моего. Но не думай, что я буду молчать! Избиенные тобой отмщения просят.., изгнанные вопиют на тебя!» 5) «Никто не будет в моем царствии нищ или беден. И сию последнюю [рубашку – сост.] разделю со всеми!»
--	--

**5.2.** Соотнесите события и даты:

- |  |            |
|--|------------|
| А) установление автокефалии Русской церкви | 1) 1666 г. |
| Б) суд над патриархом Никоном              | 2) 1520 г. |
| В) Стоглавый собор                         | 3) 1439 г. |
| Г) Флорентийская уния                      | 4) 1448 г. |
| Д) основание Антониево-Сийского монастыря  | 5) 1551 г. |

	А	Б	В	Г	Д
5.1.					
5.2.					

**Задание 6.** Перед вами набор изображений. Определите среди них три группы по три иллюстрации, относящиеся к трем важным событиям в истории России. В левый столбец таблицы занесите ряд из трех букв и соответствующее событие, в правом укажите его дату этого события. **(6 баллов)**

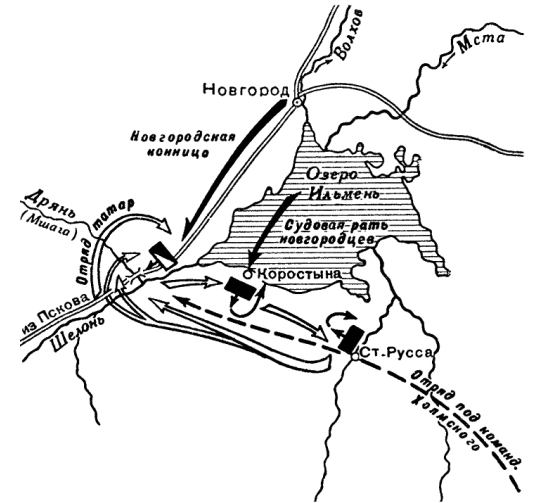

А.



Б.



В.




Г.



Д.




Е.



Ж.



З.



И.



**Задание 7. Прочитайте отрывок из исторического источника и ответьте на вопросы (15 баллов).**

И когда вернулся князь в Киев, повелел кумиры опрокинуть - одних изрубить, а других - предать огню. Перуна же повелел привязать к хвосту коня и волочить его с горы по Боричеву взвозу к Ручью, и приставил двенадцать мужей колотить его жезлами. Делалось это не потому, что дерево чувствует, но для поругания беса . Вчера был чтим людьми, а сегодня поругаем. Когда влекли Перуна по Ручью к Днепру, оплакивали его неверные люди. И, притащив, сбросили его в Днепр. И сказал князь сопровождающим: "Если он где пристанет, вы отпихивайте его от берега, до тех пор, пока не пройдет пороги, тогда лишь оставьте его". Они так и сделали, как он велел. Затем послал князь по всему городу сказать: "Если не обратится кто завтра на реке - будь то богатый, или бедный, или нищий, или раб, - противен будет мне".

- 7.1. Укажите, о каком событии идёт речь и когда оно произошло.
- 7.2. Укажите князя, о котором говорится в тексте.
- 7.3. Укажите две предпосылки события, описанного в тексте.
- 7.4. Назовите правителя/правительницу Руси, кто раньше остальных принял обряд, о котором идёт речь в тексте, укажите место, где это произошло.
- 7.5. Приведите не менее двух положительных и двух отрицательных последствий события, описанного в тексте.

**Задание 8. Внимательно рассмотрите историческую карту. Дайте ответы на вопросы и выполните задания. (15 баллов)**



- 8.1. Какая война изображена на карте и когда она происходила?
- 8.2. Кто находился в числе противников России?
- 8.3. Какие исторические задачи решала Россия в ходе этой войны (не менее 2-х)?
- 8.4. Вспомните, каков был исход войны, и назовите его причины (не менее 3-х причин)?
- 8.5. Назовите известных вам полководцев противоборствующих сторон (не менее 2-х).