

ВСЕРОССИЙСКАЯ ОЛИМПИАДА ШКОЛЬНИКОВ ПО ИСТОРИИ
2019-2020 учебный год
МУНИЦИПАЛЬНЫЙ ЭТАП
8 КЛАСС

Максимальный балл – 100

<i>№ задания</i>	<i>1</i>	<i>2</i>	<i>3</i>	<i>4</i>	<i>5</i>	<i>6</i>	<i>7</i>	<i>8</i>	<i>9</i>	<i>10</i>	<i>11</i>	<i>12</i>	<i>ИТОГО</i>
<i>Баллы</i>													

Задание 1. Прочитайте пословицы и поговорки и дайте комментарии. (1 балл за каждый верный ответ; максимальный балл – 6)

А) Реакцией на какие события явилась эта пословица (поговорка)?

Б) Когда произошли эти события?

1.1. Умерла та курица, что несла Орде золотые яйца.

Ответ:

А) _____

Б) _____

1.2. Бывали были: и бояре волком выли.

Ответ:

А) _____

Б) _____

1.3. Пропал, как швед под Полтавой.

Ответ:

А) _____

Б) _____

Задание 2. Решите тестовые задания. Определите верные ответы. (2 балла при отсутствии неверных позиций в ответе; 0 баллов при наличии ошибок в ответе; максимальный балл -- 6)

2.1. Какие события связаны с политической раздробленностью Руси:

1) Устав Владимира Всеволодовича

2) взятие Киева войсками Андрея Боголюбского

3) поход новгород-северского князя Игоря на половцев

4) разгром Хазарского каганата

5) заключение военного союза с печенегами

Ответ: _____

2.2. Какие из перечисленных событий произошли в годы правления Михаила Федоровича Романова:

1) заключение Кардисского мира

2) «Азовское сидение»

3) заключение Деулинского перемирия

4) Медный бунт

5) заключение Столбовского мира

Ответ: _____

2.3. Какие из перечисленных событий относятся к периоду правления Алексея Михайловича:

- 1) заключение Вечного мира с Польшей
- 2) восстание под предводительством Степана Разина
- 3) Медный бунт
- 4) введение подворной подати
- 5) присоединение Левобережной Украины к России

Ответ: _____

Задание 3. По какому принципу образованы ряды? Дайте краткий ответ. (3 балла за каждый верный ответ; максимальный балл – 9)

3.1. строительство новых стен Кремля, подавление Тверского восстания, перенос резиденции митрополита в Москву, заключение купчих на уделы

Ответ: _____

3.2. ратуши, магистраты, городские Думы

Ответ: _____

3.3. 1547г., 1648г., 1662г., 1682г.

Ответ: _____

Задание 4. Исключите лишнее и дайте краткое объяснение. (1 балл за указание лишнего элемента, 2 балла за наличие объяснения; максимальный балл – 9)

4.1. Рюрик, Аскольд, Трувор, Синеус

Ответ: _____

4.2. сторожевой, большой, малый, правой руки, левой руки

Ответ: _____

4.3. Максим Грек, Аристотель Фиорованти, Фёдор Конь, Постник Яковлев

Ответ: _____

Задание 5. Расставьте наименования кочевых народов в порядке их упоминания в русских летописях, от самого раннего до самого позднего. (4 балла при отсутствии неверных позиций в ответе; 0 баллов при наличии ошибок в ответе)

- 1) хазары
- 2) татары
- 3) половцы
- 4) печенеги

Ответ: _____

Задание 6. Выполните задания на соотнесение элементов. Буквы ответов внесите в таблицу.

(4 балла при отсутствии неверных позиций в ответе; 3 балла при наличии одной ошибки в ответе; 0 баллов при наличии двух и более ошибок в ответе; максимальный балл – 12)

6.1. Соотнесите территории, присоединенные к Московскому государству с временем их присоединения.

- | | |
|-------------------------|------------|
| 1. Псков | А) 1521 г. |
| 2. Тверское княжество | Б) 1485 г. |
| 3. Астраханское ханство | В) 1510 г. |
| 4. Рязанское княжество | Г) 1556 г. |
| 5. Новгород | Д) 1478 г. |

1	2	3	4	5

6.2. Соотнесите термин и его значение.

- | | |
|--------------|---|
| 1. десятина | А) мера измерения сыпучих тел (например, зерна) |
| 2. десятник | Б) младший командир |
| 3. численник | В) доля доходов, отдаваемая церкви |
| 4. трехполье | Г) ордынский чиновник, производивший перепись населения |
| 5. осьмина | Д) система обработки земли |

1	2	3	4	5

6.3. Соотнесите народ и известного предводителя этого народа.

- | | |
|--------------------|-----------------|
| 1. печенеги | А) Батый |
| 2. половцы | Б) Девлет-Гирей |
| 3. монголы | В) Куря |
| 4. литовцы | Г) Ольгерд |
| 5. крымские татары | Д) Шарукан |

1	2	3	4	5

Задание 7. Изучите четыре отрывка из летописи о событиях времени правления Ивана Грозного. Выполните задания после текстов. (1 балл за каждый верный ответ; максимальный балл – 5)

- А) Татарове же во граде своего Магомета... призывают к себе на помощь и говорят «все погрём за город»... И видит государь знамёна христианские уже на стенах градных и приехал самодержец в полк свой... Татарове же увидели свою окончательную погибель... и побежали все к Елабугиным воротам.
- Б) Царь и великий князь Иван Васильевич повелел разместить в Московском уезде... от Москвы вёрст за 60 и 70, помещиков детей боярских лучших слуг 1000 человек.
- В) А января в 3-й день прислал царь из Слободы к Афанасию митрополиту всея Руси список, а в нём писаны измены боярские и воеводские и всяких приказных людей... И все граждане града Москвы били челом... царю и великому князю, чтобы над ними милость показал.
- Г) Загорелся храм Воздвижения честного креста за Неглинною на Арбатской улице на Острове. И была буря велика, и потек огонь как молния... В един час много множества народу сгорело... Начали говорить, будто княгиня Анна Глинская со своими детьми и с людьми колдовала.

Какое событие описано в отрывке А?

Ответ: _____

Какое событие описано в отрывке Б?

Ответ: _____

Какое событие описано в отрывке В?

Ответ: _____

Какое событие описано в отрывке Г?

Ответ: _____

Какое из указанных событий случилось позже всего (напишите букву варианта)?

Ответ: _____

Задание 8. Заполните пропуски в тексте. Слова и даты под соответствующими номерами впишите в таблицу. (1 балл за каждый верный ответ; максимальный балл – 10)

XVII век был важным этапом для экономического развития России. После событий __ (1) __ времени западная часть страны была разорена. Многие помещики остались без средств к существованию, как следствие, правительство укрепляло __ (2) __, окончательно оно было оформлено Соборным уложением в __ (3) __ году. Развивалась отечественная промышленность. Появилось около шестидесяти __ (4) __, например, железоделательная в Туле, канатная в Вологде, ткацкие в Москве. Некоторые из них были казёнными, то есть принадлежали __ (5) __. Серьёзные проблемы наблюдались в финансовой сфере. Недостаток драгоценных металлов правительство пыталось исправить чеканкой монет из более дешёвого металла, что вызвало __ (6) __ бунт в Москве. Чтобы увеличить сбор налогов, в 1679 году при молодом царе __ (7) __ введено __ (8) __ обложение. Единственным морским портом, по-прежнему, оставался __ (9) __, что сдерживало торговлю с иностранцами. Однако внутри страны укрепились связи между регионами, росло количество ярмарок. Главным экономическим достижением XVII века необходимо считать формирование единого всероссийского __ (10) __.

№	ВСТАВКА	№	ВСТАВКА
1.		6.	
2.		7.	
3.		8.	
4.		9.	
5.		10.	

Задание 9. Журналист, пишущий на исторические темы, попытался рассказать о деятельности Ивана III. Так получилось, что Ивану III он приписал некоторые качества и поступки двух других глав русского государства — Ивана IV и Бориса Годунова. В статье 10 предложений. Они пронумерованы. Разделите их на три группы и впишите номера предложений в соответствующие колонки. (1 балл за каждое верное соответствие; максимальный балл – 10)

1. Он появился на свет, когда его отцу было уже за пятьдесят, поэтому был ребенком очень желанным, и его рождения ожидала вся страна.
2. Он унаследовал от отца, Василия Темного, ослепленного в молодости соперниками, большое Московское княжество, территория которого составляла 400 тысяч квадратных километров.
3. На семнадцатом году жизни он объявил митрополиту Макарию, что хочет жениться, и также он выступил с речью о том, что хочет принять титул царя.
4. Избрание его царем произошло на Земском соборе, так он стал первым избранным царем в истории российского государства.
5. Двор царский уподоблялся византийскому, поскольку он был зятем одного из Палеологов и хотел восстановить у нас Грецию с соблюдением всех обрядов ее церковных и придворных: окружил себя римскими орлами и принимал иноземных послов в Золотой палате, которая напоминала Юстинианову.
6. В период его правления разразился страшный голод из-за неблагоприятных погодных условий в течение двух лет подряд.
7. В Московском Кремле в период его правления знаменитые итальянские архитекторы построили великолепные церкви и Грановитую палату.
8. Во время одного из своих приступов он случайно убил своего сына, попав посохом с железным наконечником ему в висок.
9. Он пробыл на великокняжеском престоле 43 года. Своему наследнику он оставил огромную державу, ее площадь за время его правления выросла в пять раз и превышала 2 миллиона квадратных километров.
10. Периоду его правления посвящены известная поэма А.С. Пушкина и одноименная опера М.П. Мусоргского.













ИВАН III	ИВАН IV	БОРИС ГОДУНОВ

Задание 10. Липецкая область была образована 65 лет назад (6 января 1954 года) из окраинных районов нескольких соседних областей. Перечислите названия этих областей.

(5 баллов при полном ответе и отсутствии неверных позиций в ответе; 0 баллов при недостаточном ответе и наличии ошибок в ответе)

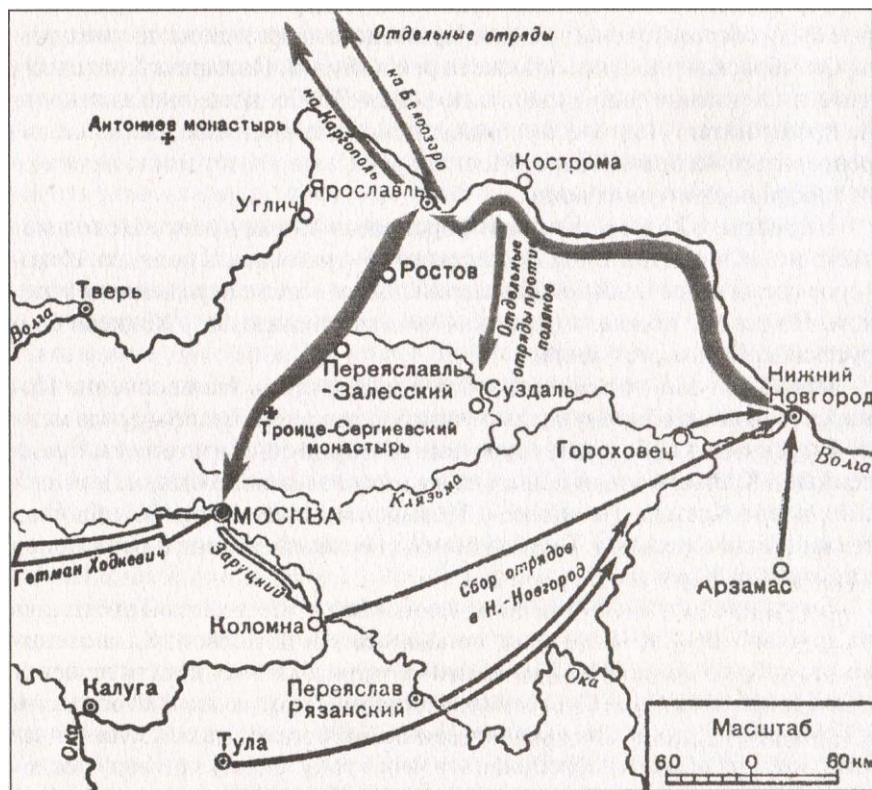
Ответ: _____

Задание 11. Соотнесите изображение правителя с памятником архитектуры, созданным в период его правления. (2 балла за каждую верно соотнесенную пару; максимальный балл – 12)

<p>1</p> 	<p>2</p> 	<p>3</p> 
<p>4</p> 	<p>5</p> 	<p>6</p> 
<p>7</p> 	<p>8</p> 	<p>9</p> 
<p>10</p> 	<p>11</p> 	<p>12</p> 

ПАМЯТНИК						
ПРАВИТЕЛЬ						

Задание 12. Изучите карту. Ответьте на вопросы. (3 балла за каждый верный ответ; максимальный балл – 12)



А) События какого года изображены на карте?

Ответ: _____

Б) Как называлось войско, действия которого обозначены тёмными жирными стрелками?

Ответ: _____

В) В каком городе это войско простояло 4 месяца, увеличившись в размерах в несколько раз и создав собственные органы государственного управления?

Ответ: _____

Г) Войско какой страны возглавлял гетман Ходкевич?

Ответ: _____