

**ЗАДАНИЯ МУНИЦИПАЛЬНОГО ЭТАПА ВСЕРОССИЙСКОЙ  
ОЛИМПИАДЫ ШКОЛЬНИКОВ ПО ИСТОРИИ  
2019-2020 УЧ. ГОД**

**8 КЛАСС**

**Время выполнения –**

**1. Выберите по одному верному ответу в каждом задании (1 балл за каждый правильный ответ, максимальный балл – 4)**

**I.** Назовите исторического деятеля, о котором говорится ниже: «Не менее хвалят летописцы нежную его привязанность к отцу (которого сей редкий сын никогда ни в чем не слушался), снисхождение к слабому человечеству, милосердие, щедрость, незлобие, ибо он, по их словам, творил добро врагам своим и любил отпускать их с дарами. Но всего яснее и лучше изображает его душу поучение им самим написанное для сыновей».

- а) Владимир Мономах
- б) Дмитрий Донской
- в) Александр Невский
- г) Василий Темный

**II.** Прочтите отрывок и укажите произведение, фрагментом которого он является: «Плывем мы мимо Астрахани, а месяц светит, и царь нас увидел, и татары нам кричали: «Качма – не бегите!» А мы этого ничего не слышали и бежим себе под парусом. За грехи наши послал царь за нами всех своих людей. Настигли они нас на Богуне и начали в нас стрелять. У нас застрелили человека, и мы у них двух татар застрелили. А меньшее наше судно у еза застряло, и они его тут же взяли да разграбили, а моя вся поклажа была на том судне. Дошли мы до моря на большом судне, да стало оно на мели в устье Волги, и тут они нас настигли и велели судно тянуть вверх по реке до еза».

- а) «Хождение игумена Даниила в Святые места»
- б) «Хождение за три моря»
- в) «Задонщина»
- г) «Сказание Епифания мниха о пути в Иерусалим»

**III.** Укажите какой из перечисленных храмов НЕ относится к шатровому стилю:

- а) собор Покрова на рву в Москве
- б) церковь Вознесения в с. Коломенское
- в) Успенский собор в Москве
- г) Троицкая церковь в Александровой слободе

**IV.** Территория России в XVII в. выросла за счет присоединения территорий:

- а) Лифляндии, Эстляндии, Карелии
- б) Казанского и Астраханского ханства
- в) Восточной Сибири и Дальнего Востока
- г) Крыма и Причерноморья

I	II	III	IV

**2. Выберите несколько верных ответов в каждом задании (по 1 баллу за каждый правильный ответ, максимальный балл – 9)**

**I.** Выберите из предложенного перечня события, относящиеся к правлению Владимира I Святославича:

- а) подавление мятежа Варды Фоки
- б) убиение князей Бориса и Глеба
- в) сражение под Василёвом
- г) возведение Софийского собора в Киеве
- д) крещение Руси
- е) битва под Доростолом

**II.** Какие из перечисленных деятелей были современниками Ивана III?

- а) Готфрид Бульонский
- б) Карл I Великий
- в) Аристотель Фиорованти
- г) Александр Ягеллончик
- д) Гедимин
- е) Сандро Боттичелли

**III.** Какие явления российской истории берут свое начало в XVII в.?


- а) ярмарочная торговля
- б) промышленный переворот
- в) магазинная торговля
- г) мануфактурное производство
- д) месячина
- е) мелкотоварное производство

I	II	III

**3. Кроссворд:** впишите названия русских городов и земель, вошедших в состав Московского великого княжества в указанные годы (по 1 баллу за каждый правильный ответ, максимальный балл – 8)

По горизонтали: 4. 1474 г. 6. 1514 г. 7. 1478 г. 8. 1489 г.

По вертикали: 1. 1301 г. 2. 1463 г. 3. 1485 г. 5. 1510 г.



**4. Что объединяет понятия, имена, даты, образующие каждый из представленных рядов? Дайте краткий ответ (2 балла за каждое задание, максимальный балл – 8)**

**I.** Паперть, притвор, неф, алтарь \_\_\_\_\_

**II.** 1497 г., 1550, г., 1581 г, 1597 г., 1607 г., 1649 г. \_\_\_\_\_

**III.** П. Сагайдачный, М., Д, и П. Дорошенки, Б. и Ю. Хмельницкие, И. Выговский

**IV.** Гаврило, Сбыслав, Яков, Миша, Савва, Ратмир \_\_\_\_\_

**5. Установите соответствия. Запишите в таблицу выбранные цифры под соответствующими буквами (1 балл за каждое правильное соответствие, максимальный балл – 15)**

**I.** Установите соответствие между историческим событием и датой

- |   |         |
|---|---------|
| А) возведение белокаменного Кремля в Москве       | 1) 1165 |
| Б) первое летописное упоминание об Андрее Рублеве | 2) 1495 |
| В) возведение церкви Покрова на Нерли             | 3) 1113 |
| Г) создание Нестором Повести временных лет        | 4) 1367 |
| Д) возведение Грановитой палаты                   | 5) 1234 |
|   | 6) 1405 |

**II.** Установите соответствие между историческими деятелями и происходившими при них событиями

- |   |                       |
|---|-----------------------|
| А) походы на Константинополь                    | 1) Андрей Боголюбский |
| Б) первое летописное упоминание о Москве        | 2) Иван IV Грозный    |
| В) Ям-Запольский мир                            | 3) Юрий Долгорукий    |
| Г) «Черная смерть»                              | 4) Иван III Великий   |
| Д) строительство Успенского собора во Владимире | 5) Игорь Рюрикович    |
|   | 6) Симеон Гордый      |

**III.** Установите соответствие между событиями отечественной истории и всемирной истории

- |   |  |
|---|--|
| А) Нерчинский договор                       | 1) Столетняя война                                   |
| Б) Куликовская битва                        | 2) Тридцатилетняя война                              |
| В) «Устав Владимира Мономаха»               | 3) основание ордена Тамплиеров                       |
| Г) Смоленская война                         | 4) «Славная революция»                               |
| Д) строительство Колокольной Ивана Великого | 5) экспедиция Х. Колумба                             |
|   | 6) работа Леонардо да Винчи над картиной «Мона Лиза» |

	<b>А</b>	<b>Б</b>	<b>В</b>	<b>Г</b>	<b>Д</b>
<b>I</b>					
<b>II</b>					
<b>III</b>					

**6. «Да» или «нет»? Если вы согласны с утверждением, напишите «Да», если не согласны – «Нет». (8 баллов).**

1. Н.М. Карамзин был антинорманистом.

2. Княгиня Ольга отомстила древлянам четырежды.
3. Князь Святослав Игоревич незадолго перед своей гибелью принял христианство.
4. Князь Владимир Всеволодович был внуком византийского императора Константина Мономаха.
5. Благодаря Ивану Калите на Руси появились первые помещики.
6. Василий III сначала поддерживал нестяжателей, но потом стал выступать на стороне иосифлян.
7. К концу правления Ивана IV Грозного Россия стала размером больше всей остальной Европы.
8. Единственный в мире памятник царю Федору Иоанновичу находится в городе Йошкар-Оле.

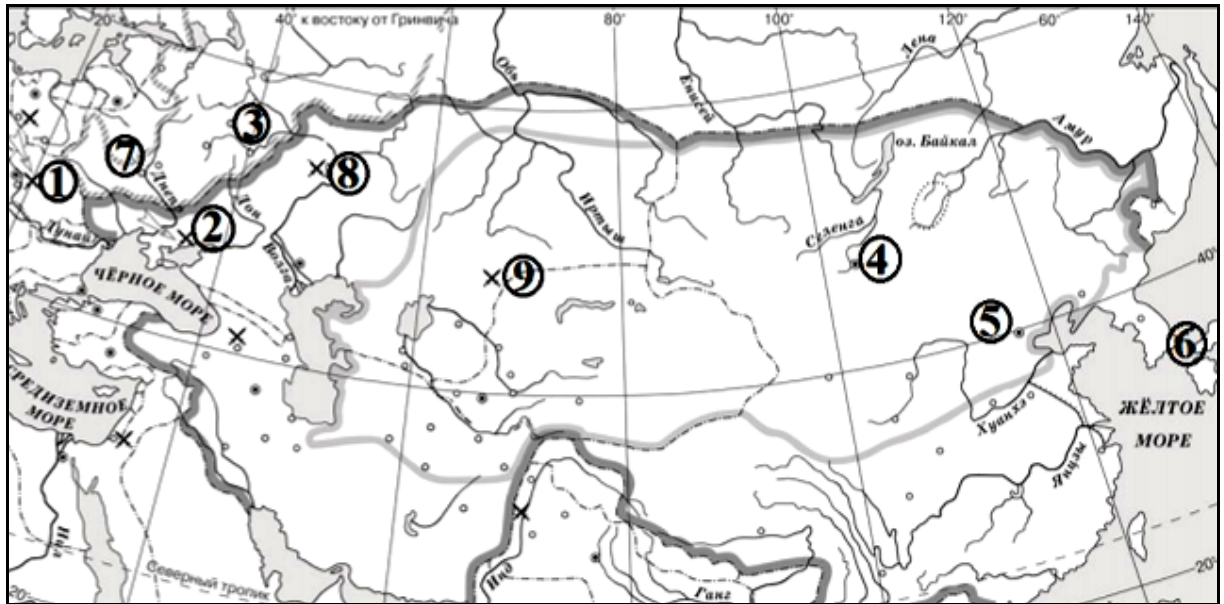
1	2	3	4	5	6	7	8

**7. Прочитайте текст. Заполните пробелы в тексте. Ответ оформите в виде перечня элементов под соответствующими номерами (1 балл за каждый правильно заполненный пропуск, максимальный балл – 8)**

Смертью царя Федора Иоанновича в 1598 году, не оставившего после себя детей, пресеклась династия \_\_\_\_ (1) \_\_\_\_ московских государей. \_\_\_\_ (2) \_\_\_\_ избрал на царство боярина \_\_\_\_ (3) \_\_\_\_, правившего государством при царе Федоре. Вскоре после этого избрания начались волнения, которые постепенно развились в страшное потрясение государства, окончившееся только со вступлением на московский престол первого царя новой династии, Михаила, в \_\_\_\_ (4) \_\_\_\_ году. Эти годы известны в нашей истории как \_\_\_\_ (5) \_\_\_\_ или эпоха самозванцев. Эти самозванцы большею частью выдавали себя за младшего сына \_\_\_\_ (6) \_\_\_\_ царевича \_\_\_\_ (7) \_\_\_\_, погибшего насильственной смертью в городе \_\_\_\_ (8) \_\_\_\_, обстоятельства которой остались неразъясненными.

№ п/п	Вставка
1	
2	
3	
4	
5	
6	
7	
8	

**8. Установите соответствие между буквенными обозначениями приведенных ниже фрагментов источников и цифровыми обозначениями на карте мест, где произошли описываемые во фрагментах события. Укажите под соответствующими цифрами год описанных событий. Обратите внимание, что цифровых обозначений на карте больше, чем фрагментов. (2 балла за каждый из перечисленных элементов ответа, максимальный балл – 16).**



А. «Пришёл Неврюй и Котья и Олабуха храбры на землю Суздальскую со многими воинами на великого князя Андрея Ярославича и перешли бродом Клязьму в канун Бориса дня под Владимиром. Князь же Андрей Ярославич встретил их со своими полками и была сеча велика, и победили погании. А князь Андрей Ярославич и со княгинею бежа в Свиязскую (Шведскую) землю».

Б. «Даниил же выехал вперед и врезался в полки татарские. Был он ранен в грудь. Но из-за молодости и храбрости не чувствовал раны в теле своем. Было ему 17 лет, и был он силен. Татары бежали, а Даниил избивал их со своим полком. И Олег Курский крепко бился. Тогда выступили Ярун и другие полки половецкие, желая биться. Но вскоре побежали половцы перед татарами и вовремя бегства потоптали станы князей русских, а князья не успели ополчиться против них. И пришли в смятение все полки русские. И была сеча лютая и злая из-за наших грехов».





В. «Затем, в год Овцы, Чингис-хан выступил в поход против народа Китад. После занятия Фу-чкоу и переправы через Хунегенский перевал он занял Сюнь-дэ-фу и выслал далее передовой отряд под командою Чжебе (Джэбэ) и Гунгунека. Достигнув Чабчияла (Цзюй-юн-гуань), который оказался сильно укрепленным, Чжебе (Джэбэ) отступил с намерением вызвать этим способом выступление неприятеля и дать ему бой. Заметив его отступление, Китадское войско на самом деле двинулось его преследовать, выступив из крепости и запрудив до самой горы всю долину реки. Между тем Чжебе (Джэбэ), дойдя до Сюнь-дэ-фуского мыса, повернул обратно и стремительной лавиной обрушился на рассыпавшегося в беспорядке неприятеля. В это время на Китадцев вслед за Чжебе (Джэбэ) ударил с главными силами Чингис-хан и погнал их. Он разбил самые лучшие части неприятельского войска, состоявшие из Хара-Китадцев, Чжурчедов и Чжуинцев. Тут до самого Чабчияла пошло такое истребление, что кости трещали словно сухие сучья. Когда Чжебе (Джэбэ) взял крепость Чабчиял и перешел перевал, Чингис хан расположился лагерем в Ширадеке (совр. Нанькоу). Он осадил Чжунду (совр. Пекан или Бей-пин), а для осады других городов послал особые отряды».

Г. «В год 6748. Пришел Батый к Киеву с большой силой, с многим множеством воинов своих, и окружили они город, и обступила сила татарская, и был город в великой осаде. Был Батый у города, а воины его окружали город. И нельзя было

голоса слышать от скрипения телег его, от рева множества верблюдов его, ржания стад коней его, и была вся земля Русская наполнена воинами».

	А	Б	В	Г
Цифра				
Год				

9. Перед Вами – 12 изображений, которые связаны с четырьмя различными историческими событиями (процессами, явлениями). Сгруппируйте изображения так, чтобы к каждому определённом Вами событию относилось по три изображения. Результаты внесите в таблицы, указав историческое событие (процесс, явление), порядковый номер изображения, а также дайте пояснение каждому изображению. (По 2 балла за каждый корректно сформулированный критерий; по 1 баллу за каждую верно сформированную группу; по 1 баллу за каждое правильное объяснение; максимальный балл – 24).

	
<p style="text-align: center;">1</p>	<p style="text-align: center;">2</p>
	
<p style="text-align: center;">3</p>	<p style="text-align: center;">4</p>



5



6



7



8



9





**Свияжскъ.**

**Казанской губерніи. Уѣздный.**

Въ голубомъ полѣ, городъ деревянный на судахъ на  
рѣкѣ Волгѣ, и въ той рѣкѣ рыбы.  
(Старый гербъ).

10

	
11	12

<b>1 группа. Критерий –</b>	
<b>№ изображения</b>	<b>Подпись к изображению</b>

<b>2 группа. Критерий –</b>	
<b>№ изображения</b>	<b>Подпись к изображению</b>

<b>3 группа. Критерий –</b>	
<b>№ изображения</b>	<b>Подпись к изображению</b>

<b>4 группа. Критерий –</b>	
<b>№ изображения</b>	<b>Подпись к изображению</b>

--	--	--

**Максимальная сумма баллов – 100**