

Олимпиада 8 класс. Муниципальный этап. Задание 1. Выберите по 1 верному ответу в каждом задании и занесите выбранные ответы в таблицу (2 балла за каждый правильный ответ, максимальный балл – 8):

1.1 Скань в Древней Руси-это:

- а) техника изготовления ювелирных украшений
- б) часть погребального обряда у восточных славян периода язычества
- в) форма живописной росписи стен
- г) изображение, выполненное водяными красками по сырой штукатурке

1.2 Во время правления Семена Ивановича Гордого произошло?

- а) присоединение Боровска и Верея
- б) строительство пяти белокаменных храмов в Москве
- в) присоединение Юрьева-Польского
- г) перенос центра русского православия из Владимира в Москву

1.3 Прочтите отрывок из сочинения историка и укажите, о каком политическом деятеле идет речь?

«Новый царь изумлял москвичей своими делами и привычками. Говорил боярам о пользе образования и путешествий в иные земли, в Европу. Два дня в неделю новый царь лично рассматривал прошения. По его указу тем, у кого при прежних царях взяли деньги взаймы, возвратили долги. Служилым увеличили жалование в 2 раза.»

- а) Борис Годунов б) Лжедмитрий Ів) Василий Шуйский г) Михаил Романов

1.4 Первые мануфактурные предприятия в России, использующие ручную технику и разделение труда, возникли в?

- а) XV век
- б) XVI век
- в) XVII век
- г) XVIII век

1.1	1.2	1.3	1.4

Задание 2. Выберите несколько верных ответов в каждом задании и занесите выбранные ответы в таблицу (2 балла за каждый правильный ответ, максимальный балл – 6):

2.1 Какие категории населения существовали в XV-XVI веках?

- а) купечество 3-х гильдий
- б) дьяки
- в) шляхетство
- г) страдники

- д) беломестцы
- е) удельные крестьяне

2.2 Что из перечисленного относится к Соборному Уложению 1649?

- а) регламентация прав и обязанностей всех сословий
- б) глава 2 называется «О наказаниях»
- в) 25 глав 967 статей
- г) прикрепление жителей посада к месту жительства
- д) прекращение жалования вотчин и деревень
- е) 15 глав 1056 статей

2.3 Что из перечисленного относится к культуре XVIII века?

- а) создание токарного станка
- б) открытие первой публичной библиотеки
- в) введение ассамблей
- г) «Троица» Ушакова
- д) создание Славяно-греко-латинской академии
- е) строительство Архангельского собора Московского Кремля

2.1	2.2	2.3

Задание 3. По какому историческому критерию образованы ряды (до 2 баллов за каждый ряд, всего за ответ 6 баллов).

3.1 1478, 1485, 1510, 1514, 1521

3.2 Никитин И. Н., Матвеев А. М., Зубов А. Ф.

3.3 меркантилизм, введение рекрутской повинности, введение арабских цифр, принятие «Генерального регламента»

3.1	3.2	3.3

Задание 4. Соотнесите элементы правого и левого столбцов таблицы. В перечне справа есть лишняя характеристика (по 3 балла за каждое соответствие, максимальный балл – 9).

Правительницы Руси	Современники
1.Княгиня Ольга	а)Д.М. Боброк-Волынский
2.Елена Глинская	б)В.В. Голицын
3.Царевна Софья	в)Константин VII
	г)Овчина Телепнев-Оболенский

1	2	3

Задание 5. Определите хронологический порядок событий. (1 балл за каждый правильный ответ, максимальный балл – 14).

5.1

- а) разорение Киева монголо-татарами
- б) введение ярлыка на великое княжение
- в) образование Золотой Орды
- г) битва на реке Калке
- д) сопротивление города Козельска

5.2

- а) основание Московского университета
- б) манифест о вольности дворянству
- в) создание Верховного тайного совета
- г) открытие Академии наук
- д) губернская реформа Екатерины II

5.3

- а) Архангельский собор Московского Кремля
- б) Зимний дворец в Санкт-Петербурге
- в) Церковь Вознесения в Коломенском
- г) Успенский собор во Владимире

5.1	5.2	5.3

Задание 6. Заполните пронумерованные пропуски в тексте. Вставляемые понятия (имена, даты, термины) занесите под соответствующими порядковыми номерами в таблицу (1 балл за каждый правильный ответ, максимальный балл – 12).

Дочь литовского крестьянина (1) в 1702 году оказалась в числе пленников, взятых в (2). Сближение и брак с (3) в 1712 году вознесли ее на вершину власти. Церемония венчания состоялась в (4). 7 мая 1724 года состоялась коронация императрицы в (5). Указом от (6) был образован новый высший орган (7). В него вошли (8), Апраксин, Головкин, Голицын, Остерман и Толстой. Был осуществлен пересмотр протекционистского устава в (9). В 1726 году царица и ее правительство заключили Венский договор с императором (10). В

годы правления императрицы была организована экспедиция (11). В 1725 открыта (12), что было подготовлено предыдущим императором.

- а) Мариенбург
- б) Верховный тайный совет
- в) Меншиков
- г) 1726 год
- д) Успенский собор в Москве
- е) Беринг
- ж) Академия наук
- з) Карл VI
- и) Марта Савронская
- к) Исаакиевский собор в Санкт-Петербурге
- л) 1724 год
- м) Петр I

1	
2	
3	
4	
5	
6	
7	
8	
9	
10	
11	
12	

Задание 7. Выполните задания по карте. (1 балл за каждый ответ, максимальный балл – 4).



7.1 Укажите век, в котором происходили события, обозначенные на схеме. Ответ запишите словом.

7.2 Напишите название города, обозначенного на схеме цифрой «1»

7.3 Напишите имя князя, погибшего в месте, обозначенном на схеме цифрой «3»

7.4 Какие суждения, относящиеся к событиям, обозначенным на схеме, являются верными? Запишите цифры, под которыми они указаны.

- 1) Последствием походов князя, обозначенных на схеме, стала раздробленность русских земель.
- 2) В ходе одного из походов, обозначенных на схеме, произошло первое столкновение русских и монгольских войск.
- 3) В городе, обозначенном на схеме цифрой «2», был заключён первый письменный договор Древнерусского государства.

4) В ходе одного из походов, обозначенных на схеме, был разгромлен Хазарский каганат.

5) Во время походов князя, которые обозначены на схеме, государством управляла его жена.

7.1	7.2	7.3	7.4

Задание 8. Прочитайте исторический источник и выполните задания. (3 балла за каждый ответ, максимальный балл – 15).

«Московское войско вновь было разбито, и Болотников одержал верх и послал со всей поспешностью отряд в десять тысяч человек прямо на Москву, намереваясь последовать за ним со всем войском, и этот [передовой] отряд скоро подошёл к Москве на расстоянии одной мили от неё, стал у речки Даниловки и занял селение Загорье... московское войско засело в обозе перед самыми городскими воротами, и воеводами были царские братья; и они часто учиняли большие нападения со множеством пушек на мятежников, но без всякого успеха... Московиты выставили у речки Яузы, через которую они [мятежники] должны были перейти, сильное войско под начальством молодого боярина Скопина, чтобы воспрепятствовать переправе, а сами со всеми своими силами числом в двести тысяч ратников в течение двух дней осаждали их, но не смогли одержать победу и сами понесли большие потери.

Меж тем Болотников прислал им на подмогу тридцать тысяч человек под начальством воеводы Истома Пашкова, и этот Пашков прибыл туда на третий день и, делая вид, что он намерен напасть на московитов, обошёл сзади своих товарищей и сидевших в осаде; но Пашков [сговорившись] почти со всеми своими главными начальниками и капитанами, тайно заключил наперёд с царём условие перейти к нему и всё своё войско передать московитам.

Московиты, зная об этом, с большим войском напали на осаждённых, а также послали отряд против Пашкова, который сразу передался с пятьюстами человек, и его войско от [такой] неожиданности пришло в расстройство, и московиты захватили множество пленных; и осаждённые, увидев это, также обратились в бегство... ибо лес, через который они принуждены были бежать, был занят московитами; и там произошла невероятная сеча, также и в плен захватили до шести тысяч, так что в Москве все темницы были полны...

И когда он [Болотников] узнал от беглецов о поражении, то бежал со своим войском в город Калугу, расположенный на реке Оке, и он нашёл это место удобным для того, чтобы провести там зиму, и тотчас запасся всем необходимым; и это был город многолюдный, и в нём всегда шла большая торговля солью с землёй Северной...»

8.1 В каком году произошли описываемые в тексте события?

8.2 Назовите царя, в правление которого происходили эти события:

8.3 Укажите название эпохи в истории России, когда произошли описанные события.

8.4 Используя текст источника, укажите, что явилось решающим фактором в достижении победы «московитами».

8.5 Выпишите из текста фразу, с помощью которой автор показал масштаб победы, одержанной «московитами».

8.1	8.2	8.3	8.4	8.5

Задание 9. Перед вами портреты исторических личностей. Изучите их и заполните таблицу. (2 балла за каждый правильный ответ. Максимальный балл 18)

1.






2.



3.





<i>Номер</i>	<i>Имя личности</i>	<i>Род деятельности (статус)</i>	<i>Время жизни (век)</i>	<i>Современники</i>
1				
2				
3				
4				
5				
6				
7				
8				
9				

