

Муниципальный этап
Всероссийской олимпиады школьников
по истории
2019-2020 учебный год.



Дорогой друг! Поздравляем Вас с участием в муниципальном этапе Всероссийской олимпиады школьников по истории! Выполняя задания, не пешите, так как они требуют применения не только навыков, но и общей эрудиции, логики и творческого подхода. Во время олимпиады категорически прещается пользоваться мобильными телефонами.

На выполнение заданий отводится 2 часа.

Максимальный балл – 100.

Желаем успехов!

Задание 1. Выберите по одному верному ответу в каждом задании (2 балла за каждый правильный ответ, максимальный балл – 6).

1.1. Из какого документа взят данный отрывок:

«Взять сказки у всех (дать на год сроку), чтобы правдивые принесли сколько у кого в которой деревне душ мужеского пола...»?

- 1.«Судебник» Ивана IV
- 2.«Указ о переписи населения» Петра I
- 3.«Соборное уложение» Алексея Михайловича
- 4.«Акт об инвентарях» Николая I

1.2. О каком событии идет речь в данном отрывке:

«Главная пружина королевского могущества была сломлена 14 июля или, по крайней мере, она была настолько повреждена в этот день, что ей уже невозможно было когда бы то ни было действовать по-прежнему?»

1. О взятии Бастилии
2. Об издании декрета о «подозрительных»

ШИФР _____

Класс 8

Всего баллов _____

3. Об отставке контролера финансов Жака Тюрго
4. О разгоне Наполеоном Законодательного корпуса

1.3. Какой ряд означает название древнерусских ювелирных техник?

1. Барабан, закомара, апсида
2. Фреска, оклад, смальта
3. Чернь, скань, эмаль
4. Устав, заставка, вязь

Ответ:

1.1	1.2	1.3

Задание 2. Выбери несколько вариантов ответов (2 балла за каждый правильный ответ, максимальный балл – 4).

2.1. Какие события и явления в истории НЕ относятся к царствованию Елизаветы Петровны?

1. Открытие Московского университета
2. Семилетняя война
3. Отмена внутренних таможенных пошлин
4. Комитет министров
5. Кондиции

Ответ: _____

2.2. Основными идеями мыслителей эпохи Просвещения являются:

1. Справедливость существующего общественного порядка
2. Решающая роль образования в жизни общества

**Муниципальный этап
Всероссийской олимпиады школьников
по истории
2019-2020 учебный год.**

3. Усиление абсолютной власти
4. Укрепление христианской морали
5. Равенство всех людей перед законом

Ответ: _____

Задание 3. Расположите в хронологической последовательности (4 балла за каждый правильный ответ, максимальный балл – 8 баллов).

3.1. Расположите в хронологической последовательности создание следующих произведений русской культуры. Ответ запишите в виде ряда цифр.

1. Строительство Покровского собора на Красной площади в Москве.
2. Написание А. Рублевым иконы «Троица».
3. Создание Д.И. Фонвизиним комедии «Недоросль».
4. Открытие Кунсткамеры.

Ответ: _____

3.2. Расположите цитаты, лозунги и устойчивые выражения в хронологическом порядке их появления (произнесения).

1. «Говорят, что Россия сердится. Нет, Россия не сердится, Россия сосредотачивается».
2. «Иду на Вы!».
3. «Хозяин земли Русской».
4. «В честь Нового года учинять украшения из елей, детей забавлять, на санках катать с гор».

Ответ: _____

ШИФР _____

Класс 8

Всего баллов _____

Задание 4. Выберите верные суждения о данных изображениях (2 балла за каждый правильный ответ, максимальный балл - 4 балла).

4.1.



1. В годы правления этого князя было принято христианство на Руси.
2. По инициативе князя, изображённого на банкноте, было введено понятие «юрьев день».
3. С именем человека, изображённого на банкноте, связано создание «Русской правды».
4. Современниками князя, представленного на банкноте, являются святые Борис и Глеб.

Ответ: _____

Муниципальный этап
Всероссийской олимпиады школьников
по истории
2019-2020 учебный год.



4.2.

1. Данный исторический деятель прославился своими исследованиями Средней Азии.
2. Автором данного памятника является А.М. Опекушин.
3. По инициативе данного исторического деятеля был подписан Айгунский договор с Китаем.
4. На банкноте изображен Е.П. Хабаров.

Ответ:

Задание 5. Определите, по какому принципу образованы следующие ряды и дайте краткий ответ (2 балла за каждый правильный ответ; максимальный балл – 8 баллов).

5.1. 1393 г., 1478 г., 1485 г., 1514 г., 1521 г.

Ответ:

5.2. Д. Давыдов, А. Сеславин, А. Фигнер, И. Дорохов

ШИФР _____

Класс 8

Всего баллов _____

Ответ:

5.3. Смоленск, Волгоград, Москва, Тула, Новороссийск

Ответ:

5.4. «Зеленая книга», «Конституция», «Русская правда»

Ответ:

Задание 6. Прочитайте данный текст, подумайте и ответьте на вопрос, сформулировав точный адрес (за правильный ответ, при полном указании адресата – 5 баллов).

Под давлением союзников Павел I согласился назначить командующим русским экспедиционным корпусом в Италии опального А.В. Суворова. Он послал в село Кончанское к ссыльному полковнику фельдъегеря. Суворов принял его на крыльце дома. Прочитав адрес: «Александр Васильевичу Суворову», он сказал: «Не мне» вернул пакет, не вскрывая, и удалился. Через некоторое время прибыл другой пакет. Прочитав адрес на пакете, Суворов произнес: «Вот теперь мне» - и принял пакет. Подумайте и напишите, как изменился адрес на пакете.

Ответ:

Задание 7. Заполните пробелы в тексте. Ответ оформите в виде перечня элементов под соответствующими номерами (2 балла за каждый правильно заполненный пропуск, максимальный балл - 20).

Вторую половину XVIII века нередко называют пиком внешнеполитического могущества Российской империи. Наиболее успешным для России являлось южное направление: при императрице

**Муниципальный этап
Всероссийской олимпиады школьников
по истории
2019-2020 учебный год.**

___(1)___ было выиграно две войны с ___(2)___, в результате которых все северное Причерноморье и весь Северный Кавказ оказались под властью России. В 1783 году было присоединено ___(3)___ ханство, в том же году по итогам Георгиевского трактата к России добровольно присоединилась часть ___(4)___ . Западная граница империи также отодвинулась достаточно далеко. В 1772, 1792, 1795 годах Россия, Австрия и ___(5)___ организовали три раздела ___(6)___, ликвидировав ее государственность. Начавшаяся в 1788 году война со ___(7)___ велась преимущественно на море и не привела к территориальным изменениям. Своим успехам Россия во многом обязана блестящим полководцам: ___(8)___ -Задунайскому, ___(9)___ -Рымникскому, ___(10)___ -Таврическому.

Ответ:

№	Пропуск	№	Пропуск
1.		6.	
2.		7.	
3.		8.	
4.		9.	
5.		10.	

ШИФР _____
Класс 8
Всего баллов _____

Задание 8. Ознакомьтесь с фрагментами текстов по истории Орловского края. Соотнесите персоналий и пропуски в текстах. Ответ внесите в таблицу (2 балла за каждый правильный ответ, максимальный балл - 12 баллов).

8.1. В 1606 году началась крестьянская война под предводительством **_(А)_**. В 1606 году восставшие направлялись из Путивля в Москву. Восстания вспыхнули в Ливнах, Кромах, Ельце и других местах. Крестьяне направляли своих людей в армию **_(Б)_**, посылали продовольствие. Бояре и помещики в страхе бежали. Спасаясь от народного гнева, из Ливен бежал воевода **_(В)_**. Царь **_(Г)_** послал крупные силы на подавление восстания.

8.2. Осенью 1607 года в Орловский край вторглись польские захватчики. Самозванец **_(Д)_** захватил Кромы и Орел. В Орле он провел всю зиму. Пытаясь привлечь на свою сторону население, **_(Е)_** рассылал грамоты, в которых обещал горожанам различные милости, а крестьянам и холопам вернуть вольность, отнятую царем. На деле же польские паны грабили население, совершали насилия над русскими людьми.

8.3. В 1612 году польско-шведские интервенты были разгромлены силами всего русского народа. Однако Орловский край еще длительное время подвергался разорению. Отряды польских панов во главе с **_(Ж)_** в течение нескольких лет продолжали грабить и разорять города и села. Для освобождения края правительство в 1614 году направило войска во главе с **_(З)_**.

Ответ:

Персоналии	Пропуск (буква)
1. Дмитрий Пожарский	
2. Лжедмитрий I	

Муниципальный этап
 Всероссийской олимпиады школьников
 по истории
 2019-2020 учебный год.

3. Лисовский	
4. Лжедмитрий II	
5. Борис Годунов	
6. Василий Шуйский	
7. Иван Болотников	
8. Михаил Шеин	
9. Юрий Мнишек	

Задание 9. Рассмотрите историческую карту и ответьте на вопросы
 (2 балла за каждый верный ответ; максимальный балл - 10 баллов).



ШИФР _____
 Класс 8
 Всего баллов _____

9.1. Какое сражение изображено на схеме и в ходе какой войны оно произошло?

Ответ: _____

9.2. Укажите дату сражения (день, месяц, год)

Ответ: _____

9.3. Назовите руководителей армий противников.

Ответ: _____

9.4. Каков был исход сражения?



Ответ: _____

9.5. В чём историческое значение этого сражения?


Ответ: _____

Задание 10. Рассмотрите изображения строений XVI-XVII веков. Запишите в таблицу ответов их названия и расположите в хронологической последовательности по времени сооружения (по 1 баллу за каждый верное название; до 2 баллов за последовательность; максимальный балл - 6 баллов).

Муниципальный этап
Всероссийской олимпиады школьников
по истории
2019-2020 учебный год.



ШИФР _____
Класс 8
Всего баллов _____



Муниципальный этап
 Всероссийской олимпиады школьников
 по истории
 2019-2020 учебный год.



Ответ:

№	I	II	III	IV
Название				

Хронологическая последовательность				
------------------------------------	--	--	--	--

Задание 11. Прочитайте и заполните пробелы в текстах (по 3 балла за каждый верный ответ; максимальный балл - 9 баллов).

ШИФР _____
 Класс 8
 Всего баллов _____

11.1. До 1660-х гг. иностранные газеты приходили в русскую столицу изредка и более или менее случайно. Царь_(I)_, заинтересованный в получении иностранной прессы, поручил организовать регулярную доставку европейских газет в Россию, и с этой целью в 1660-е гг. были учреждены первые почтовые линии, соединившие Россию с Западной Европой (через Ригу и Вильну), после чего количество получаемых в Москве газет увеличилось во много раз.

11.2. Если в Западной Европе рукописные газеты распространялись в широкой читательской среде, то в России_(II)_ предназначались, для царского двора, что подтверждается пометами в рукописях: “великому государю чтено”, “великому государю чтено и боярам”. Появлению_(III)_ в России предшествовали переводы западноевропейских рукописных и печатных “летучих листков”, “вестовых листов”, выпускавшихся по мере необходимости, по случаю каких-либо значительных событий, происходивших в разных странах.

11.3. Германия (с 1605 г.) и Голландия (с 1618 г.) стали первыми странами, имевшими печатные газеты, которые читались во всей Европе, и Россия не являлась исключением. Таким образом, задолго до царя_(III)_ укреплялись контакты с протестантскими странами: как с северной Германией, так и с Голландией, где в условиях республиканской свободы и отсутствия централизованной государственной и жесткой церковной цензуры успешно конкурировали газеты частных издательств.

Ответ:

Пропуск	I	II	III

Муниципальный этап
 Всероссийской олимпиады школьников
 по истории
 2019-2020 учебный год.

Задание 12. Ознакомьтесь с портретами правителей России XVII века. Укажите персоналий изображенных на них и укажите с годами их царствований (по 1 баллу за каждый верный ответ; максимальный балл - 8 баллов).



ШИФР _____
 Класс 8
 Всего баллов _____



Ответ:

№	I	II	III	IV
Царь				
Годы царствований				

Желаем успеха!

Муниципальный этап
Всероссийской олимпиады школьников
по истории
2019-2020 учебный год.

ШИФР _____
Класс 8
Всего баллов _____

ЗАПОЛНЯЕТСЯ ЖЮРИ!

Задание	1	2	3	4	5	6	7	8	9	10	11	12
Баллы												

Итого: _____ баллов

Председатель _____
(подпись) _____ ФИО

Члены жюри _____
(подпись) _____ ФИО

_____ (подпись) _____ ФИО

**Муниципальный этап
Всероссийской олимпиады школьников
по истории
2019-2020 учебный год.**

**ШИФР _____
Класс 8
Всего баллов _____**