

**Муниципальный этап
всероссийской олимпиады школьников
по истории
2019/20 учебный год
8 класс**

Задание 1. Выберите один верный вариант ответа на вопрос. Ответы впишите в таблицу. (5 баллов)

1.1. В каком памятнике древнерусской литературы впервые упоминается о нашем крае?

- а) Лаврентьевская летопись
- б) Ипатьевская летопись
- в) Повесть временных лет
- г) Новгородская первая летопись

1.2. Что из перечисленного предусматривалось Сборным уложением 1649 г.?

- а) «белые» слободы были отобраны у их владельцев, а их обитатели стали платить налоги
- б) ограничение права перехода крестьян от одного землевладельца к другому единым сроком для всей страны
- в) увеличение размеров пожилого
- г) впервые введено наказание за взяточничество государственных служащих

1.3. Настоящая фамилия Никиты Демидова, получившего при Петре I огромные земли на Урале для строительства металлургических заводов

- а) Строгонов
- б) Никитин
- в) Бирюков
- г) Антуфьев

1.4. Прочтите отрывок из сочинения историка С. Ф. Платонова и укажите, кто издал манифест, о котором идет речь.

«Манифест устанавливал трехдневную барщину, а также запрещал помещикам заставлять крестьян работать в выходные и праздничные дни. Этот манифест положил первое ограничение помещичьей власти».

- а) Петр III
- б) Екатерина II
- в) Павел I
- г) Александр I

1.5. Кто был последним князем в Обдорском княжестве?

- а) Молик Мамруков
- б) Гинда Моликов
- в) Матвей Тайшин
- г) Иван Тайшин

1.1.	1.2.	1.3.	1.4.	1.5.

Задание 2. Выберите несколько верных ответов в каждом задании. (5 баллов)

2.1. Причинами Смутного времени в России являются:

- а) отсутствие единства в среде феодальной знати

- б) рост выпуска медных денег, приведших их к обесцениванию в сравнении с серебряными
- в) династический кризис
- г) разорительные последствия феодальной войны
- д) резкое ухудшение условий жизни вследствие стихийных бедствий и неурожая

2.2. Выберите из предложенного перечня события, относящиеся к XVII в.

- а) создание полков нового строя
- б) Ливонская война
- в) церковная реформа патриарха Никона
- г) кругосветное путешествие Ф. Магеллана
- д) пресечение династии Рюриковичей
- е) начало правления династии Стюартов в Англии

2.3. Выберите из предложенного перечня реформы, осуществлённые в правление Елизаветы Петровны.

- а) отмена внутренних таможенных пошлин
- б) формирование полков «нового строя»
- в) разделение страны на 50 губерний
- г) Сенат вновь стал Правительствующим
- д) появление первых государственных банков
- е) создание Верховного тайного совета

2.1.	2.2.	2.3.

Задание 3. По какому принципу образованы ряды?

(6 баллов)

3.1. 1648 г., 1662 г., 1670 – 1671 гг. _____

3.2. Семибоярщина, «Совет всея земли», крестоцеловальная запись, перелёты

3.3. Прутский мир, Ясский мир, Кючук-Кайнаржийский мир, Бухарестский мир _____

Задание 4. Укажите, что является лишним в каждом ряду. Свой ответ поясните. (6 баллов)

4.1. Бояре, почётные граждане, думные дворяне, думные дьяки, окольные. _____

4.2. Дом Пашкова в Москве, Таврический дворец в Санкт-Петербурге, Зимний дворец в Санкт-Петербурге, Дворец московского генерал-губернатора _____

4.3. Учреждение Главного магистрата, создание Преображенского приказа, появление первых гвардейских полков, создание Приказа тайных дел, создание Правительствующего Сената. _____

Задание 5. Расположите в хронологической последовательности.

(6 баллов)

5.1. Литературные произведения в порядке их создания

- а) «Сказание о Мамаевом побоище»
- б) «Слово о погибели земли русской»
- в) «Житие протопопа Аввакума»
- г) «Слово о законе и благодати»

- д) «Слово о полку Игореве»
- е) «Домострой»

5.2. Знаменательные сражения русской армии и флота

- а) сражение при р. Березине
- б) Гангутское сражение
- в) сражение у мыса Калиакрия
- г) сражение при Гросс-Егерсдорфе
- д) сражение за Малоярославец
- е) Чесменское сражение

5.1.						
5.2.						

Задание 6. Рассмотрите изображение и ответьте на вопросы

(6 баллов)



1. Укажите год, когда произошло событие, изображённое на монете _____
2. Кто правил страной в эпоху и во время памятного события, указанных на монете? _____
3. Кто руководил нашей страной в период, когда была выпущена монета? _____
4. Кто командовал российским флотом в сражении, указанном на монете? _____
5. Как называется лицевая сторона монеты, где изображено сражение? _____
6. Как называется оборотная сторона, где изображён герб страны? _____

Задание 7. Прочтите текст источника и ответьте на вопросы.

(10 баллов)

«По благословлению и по совету Святейшего Ермогена, Патриарха Московского и всея Руси, и митрополитов, и архиепископов, и епископов, и архимандритов, и игуменов, и всего освящённого собора и по приговору бояр и дворян, и дьяков думных, и стольников, и торговых людей, и стрельцов, и казаков, и пушкарей, и всех чинов служилых людей великого Московского государства мы бояре князь Федор Иванович Мстиславский, да князь Василий Васильевич Голицын, да Фёдор Иванович Шереметев, да окольничий князь Данило Иванович Мезетской, да думные дьяки Василий Телепнев, да Томило Луговской, съезжались великого государя Жигимонта короля Польского и великого князя Литовского с Станиславом Желтковским с Жолкви, с воеводою, гетманом короны польской и говорили об обирании государском на Владимирское и Московское и на все великие государства Российского царствия и приговорили на

том: что послати бити челом к великому государю к Жигимонту королю польскому и великому князю Литовскому, и к сыну его к королевичу Владиславу Жигимонтовичу, чтоб великий государь Жигимонт король пожаловал, дал на Владимирское и Московское и на все великие государства Российского царства сына своего Владислава королевича; о чём святейший Ермоген патриарх Московский и всея Руси и весь освященный собор Бога молят, и Владислава королевича на Российское государство хотят с радостию... А будучи королевичу Владиславу Жигимонтовичу на Российском государстве, церкви Божии по всем городам и селам чтити и от разоренья оберегати и святым Божиим иконам и чудотворным мощам поклоняться и почитати, костёлов и иных вер молебных храмов в Московском государстве нигде не ставити. А что дано церквам Божиим и в монастыри вотчин или угодий, не отымати. Боярам и дворянам, и приказным всяким людям у всяких государственных дел быти по-прежнему; а польским и литовским людям на Москве ни у каких дел и по городам в воеводах и в приказных людях не быти. Суду быти по прежнему обычаю и по судебнику Российского государства. А о крещеньи, чтоб государю королевичу Владиславу Жигимонтовичу пожаловати креститися в нашу православную христианскую веру и быти в нашей православной христианской греческой вере».

7.1. Укажите дату договора с точностью до года. Обоснуйте свою датировку. _____

7.2. Назовите стороны, подписавшие договор _____

7.3. Историки считают, что данный договор в наибольшей степени отражал интересы верхушки служилых людей. Перечислите их категории, упомянутые в документе. _____

7.4. Укажите цитату из документа, где содержится перечисление этих служилых людей и указываются их интересы. _____

7.5. Укажите две основные причины составления договора _____

Задание 8. Установите соответствия. Запишите в таблицу выбранные цифры под соответствующими буквами. (6 баллов)

8.1. Соотнесите высказывания с личностями, которые могли им принадлежать.

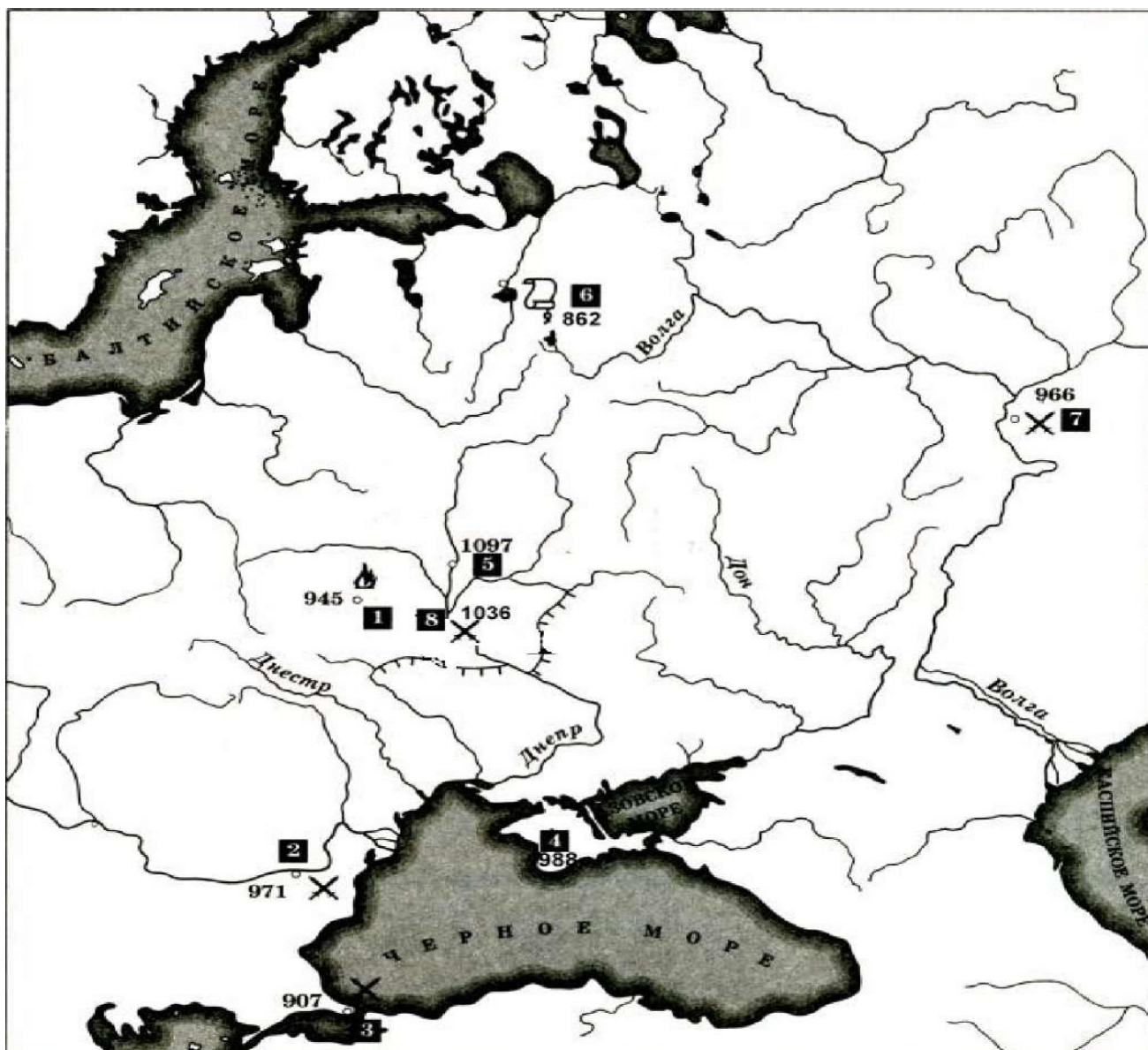
А. «Как конь под царём без узды, так и царство без грозы»	1. Павел I
Б. «В России велик только тот, с кем я говорю, и пока я с ним говорю»	2. Петр I
В. «Ибо я за моё Отечество и люди живота своего не жалел, то как я могу тебя непотребного пожалеть»	3. Иван Пересветов
Г. «Нет, и до скончания мира примера, может быть, не будет, чтобы царь упустил добровольно чего-либо из своей власти».	4. М. М. Сперанский
Д. «Я не искал милостей у царедворцев, я дорожу любовью войск, которая для меня бесценна»	5. А. Н. Радищев
Е. «Действительно же свободных людей в России нет, кроме нищих и философов»	6. Д. С. Дохтуров

8.2. Соотнесите войны XVII века и мирные соглашения, заключённые по их итогам.

А. Смоленская война 1632 – 1634 гг.	1. Столбовский мирный договор
Б. Ливонская война 1558 – 1583 гг.	2. Андрусовский мирный договор
В. Русско-шведская 1613 – 1617 гг.	3. Плюсский мирный договор
Г. Русско-польская 1654 – 1667 гг.	4. Кардисский мирный договор
Д. Русско-шведская 1656 – 1661 гг.	5. Бахчисарайский мирный договор
Е. Русско-турецкая 1676 – 1681 гг.	6. Поляновский мирный договор

	А	Б	В	Г	Д	Е
8.1.						
8.2.						

Задание 9. Перед вами карта, на которой цифрами обозначены города и даты важных событий древнерусской истории, связанных с разными князьями, имена которых перечислены в первой колонке бланка таблицы. Во второй колонке таблицы запишите названия событий, годы которых указаны на карте. Каждое из событий должно быть указано в той строке таблицы напротив имени князя, с деятельностью которого оно связано. В третьей колонке таблицы запишите название каждого из этих городов и цифры (обязательно), которыми они обозначены на карте. (16 баллов)



Князь	Событие	Название города с соответствующей ему цифрой на карте
Рюрик		
Олег Вещий		
Игорь Старый		
Святослав		
Владимир Святой		
Ярослав Мудрый		
Владимир Мономах		

Задание 10. Прочитайте текст. Заполните пробелы в тексте. Ответ оформите в виде перечня элементов под соответствующими номерами. (10 баллов)

Инициатива строительства крупных металлургических мануфактур на Урале в течение первых трёх десятилетий XVIII в. принадлежала государству. В частных руках были только заводы _____(1). Свой первый завод на Урале тульский предприниматель получил 4 марта 1702 г., когда по царскому указу принял во владение казённый _____(2) завод. Открытие Берг-коллегии повлекло за собой организацию местных государственно-отраслевых органов управления на Урале. С этой целью в начале 1720 г. на Урал прибыл капитан артиллерии _____(3). Под его руководством были составлены горный и _____(4) уставы, улучшены водные и сухопутные пути сообщения, основан ряд заводов (Екатеринбургский, Егошихинский, Северский, Мотовилихинский, Кушвинский), открыты _____(5) на казенных заводах. В 1722 г. прибыл новый руководитель – генерал-майор _____(6). В _____(7) году он осуществил пуск нового завода на р. Исети и завершил строительство города-крепости, получившего название _____(8). Горнозаводская администрация не только руководила производством на рудниках и заводах, но и осуществляла фискально-финансовые, административно-полицейские и _____(9) функции. Ей подчинялись целые села и слободы с жившими в них приписанными к заводам крестьянами, казёнными мастеровыми и подмастерьями. К середине XVIII в. частных предприятий было больше, правительство не несло расходов по их строительству и содержанию, но контролировало их деятельность, получало прибыль в виде налогов на производство, обязательных поставок части металла и металлоизделий по _____(10) ценам, пошлин с продажи продукции на внешнем и внутреннем рынке.

№	Вставка
1	
2	
3	
4	
5	
6	
7	
8	
9	
10	

Задание 11. Дайте определение историческим терминам

(4 балла)

Посессионные крестьяне – _____

Приписные крестьяне – _____

Задание 12. Соотнесите изображение церкви или собора в левом столбце с его названием и краткой справкой о нем в правом. Занесите ответ в таблицу ниже.

(10 баллов)

Собор	Название и характеристика
-------	---------------------------

<p>1.</p> 		<p>А. Собор Парижской Богоматери, XII – XIV вв. Вместе с Эйфелевой башней является символом Парижа. На площади перед ним находится начальная точка отсчета протяженности всех французских дорог.</p>
<p>2.</p> 		<p>Б. Церковь покровы на Нерли, XII в. Расположена при впадении Нерли в Клязьму. По легенде белый камень для постройки церкви был вывезен из покорённой Булгарии Андреем Боголюбским.</p>
<p>3.</p> 		<p>В. Вестминстерское аббатство, XIII в. В нём проходит церемония коронации британских монархов.</p>
<p>4.</p> 		<p>Г. Дмитриевский собор во Владимире, XII в. Построен Всеволодом Большое Гнездо в эпоху наивысшего могущества Владимирского княжества.</p>



5.

Д. Софийский собор в Новгороде, XI в. Основан сыном Ярослава Мудрого. Один из древнейших храмов на территории России. Ныне кафедральный собор Новгородской митрополии.

1	2	3	4	5

Задание 13. Решите кроссворд

(10 баллов)



1. Прозвище царя



2. Река, место битвы




3. Служилый человек



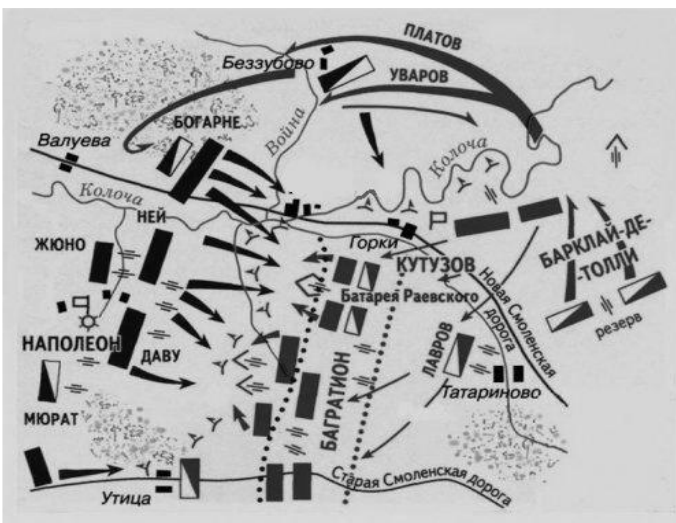
4. Участники восстания



5. Вид живописи



6. Петровское нововведение



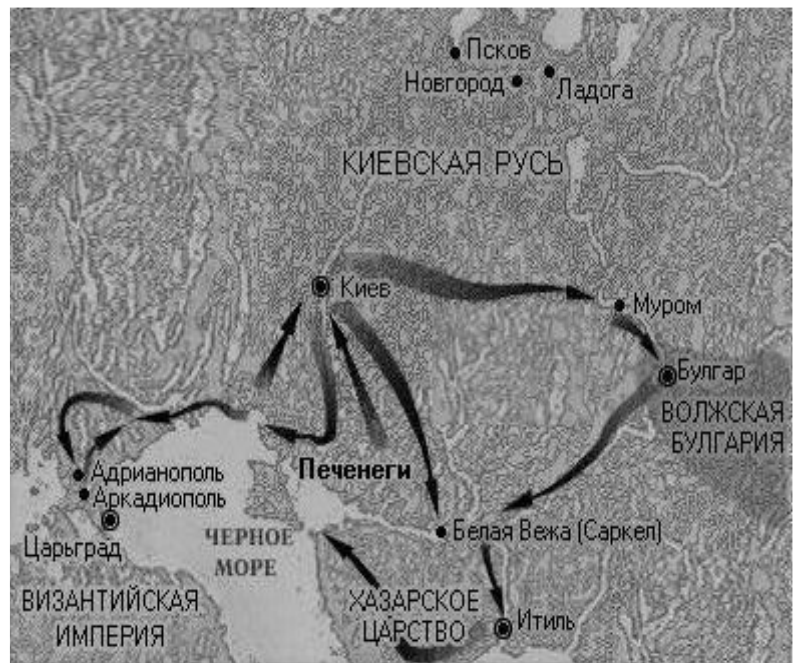
7. Место сражения




8. Сборщик дани



9. Прозвище московского князя



10. Имя князя совершившего эти походы



Максимально возможное количество баллов – 100.