

**ВСЕРОССИЙСКАЯ ОЛИМПИАДА ШКОЛЬНИКОВ ПО ИСТОРИИ.**  
**2020-2021 уч.г.**  
**МУНИЦИПАЛЬНЫЙ ЭТАП**  
**7КЛАСС**

**Задания**

***В заданиях 1–3 дайте один верный ответ. Ответ внесите в таблицу в бланке работы.***

1. Под каким именем нам известна героиня данного отрывка?

Был тогда цесарь Константин, сын Льва. И увидев, что она красива лицом и весьма умна, подивился цесарь ее разуму, беседея с нею, и сказал ей: «Достойна ты царствовать с нами в городе этом». Она же, поразмыслив, ответила цесарю: «Я язычница; если хочешь крестить меня, то крести меня сам - иначе не крещусь». И крестил ее цесарь с патриархом... Она же, собравшись домой, пришла к патриарху, и попросила у него благословения дому, и сказала ему: «Люди мои и сын мой язычники, - да сохранит меня Бог от всякого зла». И сказал патриарх: «Чадо верное! В Христа ты крестилась, и в Христа облеклась, и Христос сохранит тебя... избавит он от козней дьявола и от сетей его». И благословил ее патриарх, и отправилась она с миром в свою землю и пришла в Киев».

2. Как называется война, во время которой состоялся этот допрос?

«Затем после такой клятвы мы у этой же Жанны спросили о ее имени и прозвище. На это она ответила, что на родине ее зовут Жаннета, а после того как пришла во Францию, прозвана Жанной. Относительно своего прозвища она сказала, что она его не знает. Далее на вопрос о месте рождения ответила, что родилась в деревне Домреми, которая сливается с деревней Грю, и что в деревне Грю находится главная церковь.

Затем на вопрос об имени отца и матери ответила, что отца зовут Жаком д'Арк, мать же – Изабеллой».

- 1) Семилетняя война 2) Столетняя война 3) Тридцатилетняя война  
4) Война за испанское наследство

3. К эпосу какого региона относится представленный фрагмент?

С востока в ладье  
Муспелля люди  
плывут по волнам,  
а Локи правит;  
едут с Волком  
сыны великанов,  
в ладье с ними брат  
Бюлейста едет.  
Что же с асами?  
Что же с альвами?

Гудит Ётунхейм,  
асы на тинге;  
карлики стонут  
перед каменным входом  
в скалах родных -  
довольно ли вам этого?

- 1) Исландия 2) Франция 3) Англия 4) Германия

**Максимум баллов за задания 1–3.**

**В заданиях 4, 5 выберите несколько верных ответов из предложенных. Ответы внесите в таблицу в бланке работы.**

4. Ниже приведен список терминов (названий). Укажите те из них, которые относятся к событиям (явлениям) истории древнерусского крестьянства.  
1) рядович 2) гривна 3) волхв 4) закуп 5) холоп 6) погост
5. Укажите города, которые были центрами княжеств в эпоху Киевской Руси.  
1) Астрахань 2) Полоцк 3) Калуга 4) Чернигов 5) Саратов 6) Тмутаракань.

**Максимум 6 баллов за задания 4, 5.**





6. Перед Вами перечень событий, произошедших в течение трех веков. В таблице в бланке работы под обозначением века поставьте номер события, произошедшего в это время.  
1) Правление Людовика IX Капетинга  
2) Битва при Нанси  
3) Подписание «Золотой буллы»  
4) Захват Константинополя крестоносцами  
5) Битва при Калке  
6) Война Алой и Белой розы  
7) Восстание Уота Тайлера  
8) Битва при Воже  
9) Завоевание Византии турками-османами

Государство	XIII век	XIV век	XV век
События			

**Максимум за задание – 9 баллов.**

7. Дайте краткое обоснование ряда (что объединяет перечисленные элементы исторической точки зрения) и укажите, какой из элементов является лишним по данному обоснованию.

7.1

А) Троица	Б) Апостол Павел
 An icon of the Holy Trinity, showing three figures seated around a table. The figure on the left is God the Father, the central figure is God the Son, and the figure on the right is the Holy Spirit. They are all depicted with halos and are dressed in traditional ecclesiastical robes.	 An icon of the Apostle Paul, depicted as a bearded man with a halo, wearing a blue tunic and a grey cloak. He is shown in a three-quarter view, looking towards the left.
В) Сошествие во ад	Г) Праотец Сиф
 An icon of the Descent into Hell, showing Christ in the center, surrounded by a group of people. Christ is depicted with a halo and is shown in a three-quarter view, looking towards the right. The scene is set in a dark, cavernous space.	 An icon of the Patriarch Simeon, depicted as an elderly man with a long white beard and a halo. He is wearing a red tunic and a brown cloak. He is shown in a three-quarter view, looking towards the left.
Д) Архангел Гавриил	
 An icon of the Archangel Gabriel, depicted as a man with a halo, wearing a red tunic and a green cloak. He is shown in a three-quarter view, looking towards the left. He is holding a scroll in his right hand.	

7.2 А) «Хожение за три моря», Б) «Слово о полку Игореве», В) «Слово о законе и благодати», Г) «Песнь о моем Сиде», Д) «Моление Даниила Заточника».

**По 4 балла за каждый верный ответ, из которых 2 – за верно выделенный принцип объединения и 2 – за верно отмеченное исключение. Максимум за задание – 8 баллов.**

8. Что исторической точкой зрения объединяет перечисленные в ряду элементы? Дайте максимально точный ответ.

8.1 Александр Невский, Андрей Боголюбский, Всеволод Большое Гнездо, Юрий Долгорукий.

8.2 остготы, бургунды, вандалы, франки.

**По 3 балла за каждый верный ответ. Максимум за задание – 6 баллов.**

9. Расположите в хронологической последовательности перечисленные события. Ответы внесите в таблицу в бланк работы.

А) Первый Крестовый поход.

Б) Начало Столетней войны

В) Стояние на Угре

Г) Взятие Казани

Д) Крещение Руси

Е) Золотая булла Карла IV

1	2	3	4	5	6

**6 баллов за полностью верную последовательность; 2 балла за последовательность с одной ошибкой (т.е. верная последовательность восстанавливается путём перестановки любых двух символов); 0 баллов, если допущено более одной ошибки. Максимум за задание – 6 баллов.**

10. Определите пропущенные в тексте названия, слова, имена, даты, обозначенные порядковыми номерами. При необходимости при порядковых номерах даются пояснения о характере требуемой вставки. Необходимые вставки впишите под соответствующими номерами в помещённую в бланке ответа таблицу.

«События, известные как (1 – устойчивое название событий), начались после смерти сына (2 – имя князя) – Василия I в 1425 году. Унаследовавший отцовский престол (3 – имя наследника) столкнулся с могущественным соперником в борьбе за власть – своим дядей (4 – имя дяди), правившим в городе (5 – название города) и имевшим притязание на московский великокняжеский престол на основании завещания князя (2). Судьбоносный же конфликт случился в (6 – год) на семейном мероприятии – свадьбе (7 – имя жениха). Мать великого князя (3) и жена Василия I – (8 –


*имя и отчество) обвинила жениха в краже и сорвала с него золотой пояс. после тяжелых испытаний наследник все же вернулся на престол, а после него власть принял его сын (9 – имя сына), который стал именоваться «(10 – новое титулование московского правителя)».*


1	
2	
3	
4	
5	
6	
7	
8	
9	
10	

*По 1 баллу за каждую верную вставку. Всего 10 баллов.*

11. Внимательно рассмотрите автопортреты художников и их работы и выполните задания. Ответы внесите в таблицу в бланке работы.

- 1) Соотнесите репродукции картин и автопортреты их создателей. Под цифровым обозначением автопортрета художника запишите его имя **(6 баллов)**.
- 2) Назовите ещё одну любую живописную работу каждого из художников **(6 баллов)**.
- 3) Укажите, кто из представленных художников был последователем Джироламо Савонаролы **(1 балл)**.





1	2	3

**Максимум за задание – 13 баллов.**

12. Соотнесите высказывание с обстоятельствами, при которых они были произнесены:

- А) «И умом не дошел, и нам будет поваден»
- Б) «Разбита и развеяна по всем румбам»
- В) «На этом я стою. И не могу иначе»
- Г) «Не понимаю, как мои предки допустили такое учреждение»
- Д) «Знайте, чада моя, яко уже зашло солнце земли Суздальской. Не будет больше такого князя в Русской земле»
- Е) Париж стоит мессы
  - 1) М.Лютер во время суда в Вормсе
  - 2) Бояре по поводу избрания на царский престол Михаила Романова
  - 3) Митрополит Кирилл после смерти Александра Невского
  - 4) Генрих IV Бурбон перед принятием католичества
  - 5) Ф.Дрейк после гибели «Непобедимой допустили такое учреждение» армады»
  - 6) Яков I Стюарт после роспуска парламента

**Максимум за задание – 12 баллов.**

13. Прочитайте отрывок из исторического источника и выполните задания.



«И в тот же день к вечеру те полки от города отошли, а наутро сам царь подступил к городу со всеми силами и со всеми полками своими. Горожане же, со стен городских увидев силы великие, немало уstraшились. И так враги подошли к городским стенам. Горожане же пустили в них по стреле, и они тоже стали стрелять, и летели стрелы их в город, словно дождь из бесчисленных туч, не давая взглянуть. И многие из стоявших на стене и на заборолах, уязвленные стрелами, падали, ведь одолевали вражеские стрелы горожан, ибо были у них стрелки очень искусные. Одни из них стоя стреляли, а другие были обучены стрелять на бегу, иные с коня на полном скаку, и вправо, и влево, а также впереди назад метко и без промаха стреляли. А некоторые из них, сделав лестницы и приставляя их, влезали на стены. Горожане же воду в котлах кипятили, и лили кипятком на них, и тем сдерживали их. Отходили они и снова приступали. И так в течение трёх дней бились между собой до изнеможения. Когда враги приступали к граду, вплотную подходя к стенам городским, тогда горожане, охраняющие город, сопротивлялись им, обороняясь: одни стреляли стрелами сзаборол, другие камнями метали в них, иные же били по ним из тюфяков, а другие стреляли, натянув самострелы, и били из пороков. Были же такие, которые и из самих пушек стреляли. Среди горожан был некий москвич, суконник, по имени Адам, с ворот Фроловских приметивший и облюбовавший одного из врагов, знатного и известного, который был сыном некоего князяордынского; натянул он самострел и пустил неожиданно стрелу, которой ипронзил его сердце жестокое и скорую смерть ему принес. Даже сам царь тужил о случившемся. Как же обманули горожан, находившихся в осаде? После того как простоял царь три дня, на четвертый, наутро, в полуденный час, по повелению царя приехали великие князья ордынские и вельможи его. И, подойдя к городу и приблизившись с осторожностью к городским стенам, обратились они к народу, бывшему в городе: “Царь вам, своим людям, хочет оказать милость, потому что неповинны вы и не заслуживаете смерти, ибо не на вас он войной пришел, но на Дмитрия, враждуя, ополчился. Вы же достойны помилования. Ничего иного от вас царь не требует, только выйдите к нему навстречу спочестями и дарами, вместе со своим князем, так как хочет он увидеть город этот, и в него войти, и в нем побывать, а вам дарует мир и любовь свою, а вы ему ворота городские отворите”. Люди городские, поверив словам их, согласились и тем дали себя обмануть, ибо ослепило их зло и помрачило разум их коварство бесерменское; позабыли и не вспомнили сказавшего: “Не всякому духу веруйте”. И отворили ворота городские, и вышли со своим князем с дарами многими к царю, также и архимандриты, игумены и попы с крестами, а за ними бояре и лучшие мужи, и потом народ и черные люди»

13.1 Назовите год и город, описываемые в тексте..

13.2 Кто возглавлял войско, осадившее город? Укажите имя и статус.

13.3 Какими военными преимуществами обладали вражеские воины?.

13.4 Какими способами осаждённые горожане отражали нападение врага? Используя текст, назовите четыре способа.

13.5 Каким образом врагам удалось захватить город?

13.6 Запишите имя и прозвище князя, правившего в городе. Почему он отсутствовал в городе во время осады его врагом?

*За каждый ответ – 4 балла. Максимум за задание – 24 балла.*

*Максимум за работу – 100 баллов.*