

**ВСЕРОССИЙСКАЯ ОЛИМПИАДА ШКОЛЬНИКОВ
МУНИЦИПАЛЬНЫЙ ЭТАП**

*ИСТОРИЯ
8 КЛАСС*


Максимальное количество баллов – 100.

Общее время выполнения работы – 90 минут.


Задание 1. Выберите один правильный ответ. Впишите ответы в таблицу.

1.1. Какое из указанных событий, связанных с формированием крепостного права, произошло раньше? А) введение бессрочного сыска беглых крестьян Б) введение пятилетнего срока сыска беглых крестьян В) введение заповедных лет Г) введение Юрьева дня

1.2. Какой из указанных архитектурных памятников был возведен по случаю взятия Казани Иваном Грозным?



А)



Б)



В)



Г)

1.3. Укажите год, когда произошло описанное в указанном фрагменте событие:

«Государев же боярин и воевода князь Иван Петрович Шуйский, приехав во Псков, паки з боярином и воеводами, ..., о укреплении града Пскова всякое тщание показоваше, и непрестанно около града Пскова объезжая, и веляше утвержати всякими крепостьми стены града. И паки, второе, приводят всех голов боярских, и детей боярских, и голов стрелецких, и сотников, и стрельцов, и всех пскович к вере, рекше, к крестному целованью, якоже прежде, абы за Бога и за своего государя, царя и великого князя Ивана Васильевича всеа Руси, и за его государевы дети, и за святые церкви, и за православную христианскую веру, и за град Псков биться с литвою до смерти безо всякие хитрости»

А) 1503 Б) 1552 В) 1560 Г) 1581 Д) 1617

1.4. Какое из указанных явлений не относится к XVI веку? А) Иосифлянство Б) Нестяжательство В) Старообрядчество Г) Лютеранство Д) Цвинглианство

1.5. Герой «Повести о разорении Рязани Батыем», погибший в борьбе против монголов? А) Афанасий Никитин Б) Александр Пересвет В) Евпатий Коловрат Г) Родион Ослябя.

1.1.	1.2.	1.3.	1.4.	1.5.

Количество баллов – 10.

Задание №2. Выберите несколько правильных ответов. Ответы впишите в таблицу.

2.1. Укажите современников Михаила Романова? А) Оливер Кромвель Б) Арман Жан дю Плесси, кардинал Ришелье В) Мартин Лютер Г) Микеланджело Буонарроти Д) Рембрандт

2.2. Какие из указанных событий произошли в период, когда Древнерусским государством правил Ярослав Мудрый? А) Первый крестовый поход Б) Нормандское завоевание Англии В) правление польского короля Болеслава Храброго Г) Строительство Софийского собора в Новгороде Д) Создание Авиценной «Канона врачебной науки»

2.3. Среди указанных правителей русских княжеств братьями были:
А) Юрий Данилович и Иван Калита Б) Семеон Гордый и Иван Красный В) Владимир Мономах и Мстислав Великий Г) Дмитрий Донской и Василий Тёмный Д) Андрей Боголюбский и Всеволод Большое Гнездо

2.1.	2.2.	2.3.

Количество баллов – 9.

Задание 3. Определите, какое из перечисленных имён (понятий) лишнее? Лишнее слово зачеркните. Укажите, по какому принципу образован ряд. Дайте максимально точный ответ.

3.1. верста, сажень, пуд, аршин, вершок, пядь

3.2. Андрей Курбский, Алексей Адашев, Иван Висковатый, Сильвестр, Макарий, Гермоген

3.3. Васко да Гама, Марко Поло, Америго Веспуччи, Николай Коперник, Христофор Колумб, Фернан Магеллан

Количество баллов – 12.

Задание 4. Вставьте слова, пропущенные в летописных фрагментах:

А) Впишите название населенного пункта.

В 1147 году. Пошел Юрий воевать Новгородскую волость и, придя, взял Новый Торг и всю Мету. А к Святославу послал Юрий, повелел ему воевать Смоленскую волость. И Святослав пошел и захватил голядь вверх по Протве; и дружина Святослава набрала так пленных. И прислал к нему Юрий со словами: «Приходи ко мне, брат, в _____».

Б) Впишите название восточнославянского племени.

В этот же год сказала дружина Игорю: «У отроков Свенельда вдоволь и оружия, и одежды, а мы наги. Пойди, князь, с нами за данью: ты добудешь, и мы». Послушал их Игорь, пошел к _____ за данью, прибавлял к прежней дани, и чинили насилие он и мужи его. Взяв дань, он пошел в свой город. Когда он возвращался, то, раздумав, сказал дружине своей: «Идите с данью домой, а я возвращусь и еще похожу [за данью]».

В) Впишите имя князя.

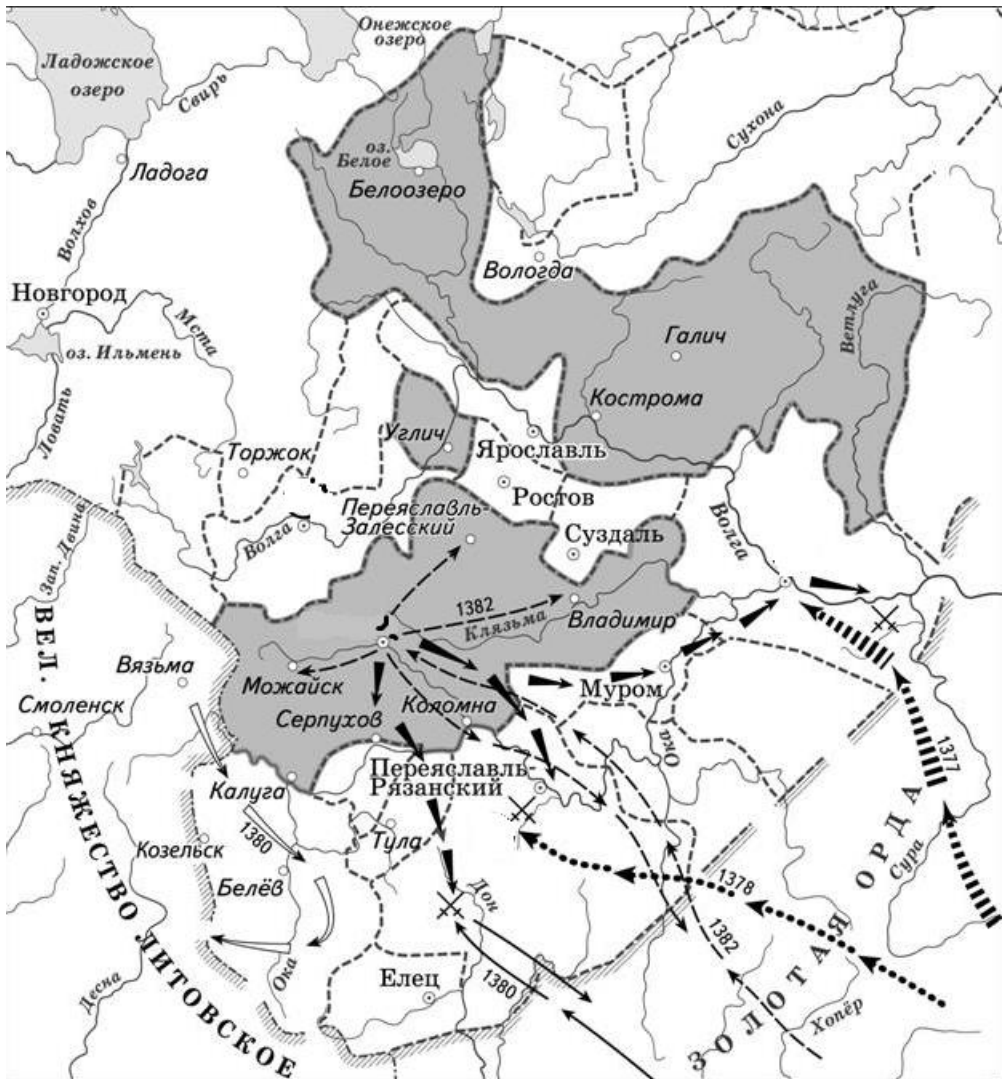
В 1019 году пришел Святополк с печенегами, с большой силой. Князь _____ собрал множество воинов и вышел против него на Альту... стал на месте, где убили Бориса, поднял руки к небу и сказал: «Кровь брата моего вопиет к тебе, владыка» ... Когда он сказал это, пошли враги друг против друга, и покрылось поле около Альты с обеих сторон множеством воинов. Тогда была пятница; восходило солнце, сошлись оба войска, был бой злой, какого не было на Руси, боролись в рукопашную, трижды сходились, текла кровь ручьями. К вечеру ... Святополк убежал.

Г) Впишите год.

В _____ году пришли Святополк, Владимир, Давыд Игоревич, Василько Ростиславич, Давыд Святославич и брат его Олег и съехались в Любече для установления мира, говоря между собой: «Зачем мы губим русскую землю, учиня распри между собою? А половцы нашу землю разоряют и рады, что между нами междоусобия. С этих пор будем все единодушны и храним землю русскую, пусть каждый держит отчину свою

Количество баллов – 12.

Задание 5. Внимательно изучите схему, на которой отражены военные действия с участием русских войск, и ответьте на вопросы.



Укажите название государственного образования, территория которого выделена темным цветом на схеме?

Укажите правителя этого территориально-государственного образования в период времени, события которого отражены на схеме

Впишите в таблицу сражения, произошедшие в результате совершенных против данного территориально-государственного образования военных походов (отмечены на схеме стрелками с указанием года), а также исторических деятелей, которые эти походы возглавили:

Год	Сражения	Руководители походов
1377		
1378		
1380		
1382		

Количество баллов – 10.

Задание 6. Определите пропущенные в тексте слова и словосочетания, обозначенные порядковыми номерами. Необходимые вставки впишите под соответствующими номерами в помещённую ниже таблицу.

После смерти царя **(1 – имя и отчество царя)** русским государем был провозглашен Петр I — сын царя **(2 – имя и отчество царя)** и царицы Натальи Кирилловны, урожденной Нарышкиной. С этим не захотела примириться семья **(3 – фамилия)**. 15 мая 1682 вооруженные **(4 – название служилых людей)** ворвались в Кремль и перебили многих родственников и приверженцев Петра I и Нарышкиных. Они потребовали, чтобы русскими царями были объявлены два сводных брата — **(5 - имена братьев)**. ..., а управлять государством за них должна была сестра — царевна **(6 – имя)**, умная, энергичная и образованная женщина. Ее воспитателем был известный просветитель **(7 – имя и фамилия)**. Большую роль при дворе играл ее фаворит князь **(8 – фамилия)**, один из самых образованных людей XVII в. В ее правление был несколько ослаблен сыск крепостных, сделаны незначительные послабления посадским людям... В 1687 году в Москве была открыта **(9 – название учебного заведения)** академия. В 1686 году Россия заключила “Вечный мир” с **(10 - название страны)**. Эти успехи были омрачены двумя неудачными походами в **(11 - название территории)** (1687, 1689) во время войны с Турцией. В августе **(12 – год)** в Москве произошел переворот. К власти пришел Петр I, бывшая правительница России была заключена в Новодевичий монастырь. (О.М. Рапов)

1		7	
2		8	
3		9	
4		10	
5		11	
6		12	

Количество баллов – 12.

Задание 7. Внимательно ознакомьтесь с фрагментом произведения древнерусской литературы. Впишите ответы на вопросы в таблицу.

«...Начали приходить слухи, что эти безбожные [...] пленили многие народы: ясов, обезов, касогов, избили множество безбожных половцев и пришли в Половецкую землю. Половцы же, не в силах сопротивляться, бежали, и [...] многих избили, а других преследовали вдоль Дона до залива, и там они убиты были гневом Бога и его пречистой Матери. Ведь эти окаянные половцы сотворили много зла Русской земле. Поэтому всемилостивый Бог хотел погубить безбожных сынов Измаила, куманов, чтобы отомстить за кровь христианскую; что и случилось с ними. Ведь эти таурмены прошли всю землю Куманскую и преследовали половцев до реки Днепра около Руси...»

Вопрос	Ответ
--------	-------

Укажите пропущенное к тексту название народа, нашествие которого описано в данном фрагменте.	
В каком году произошли описанные в данном фрагменте события?	
Какому сражению с участием войск Древней Руси данное нашествие непосредственно предшествовало.	
Назовите трех древнерусских князей, которые приняли участие в этом сражении	

Количество баллов – 8.

Задание 8. Соотнесите события отечественной и зарубежной истории, сопоставив факты, указанные в таблице (совпадение в пределах до 10 лет). Ответы внесите в таблицу.

1	Александр Невский становится Великим князем Владимирским	А	Жакерия во Франции
2	Приход к власти Лжедмитрия I в Москве	Б	Основание Кенигсберга
3	Окончание феодальной войны в Московском государстве	В	Варфоломеевская ночь во Франции
4	Начало правления Дмитрия Донского	Г	Война Алой и Белой розы в Англии
5	Битва при Молодях против войск крымского хана	Д	Сожжение Джордано Бруно

1	2	3	4	5

Количество баллов – 10.

Задание 9. Память о данном сражении уже более 600 лет хранят в Германии, Польше, Литве, Беларуси и России. В Германии оно известно как битва при Танненберге, в Литве – как битва при Жальгирисе. Это сражение также связано с историей нашего края, так как одним из его главных участников были войска государства, на части территории которого в настоящее время расположена современная Калининградская область.

Впишите ответы на вопросы в таблицу.

Вопрос	Ответ
--------	-------

Назовите средневековое государство, потерпевшее поражение в указанном сражении, на части территории которого в настоящее время расположена современная Калининградская область?	
Укажите, под каким названием данное сражение известно в Польше, Беларуси и России?	
Назовите современное государство, на территории которого более 600 лет назад произошло указанное сражение?	
Укажите, кто из указанных исторических деятелей не принимал участие в сражении? Ян Жижка, Ягайло, Витовт, Дмитрий Донской, Ульрих фон Юнгинген, Тохтамыш.	

Количество баллов – 9.

Задание 10. Расположите территориальные приобретения России XVI – XVII веков в хронологической последовательности. Внесите буквенные обозначения событий в хронологическом порядке в приведенную таблицу.

- А. Присоединение Казанского ханства
- Б. Присоединение Левобережной Украины
- В. Присоединение Азова
- Г. Присоединение Астраханского ханства
- Д. Присоединение Сибирского ханства

--	--	--	--	--

Количество баллов – 8.