


**ОЛИМПИАДНЫЕ ЗАДАНИЯ ПО
ОТЕЧЕСТВЕННОЙ ИСТОРИИ
8 КЛАСС**

<i>1</i>	<i>2</i>	<i>3</i>	<i>4</i>	<i>5</i>	<i>6</i>	<i>7</i>	<i>8</i>	<i>9</i>	<i>10</i>	<i>тог и</i>

1. Внимательно рассмотрите картину. Прочитайте утверждения и ответьте на них да» или «нет». (10 баллов).



1. На картине изображена процедура сбора дани _____
2. На картине изображен крылатый гусар. _____
3. В период, изображенный на картине, правил Алексей Михайлович. _____
4. В период, изображенный на картине, Новгородская земля подверглась интервенции. _____
5. Эту картину написал С.Иванов. _____

2. Задания на соотнесение двух рядов данных. (5 баллов)

- 1) Армяк -
- 2) Ярмарка -
- 3) Плюмаж -
- 4) Фреска -

- 5) **Бортничество** -
- 6) **Монополия** -
- 7) **“ЖИТЬИ ЛЮДИ”**
- 8) **Аркебуза** -
- 9) **Конкиста** -
- 10) **Форт** -

А) - первоначально сбор меда диких пчел из естественных дупел, затем – разведение пчел в выдолбленных дуплах.

Б) - слой средних землевладельцев в Новгородской республике.

В) - форма живописной росписи стен, когда краски наносятся на сырую штукатурку.

Г) - грамота на исключительные права по производству и продаже определённых товаров, или пользование чем-либо.

Д) - фитильное дульнозарядное ружьё, заряжавшееся с дула, один из первоначальных образцов ручного огнестрельного оружия с первой трети XV века.

Е) - испанское завоевание земель в Новом Свете.

Ж) - украшение из перьев на головных уборах и конской сбруе.

З) - замкнутое военное укрепление (самостоятельно или в составе крепости).

И) - торг, который регулярно устраивается в определённое время в определенном месте.

К) - кафтан из толстого сукна.

3. (10 баллов)

А) Объяснение ПРОИСХОЖДЕНИЯ выражений (фразеологизмов)

«Ходить козырем»

Б)

«Кисейная

барышня»

-

4. Ряды на определение принципа их построения. (5 баллов)

А) По какому принципу образован ряд: «стригольничество», «жидовствующие», «нестяжатели» -

Б) «Русская правда», «Правда Ярославичей», «Устав Владимира Мономаха», «Новгородская судная грамота»-

5. Ряды «на исключение». (5 баллов)

Исключите лишний элемент из предложенной ниже цепочки с объяснением:


А) Аристотель Фиораванти, Алевиз Новый, Марко Руффо, Бон Фрязин, Пьетро Антонио Солари, Джакомо Кваренги
_лишний -

Б) битва на реке Пьяне, битва при Молодях, стояние на реке Угре, Куликовская битва, Грюнвальдская битва
лишний _____

6. Хронологические последовательности. (6 баллов)

Расположите в хронологической последовательности и напишите название памятника:

1.



2.




3.



4.





5.

Цепочка _____

7. Текст с пропусками. (10 баллов)

Вставьте утерянные фрагменты текста.

Пришла осень. И вспомнил Олег о коне своем, которого когда-то не велел седлать себе, потому что на вопрос его _____ и кудесникам “От чего предстоит мне умереть?” — один кудесник отвечал:

- Умрешь ты, князь, от _____, которого любишь и на котором ездешь.
_____ подумал и сказал:

- Не сяду на него никогда, видеть его больше не стану! Велел он коня _____, _____, а к себе не водить. Было это еще до похода Олега в _____. Так и не видал он коня своего несколько лет. Ходил на _____, вернулся, прожил в Киеве еще четыре года, а на пятый вспомнил о _____. Позвал старшего конюха:

- Где конь, которого я велел поставить на покой, кормить, блюсти?

- Умер, — отвечал конюх.

Посмеялся Олег и с укором промолвил:

- Врут же _____! Конь умер, а я жив! Хочу видеть _____ его! — прибавил он.

Поехал на место, где лежали кости, слез с седла, ступил на голову коня.

- От этого лба, что ли, смерти мне ждать? — посмеялся он. Но из конской головы выползла _____ и ужалила князя. Олег разболелся и умер.

8. Таблица. (25 баллов)

Перед вами отрывки из законодательных актов. Заполните таблицу. 20 баллов. Под каждым портретом подпишите имя монарха. 5 баллов

Номер отрывка	Номер с изображением монарха (князя)	с монарха	Год принятия документа,
---------------	--------------------------------------	-----------	-------------------------

		название
1		
2		
3		
4		
5		

Отрывки:

2. Которые государевы дворцовых сел и черных волостей крестьяне и бобыли, выбежав из государевых дворцовых сел и ис черных волостей, живут за патриархом, или за митрополиты, и за архиепископы, и епископом, или за монастыри, или за бояры, или за околничими и за думными и за комнатными людьми, и за стольники и за стряпчими и за дворяны московскими, и за дьяки, и за жильцы, и за городовыми дворяны и детьми боярскими, и за иноземцы, и за всякими вотчинники и помещики, а в писцовых книгах, которые книги писцы подали в Поместной в и(ы)ные приказы после московского пожару прошлого 134-го году, те беглые крестьяне, или отцы их написаны за государем, и тех государевых беглых крестьян и бобылей сыскивая свозити в государевы дворцовые села и в черные волости, на старые их жеребьи по писцовым книгам з женами и з детьми и со всеми их крестьянскими животы без урочных лет.

2. О переходе крестьян. Крестьянам разрешается переходить их волости в волость, из села в село лишь в течение одного срока в году: за неделю до осеннего Юрьева дня (26 ноября) и в течение недели после осеннего Юрьева дня. За пользование двором крестьяне платят в степной полосе рубль, а в лесной - полтину. Если крестьянин проживет у господина год, то при уходе он платит четверть стоимости двора, если два года - половину стоимости двора, три года - три четверти, а за четыре года он уплачивает стоимость всего двора.

3. Холопство полное — трех родов: первое, когда кто купит человека, хотя бы и за полгривны, и поставит свидетелей, а отдаст ногату при самом холопе. А второе холопство, когда кто женится на рабе без всякого условия, а если женится с условием, то он остается на тех правах, как было условлено. А вот третье холопство, когда кто без условия же пойдет в тиуны или в ключники; если же было заключено условие, то остается на тех правах, как было условлено.


4. Крестьянам разрешается переходить из волости в волость и из села в село раз в году: за неделю до и неделю после осеннего Юрьева дня. За дворы

пожилое платить: в полевой местности за двор рубль и два алтына, в лесной местности, за десять верст до строевого леса, за двор полтина и два алтына. Владельцу земли за уход платить: за год стоимость четверти двора, за два года - полдвора, за три года - три четверти, за четыре года стоимость двора - рубль и два алтына. Пожилое взимать с ворот, а за отъезд брать со двора по два алтына; кроме этого никаких пошлин не брать. Если у крестьянина останется посеянный озимый хлеб, как только он его уберет, или не с убранного, должен заплатить с бороны два алтына. Если посеяна была рожь в его земле, он должен платить подать Царю и Великому Князю со ржи, а боярину, на чьей земле он жил не платить ничего. Священнику пожилого не платить. Если крестьянин продастся кому-либо в полные холопы, он уходит в любое время и пожилого не платит; если же у него останется посеянный хлеб, он должен с него заплатить подать Царю и Великому Князю, а не будет платить подать, он лишается всего урожая.

5. Которые крестьяне от сего числа пред сим за 15 лет в книгах 101 [1592] году положены, и тем быть за теми, за кем писаны; а буде те крестьяне вышли за кого инаго, и в том есть на крестьян тех или на тех, кто их держит, челобитье, и те дела не вершены, или кто сентября по 1 число сего года будет бить челом, и тех крестьян отдавати по книгам со всеми их животы тем, за кем они писаны, да сроку Рождества христова 116 [1608] года без пожилаго; а не отдаст кто на тот срок, ино на нем брати за прием и пожилое по сему уложению; а не было о которых крестьянах челобитья по сей день, и сентября по 1 не будет, и тех после того срока по тем книгам не отдавати, а написати их в книги за кем они ныне живут, и впредь за пятнадцать лет о крестьянах суда не давати, и крестьян не вывозити [не возвращати].

А буде которые отныне и за кого вышел перейдут к иному кому бы то ни было, и тот примет противо сего нашего соборного уложения и у того крестьянина взяв, перевести ему со всеми того крестьянина пожитки, откуда он перебежал; а двор, есть ли тот крестьянин строил, заплатить чего судит, а двора не возити; да с него же на государя царя за то, что принял противо уложения, доправити 10 рублев, не принимай чужаго, да с него же за пожилое тому, чей крестьянин, за двор на всякий год по три рубли, и за холостого тоже на год по три рубли..

Изображения монархов



1.



2.



3.



4.



5.

9. Региональная история. (10 баллов)

На новгородской жили и служили многие замечательные люди. Перед нами портреты новгородских губернаторов. Именем одного из них назван канал, именем другого долго называлась часть набережной. Фамилия еще одного губернатора легла в основу слова «архаровцы» (правда, с годами это

слово поменяло свое значение). Занимал пост генерал-губернатора и участник Семилетней и русско-турецкой войны 1768 – 1774 гг, последний представитель обрусевшего шотландского клана. А один из представленных губернаторов был историком-археологом, отцом генерал-губернатора Восточной Сибири, основателя Хабаровска и Владивостока.

Подпишите фамилию губернаторов под портретом, кратко напишите к кому относятся подсказки (Канал – название, набережная – название, «архаровцы» - значение, участник войн, историк и отец)

Портреты:



А

Фамилия _____



Б

Фамилия _____



В _____ Фамилия _____



Г _____ Фамилия _____



Д _____
Фамилии: _____
