

**ВСЕРОССИЙСКАЯ ОЛИМПИАДА ШКОЛЬНИКОВ
ПО ИСТОРИИ. МУНИЦИПАЛЬНЫЙ ЭТАП. 8 КЛАСС.**

ФИО участника _____

Школа _____

Класс _____

Задание 1. Выберите и занесите в таблицу по 1 верному ответу в каждом задании (2 балла за каждый правильный ответ, максимальный балл – 8):

1.1. Какими делами ведал Поместный приказ?

- а) Занимался распределением дворян и бояр на царскую службу б) Ведал земельными пожалованиями и сбором налогов с поместий и вотчин в) Отвечал за быструю и надежную почтовую связь г) Ведал дворцовым хозяйством и имуществом царя

1.2. Кто из представленных политических деятелей возглавлял комиссию по подготовке и составлению Соборного уложения 1649 г.?

- а) А. Л. Ордин-Нащокин б) Б. И. Морозов в) Н. И. Одоевский г) А. С. Матвеев

1.3. Определите государственный орган Российского государства, который по своим полномочиям и составу, был сопоставим с Генеральными штатами во Франции.

- а) Боярская дума б) Приказы в) Земский собор г) Синод

1.4. В 1708 г. при Петре I была проведена Областная реформа, в результате которой страна была разделена на восемь губерний. Определите административно-территориальную единицу, которая не входила в их число.

- а) Мурманская б) Архангелогородская в) Смоленская г) Киевская

1.1.	1.2.	1.3.	1.4.



Задание 2. По какому историческому критерию образованы ряды (2 балла за каждый ряд, всего за ответ 6 баллов).


1. титулярный советник, коллежский асессор, фендрик, шталмейстер. _____

2. 1497, 1550, 1649. _____

3. доля, золотник, лот, берковец. _____

Задание 3. Перед вами портреты российских правительниц XVII-XVIII столетия. Укажите Имя и Отчество персоналий, указанных на портретах, соотнесите их с цифрой в таблице, если они совпадают, укажите порядковый номер (по 2 балла за каждый правильный ответ), также соотнесите события, произошедшие во время их правления (внесите цифры в соответствующий столбец). По 2 балла за правильный ответ, всего – 30 баллов

1.		2.		3.	
----	---	----	---	----	---



1. Ясский мирный договор 2. Постройка «Ледяного дома» 3. Бироновщина 4. Жалованная грамота городам 5. 12 статей против старообрядцев 6. Вечный мир с Польшей 7. Создание Верховного Тайного совета 8. Учреждение Московского университета 9. Низложение регентства Бирона 10. Пугачевщина 11. Деятельность Уложенной комиссии 12. Отмена внутренних таможенных пошлин

	Персоналия	События
1		
2		
3		
4		
5		
6		

Задание 5. Соотнесите элементы правого и левого столбцов таблицы. В перечне справа есть лишняя характеристика (по 3 балла за каждое соответствие, максимальный балл – 12).

1. Георгиевский трактат	А. Крым объявлялся независимым от Турции
2. Кучук-Кайнарджийский договор	Б. Под протекторат России добровольно отходила Восточная Грузия
3. Прутский договор	В. Раздел Польши
4. Венская конвенция 1772 года	Г. Россия возвращала Турции Азов
	Д. Россия не имела права иметь военный флот на Черном море

1	2	3	4

Задание № 8. Внесите в таблицу события, изображенные на картинах, расположив их в хронологическом порядке (правильный порядок картин – 6 баллов, верное наименование события – 2 балла, максимальный балл – 24).




1. Напишите название войны, ход которой указан на карте.
2. Напишите название города, указанного под цифрой 4.
3. Укажите год взятия данного города (цифра 4).
4. Назовите имя короля, правивший в государстве под цифрой 6.
5. Напишите название города под цифрой 1.
6. Укажите название битвы под цифрой 7.
7. Назовите сражение под цифрой 2, получившее название "Мать Полтавской баталии".
8. Укажите год сражения, указанной под цифрой 5.
9. Напишите название города под цифрой 3, в котором был заключен мирный договор.

1	4	7
2	5	8
3	6	9

Задание 9. Ученик подготовил иллюстративный материал для презентации по теме: «Российская архитектура XVIII вв.». Но учитель обнаружил среди представленных иллюстраций, памятники архитектуры, которые нельзя отнести к данному периоду. Помогите ученику исправить ошибки. Отберите верные иллюстрации и подпишите представленные на них памятники архитектуры. Ответ внесите в таблицу, выписав порядковые номера нужных иллюстраций с названием изображенных памятников (*за каждый правильный ответ – 4 балла, максимальный балл – 20*).



1



2



3



4




5



6



7



8

№ иллюстрации	Название памятника