

**ВСЕРОССИЙСКАЯ ОЛИМПИАДА ШКОЛЬНИКОВ ПО ИСТОРИИ**  
**2021/2022 УЧЕБНЫЙ ГОД**  
**МУНИЦИПАЛЬНЫЙ ЭТАП**  
**ЗАДАНИЯ**  
**7 КЛАСС**

Максимальное количество баллов за этап - 100 баллов.

**1. [3 балла]**

**В заданиях дайте один верный ответ, внесите его в таблицу в бланке ответов.**

**1.1.** В каком году произошли описанные в приведённом тексте события?

«Трубы трубятъ въ Новѣградѣ, стоять стязи въ Путивлѣ, Игорь ждётъ мила брата Всеволода. И рече ему Буй Туръ Всеволодь: «Одинъ братъ, одинъ свѣтъ светлый - ты, Игорю! Оба есвѣ Святъславличя! Сѣдлай, брате, свои бръзьи комони, а мои ти готови, осѣдлани у Курьска напереди».

- |         |         |
|---------|---------|
| 1) 1185 | 4) 1380 |
| 2) 1174 | 5) 1480 |
| 3) 1237 | 6) 1500 |

**1.2.** Прочитайте текст и укажите имя князя, приказавшего совершить описанные действия.

«А князя великого Василия в понедельник к ночи, на мясопустной неделе, 14 февраля, привели на Москву и посадили его на ... дворе, а сам князь **(ИМЯ)** стал на Поповкином дворе. В среду на той же неделе вечером ослепили великого князя и сослали его с княгиней на Углич, а мать его, великую княгиню Софью, послали на Чухлому».

**1.3.** В каком городе правил князь, о котором идёт речь в отрывке? «Блаженный, приснопамятный и боголюбивый великий князь Михаил был сыном великого князя Ярослава, внуком же великого князя блаженного Ярослава Всеволодича, скончавшегося тяжкою смертью в Орде за христиан. Родился же он от блаженной, воистину преподобной матери, великой княгини Ксении; и воспитала его святая та и премудрая мать в страхе Господнем и научила святым книгам и всякой премудрости».

- |                    |            |
|--------------------|------------|
| 1) Москва          | 3) Суздаль |
| 2) Нижний Новгород | 4) Тверь   |

**2. [9 баллов]**

**В заданиях выберите несколько верных ответов из предложенных. Ответы**

---

*Не забудьте перенести Ваши ответы в бланк работы!*

**внесите в таблицу.**

**2.1.** Укажите верные утверждения.

- 1) Перикл - афинский полководец в битве при Марафоне.
- 2) Прокопий Кесарийский - автор эпической поэмы «Энеида».
- 3) Траян - император, при котором территория Рима достигла максимальных размеров.
- 4) Октавиан Август - император, переименовавший месяц секстилий в свою честь.
- 5) Каракалла - император, даровавший всем жителям Римского государства гражданство.
- 6) Тулл Гостилий - основатель города Рима.

**2.2.** Кто из этих исторических деятелей был правителем какого-либо государства в XIII веке?

- 1) Алексей Комнин I
- 2) Михаил VIII Палеолог
- 3) Александр Невский
- 4) Карл V Габсбург
- 5) Дмитрий Боброк-Волынский
- 6) Иоанн Безземельный

**2.3.** Выберите факты, связанные с религиозной жизнью Европы в XVI-XVII вв.

- 1) разрыв между Восточной и Западной христианскими церквями
- 2) авиньонское пленение пап
- 3) вестфальский мир
- 4) крестоносное движение
- 5) появление «Индекса запрещённых книг»
- 6) создание ордена иезуитов

**3. [3 балла]**

**Кто или что лишнее в ряду? Свой ответ поясните.**

**3.1.** Даниил Романович, Дмитрий Иванович, Константин Всеволодович, Юрий Данилович, Ярослав Ярославич.

**3.2.** «Дюденева рать», «Куремсина рать», «Неврюева рать», «Федорчукова рать».

**3.3.** Дмитров, Новгород-Северский, Переяславль-Залесский, Ростов, Суздаль.

---

***Не забудьте перенести Ваши ответы в бланк работы!***

**4. [6 баллов]**

**Что с исторической точки зрения объединяет перечисленные в каждом ряду элементы. Дайте максимально точный ответ.**

**4.1.** Тамплиеры, госпитальеры, тевтонцы.

**4.2.** Вестготская правда, Русская правда, Судебник Ивана III.

**5. [5 баллов]**

**Расположите события в хронологической последовательности. Ответы запишите в таблицу.**

**1.** Провозглашение Оттона I императором Римской империи.

**2.** Раскол христианства на западную и восточную ветви.

**3.** Первый созыв Генеральных штатов во Франции.

**4.** Крестовый поход в степь русских князей.

**5.** Гибель князя Святослава Игоревича.

**6. [12 баллов]**

**Перед вами перечень событий, произошедших в трёх разных веках. Определите и укажите века в верхней строке таблицы, в нижней строке отметьте события, относящиеся к этому столетию.**

**1.** Объединение Испании в единое королевство.

**2.** Клермонский собор.

**3.** Детский крестовый поход

**4.** Казнь Жанны д'Арк

**5.** Окончательный разгром печенегов войсками киевского князя.

**6.** Битва на реке Шелони

**7.** Битва на реке Калке.

**8.** Любеческий съезд князей.

**9.** Невская битва.

**7. [10 баллов]**

---

***Не забудьте перенести Ваши ответы в бланк работы!***

**Определите пропущенные в тексте названия, слова, имена, даты, обозначенные порядковыми номерами. При необходимости при порядковых номерах даются пояснения о характере требуемой вставки. Варианты вставок даны в единственном числе, именительном падеже. Обратите внимание: среди предлагаемых вставок есть «лишние» элементы.**

В (1) году началось вторжение монгольских сил на территорию Руси. Войска хана (2) покорили (3 - княжество), а затем вторглись на территорию Суздальской земли. Несмотря на то, что здесь (2) встретил самое упорное сопротивление за всё время военных походов на Руси, многие города были разорены, а владимирский князь (4) погиб в битве на реке (5) весной (6) года. Татары повернули в сторону города (7), однако до самого города они не дошли и, разорив Торжок, вернулись в степи. В (8) году монгольские войска двинулись на территории Южной Руси. В кратчайшие сроки был взят (9), разорены Галицкая и Волынская земли. После этого татарские войска огнём и мечом прошли по ряду европейских стран и, как полагают исследователи, лишь известие о смерти хана (10 - имя хана Монгольской империи)

заставило (2) прекратить поход и повернуть назад.

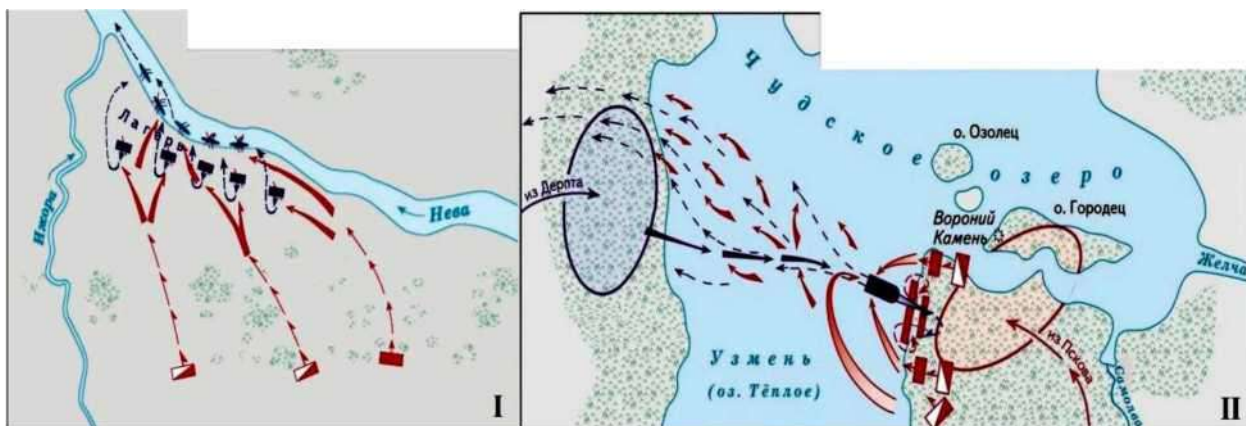
Варианты для пропусков 1, 6, 8	Варианты для пропусков 2, 4, 10	Варианты для пропуска 3	Варианты для пропуска 5	Варианты для пропусков 7, 9
1236	Тохта	Московское	Вожа	Суздаль
1237	Батый	Новгородское	Сить	Киев
1238	Юрий Всеволодович	Нижегородское	Колоча	Владимир
1239	Ярослав Всеволодович	Галицко-Волынское	Пьяна	Козельск
1240	Чингисхан	Рязанское	Дон	Юрьев-Польский
	Угедей			Новгород

---

***Не забудьте перенести Ваши ответы в бланк работы!***

## 8. [9 баллов]

Перед вами карты, посвящённые двум знаковым для истории России сражениям. Ознакомьтесь с ними и выберите верные утверждения из предложенных.



- 1) В приведённом фрагменте источника речь идёт о сражении, изображённом на схеме II: «И помчались вслед за безбожным царём, и едва смогли догнать его в Суздальской земле. И внезапно напали на отдыхавшее войско вражеское, и начали сечь без милости, и внесли смятение во все их полки. Евпатий так бился беспощадно, что и мечи притупились, и выхватывал он мечи вражеские, и рубился ими, на полном скаку сражался с сильными полками и бил их беспощадно. И сражался с войсками вражескими так храбро и мужественно, что и сам царь испугался.»
- 2) В сражениях, изображённых на схемах, командовал князь, представленный на картине.



- 3) Ближайшим последствием сражений, изображённых на схемах I и II, стали

---

**Не забудьте перенести Ваши ответы в бланк работы!**

события, описанные в источнике: «И начали они биться, и погнали новгородцы москвичей за Шелонь-реку, но ударил на новгородцев засадный полк, и погибло новгородцев много, а иные побежали, а других похватали, а прочих в плен увели и много зла причинили.»

4) Представленная ниже юбилейная монета связана с годовщиной сражения, изображённого на схеме II.



5) Событие, описанное в историческом источнике, произошло спустя сто сорок лет после битвы, изображённой на схеме I: «И вот двинулась великая рать, все силы вражеские. А с нашей стороны - князь великий, испросив благословения у преподобного Сергия, изготовив полки, пошёл против поганых врагов со всею ратью своею».

6) Исторический деятель, представленный на изображении, был потомком князя, принимавшего участие в битве, изображённой на схеме I.



7) Предысторию сражения, показанного на схеме II, отражает следующий фрагмент исторического источника: «Вот уже заскрипели телеги, идут враги на Русскую землю! То не серые волки были - пришли поганые враги, хотят пройти войной всю Русскую землю. То Мамай пришёл на Русскую землю и воинов своих привёл».

8) На марке изображён правитель, младший сын князя, командовавшего русскими

---

***Не забудьте перенести Ваши ответы в бланк работы!***

войсками в битве, изображённой на схеме I.



9) В приведённом фрагменте источника речь идёт о сражении, изображённом на схеме II: «Когда взошло солнце, сошлись противники. И была сеча жестокая, и стоял треск от ломающихся копий и звон от ударов мечей, и казалось, что двинулось замёрзшее озеро, и не было видно льда, ибо покрылось оно кровью...»

#### 9. [10 баллов]

**Прочитайте фрагмент исторического источника и выполните задания.**

В год... Пришли Святополк, и Владимир, и Давыд Игоревич, и Василько Ростиславич, и Давыд Святославич, и брат его Олег и собрались на совет в Любече для установления мира, и говорили друг другу: «Зачем губим Русскую землю, сами между собой устраивая распри? А половцы землю нашу несут розно и рады, что между нами до сих пор идут войны. Да отныне объединимся чистосердечно и будем блюсти Русскую землю, и пусть каждый владеет отчиной своей: Святополк - Киевом, Изяславовой отчиной, Владимир - Всеволодовой, Давыд и Олег и Ярослав - Святославовой, и те, кому Всеволод роздал города: Давыду - Владимир, Ростиславичам же: Володарю - Перемышль, Васильку - Теробовль». И на том целовали крест: «Если отныне кто на кого пойдет, против того будем мы все и крест честной». Сказали все: «Да будет против того крест честной и вся земля Русская». И попрощавшись, пошли восвояси.

---

***Не забудьте перенести Ваши ответы в бланк работы!***

**Вопросы:**

**9.1.** Укажите год, когда происходили события, описанные в тексте источника.

**9.2.** Укажите имя и отчество князя, правившего на момент описанных в источнике событий в Киеве (в ответе запишите два слова через пробел без дополнительных знаков и символов).

**9.3.** Укажите прозвище упомянутого в источнике князя Владимира (в ответ запишите одно слово без дополнительных знаков и символов).

**9.4.** Укажите прозвище упомянутого в источнике князя Олега.

**9.5.** Какие последствия имел принятый на съезде принцип «каждый владеет отчиной своей»? Выберите верные утверждения.

А) Принцип закрепил и лишь усилил политическую раздробленность, которая в это время уже начала складываться на Руси.

Б) Принцип остановил раздробление государства и укрепил его внутреннее единство.

В) Установление этого принципа сделало Киев самым политически значимым городом Руси.

Г) Принцип привёл к усилению городов, которые находились в составе княжеских вотчин вдали от Киева.


**10. [20 баллов]**

**Вглядитесь в фотографии скульптурных портретов, представленные ниже, и ответьте на вопросы.**

1)



2)



---

**Не забудьте перенести Ваши ответы в бланк работы!**



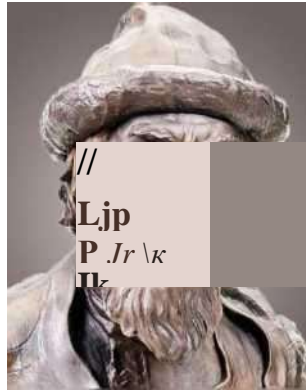
3)



4)



5)



6)



### Вопросы:

**10.1.** Назовите имена и прозвища (фамилии) тех, кому принадлежат эти портреты.

**10.2.** Укажите время жизни каждого из них (с точностью до десятилетия).

**10.3.** Из изображенных здесь личностей выберете тех, кто находится в близком родстве, и составьте генеалогическую схему.

**10.4.** Кто из изображенных здесь личностей оказался последним представителем своей династии? (отметьте номер его портрета).

**10.5.** Кто из изображенных здесь личностей не являлся правящим монархом? (отметьте номер его портрета).

**10.6.** Кто из изображенных здесь личностей не правил в тогдашней столице Руси? (отметьте номер его портрета).

### 11. [13 баллов]

**Решите исторический кроссворд на знание терминов, имен и событий истории Амурской области.**

*По горизонтали:*

1. Первый Приамурский генерал-губернатор.

2. Землепроходец, в 1643 году он возглавил экспедицию на Амур.

---

**Не забудьте перенести Ваши ответы в бланк работы!**

3. Первое поселение русских людей на реке Амур, основанное в 1650 году.
4. Историческое имя эвенка.
5. Этот договор устанавливал границу между Россией и империей Цин.
6. Народ, который русские землепроходцы называли «оседлыми тунгусами».
7. Потомки мохэ, известные в Приамурье с IX века.

*По вертикали:*

8. В 1858 году ему был пожалован титул графа Амурского.
9. Крестьянин, родом из г. Великий Устюг, в 1649-1669 гг. совершил несколько походов в Приамурье.
10. Историко-географическая область на юге Дальнего Востока России, включающая в себя часть Хабаровского края, Еврейскую и Амурскую области.
11. Громатухинская культура в Приамурье характеризует этот период человеческой истории.
12. Ископаемый подвид людей, проживавший на территории нашей области 400-300 тыс. лет назад.
13. Маньчжурский город в котором был подписан договор о разграничении территорий.

---

***Не забудьте перенести Ваши ответы в бланк работы!***