

**Муниципальный этап Всероссийской олимпиады школьников  
по истории  
2021-2022 учебный год**

**7 класс**

<b>Номер задания</b>	<b>Полученные баллы</b>	<b>Член жюри</b>
1.		
2.		
3.		
4.		
5.		
6.		
7.		
8.		
9.		
10.		
<b>Общий балл</b>		

**Муниципальный этап всероссийской олимпиады школьников  
по истории  
2021-2022 учебный год  
7 класс  
Максимальный балл – 100.**

**Задание 1. Выберите по 1 верному ответу в каждом задании (Максимальный балл – 9).**

**1.1.** На каком княжеском съезде было принято решение «Каждый да держит отчину свою...».  
Укажите его название:

- 1) Саковский съезд
- 2) Долобский съезд
- 3) Любечский съезд
- 4) Городецкий съезд
- 5) Вышгородский съезд

**1.2.** В конце XX века археологи открыли «Страну городов». Где она расположена?

- 1) Среднее Поволжье
- 2) Западная Сибирь
- 3) Южный Урал
- 4) Северное Причерноморье
- 5) Крым

**1.3.** Прочитайте отрывок из стихотворения и определите, о каком правителе идет речь:

*«Подавлял повсюду восстанья...*

*Но ты глубже был патриот.*

*И побором сверх сбора дани*

*Подготавливал ты восход.*

*Правда, ты об этом не думал.*

*Лишь умел копить да копить.*

*Но, видать, исторически-умным*

*За тебя был твой аппетит».*

- 1) Игорь Старый
- 2) Ярослав Владимирович
- 3) Александр Ярославич
- 4) Иван Данилович
- 5) Василий Васильевич

**Ответ:**

1.1	1.2	1.3

**Задание 2. Выберите несколько верных ответов в каждом задании (Максимальный балл – 9).**

**2.1.** Укажите какие формы земельной собственности существовали в Московском государстве:

- 1) удел
- 2) феодал
- 3) бенефиций
- 4) вотчина
- 5) поместье
- 6) алод

**2.2.** Какие территории вошли в состав Московского княжества при Иване III:

- 1) Рязанское княжество
- 2) Тверское княжество
- 3) Псковская земля

- 4) Новгородская земля
- 5) Ростовское княжество
- 6) Белозерское княжество

**2.3.** Укажите памятники архитектуры, относящиеся к Новгородскому зодчеству:

- 1) церковь Иоанна Предтечи на Опоках
- 2) церковь Спаса на Нередице
- 3) церковь Всех Святых на Кулишках
- 4) церковь Спаса Преображения на Ильине улице
- 5) церковь Успения Пресвятой Богородицы на Покровке
- 6) церковь Покрова Пресвятой Богородицы на Нерли

**Ответ:**

2.1	2.2	2.3

**Задание 3. Что объединяет понятия, события образующие каждый из представленных рядов? Дайте краткий ответ (Максимальный балл – 6).**

**3.1.** Баскаки, тамга, выход, число, численник

---

**3.2.** Вече, Совет господ, посадник, тысяцкий, епископ

---

**3.3.** Сажень, аршин, локоть, пядь, вершок

---

**Задание 4. Определите хронологическую последовательность правления князей. Ответ запишите в виде последовательности цифр (Максимальный балл – 6).**

- 1) Иван Калита
- 2) Юрий Долгорукий
- 3) Дмитрий Донской
- 4) Иван III
- 5) Даниил Московский
- 6) Василий I

**Ответ:** \_\_\_\_\_

**Задание 5. Установите соответствие (Максимальный балл – 15):**

**5.1.** Установите соответствие между определениями и терминами:

- |                |  |
|----------------|--|
| 1) воевода     | а) глава городского самоуправления   |
| 2) сокольничий | б) глава военного и гражданского управления в городе   |
| 3) посадник    | в) один из старинных чинов княжеского двора, стоявший во главе всех учреждений военно-княжеской охоты    |
| 4) стряпчий    | г) придворный, прислуживавший за княжеским или царским столом  |
| 5) стольник    | д) Название некоторых должностных лиц, выполнявших различные хозяйственные обязанности при царском дворе |

**5.2.** Соотнесите персоналии, жившие в одно время:

- |                          |                     |
|--------------------------|---------------------|
| 1) Челубей               | а) Батый            |
| 2) Евпатий Коловрат      | б) Иван III         |
| 3) Владимир Мономах      | в) Пересвет         |
| 4) Марфа Посадница       | г) Нестор Летописец |
| 5) древлянский князь Мал | д) княгиня Ольга    |

**5.3. Соотнесите событие и дату:**

- |            |  |
|------------|--|
| 1) 1514 г. | а) присоединение Псковской земли   |
| 2) 1503 г. | б) присоединение Рязанского княжества                                    |
| 3) 1510 г. | в) включение Смоленской земли в состав Московского государства           |
| 4) 1521 г. | г) присоединение Тверского княжества к Московскому государству.          |
| 5) 1485 г. | д) присоединение Новгород-Северского княжества к Московскому государству |

**Ответ:**

	1	2	3	4	5
5.1.					
5.2.					
5.3.					

**Задание 6. Определите принцип образования ряда и укажите лишний элемент (Максимальный балл – 3):**

907, 911, 944, 971, 980.

**Ответ:**

Принцип	
Лишний элемент	

**Задание 7. Прочитайте отрывок из исторического документа и ответьте на вопросы (Максимальный балл – 24).**

Тому, кто установлен высшей и всемогущей, вседержащей рукой бога, которым цари царствуют, которым великие величаются и сильные пишут правду, – тебе, пресветлому, сидящему на высоком престоле государю великому князю, православному христианскому царю и владыке всех, управителю святыми божьими престолами святой вселенской и апостольской церкви, церкви пресвятой богородицы, честного и славного ее успения, которая просияла вместо римской и константинопольской.

Церкви старого Рима пали из-за неверия Аполлинариевой ереси; двери церковей второго Рима, города Константинополя, внуки Агари секирами рассекли. Теперь же это – третьего нового Рима, державного твоего царства святая соборная апостольская церковь, которая до края вселенной православной христианской верой по всей земле сильнее солнца светится. Пусть знает твоя держава, благочестивый царь, что все царства православной христианской веры сошлись в одно твое царство: один ты во всей поднебесной христианам царь.

И еще, царь, исполни две заповеди в твоем царстве... Не нарушай, царь, заповеди, которую положили твой прадед Константин, блаженный Владимир, великий богоизбранный Ярослав и другие блаженные святые, от корня которых и ты. Не обижай, царь, святых божьих церковей и честных монастырей, – того, что дано богу в наследство вечных благ, на память последнему роду.

Как выше писал тебе, так и теперь говорю: помни и слушай, благочестивый царь, – все христианские царства сошлись в твое единое, два Рима пали, а третий стоит, а четвертому не быть, твое христианское царство иным не заменится...

**Вопросы:**

1. К какому историческому деятелю адресовано послание?
2. Напишите автора послания.
3. Представленный документ стал основой новой концепции. Какое название она получила?

4. Объясните, кто такие «внуки Агари», что значит «секирами рассекли» Константинополь? Когда произошло это событие?
5. О каких исторических деятелях идет речь: «прадед Константин», «блаженный Владимир», «великий богоизбранный Ярослав»?
6. Объясните в чем заключается значение данного документа. Каков был его политический смысл?

**Ответ:**

1. \_\_\_\_\_
2. \_\_\_\_\_
3. \_\_\_\_\_
4. \_\_\_\_\_
5. \_\_\_\_\_
6. \_\_\_\_\_

**Задание 8. Заполните пробелы в тексте. Ответ оформите в виде перечня элементов под соответствующими номерами (Максимальный балл – 9).**

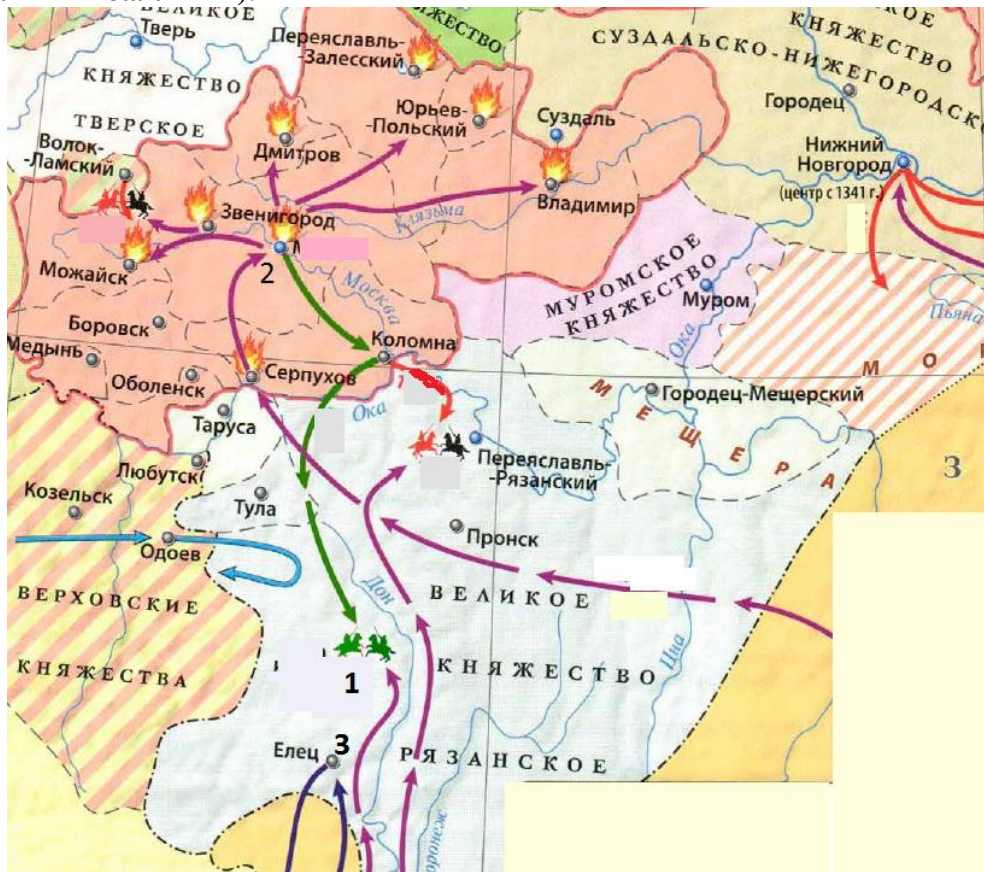
Почерк писцов Киевской Руси был прямым, правильным. Его называли \_\_\_\_\_ (1. термин). Текст на слова не разделялся, между буквами были примерно одинаковые расстояния. Нередко слова сокращались, в таких случаях над ними ставился специальный знак \_\_\_\_\_ (2. термин). Письмо на \_\_\_\_\_ (3. Название материала) занимало много времени. Чтобы написать книгу, требовались многие месяцы, а то и годы. Текст украшали \_\_\_\_\_ (4. термин)

Со времен Киевской Руси осталось мало книг. Древнейшей с той поры сохранившейся пергаментной книгой является \_\_\_\_\_ (5. Название книги). Ценнейшими произведениями древнерусской литературы являются летописи. Их авторами были преимущественно монахи или \_\_\_\_\_ (6. термин). Крупнейшим центром Руси, где велись летописи, был \_\_\_\_\_ (7 название монастыря). Здесь в начале XII века монах \_\_\_\_\_ (8. имя) осуществил свой грандиозный труд « \_\_\_\_\_ » (9 название).

**Ответ:**

№	Пропуск
1	
2	
3	
4	
5	
6	
7	
8	
9	

**Задание 9. Внимательно рассмотрите карту «Русь в XIV веке» и выполните задания (Максимальный балл – 12).**



Вопросы:

1. Под цифрой «1» на карте обозначено место сражения между русскими войсками и войсками Золотой Орды, которое произошло накануне Куликовской битвы. На какой реке произошло событие? Укажите год этого события. Кто возглавил русские войска? Кто возглавил войско Золотой Орды?
2. Под цифрой «2» на карте обозначен город, который подвергся разорению вскоре после крупнейшей победы на Куликовом поле. Укажите название города, год его разорения и имя хана, возглавившего поход. На какую уступку Золотой Орде вынужден был пойти князь Дмитрий Иванович после разорения города?
3. Под цифрой «3» на карте обозначен город, который оказал отчаянное сопротивление очередному набегу Золотой Орды. Укажите год набега и имя хана, который разорил этот город. Укажите дальнейшие планы хана после покорения ханом этого города. Почему его планы не были реализованы?

**Ответ:**

№	Ответ на вопрос
1	
2	

3	

**Задание 10. О каких архитектурных сооружениях говорится в тексте документа? Найдите эти сооружения в иллюстративном ряду, напишите их названия. При каком князе они были построены? (Максимальный балл – 7).**

«Князь Андрей и город Владимир неприступным сделал, к нему он ворота золотые соорудил, а другие – серебром отделал, и создал соборную каменную церковь в честь святой Богородицы, прекрасную весьма... и пять куполов ее вызолотил... И в Боголюбове, и в городе Владимире купола золотые поставил, и своды позолотил, и стены внутри камнем по злату осыпал, столбы позлатил, и снаружи ее и по сводам птиц золотых, и кубки, и паруса, из золота литые, поставил по церкви по всей и по сводам кругом».


**А.**



**Б.**



**В.**




**Г.**



Д.



Е.



Ответ:

Имя князя

Номер иллюстрации

Название сооружения