

**ВСЕРОССИЙСКАЯ ОЛИМПИАДА ШКОЛЬНИКОВ ПО ИСТОРИИ
МУНИЦИПАЛЬНЫЙ ЭТАП
2021–2022 УЧЕБНЫЙ ГОД**

7 КЛАСС

Задание 1. (2 балла)

Какой из перечисленных городов Московской области впервые упоминается в русских летописях раньше, чем Москва? Запишите в поле ответа букву, обозначающую этот город.

- А. Волоколамск
- Б. Дмитров
- В. Руза

Ответ: _____

Задание 2. (4 балла)

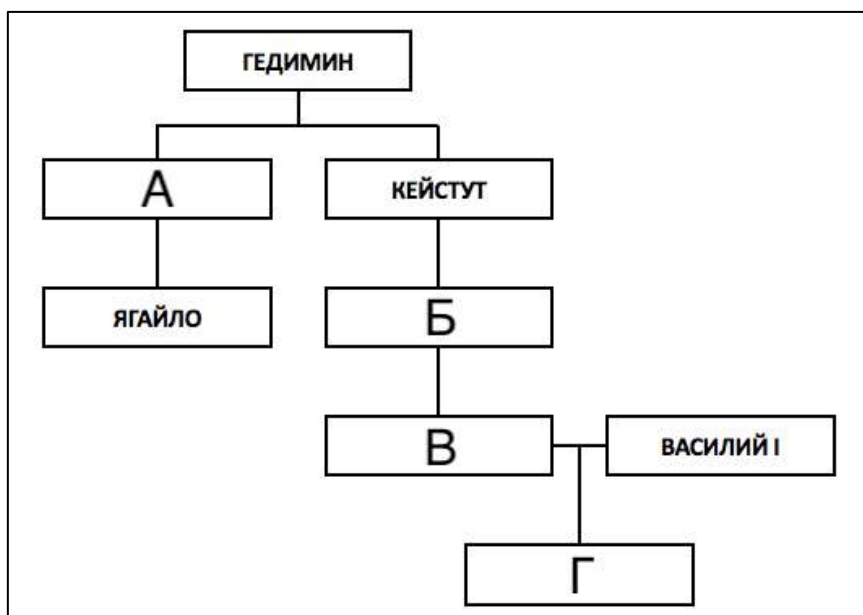
Какие из перечисленных событий относятся к периоду княжения в Киеве Владимира Святославича? Запишите в поле ответа буквы, обозначающие эти события.

- А. Строительство Десятинной церкви
- Б. Крещение Руси
- В. Учреждение уроков и погостов
- Г. Убийство Бориса и Глеба
- Д. Присоединение земель белых хорватов
- Е. Съезд князей в Любече
- Ж. Учреждение Киевской митрополии
- З. Битва на реке Сити

Ответ: _____

Задание 3. (4 балла)

Заполните пропуски в генеалогической схеме.



Ответ:

А – _____ Б – _____

В – _____ Г – _____

Задание 4. (4 балла)

Перед Вами перечень памятников архитектуры. Выберите те из них, которые можно отнести к готическому стилю, и в поле ответа впишите соответствующие буквы.

А. Собор Святого Павла в Лондоне
Б. Собор Парижской Богоматери
В. Собор Санта-Мария-дель-Фьоре
Г. Реймский собор

Е. Собор Святого Петра в Риме
Ж. Собор в Солсбери
З. Собор Святой Софии в Константинополе
И. Миланский собор

Ответ: _____

Задание 5. (8 баллов)

Владение исторической терминологией – то, без чего не может обойтись ни один историк. Ниже даны термины, которыми принято обозначать ряд событий/явлений отечественной истории. Определите, какие из этих терминов использовались современниками соответствующих событий/явлений, а какие были придуманы исследователями. Распределите соответствующие буквы по столбцам таблицы ответа.

А. «Крестово-купольный храм»
Б. «Феодальная война»
В. «Греческий огонь»
Г. «Новгородская республика»

Е. «Белые клобуки»
Ж. «Житийная икона»
З. «Регентство Елены Глинской»
И. «Языческая реформа Владимира»

Ответ:

Термины, которые использовались современниками событий/явлений	Термины, которые были придуманы позднее историками

Задание 6. (10 баллов)

Заполните пропуски в текстах утверждений о городах. Укажите названия всех городов, о которых идёт речь во фрагментах. Если город переименовывался, укажите современное название.

1. В этом городе в середине XV века при странных обстоятельствах ушёл из жизни Дмитрий (**А – прозвище**), внук Дмитрия Донского и участник (**Б – название**) войны. На территории этого города было найдено большинство (**В – каких?**) грамот – уникального источника информации о повседневной жизни средневекового человека.

2. Этот город стоит на реке (**Г – название**). В конце 1237 года его «предшественник» был уничтожен войсками (**Д – имя завоевателя**), современный город находится на месте неподалёку. В 1521 году он окончательно перешёл под власть Москвы.

3. В наши дни этот город находится на территории Белоруссии. В XI веке там был возведён (**Е – название**) собор – третий по счёту в Древней Руси. Тогда же, в XI столетии,

в городе правил князь, прозванный Чародеем – по преданию, за умение превращаться в (Ж – животное).

Ответ:

Пропуски (слова можно писать в любом падеже):

А	
Б	
В	
Г	
Д	
Е	
Ж	

Названия городов:

1	2	3

Задание 7. (12 баллов)

Перед Вами четыре ряда, в каждом из которых перечислено четыре элемента. Выберите лишний элемент в каждом ряду и кратко объясните, почему он не подходит к остальным.

7.1. Ангелы; Комнины; Палеологи; Плантагенеты.

7.2. Вятичи; половцы; словене ильменские; тиверцы.

7.3. Иван Купала, Масленица, Пасха, Святки.

7.4. Борона, кистень, рало, соха.

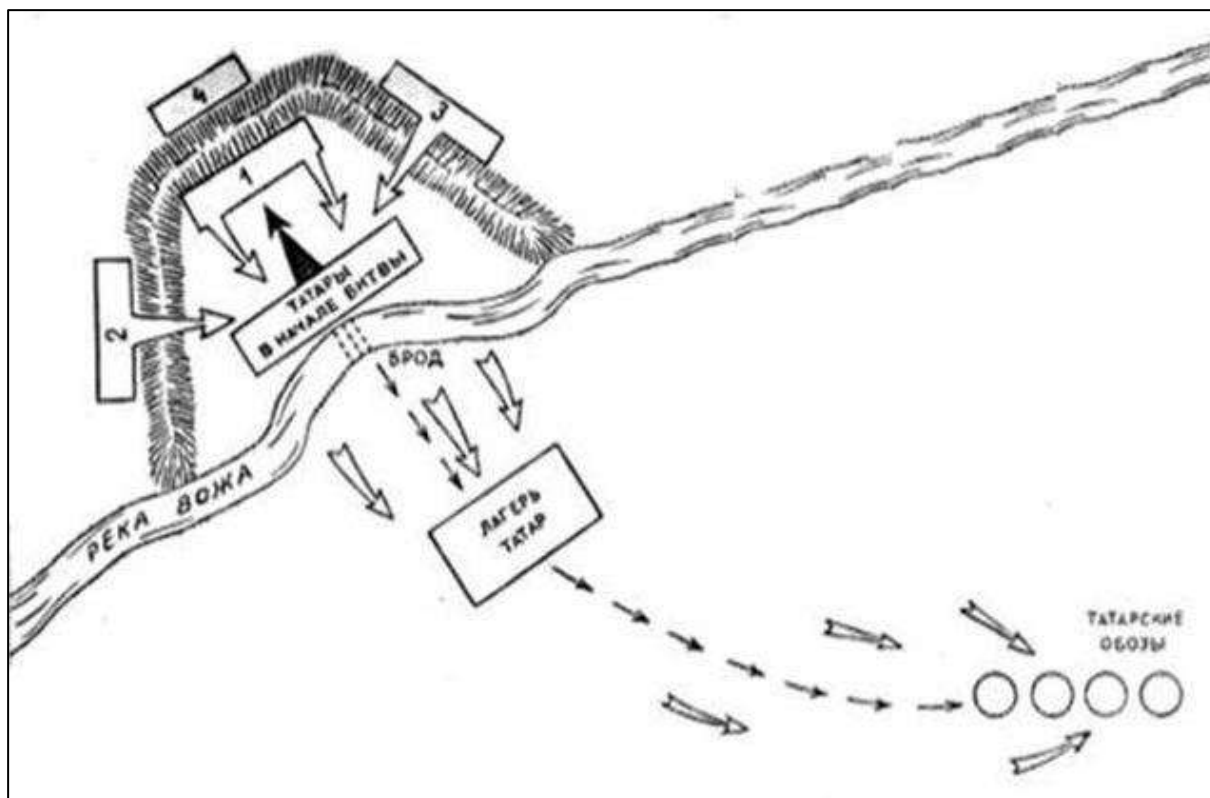
Ответ:

7.1.	Лишний элемент:
	Объяснение:
7.2.	Лишний элемент:
	Объяснение:
7.3.	Лишний элемент:

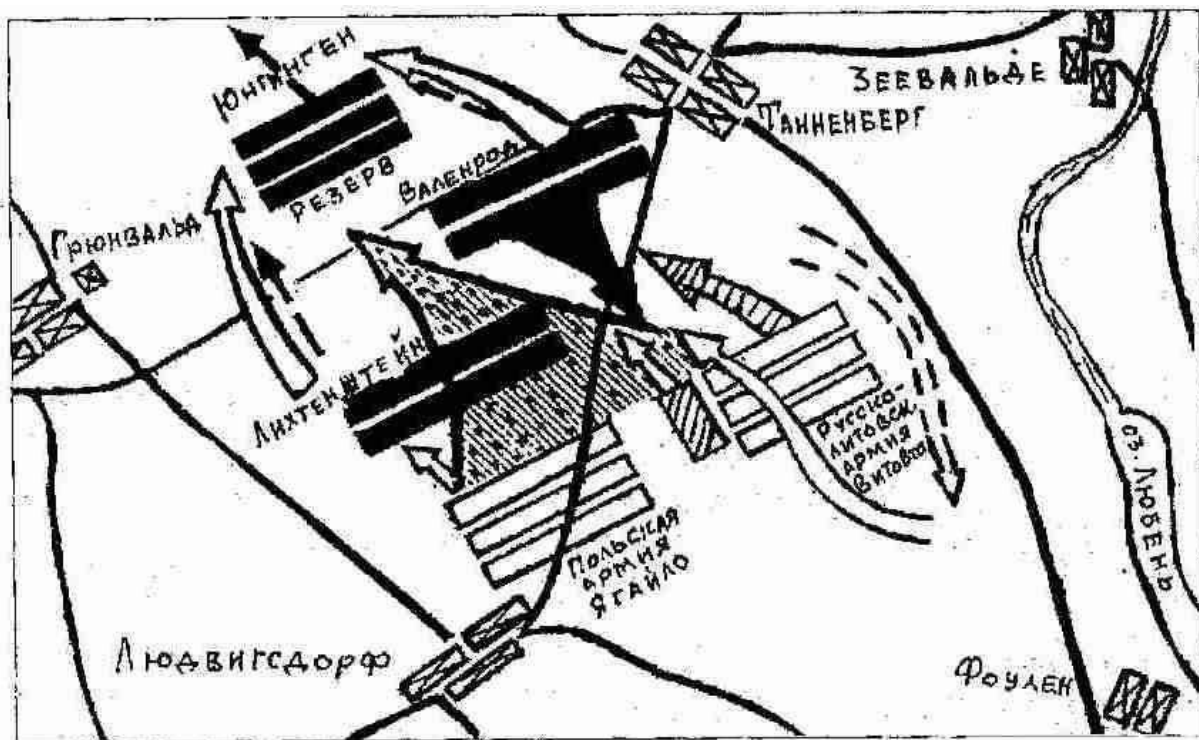
Объяснение:

Задание 8. (14 баллов)

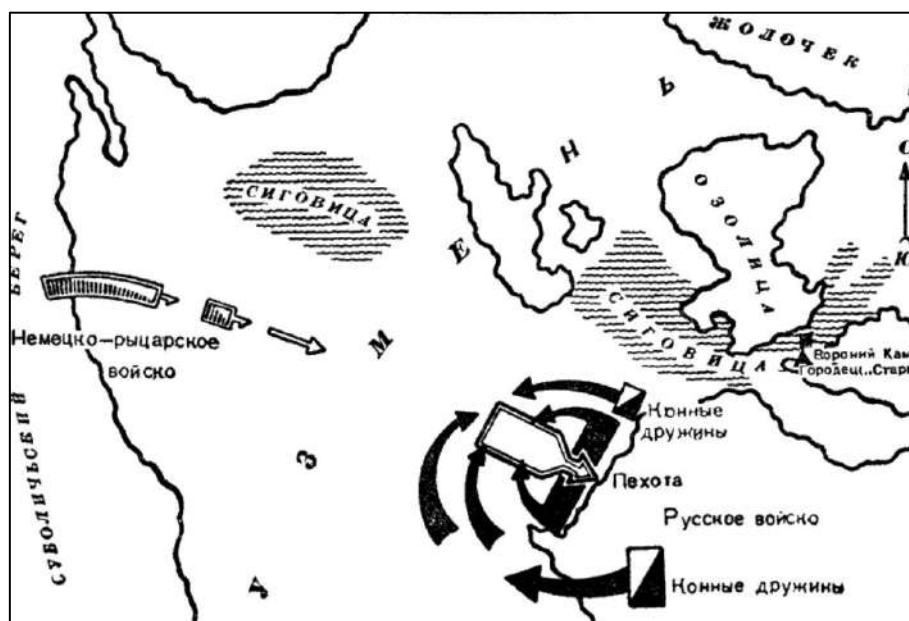
Перед Вами схемы четырёх эпизодов отечественной военной истории. Укажите век, в котором произошло каждое из показанных на схемах событий. Ниже дан перечень фактов, каждый из которых соответствует одному из этих событий. Распределите факты по событиям.



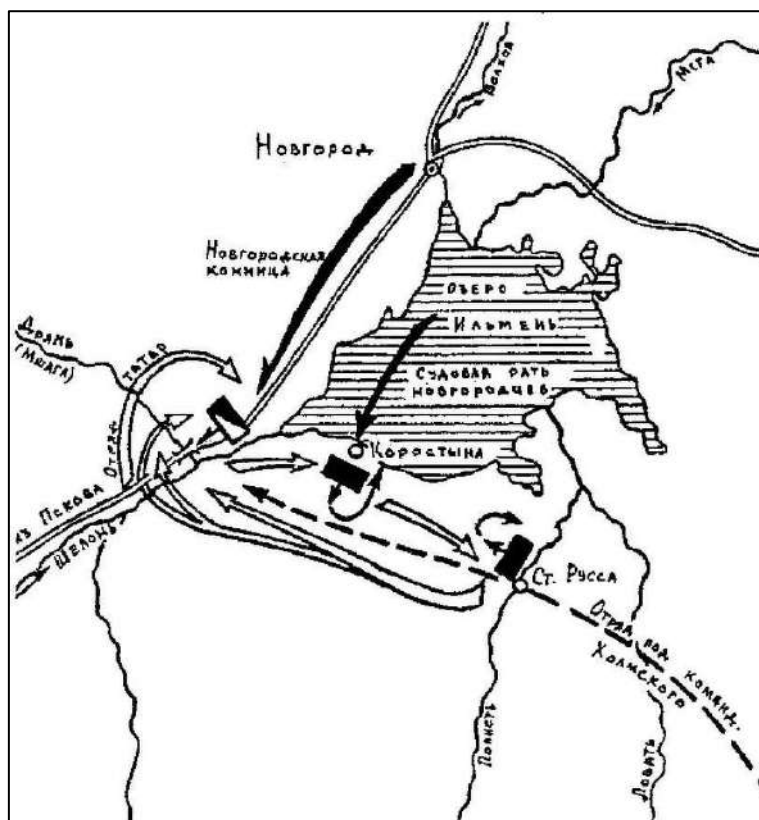
1



2



3



4

Факты:

- А. Участником события на схеме был родоначальник польской династии Ягеллонов;
- Б. Событие на схеме произошло на территории современной Рязанской области;
- В. Событие на схеме произошло в том же веке, что и смерть Чингисхана;
- Г. Событие на схеме относится к тому же десятилетию, что и нападение монгольских войск на Галицко-Волынское княжество;
- Д. В ходе события на схеме был убит магистр одного из германских рыцарских орденов;
- Е. В ходе события на схеме московскими войсками командовал один из лучших военачальников Ивана III;
- Ж. В ходе события на схеме в битве с русскими ратями погиб вражеский полководец Бегич;
- З. В ходе события одной из противоборствующих сил командовал сын Марфы-посадницы.

Ответ:

Схема	1	2	3	4
Век				
Факты (буквы)				

Задание 9. (10 баллов)

Перед Вами исторический источник XVII века. В письме своему руководителю иностранный чиновник отчитывается о сопровождении московского посольства в столицу страны. Внимательно прочитайте текст и выполните предложенные задания.

Посол только что прибыл в этот город, а я получил Ваш приказ, [в ответ] на который, сеньор, я Вам сообщаю, что посла сопровождает его сын, юноша 22 лет, для которого нет необходимости отводить отдельное помещение. В качестве заместителя посла прибывает канцлер, которого сопровождает столь пышная свита, что он [в этом отношении] мало отличается [от посла]. Пусть Ваше сиятельство прикажет определить ему соседнюю [с послом] комнату. В состав этих двух свит входят 16 благородных людей, которые обычно сидят за трапезой в одном помещении с послом и канцлером, однако за разными столами. Каждый из них [посол и канцлер] имеет при себе одного священника. В составе двух свит 44 человека, половина из которых – пажи и домашние слуги, а остальные – лакеи и повара.

В отношении еды могу сказать вашему сиятельству, что только один день они были недовольны [предложенной им] мясной пищей; они [охотно] ели жареное мясо по-испански, а тушеное мясо или по-итальянски, с сыром, или по нашему обычаю, с большим количеством лимона, хамон и [говяжий] язык. Но [пока что] едят один раз [в день] и много дней постятся, ограничиваясь хлебом и водой, а в другие дни – фруктами и травами, а когда их пост это позволяет – разного рода рыбой, но прежде всего – фруктами и овощами. Им очень понравятся цветная капуста и спаржа, и [вообще]... нет такой еды, которая бы им показалась плохой, раз ею угощают.

Их напитки – это мистела и пиво, а также что-то вроде лимонада, который они готовят на основе ингредиентов из своей страны. Им очень нравится сладкое красное вино, как, например, красное вино из Эль Пуэрто [де Санта Мария], и они не станут пренебрегать [вином] Педро Хименес. В своих обычаях они осмотрительны, сдержанны, внимательны и учтивы, но [также им присущи] заметное тщеславие, любовь к внешнему блеску; они всегда хотят, чтобы у них были великолепные кареты и добрые кони; и их посол мне говорил, что он стремится к этому только ради чести своего государя и репутации своего посольства. Одним словом, могу сказать Вашей светлости, что они любят блеск, но так, чтобы самим не платить. Мое мнение, что в отношении комнат в доме и карет нужно быть осторожным, а во всём остальном с ними нужно вести себя помягче; если с ними хорошо обращаться, они довольствуются немногим; если в них проявлять заинтересованность, [легко] подчиняются необходимости.

Они пользуются постелями с тюфяками, набитыми перьями, одеяла меховые, а подушки – атласные, и тоже с перьями. Вот то, что сейчас уместно мне сказать Вашей милости, и прошу меня извинить, что на этом заканчиваю, ибо нахожусь с той самой персоной, которой обязан тем, что пишу Вам: отвечаю на вопросы посла, соответствуя запросам каждого из вас.

Господь наш да хранит Вашу светлость, чего я Вам желаю. В Толедо. Сегодня, в воскресенье, в семь вечера.

Назовите страну, в которую прибыло московское посольство.

Ответ: _____

Укажите две положительных, с точки зрения автора, черты характера и/или поведения московских гостей, отмеченных в тексте.

Ответ:

--

Укажите две отрицательных, с точки зрения автора, черты характера и/или поведения московских гостей, отмеченных в тексте.

Ответ:

Задание 10. (10 баллов)

Перед Вами фрагменты стихотворения Алексея Константиновича Толстого, посвящённого одному из важных эпизодов отечественной истории. В тексте пропущены десять имён собственных. Назовите пропущенные слова (в любом падеже).

*«Добро, – сказал князь, когда выслушал он
Улики царьградского мниха, –
Тобою, отец, я теперь убеждён,
Виновен, что мужем был стольких я жён,
Что жил и беспутно и лихо.*

*Что богом мне был то Перун, то (1 – имя бога),
Что силою взял я (2 – имя),
Досель надо мною, знать, тешился бес,
Но мрак ты рассеял, и я в (3 – город)
Креститься, в раскаянье, еду!»*

*Царьградский философ и мних тому рад,
Что хочет (4 – имя) креститься;
«Смотри ж, – говорит, – для небесных наград,
Чтоб в райский, по смерти, войти вертоград,
Ты должен душою смириться!»
[...]*

*То правда ль, я слышал, замкнули (5 – пролив)
Дружины какого-то (6 – имя)?»
«Воистину правда!» – отвечает двор.
«Но кто ж этот (6)?» – «Мятежник и вор!»
«Отделать его на все боки!»*

*Отделали русские (6) как раз;
Цари (7 – имя) и (8 – имя)
По целой империи пишут приказ:
«(4)-де нас от погибели спас —
Его чтоб все люди честили!»
[...]*

*Великое слово корсунцам храня,
Князь не взял с них денег повинных,
Но город поднёс ему, в честь того дня,
Из бронзы коринфской четыре коня
И статуй немало старинных.*

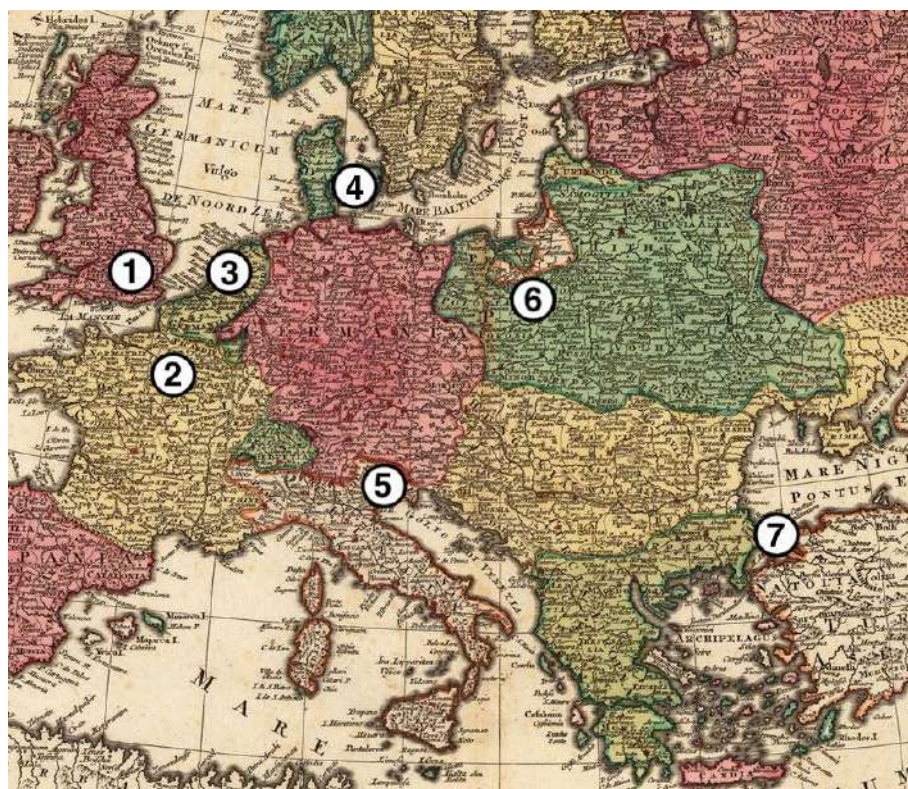
*И кони, и белые статуи тут,
Над поездом выся громаду,
Стоймя на ладьях, неподвижны, плывут,
И волны (9 – река) их, дивуясь, несут
Ко стольному (10 – город)-граду».*

Ответ:

Номер в тексте	Слово (в оригинальном или именительном падеже)
1	
2	
3	
4	
5	
6	
7	
8	
9	
10	

Задание 11. (10 баллов)

Перед Вами письма братьев Демидовых, юных сыновей известного предпринимателя, в середине XVIII века путешествовавших по Европе. В письмах рассказывается о крупных европейских городах. Укажите, о каком из них идёт речь в каждом отрывке, и соотнесите города с точками на карте.



А. «Город [...] велик и строения по большой части хорошаго, а особливо место Амалиенбург и некой блиско от онаго улицы изрядными палатами построены. Там щитаются до 120 000 душ. Он хорошо для комерций лежит, кои всех болше делается в Ост-Индию, а кроме онаго не очень велик. Ситуация сего города не очень красива, а воздух, как же и вода, нездоровы»;

Б. «Он, причисляя все его слободы, чрезмерно велик и красиваго строения. Улицы, хотя по большой части не очень широки, но много из оных весма длинных. Река Сенне протекает сквозь город и тако поделано несколько каменных и огромных мостов чрез оную, а на некоторых поставлены по обем сторонам моста дома, так что кажутся совершенною улицею. [...] Живущих в нём щитается до миллиона душ, но сие невероятно»;

В. «Улицы нечисты и дома по большой части в городе, то есть в City, не очень красивы, ибо черноваты и нечисты снаружи выглядят. [...] ...потом смотрели славную церкву Westminster Abbey, которая очень стара, велика и предрага для безчисленном множестве маузолеов...»;

Г. «Город нарочито велик и строения весма красиваго и веселаго. Дома все кирпичные и почти все снаружи малеваны красками и для того почти все, как новые выглядеть, улицы весма чисты. Каналов здесь также множество, но они нешироки и нечисты, а променадов довольно изрядных находятся в городе, а особливо за городом»;

Д. «Сей город отчасти с хорошими и болшими и отчасти малинками и худыми домами на 60 до 70 островах построен. [...] Все каналы почти, выключая только il Canale Maggiore, уски, нерегулярны и по обеим сторонам дома стоят по большой части старые и малые. [...] Il Canale Maggiore, или Велики канал, в равной ширине имеет длины 1300 шагов, а ширины в самом уском месте 40 шагов».

Ответ:

Фрагмент	Город	Место на карте (араб. цифра)
А		

Б		
В		
Г		
Д		

Задание 12. (12 баллов)

Перед Вами портреты правителей и фотографии храмов, на территории которых эти правители захоронены. Назовите эти храмы и соотнесите с каждым из них портреты тех правителей, которые в нём захоронены.



А




Б



В



Г



Д



Е


Места захоронения:



1



2



3

Ответ:

Фото храма	Название храма (с обязательным упоминанием города!)	Правители (буквы)
1		
2		
3		

ВРЕМЯ НА ВЫПОЛНЕНИЕ ЗАДАНИЙ – 120 МИНУТ.

МАКСИМУМ ЗА ЗАДАНИЯ – 100 БАЛЛОВ.

УДАЧИ!