

**ВСЕРОССИЙСКАЯ ОЛИМПИАДА ШКОЛЬНИКОВ ПО ИСТОРИИ
МУНИЦИПАЛЬНЫЙ ЭТАП
2021–2022 УЧЕБНЫЙ ГОД**

8 КЛАСС

Задание 1. (2 балла)

Какой из перечисленных городов Московской области впервые упоминается в русских летописях раньше, чем Москва? Запишите в поле ответа букву, обозначающую этот город.

- А. Волоколамск
- Б. Дмитров
- В. Клин
- Г. Руза

Ответ: _____

Задание 2. (4 балла)

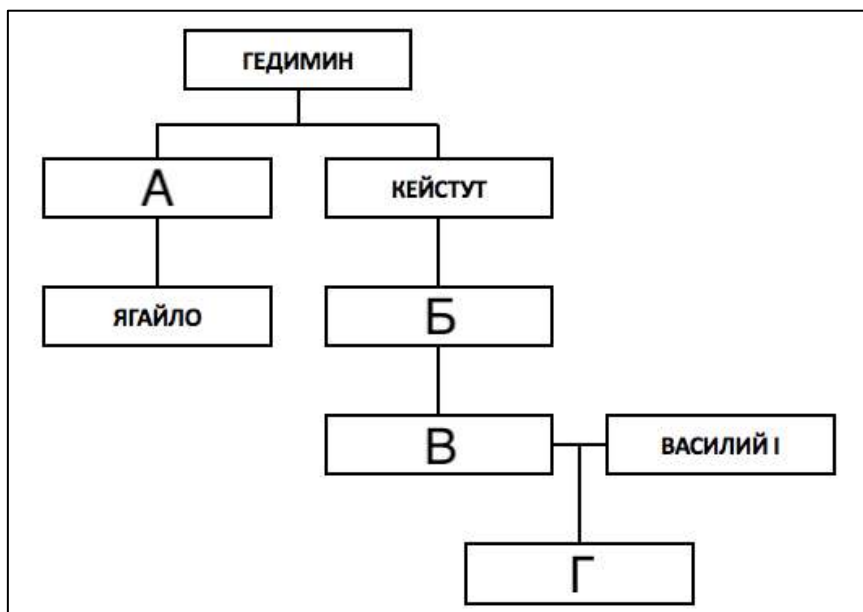
Какие из перечисленных событий относятся к периоду правления Михаила Фёдоровича? Запишите в поле ответа буквы, обозначающие эти события.

- А. Поляновский мир
- Б. Кардисский мир
- В. Выход первой русской печатной книги
- Г. Начало Соловецкого восстания
- Д. Начало Азовского сидения
- Е. Смерть патриарха Никона
- Ж. Рождение Петра I
- З. Создание полков «нового строя»

Ответ: _____

Задание 3. (4 балла)

Заполните пропуски в генеалогической схеме.



Ответ:

А – _____ Б – _____

В – _____ Г – _____

Задание 4. (4 балла)

Перед Вами перечень событий истории Англии. Выберите те из них, которые произошли в XVII веке, и в поле ответа впишите соответствующие буквы.

- | | |
|-------------------------------------|---|
| А. «Славная революция» | Е. Реставрация Стюартов |
| Б. Заседания «Короткого парламента» | Ж. Разгром Непобедимой армады |
| В. Война Алой и Белой розы | З. Подписание Великой хартии вольностей |
| Г. Учреждение протектората Кромвеля | И. Рождение Уильяма Шекспира |
| Д. Нормандское завоевание Англии | К. Казнь Марии Стюарт |

Ответ: _____

Задание 5. (5 баллов)

Владение исторической терминологией – то, без чего не может обойтись ни один историк. Ниже даны термины, которыми принято обозначать ряд событий/явлений отечественной истории. Определите, какие из этих терминов использовались современниками соответствующих событий/явлений, а какие были придуманы исследователями. Распределите соответствующие буквы по столбцам таблицы ответа.

- | | |
|----------------------------------|-------------------------|
| А. «Эпоха дворцовых переворотов» | Е. «Поход за зипунами» |
| Б. «Феодальная война» | Ж. «Фряжское письмо» |
| В. «Избранная рада» | З. «Полки нового строя» |
| Г. «Нарышкинское барокко» | И. «Белые клобуки» |
| Д. «Тушинский вор» | К. «Нарвская конфузия» |

Ответ:

Термины, которые использовались современниками событий/явлений	Термины, которые были придуманы позднее историками

Задание 6. (10 баллов)

Заполните пропуски в текстах утверждений о городах. Укажите названия всех городов, о которых идёт речь во фрагментах. Если город переименовывался, укажите современное название.

1. В этом городе в середине XV века при странных обстоятельствах ушёл из жизни Дмитрий (**А – прозвище**), внук Дмитрия Донского и участник (**Б – название**) войны. В конце того же века в этом городе была распространена так называемая ересь (**В – кого?**). В Великую Отечественную войну оккупация города продолжалась почти два с половиной года.

2. Этот город стоит на реке (**Г – название**), у которой в 1399 году произошла битва между литовскими и ордынскими войсками. Неподалёку от этого города в (**Д – год**) году произошло сражение, переломившее ход Северной войны.

3. Город был основан во второй половине XVI века на берегу реки **(Е – название)**. В 1670 году его сумели захватить отряды Разина, а в 1774 году – безуспешно штурмовали войска Пугачёва. В годы Великой Отечественной войны город назывался **(Ж – название)**. С этим названием была связана одна из ключевых битв Великой Отечественной войны.

Ответ:

Пропуски (слова можно писать в любом падеже):

А	
Б	
В	
Г	
Д	
Е	
Ж	

Названия городов:

1	2	3

Задание 7. (12 баллов)

Перед Вами четыре ряда, в каждом из которых перечислено четыре элемента. Выберите лишний элемент в каждом ряду и кратко объясните, почему он не подходит к остальным.

7.1. Алиенора Аквитанская; Екатерина Арагонская; Анна Клевская; Джейн Сеймур.

7.2. Иван Купала, Масленица, Пасха, Святки.

7.3. Михаил Стадухин; Фёдор Шелудяк; Василий Ус; Фрол Разин.

7.4. Борона, кистень, рало, соха.

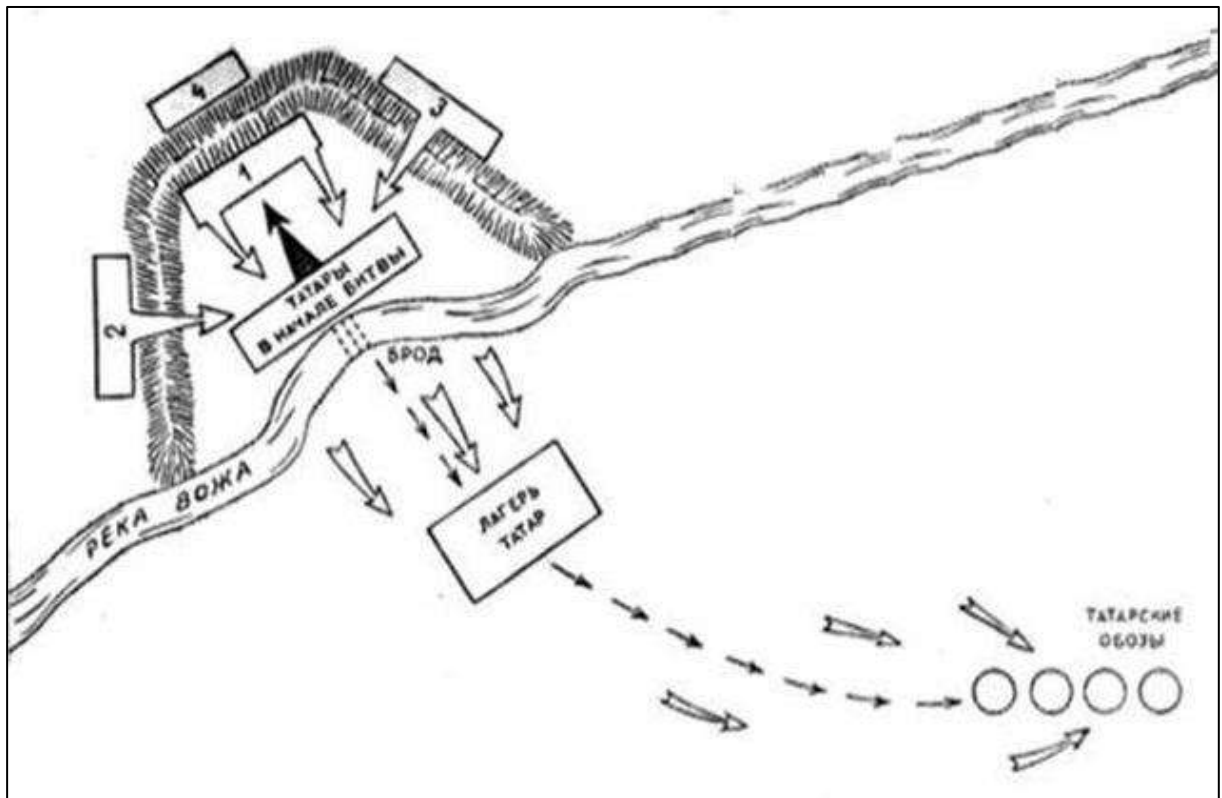
Ответ:

7.1.	Лишний элемент:
	Объяснение:
7.2.	Лишний элемент:
	Объяснение:

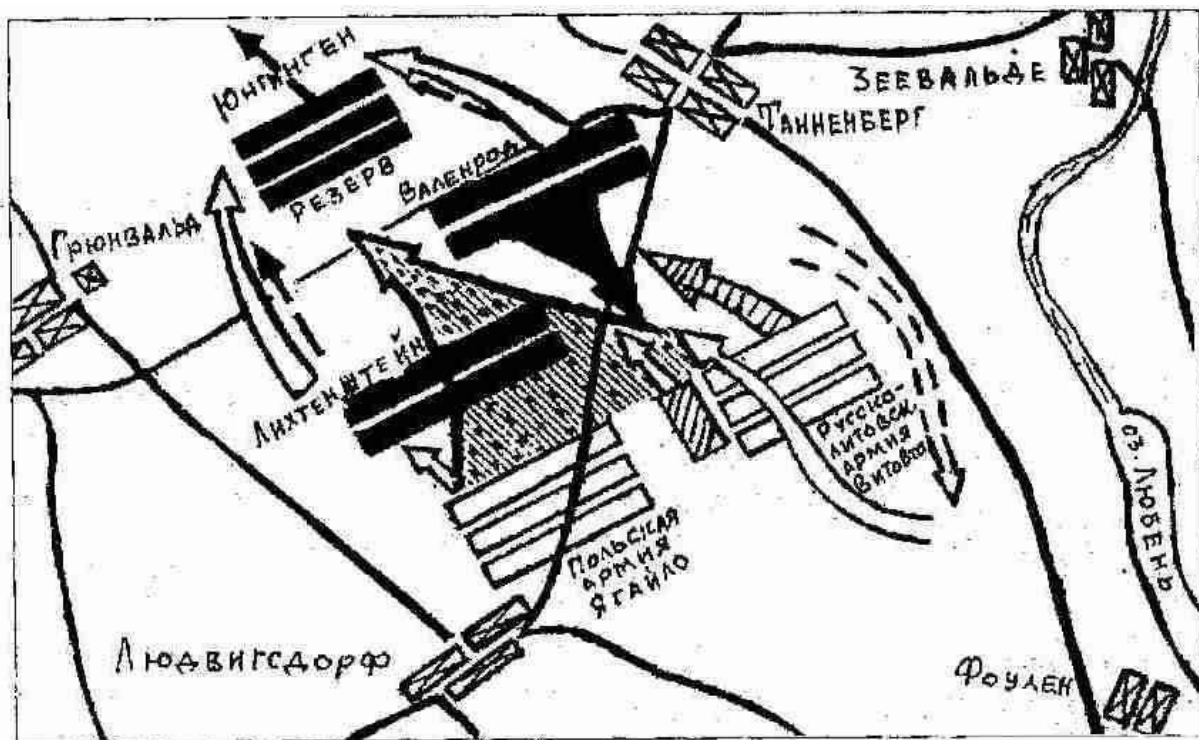
7.3.	Лишний элемент: Объяснение:
7.4.	Лишний элемент: Объяснение:

Задание 8. (12 баллов)

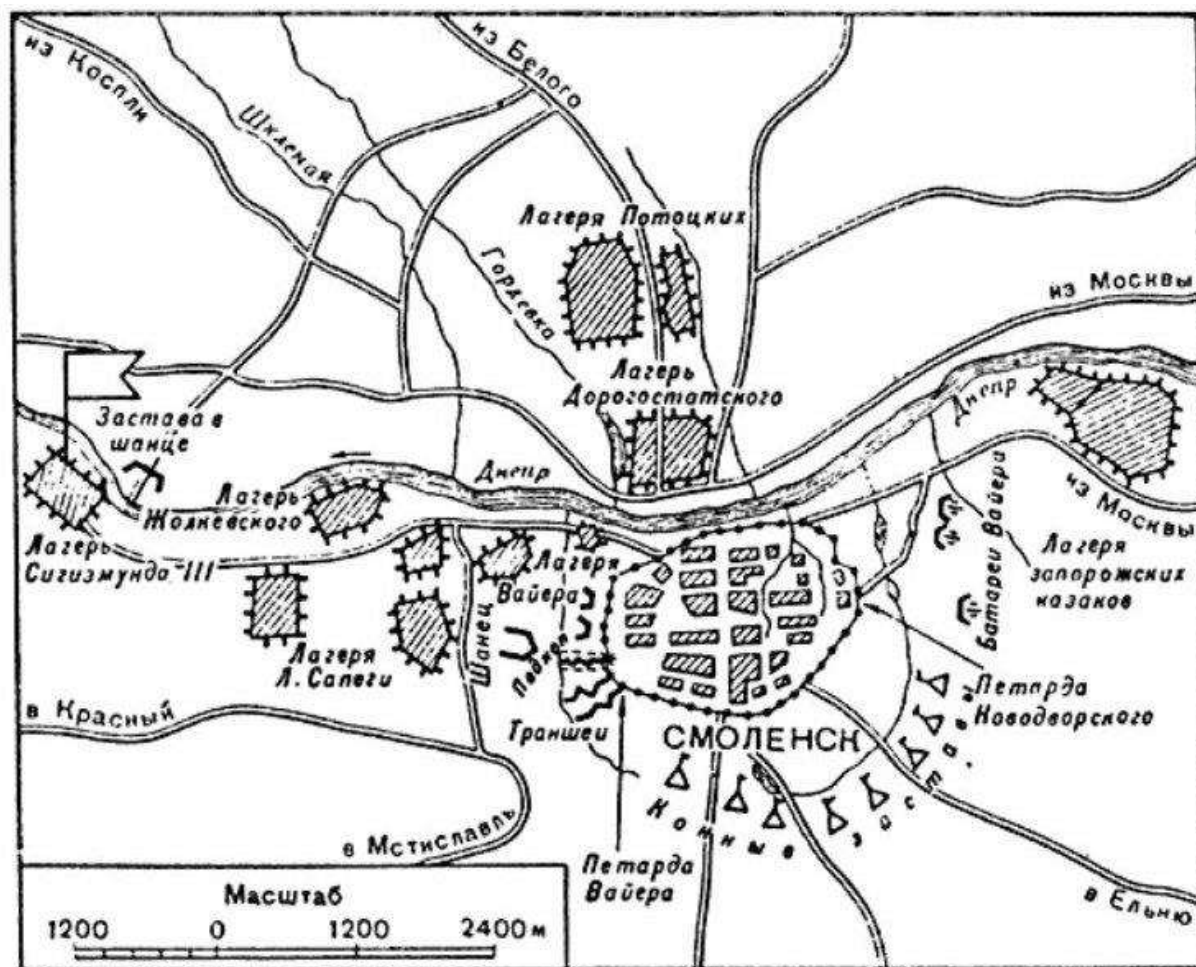
Перед Вами схемы четырёх эпизодов отечественной военной истории. Укажите век, в котором произошло каждое из показанных на схемах событий. Ниже дан перечень фактов, каждый из которых соответствует одному из этих событий. Распределите факты по событиям.



1

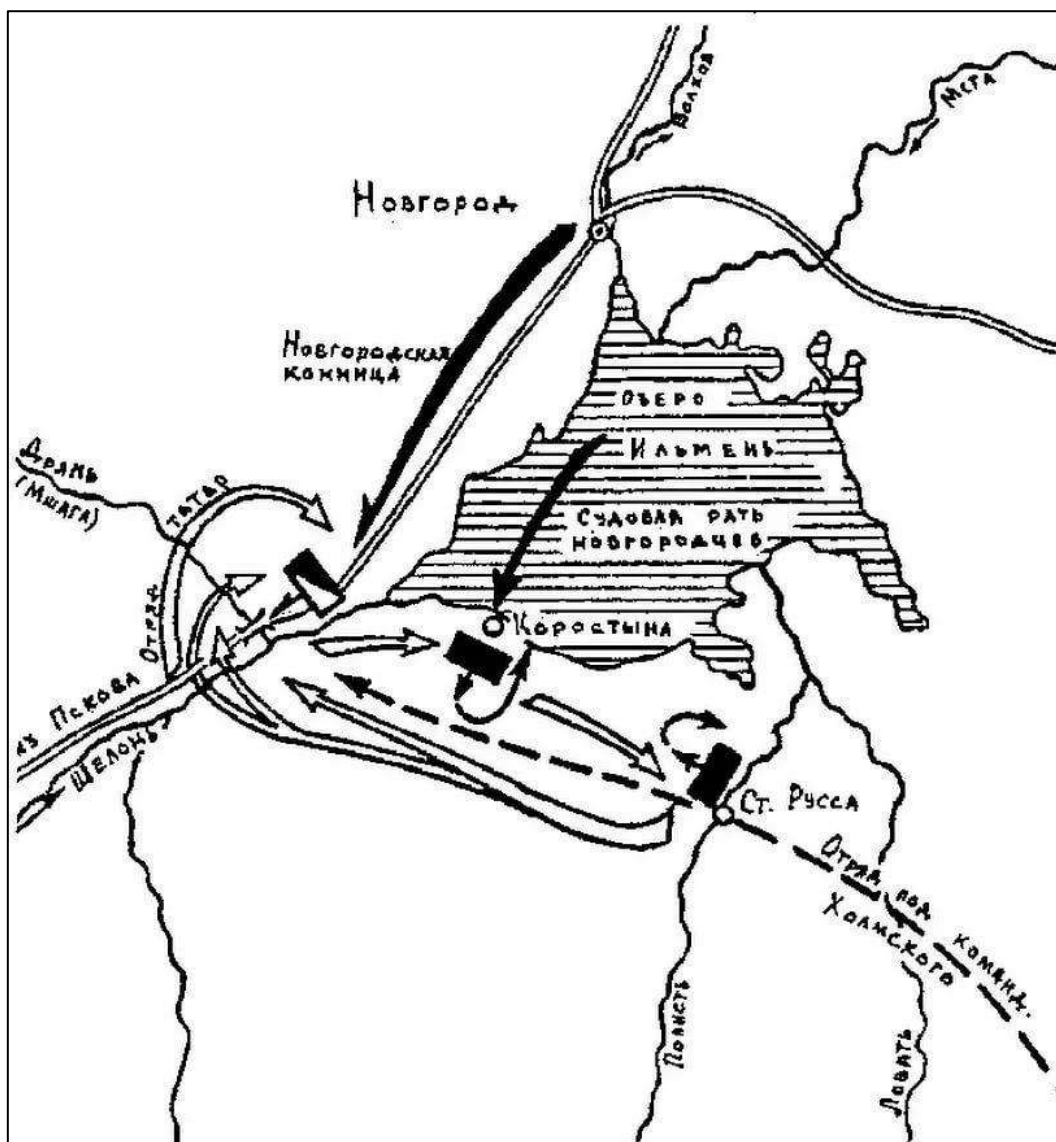


2



3

5



4

Факты:

- А. Участником события на схеме был родоначальник польской династии Ягеллонов;
- Б. Событие на схеме произошло на территории современной Рязанской области;
- В. Событие на схеме было эпизодом войны, которая завершилась Деулинским перемирием;
- Г. Событие на схеме произошло в том же веке, что и Медный бунт;
- Д. Событие на схеме относится к тому же десятилетию, что и начало Тридцатилетней войны;
- Е. В ходе события на схеме был убит магистр одного из германских рыцарских орденов;
- Ж. В ходе события на схеме московскими войсками командовал один из лучших военачальников Ивана III;
- З. В ходе события на схеме в битве с русскими ратями погиб вражеский полководец Бегич;
- И. В ходе события одной из противоборствующих сил командовал сын Марфы-посадницы;
- К. Событие произошло после разграбления Москвы Тохтамышем, но до начала княжения Василия II в Москве.

Ответ:

Схема	1	2	3	4
Век				
Факты (буквы)				

Задание 9. (9 баллов)

Перед Вами исторический источник XVII века. В письме своему руководителю иностранный чиновник отчитывается о сопровождении московского посольства в столицу страны. Внимательно прочитайте текст и выполните предложенные задания.

Ваше сиятельство.

Сеньор:

Посол только что прибыл в этот город, а я получил Ваш приказ, [в ответ] на который, сеньор, я Вам сообщаю, что посла сопровождает его сын, юноша 22 лет, для которого нет необходимости отводить отдельное помещение. В качестве заместителя посла прибывает канцлер, которого сопровождает столь пышная свита, что он [в этом отношении] мало отличается [от посла]. Пусть Ваше сиятельство прикажет определить ему соседнюю [с послом] комнату. В состав этих двух свит входят 16 благородных людей, которые обычно сидят за трапезой в одном помещении с послом и канцлером, однако за разными столами. Каждый из них [посол и канцлер] имеет при себе одного священника. В составе двух свит 44 человека, половина из которых – пажи и домашние слуги, а остальные – лакеи и повара.

В отношении еды могу сказать вашему сиятельству, что только один день они были недовольны [предложенной им] мясной пищей; они [охотно] ели жареное мясо по-испански, а тушеное мясо или по-итальянски, с сыром, или по нашему обычаю, с большим количеством лимона, хамон и [говяжий] язык. Но [пока что] едят один раз [в день] и много дней постятся, ограничиваясь хлебом и водой, а в другие дни – фруктами и травами, а когда их пост это позволяет – разного рода рыбой, но прежде всего – фруктами и овощами. Им очень понравятся цветная капуста и спаржа, и [вообще]... нет такой еды, которая бы им показалась плохой, раз ею угощают.

Их напитки – это мистела и пиво, а также что-то вроде лимонада, который они готовят на основе ингредиентов из своей страны. Им очень нравится сладкое красное вино, как, например, красное вино из Эль Пуэрто [де Санта Мария], и они не станут пренебрегать [вином] Педро Хименес. В своих обычаях они осмотрительны, сдержанны, внимательны и учтивы, но [также им присущи] заметное тщеславие, любовь к внешнему блеску; они всегда хотят, чтобы у них были великолепные кареты и добрые кони; и их посол мне говорил, что он стремится к этому только ради чести своего государя и репутации своего посольства. Одним словом, могу сказать Вашей светлости, что они любят блеск, но так, чтобы самим не платить. Мое мнение, что в отношении комнат в доме и карет нужно быть осторожным, а во всём остальном с ними нужно вести себя помягче; если с ними хорошо обращаться, они довольствуются немногим; если в них проявлять заинтересованность, [легко] подчиняются необходимости.

Они пользуются постелями с тюфяками, набитыми перьями, одеяла меховые, а подушки – атласные, и тоже с перьями. Вот то, что сейчас уместно мне сказать Вашей милости, и прошу меня извинить, что на этом заканчиваю, ибо нахожусь с той самой персоной, которой обязан тем, что пишу Вам: отвечаю на вопросы посла, соответствуя запросам каждого из вас.

Господь наш да хранит Вашу светлость, чего я Вам желаю. В Толедо. Сегодня, в воскресенье, в семь вечера.

Припадаю к ногам Вашей светлости.

[Подпись Бенито де Дуо]

Светлейшему сеньору маркизу Айтоне, моему сеньору.

Назовите страну, в которую прибыло московское посольство.

Ответ: _____

Приведите две позиции из текста, на основе которых можно сделать вывод о религиозности москвитов. Можно как процитировать текст, так и сформулировать позицию самостоятельно.

Ответ:

Укажите три положительных, с точки зрения автора, черты характера и/или поведения московских гостей, отмеченных в тексте.

Ответ:

Укажите две отрицательных, с точки зрения автора, черты характера и/или поведения московских гостей, отмеченных в тексте.

Ответ:

Задание 10. (10 баллов)

Перед Вами фрагменты стихотворения Алексея Константиновича Толстого, посвящённого одному из важных эпизодов отечественной истории. В тексте пропущены десять имён собственных. Назовите пропущенные слова (в любом падеже).

*«Добро, – сказал князь, когда выслушал он
Улики царьградского мниха, –
Тобою, отец, я теперь убеждён,
Виновен, что мужем был стольких я жён,
Что жил и беспутно и лихо.*

*Что богом мне был то Перун, то (1 – имя бога),
Что силою взял я (2 – имя),
Досель надо мною, знать, тешился бес,
Но мрак ты рассеял, и я в (3 – город)
Креститься, в раскаянье, еду!»*

*Царьградский философ и мних тому рад,
Что хочет (4 – имя) креститься;
«Смотри ж, – говорит, – для небесных наград,
Чтоб в райский, по смерти, войти вертоград,
Ты должен душою смириться!»*

[...]

*То правда ль, я слышал, замкнули (5 – пролив)
Дружины какого-то (6 – имя)?»
«Воистину правда!» – отвечает двор.
«Но кто ж этот (6)?» – «Мятежник и вор!»
«Отделать его на все боки!»*

*Отделали русские (6) как раз;
Цари (7 – имя) и (8 – имя)
По целой империи пишут приказ:
«(4)-де нас от гибели спас —
Его чтоб все люди честили!»*

[...]

*Великое слово корсунцам храня,
Князь не взял с них денег повинных,
Но город поднёс ему, в честь того дня,
Из бронзы коринфской четыре коня
И статуй немало старинных.*

*И кони, и белые статуи тут,
Над поездом выся громаду,
Стоймя на ладьях, неподвижны, плывут,
И волны (9 – река) их, дивуясь, несут
Ко стольному (10 – город)-граду».*

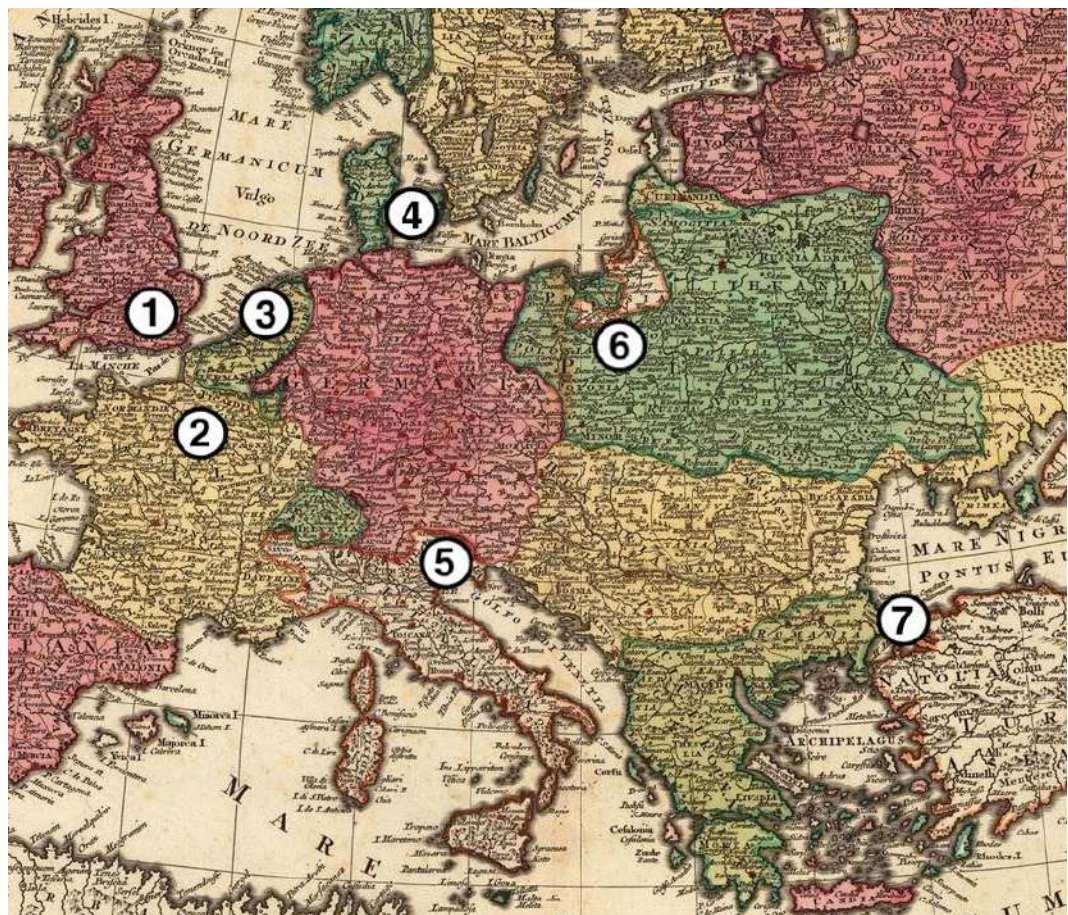
Ответ:

Номер в тексте	Слово (в оригинальном или именительном падеже)
1	

2	
3	
4	
5	
6	
7	
8	
9	
10	

Задание 11. (10 баллов)

Перед Вами письма братьев Демидовых, юных сыновей известного предпринимателя, в середине XVIII века путешествовавших по Европе. В письмах рассказывается о крупных европейских городах. Укажите, о каком из них идёт речь в каждом отрывке, и соотнесите города с точками на карте. Выберите из перечня известных деятелей, чьи портреты приведены в конце задания, жителей этих городов.



А. «Город [...] велик и строения по большой части хорошаго, а особливо место Амалиенбург и некой блиско от онаго улицы изрядными палатами построены. Там щитаются до 120 000 душ. Он хорошо для комерций лежит, кои всех больше делается в Ост-Индию, а кроме онаго не очень велик. Ситуация сего города не очень красива, а воздух, как же и вода, нездоровы»;

Б. «Он, причисляя все его слободы, чрезмерно велик и красиваго строения. Улицы, хотя по большой части не очень широки, но много из оных весма длинных. Река Сенне протекает сквозь город и тако поделано несколько каменных и огромных мостов чрез оную, а на некоторых поставлены по обем сторонам моста дома, так что кажутся совершенною улицею. [...] Живущих в нём щитаются до миллиона душ, но сие невероятно»;

В. «Улицы нечисты и дома по большой части в городе, то есть в City, не очень красивы, ибо черноваты и нечисты снаружи выглядят. [...] ...потом смотрели славную церкву Westminster Abbey, которая очень стара, велика и предрага для безчисленном множестве маузолеов...»;

Г. «Город нарочито велик и строения весма красиваго и веселаго. Дома все кирпичные и почти все снаружи малеваны красками и для того почти все, как новые выглядеть, улицы весма чисты. Каналов здесь также множество, но они нешироки и нечисты, а променадов довольно изрядных находятся в городе, а особливо за городом»;

Д. «Сей город отчасти с хорошими и болшими и отчасти малинками и худыми домами на 60 до 70 островах построен. [...] Все каналы почти, выключая только il Canale Maggiore, уски, нерегулярны и по обеим сторонам дома стоят по большой части старые и малые. [...] Il Canale Maggiore, или Велики канал, в равной ширине имеет длины 1300 шагов, а ширины в самом уском месте 40 шагов».



I
(писатель)



II
(путешественник)



III
(учёный)



IV
(философ)



V
(художник)

Ответ:

Фрагмент	Город	Место на карте (араб. цифра)	Портрет жителя (рим. цифра)
А			
Б			
В			
Г			

Д			
---	--	--	--

Задание 12. (6 баллов)

Перед Вами отрывки из учебника авторства известного советского историка с описаниями ряда исторических событий. Соотнесите каждый фрагмент с иллюстрацией описываемого в нём события. Обратите внимание – две иллюстрации являются лишними.

1. «...Простому народу выставили всё дело как восстание против иностранцев, против поляков, которые хотят будто бы поработить Россию, а на самом деле воспользовались восстанием для того, чтобы убить царя, который шёл против интересов богатых помещиков и капиталистов»;

2. «Никто из церковных людей и не подумал даже встать на защиту Никона, и оказалось, что какого-нибудь настоящего сопротивления власти царя никто оказать не мог. А царь, пользуясь своими торговыми связями и денежными средствами, без труда нанял других патриархов, восточных, которые в православной церкви были старше Никона, созвал церковный собор и решением самой церкви осудил человека, который осмелился поддерживать самостоятельность этой церкви против царя»;

3. «...Шведская армия была разбита так же основательно, как за девять лет перед этим московская армия под Нарвой. Роли совершенно переменялись. Из обороняющейся Москва превратилась в наступающую»;

4. «В Тушино переехал на жительство и сам второй Димитрий. Около него образовался целый двор наподобие московского двора. В Тушине возникла как бы вторая столица, и выбить оттуда казаков и их польские отряды Шуйский уже оказался не в силах»;

5. «...Медные деньги, которых вдобавок начеканили бесчисленное количество, стали быстро падать в цене, а все товары стали дорожать. Это опять вызвало народное возмущение, но романовское правительство оказалось достаточно сильным, чтобы и с ним справиться»;

6. «...После целого ряда войн Москва справилась с Новгородом, московский великий князь подчинил себе северные торговые центры (кроме Новгорода, крупное торговое значение приобрёл его «пригород» Псков), сделался там таким же хозяином, как и на берегах Москва-реки...».



А



Б



В



Г



Д



Е



Ж



З

Ответ:

Отрывок	1	2	3	4	5	6
Изображение (буква)						

Задание 13. (12 баллов)

Перед Вами портреты ряда российских царей и императоров и фотографии мест, где покоятся их останки. Укажите названия этих мест и соотнесите с ними портреты правителей, которые в них захоронены. Обратите внимание – под местом захоронения подразумевается не город, а конкретное сооружение или архитектурный комплекс.



А



Б



В



Г



Д



Е

Места захоронения:



1



2



3

Ответ:

Фото места	Название места	Правители (буквы)
1		
2		
3		

--	--	--

ВРЕМЯ НА ВЫПОЛНЕНИЕ ЗАДАНИЙ – 120 МИНУТ.

МАКСИМУМ ЗА ЗАДАНИЯ – 100 БАЛЛОВ.

УДАЧИ!