

ПЕРВЫЙ ТУР МУНИЦИПАЛЬНОГО ЭТАПА 9–11 классы

1. «Да» или «нет»? Если вы согласны с тем, что данное утверждение верно, напишите «да», если считаете, что утверждение ошибочно, напишите «нет». Внесите свои ответы в таблицу.

- 1) Членом Совета Федерации может стать бывший Президент РФ, который может занимать данный пост пожизненно;
- 2) Идеальной формой правления Аристотель принято считать – демократию;
- 3) «Понимающая социология» - научное направление, разработанное М. Вебером;
- 4) Власть и властные отношения характерны для любого этапа развития общества.
- 5) Делинкветное и девиантное поведение – это всегда преступные формы поведения.

Ответы:

1	2	3	4	5
Да	Нет	Да	Да	Нет

По 2 баллу за каждый верный ответ, всего – **10 баллов**.

2. Что объединяет понятия, образующие каждый из представленных рядов? Дайте краткий ответ.

- 1) философское направление, культурное движение, уникальность бытия человека, преодоление себя.
- 2) любой искусственно созданный объект, продукт человеческой деятельности, носитель социально-культурной информации, жизненно-смысловых значений, средство коммуникации.
- 3) Союз, ограниченный суверенитет, Швейцария, Евразийский экономический союз.

Ответы:

- 1) Экзистенциализм
- 2) Артефакт
- 3) Конфедерация

По 1 баллу за каждую верную позицию, всего – **3 балла**.

3. Сопоставьте данные таблицы. И выделите правильно сочетание.

	Религия	Религиозный рационализм	Социальная практика
1	Католицизм	Бог един в трех лицах: Бог отец, Бог сын; Бог святой дух	Рациональная космополитическая идея
2	Протестантство	Иисус посредник между Богом и людьми	Рациональная философия денежного благосостояния
3	Даосизм	Важна даже не сама вера, а путь к познанию ее сути	Рациональное отношение к экологии
4	Буддизм	Бога нет, есть путь, способствующий приближения человека к состоянию божеств	Рациональное отношение к практикам концентрации внимания

Ответ

	Религия		
1	Католицизм	в	
2	Протестантство		б
3	Даосизм	г	
4	Буддизм		а

По 2 балла, за каждое правильно подобранное сочетание. Итого **8 баллов**.

4. Решите логическую задачу.

Спикер безапелляционно отверг домыслы о том, что он собирается отменить приказ о запрете уклонения от поступков, вступающих в противоречие с регламентом нижней палаты парламента. Соответствует ли позиция спикера его функциям? Обоснуйте свой ответ.

Решение

1. Ответ: нет, не соответствует. (1 балл)
2. Обоснование: посчитаем отрицания («отверг», «отменить», «запрет», «уклонение», «противоречие») – 5. (4 балла)
3. Нечетное число отрицаний (при их сокращении) говорит о том, что спикер призывает совершать поступки, нарушающие регламент нижней палаты парламента, что не соответствует его функциям. (4 балла)

Правильный ответ – 1 балл. Обоснованное решение 8 балла. Итого **максимум 9 баллов**

5. Решите правовую задачу

Двенадцатилетний Александр Васильев принимал участие в съемках художественного фильма, за что ему было выплачено вознаграждение в сумме 5 тыс. руб. На эти деньги он приобрел канцелярские принадлежности: авторучку, пенал и дорогую записную книжку. Родители Александра посчитали, что он неразумно потратил деньги, отнесли покупки в магазин и потребовали от директора принять их обратно. Директор отказался удовлетворить требование родителей, поскольку из беседы с мальчиком он узнал, что Александр совершал покупки на заработанные им деньги, а своим заработком несовершеннолетние могут распоряжаться самостоятельно.

Кто прав в возникшем споре? Изменится ли решение, если вознаграждение было получено отцом Александра Васильева, который передал деньги своему сыну со словами: «Можешь сам распорядиться своим заработком»? Ответ обоснуйте.

Ответ:

- 1) Директор прав. (2 балла)
- 2) Если деньги предоставили родители (отец), сделка правомерна. (2 балла)
- 3) Обоснование: (2 балла)

Канцелярские товары, приобретённые малолетним Александром, продаются в розницу имеют малую стоимость и являются бытовыми покупками. П.2, ч.2, ст. 28, ГК РФ, даёт право самостоятельно совершать такие сделки. Что касается покупки записной книжки, можно ли такую сделку признать мелкой бытовой, в сложившейся практике применения, ограничительный придел устанавливается в 5 МРОТ (Суд. прецедент), если стоимость больше 5 МРОТ, покупка не будет является мелкой бытовой сделкой. Такая сделка будет

признана совершенной за пределами дееспособности малолетнего, а в соответствии со ст. 172 ГК РФ, признана недействительной ничтожной.

В случае рассмотрения дела судом, суд примет решение о двухсторонней реституции (приведение в начальное положение сторон) + если дееспособная сторона знала или должна была знать, о недостаточной дееспособности малолетнего, она будет обязана, возместить другой стороне весь понесенный ею реальный ущерб. Ст.171 ГК РФ.

Если же, денежные средства, на приобретение дал, законный представитель малолетнего, п.3 ч.2 ст.28 ГК РФ такая сделка будет признана действительной

(или может быть дан сокращенный вариант: Канцелярские товары, приобретённые малолетним Александром, продаются в розницу имеют малую стоимость и являются бытовыми покупками. Покупка записной книжки правомерна, если её стоимость меньше 5МРОТ, если больше, то должны быть применены правила ничтожности сделки, с приведением сторон в начальное положение)

2 балла за указание правильной квалификации действий. Максимум 6 баллов.

6. Решите экономическую задачу. Обоснуйте свой ответ.

Магазин «Читай город» предлагает своим покупателям приобрести 10%-ную дисконтную карту стоимостью 500 рублей. При наличии такой карты каждая покупка обходится покупателю дешевле на 10%. Срок действия карты – месяц.

а) Следует ли Ивану Сидорову купить такую карту, если он очень любит читать фантастические романы и 4 раза в месяц покупает в магазине книги, причём каждая покупка обходится ему в 1000 рублей. (3 балла)

б) Что вы посоветуете Ване – покупать карту или нет, если сумма, которую Ваня каждый раз тратит на книги, увеличится на 124%? (3 балла)

в) Каковы должны быть минимальные траты Вани на книги за раз, чтобы ему имело смысл покупать дисконтную карту? (3 балла)

Ответ:

а) Нет. Покупка карты Ване невыгодна.

Обоснование: Ваня покупает книги 4 раза в месяц и тратит по 1000 рублей за покупку, значит, за месяц Ваня тратит 4000 рублей. Если он купит карту, то она будет ему давать скидку 400 рублей, а потратит он на неё 500 рублей. (3 балла)

б) Ивану следует купить карту.

Обоснование: если затраты на разовую покупку книг увеличатся на 124%, то одна покупка станет равна $1000 + 1,24 * 1000 = 2240$ рублей. $2240 > 1250$, значит будет выгодно купить карту. (3 балла)

в) 1250р.

Обоснование: пусть Ваня каждый раз тратит «х» рублей. Тогда за 4 покупки он потратит $4 * X$ рублей. Если у него будет карта, то он получит скидку $0,1 * 4 * X = 0,4 * x$ рублей. В свою же очередь, затраты на покупку карты должны быть не больше, чем выгоды от приобретения карты, значит $0,4 * X > = 500$, откуда $X > = 1250$. Значит, минимальная сумма покупки, при которой Ване всё равно покупать карту или нет, равна 1250. (3 балла)

Ответы без логического объяснения не засчитываются

Максимум 9 баллов

7. Распределите в правильной последовательности авторов и их произведения по двум столбцам таблицы.

1	Аврелий Августин	А	Беседы
2	Джон Локк	Б	Всемирная история
3	Жан-Жак Руссо	В	Государство


4	Конфуций	Г	Два тракта о правлении
5	Платон	Д	Исповедь
6	Полибий	Е	Книга правителя области Шан
7	Томас Гоббс	Ж	Левиафан
8	Фома Аквинский	З	О духе законов
9	Шан Ян	И	Об общественном договоре
10	Шарль Луи Монтескье	К	Сумма теологий

Ответы:

1	2	3	4	5	6	7	8	9	10
д	г	и	а	в	б	ж	к	е	з

По 2 балла за каждую верную позицию, всего – **20 баллов**.

8. Напишите имена политических деятелей и то, что их объединяет. Расставьте их в два логических ряда в правильной последовательности. Каждую правильно озаглавьте.



А. Б. В. Г. Д.



Е. Ж. З. И. К

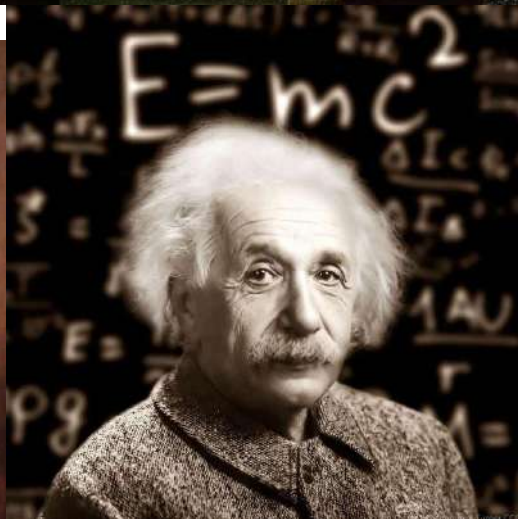

Ответ:

Буквенное значение	Общий признак Спикеры Госдумы	Буквенное значение	Общий признак Спикеры Народного Хурала
А	Иван Петрович Рыбкин	Е	Семенов Михаил Иннокентьевич

З	Геннадий Николаевич Селезнев	Б	Лубсанов Александр Гомбоевич
И	Борис Вячеславович Грызлов	К	Гершевич Матвей Матвеевич
В	Сергей Евгеньевич Нарышкин	Д	Доржиев Цырен-Даши Эрдынеевич
Г	Вячеслав Викторович Володин	Ж	Павлов Владимир Анатольевич

За правильно названный признак 1 балл, за правильно ФИО 1 балл; за правильную последовательность 1 балла. Итого максимум **14 баллов**

9. Ниже представлены серии изображений. Охарактеризуйте эти изображения в соответствии с мировоззренческой проблемой общей для серии. Опишите в одном предложении суть проблемы, а также в одном предложении передайте суть каждого из изображений.



- 1) Общей для серии является проблема **научных революций**.
- 2) Предложение о научной революции: **Научные революции - это такие периоды истории, в которых благодаря созданию принципиально новых научных теорий, коренным образом менялись представления о мире.**

3) Николай Коперник один из основоположников **гелиоцентрической концепция мира**, которая позволила установить параметры планетной системы и открыть законы планетных движений. Обоснование гелиоцентризма потребовало создания классической механики и привело к открытию закона всемирного тяготения. Открытие Коперника стало основой первой научной революции.

4) Исаак Ньютон основатель **классической механики и корпускулярной теории света**. Согласно корпускулярной теории, Исаака Ньютона свет представляет собой поток частиц (корпускул), испускаемых светящимися телами. Открытие Ньютона стало базой для 2 научной революции.

5) Джеймс Максвелл - основоположник **статистической физики и классической электродинамики**, ставшей базой для 3 научной революции

6) Альберт Эйнштейн – основоположник **теории относительности** послужившей основой 4 научной революции

За правильный ответ 1 балл; за предложение о научной революции 2 балла; за каждое правильно указанное открытие 1 балл и правильно указанного ученого 1 балл. Максимум за задание 11 баллов